



Հայկական գիտահետազոտական հանգույց Armenian Research & Academic Repository



Սույն աշխատանքն արտոնագրված է «Ստեղծագործական համայնքներ
ոչ առևտրային իրավասություն 3.0» արտոնագրով

**This work is licensed under a Creative Commons Attribution-NonCommercial
3.0 Unported (CC BY-NC 3.0) license.**

Դու կարող ես.

պատճենել և տարածել նյութը ցանկացած ձևաչափով կամ կրիչով
ձևափոխել կամ օգտագործել առկա նյութը ստեղծելու համար նորը

You are free to:

Share — copy and redistribute the material in any medium or format

Adapt — remix, transform, and build upon the material

1888

513 079
7--51

2010

№ 365

51.



ՍԿՋՐՈՒՆՔ

ԵՐԿՐԱԶԱՓՈՒԹԵԱՆ



513(075)57

7-51

8

ԱՌՈՒՔ ԴԻՍՏԵՐՎԼԻԳ

ՍԿՁԲՈՒՆՔ

ԵՐԿՐԱԶՍՓՈՒԹԵԱՆ

ԱԶԳԱՅԻՆ ՈՒՍՈՒՄՆԱՐԱՆԱՅ ՀԱՄԱՐ

(77 երկրաչափական ձևերով)

Ք ա Ր Գ մ ա ն ո լ Թ ի լ ն

ՄԱԿԱՐԱՅ ՏԷՐ ՍԱՐԳՍԵԱՆՑ.

1876/4.466

2002



Ի ՏՊԱՐԱՆԻ ԴԵՐՅԱՅ ԱՆՆՈՑԱՆՑ

1876



31170-42

ՀԱՅԿԱՅԻՒՄԻ Ք.ԵՐԵՎԱՆ

ՀԱՅԿԱՅԻՒՄ

ՀԱՅԿԱՅԻՒՄԻ Ք.ԵՐԵՎԱՆ

Дозволено Цензурою. Тифлисъ, 14-го Юля 1876 года.

Handwritten vertical text: Երևան

5005



(6255)
41

14312-58

Մեր ուսումնարանների այս և այն դասադրքի պակասութիւնը ոչ սակաւ դժուարութիւն է պատճառում թէ՛ ուսուցչաց և թէ՛ աշակերտաց: Այս բանը մենք փորձով տեսած ենք՝ և դիտենք, ուստի և վստահութիւն ունեցանք թարգմանել Քերմանացի հռչակաւոր մանկավարժ Ադոլֆ Ղիստերվէզի տարրական ուսումնարանների համար յօրինած «Սկզբունք երկրաչափութեան» վերտառութեամբ գրքից և ՚ի լոյս ընծայել նորան: Յուսով ենք, որ նա սիրաւի ընդունելութիւն կգտնի մեր ազգային դպրոցներում:

Դասադրքուկի այս առաջին տպագրութիւնը պէտք է վաճառուի յօգուտ Աղէքանդրապօլի ՍԱՀԿԵՆՈՒՇԵՆՆ ձրիավարձից օրհորդական դպրոցի, որի հաշուով էլ տպուեցաւ սա:

Գրքուկի վերջում գնում ենք գործ դրուած բառերի այբուբենական ցանկը, ուսերէն թարգմանութեամբ հանդերձ՝ դասատուաց հեշտութեան համար:

Մ. Տ. Ս.

ԲՈՎԱՆԿԱԿՈՒԹԻՒՆ.

Գլուխ.	Երես.
I. Խորանարդ	4.
II. Կէտ	4.
III. Ուղիղ դժեր և անկիւններ	9.
IV. Եռանկիւնի	29.
V. Երկու եռանկիւնի	35.
VI. Քառանկիւնի	46.
VII. Մակերևութների չափումն	58.
VIII. Պիւթագորեան կանոն (տետրեմա)	68.
IX. Շրջան	74.
X. Չևերի նմանութիւնը	96.
XI. Մարմինները և նոցա չափումն	101.
XII. Խնդիրներ վարժութեան համար	117.

I. ԽՈՐԱՆԱՐԴ.

(ԳԼԱՆ, — ՄԱՐՄԻՆ, ՄԱԿԵՐԵԻՈՑԹ, ԳԻԾ, ԿԼՏ.)

1) Եթ խորանարդը (ինչպէս և ամեն մի խորանարդ) ունի 6 երես, 8 անկիւն և 12 կողեր (դժեր):

2) Նորա բոլոր երեսներն էլ հաւասար են միմեանց: մէկը զանկում է տակը, մէկը վերևում, իւր իւր կողքերին. նոցանից իւրաքանչիւրը չըջապատուած է 4 դժերով (կողմերով), այսինքն 4 կողմն ունի. բայց որովհետև այդ կողմերը միահաւասար մեծութիւն ունին, ուրեմն իւրաքանչիւր երեսը մի հաւասարա- կողմն քառակուսի ձև է:

3) Խորանարդի 12 կողերը, որք միեւնոյն ժամանակ կազմում են և քառանկիւնիներէ կողմերը՝ միմեանց հաւասար ուղիղ դժեր են. իւրաքանչիւր մի կողը երկու երեսի է պատկանում: Խորանարդի իւրաքանչիւր անկիւնում հանդիպում են իրար 3 կողեր և ամեն մի կողը վերջաւորվում է 2 անկիւններում:

4) Խորանարդը (ինչպէս և ամեն մի մարմին) բռնում է մի որևէ տարածութիւն: որովհետև նա ունի մեծութիւն: Նա ունի երկայնութիւն, լայնութիւն և բարձրութիւն, որ մէկ մէկի հաւասար են: Խորանարդի երեսները միայն երկու ձգուածք կամ չափ ունին. — երկայնութիւն և լայնութիւն. իսկ կողերը — մի ձգուածք կամ չափ. այն է՝ երկայնութիւն: Գժերը վերջաւորվում են կէտերով, որք չունին ոչ մի ձգուածք:

5) Կէտ կոչվում է մէկ տեղ. — մի դրութիւն տարածու- թեան վերայ, որ չունի ոչ մի չափ. մէկ ձգուածքից յառաջա- նում է զիծ, երկու ձգուածքից մակերևոյթ, երեքից — մարմին:

6) Գնոր երեք երես ունի. մէկը վերևում, մէկը ներքևում, մէկն էլ շրջապատյա կողքերով, առաջին երկուսը հարթ կամ ուղիղ մակերևոյթներ են, իսկ վերջինը — կոր: Առաջին երկուսի վերայով կարելի է ուղիղ գծեր անցցնել ամեն մի ուղղութեամբ. իսկ վերջինի վերայ միայն մի որոշակաւ ուղղութեամբ. այսինքն ներքեւից վեր կամ վերից ներքեւ:

7) Եթէ որ կէտը շարժվում է, այսինքն փոխում է իւր անցը, ապա այն ճանապարհը, որով նա գնում է՝ (որը նա գծում է) կոչվում է դիւ. Եթէ որ գիծը շարժվում է միշտ միևնոյն ուղղութեամբ, կազմում է ուղիղ դիւ. Եթէ շարժվում է նա ոչ մի ուղղութեամբ, այլ զանազան՝ կազմում է կոր գիւ: Այդ գիծը կարող է կազմուած լինել միանգամայն ուղիղ և կոր գծերից: Այդ գծի համար պէտք չէ կարծել, որ նա կազմուած է շատ բազմաթիւ ուղիղ գծերից, այդ սխալ է, որովհետեւ կոր գծի ամենափոքր մասն անգամ չէ կազմում ուղիղ գիւ:

8) Եթէ որ ուղիղ գիծը շարժվում է իւր իսկ ուղղութեամբ, — երկայնութեամբ, այն ժամանակ յառաջանում է մի առաւել երկայն ուղիղ գիւ. իսկ Եթէ ուղիղ գիծը շարժուի գէպի կողքը, ապա նորա անցած (գծած) ճանապարհը կառնենայ նա երկայնութիւն եւ լայնութիւն, այսինքն — կղառնայ կամ նարձ կամ կոր մակերևոյթ: Այդ գիծը նոյնպէս իւր շարժողութեամբ կարող է կազմել կամ հարթ կամ կոր մակերևոյթ:

Մակերևութի վերայ կարելի է անցուցանել գծեր ամեն մի ուղղութեամբ. քանի մի կոր մակերևութների վերայ՝ ինչպէս օրինակ գլանի վերայ — միայն որոշակաւ ուղղութեամբ. իսկ միւսերի, ինչպէս դիցուք գունտի մակերևութի վերայ, երբեք չէ կարելի ուղիղ գիւ գծել: Ամեն մի հարթ երես մակերևոյթ է, բայց ոչ ամեն մակերևոյթ հարթ երես է:

9) Եթէ որ մի որեւէ հարթ երես շարժվում է մի ուղղութեամբ, երկայնութեամբ կամ լայնութեամբ, այն ժամանակ նա կազմում է շարունակուած հարթ երես, իսկ եթէ հարթ երեսը շարժվում է մի այլ ուղղութեամբ՝ գէպի կողմը, ապա անցնում է

նա մի տարածութիւն, որ անկում է 3 չափ. այն է՝ երկայնութիւն, լայնութիւն, բարձրութիւն և ուրիշ ոչնչ: Այսպիսով կազմուած մարմինը կոչվում է մանեմատիքական մարմին:

10) Այն զիտութիւնը, որ պարսպում է թուերի և մարմինների քանակութեամբ, կոչվում է մանեմատիքայ (ուսողութիւն կամ մանայութիւն): Յուսարանութիւնը պարսպում է թուերի քանակութեամբ, իսկ երկրաչափութիւնը — մարմինների, նա զննում է կէտերը, գծերը, մակերևոյթները և մարմինները: Մարմինը ունի երեք չափ, մակերևոյթը երկու, գիծը մէկ, իսկ կէտը և ոչ մի մարմինների աստիճանները մակերևոյթներն են, մակերևութներինը — գծերը, իսկ գծերինը՝ — կէտերը:

11) Ամեն մի մարմին, որ իրօք կայ՝ բաղկացած է նիւթից, և ունի որեւէ տեսը կամ ան՝ բաց երկրաչափութեան մէջ մենք գնում ենք ոչ թէ մարմնի նիւթը, այլ միայն նորա արտաքին անոթը ու մեծութիւնը: Մարմնից արտաքին անոթը կանխուած է նորա շրջանպատը մակերևութներից. այսինքն զոցա (մակերևութների) կոր կամ ասպարակ լինելուց և այլն:

Մակերևութների քանակութեամբ կամ երկրաչափական մարմին իսկութեամբ չկայ, բաց կարելի է մտքով երևակայել: Ռէաքէ ներկայացնել միայն մեծութիւնը և ձևը: Այսպէս էլ չկան իրօք մակերևութի քանակ մակերևոյթներ, գծեր և կէտեր:

Մարմինների երկայնութիւնը, լայնութիւնը և բարձրութիւնը երբեմն զործածութեան մէջ ուրիշ անուններ են ընդունում. օրինակ ասում են՝ ջրհորի խորութիւնը, լայնութիւնը և երկայնութիւնը. տախտակի երկայնութիւնը, լայնութիւնը և հաստութիւնը:

Գաշտի կամ պարտիլի մեծութիւնը չափելու ժամանակ մենք չափում ենք միայն մակերևութի մեծութիւնը, այսինքն երկայնութիւնը և լայնութիւնը. իսկ երկու քաղաքների միջև տարածութիւնը իմանալու համար, չափում ենք միայն ճանապարհի երկայնութիւնը, իսկ նորա լայնութեան վերայ երբեք ոչ չաղրութիւն չենք դարձնում: Չափելով մի որ և է պատի բար-

ձրութիւնը մենք ուշադրութիւն չենք դարձնում նորա հաստուածութեան վերայ:

Սովորաբար կէտ ասելով հասկանում ենք մի որոշ տեղ առանց որևէ ձգուածքի:

12) Կէտը մենք մտակերպում ենք մէկ փոքր բիծ դնելով թրջութի վերայ, զիծը — բարակ զիծ քաշելով: Ամեն մարմնի վերայ էլ մակերևոյթ կայ. — թղթի, տախտակի, քանոնի և այլն. եթէ շքապատենք մակերևութի մի մասը բարակ դծերով, կսասանք ծիւ: Ամեն մի մարմին կամ առարկայ կարող է մաթեմատիքական մարմին ձևացնել, եթէ միայն մոռացութեան չարութի նորա նիւթը և ուշք դարձուի նորա մեծութեան և ձևի վերայ:

Այն ամենափոքր կէտը և ամենաբարակ զիծը, որք զծվում են կաւիճով կամ մերանով, խիսապէս մարմիններ են, որովհետև ունին բոլոր երեք ձգուածքը ևս, բայց մենք սորա վերայ ուշադրութիւն չենք դարձնում, այլ ամենափոքր կէտը ընդունում ենք իրեն մի որոշեալ տեղ իսկ զիծը որպէս մի երկայնութիւն:

Քանի մի միմեանց վերայ տեղաւորուող կամ զետեղուող կէտերը կազմում են մի կէտ միայն. քանի մի միմեանց վերայ զետեղուող զծերը կազմում են միայն մի զիծ՝ և ոչ մակերևոյթ. միմեանց վերայ զետեղուող մակերևոյթները կազմում են մի մակերևոյթ, և ոչ մարմին:

II 4 է 8:

1) Մաթեմատիքական կամ երկրաչափական կէտը չունի ոչ մի ձգուածք. նա ցոյց է տալիս մեզ միայն տեղը: Եթէ ցանկանում ենք տեսանել առնել նորան, անշուշտ պէտք է տանք իրան որևէ ձգուածք, և մենք տալիս ենք նորան ամենափոքրը:

2) Ոչ միայն մի որևէ մարմնի տարածութեան, այլ և մակերևութի և զծի վերայ մինչև անգամ կարելի է երևակայել անհամար կէտերի բազմութիւն:

3) Եթէ ներկայացնենք մեզ երկու (առանձին) կէտեր, այն

ժամանակ նոցա մէջ ամենակարճ ճանապարհը կլինի ուղիղ զիծը. որեւիցէ ուրիշ տեսակ զիծ այդ երկու կէտերի մէջտեղը կլինի առաւել երկայն:

Ուղիղ զծի երկայնութիւնը և ուղղութիւնը կամ դրութիւնը որոշվում է միշտ երկու կէտերով: Երկու կէտերու մէջ տարածութիւն կոչում են այն ուղիղ զծին, որ անցրած է նոցա մէջ:

1) Երեք կէտերու մէջ (որք չեն զանկում մի ուղղութեան վերայ) կարելի է անցցնել երեք ուղիղ զծեր, որք և կասհմանափակին հարթ երեսի մի մասը և կկազմեն մի եռակողմն ձև կամ եռանկյունի:


5) Մէկ հարթ երեսի վերայ զանուող 4 կէտերի մէջ (այնպէս որ նոցանից երեք երեք մի ուղիղ զծի վերայ չլինին) կարելի է անցցնել 6 ուղիղ զծեր: Եւրաքանչեւ կէտից դէպի մնացեալ երեք կէտերը կարելի է անցցնել 3 ուղիղ զծեր. իսկ որովհետև բոլոր կէտերը թուով 4 հաս են, ապա ուրեմն կարելի էր անցցնել 4 անգամ 3, որ է 12 ուղիղ զիծ: Բայց որովհետև իւրաքանչեւ ուղիղ զիծ միացնում է 2 կէտ և համարվում է 2 անգամ, ուրեմն ուղիղ զծերի ճիշտ թիւը կլինի կիսով չափ պակաս. այսինքն 4 անգամ 3 բաժանուած 2-ի վերայ
$$= \frac{4 \cdot 3}{2} = 2 \cdot 3 = 6:$$

Եթէ որ 5 կէտեր (որանցից ոչ մի 3 կէտը չեն զանկում մի ուղիղ զծի վերայ) միացնելու լինինք ամենաշատ ուղիղ զծերով ապա կստանանք այսպիսի հետևանք. — իւրաքանչեւ կէտից դէպի միւս մնացեալ կէտերը կարելի է անցցնել 4 ուղիղ զծեր, իսկ 5 կէտերից 5 անգամ 4. ուղիղ զծերի ճիշտ թիւը յիշած պատճառով կլինի երկու անգամ պակաս. այսինքն
$$\frac{5 \cdot 4}{2} = 10:$$

Ուրեմն 6 կէտերու մէջ կարելի է անցցնել
$$\frac{6 \cdot 5}{2} = 15$$

... 10.9 / 2 = 5.5
 100.99 / 2 = 50.495
 100 / 2 = 50

Ապա ուրեմն ամենաշատ թուով ուղիղ գծեր դասելու (համար, որ կարելի է անցկացնել որքան կետերի մեջ և կամին պետքէ բազմապատկենք առանձ կետերի թիւը միեւնոյն կետերի թուով, առանց մէկի. և արտադրեալը բաժանենք 2-ի վերայ (այսինքն մերցնել նորա կէտը):



Ձև 1.

6) Երկու: Գտէք այն կետերի ամենամեծ թիւը, որ կարող են համոզուիլ 2, 3, 4 և այլն ուղիղ գծեր (դասել ընդհանուր կետերի ամենամեծ թիւը):

Լ ու ը ու զ ն: Երկու ուղիղ գծերը կընդհատուին մի կետով միայն: Երրորդ ուղիղ գիծը կարող է ընդհատել առաջին երկու ուղիղ գծերին ևս. ուրեմն կաւելանան 2 ընդհանուր կետեր. 1 + 2: Չորրորդ ուղիղ գիծը կարող է ընդհատել նախկին երեքին. 3 կէտ ևս. ուրեմն ընդհանուր կետերի թիւը ընդ ամէնը կլինի 1 + 2 + 3:

5-ուղիղ գծերի միմեանց կարելոյց վարող են ամացուիլ 2 և անարտարա ա 1 + 2 + 3 + 4 + 5 կետեր և այլն.
 Եւրաքանչիւր յեւեկալ ուղիղ գիծը ընդհատելով նախկինաց գծերը կաւելացնի այնքան կետեր, որքան և իրանից առաջ ուղիղ գծեր կային. օրինակ 10րդ ուղիղ գիծը կաւելցնէ 9, 20րդը — 19, 100րդը 99 նոր ընդհանուր կետեր: Այս պատճառով էլ մի քանի ուղիղ գծերի ընդհանուր ամենամեծ թիւը իմանալու համար պէտքէ զոմարենք բոլոր ամբողջ թուերը սկսեալ 1ից մինչև այն թիւը, որ ցոյց է տալիս առանձ ուղիղ գծերի թիւը մէկով պակսեցրած. այսպէս օրինակ, 12 գծերը կտան մեզ 1+2+3+4+5+6+7+8+9+10+11 ընդհանուր կետեր:

Մանօթուցիւն. Այ որ կարող է դտնել Յուրաքանչիւր Յուերի շարքի զուտարը առանց զուտարելու նրանց, նա խելոյն հարող է դտնել: Այսպէս անս, 12 դի իսկար ընդհանուր կետերի ամենամեծ թիւը հաւեսար է

$$(1+11) \cdot \frac{11}{2} = 11 \cdot 6 = 66 \text{ կետերի:}$$

(Նա հաւասար է Յուերի շարքի անաջին եւ վերջին անդամների զուտարին, բազմապատկած անդամից Յուի կէտի վերայ):

Երկրորդ տեսակ լուծումն: Դիցուք առանձ է մեզ 6 ուղիղ գծեր: Եւրաքանչիւր ուղիղ գիծը ընդհատելով մնացեալ 5 ուղիղներին, կտար մեզ 5 կետեր, իսկ 6 ուղիղը իմիասին — 6. 5 կետեր. բայց եւրաքանչիւր կէտ պատկանում է 2 ուղիղին, ուրեմն կետերի թիւը կլինի երկու անգամ պակաս առաջուանից. այսինքն՝

$$\frac{6 \cdot 5}{2} = 15.$$

Այսպէս էլ, որքան և ուղիղ գիծ ունենայինք, իւրաքանչիւրը նոյնանից ընդհատելով մնացեալներին, կտայ այնքան կետեր, որքան և բոլոր ուղիղ գծերի թիւն է, բացի այդ մէկից: Եթէ որ բազմապատկենք ուղիղ գծերի թիւը մէկով պակաս բոլոր ուղիղ

գծերի թուի հետ, այն գամանակ կտանանք ընդհատման կետերի կրկնապատիկը, որովհետև ամեն մի կետ պատկանում է երկու ուղիղ գծերի. իսկ որպէս զև ստանանք կետերի իսկական թիւը, պէտքէ վերցնենք այդ արտադրեալի կէտը:

10 ուղիղ գծեր ընդհատուելով տալիս են. $\frac{10 \cdot 9}{2} = 45$ կէտեր,

20 " " " " " $\frac{20 \cdot 19}{2} = 190$ "

100 " " " " " $\frac{100 \cdot 99}{2} = 4950$ "

8 " " " " " $\frac{8 \cdot (8 - 1)}{2}$

Յաւելուած: Հակադարձ խնդիր. տուած է կետերի ամենամեծ թիւը. գտէք ուղիղ գծերի թիւը:

Ուղիղ գծերի թիւը գտնելու համար պէտքէ ուշադրութիւն դարձնել թէ ի՞նչ միջոցով գտնուեցաւ այստեղ կետերի թիւը: Հակադարձ խնդիրը լուծելու համար պէտքէ ընտրել և հակադարձ ճանապարհ: Այն ա, բ, գ, ի և այլնօրնութեամբ մեկը հասանք մինչև Դ: Այժմ Դից՝ գ, բ, ա, ի օգնութեամբ պէտքէ դառնանք դէպի Ա:

Ինչ ամբողջ թիւ որ կամիս՝ կարո՞ղ է արդեօք կետերի ընդհատման ամենամեծ թիւը լինել:

- 7) Ա. ո. անձին խնդիրներ:
- 1) Երկու զանազան կետերից դուրս են գալիս վեց վեց ուղիղ գծեր: Ո՞րքան կարող է լինել ընդհատման կետերի ամենամեծ թիւը այս ուղիղ գծերի մէջ:
- 2) Զանազան կետերից դուրս են գալիս երեք խումբ ուղիղ գծեր. 6 հատը մի կետից, 7 միւսից, 8 երրորդից — ո՞րքան կարող է լինել ընդհատման կետերի ամենամեծ թիւը:
- 3) Երկու խումբ ուղիղ գծեր կան. մի խումբը բաղկացած է

6 գծերից, միւսը՝ նոյնպէս 6 գծերից. սոքա կարում են միմեանց, և իւրաքանչիւր խմբի գծերը գնում են մի ուղղութեամբ (այսինքն զուգահեռական են միմեանց): Գտէք ընդհատման կետերի ամենամեծ թիւը:

4) Երեք խումբ զուգահեռական գծեր կան, որոնցից մինը բաղկացած է 6, միւսը 7, և երրորդը 8 գծերից. գտէք ընդհատման կետերի ամենամեծ թիւը:

5) Երեք խումբ զուգահեռական գծեր կան. իւրաքանչիւր խմբի գծերի թիւը նշանակվում է ա, բ, գ տառերով: Նշանակեցէք տառերով ընդհատման կետերի ամենամեծ թիւը և ապա յայտնեցէք բառերով:

6) Գտէք ընդհատման կետերի ամենամեծ թիւը 5, 6, 7, 8 գծերի, ենթադրելով որ ամեն մի անգամ 3 գծեր զուգահեռական չեն:

7) 12 ուղիղ գծերից 7 հատը զուգահեռական են, իսկ մնացեալ 5ը դուրս են գալի մէկ կետից: Գտէք ընդհատման կետերի թիւը:

[Բացատրութիւն: Զուգահեռական են (տես № 12 յետևեալ բաժնում) կոչվում այն ուղիղ գծերը, որք գտնվում են մէկ հարթ երեսի վերայ և միշտ հաւասարաչափ հեռացած են միմեանցից]:

III ՈՒՂԻՂ ԳԾԵՐ ԵՒ ԱՆԿԻՒՆՆԵՐ:

- 1) Ուղիղ գծի էական յատկութիւնն այն է, որ նա ձգվում է միայն մի ուղղութեամբ: Նորա ծայրակետերի միջև տարածութիւնը երկայնութիւն է միայն:
- 2) Ամեն մի ուղիղ գծի կարելի է իւր ծայրակետերից շարունակա՞ծ երեւակայել իրր թէ նա մէկ կամ երկու կողմումն էլ ծայր չունի:
- 3) Ուղիղ գծի գրութիւնը կամ ուղղութիւնը լիովին որոշվում է 2 կետերով, որոնց մէջ և անցնում է նա: Այս պատճառով

ուով էլ երբ որ 2 ուղիղ գծեր ունին 2 ընդհանուր կէտեր, այդ ժամանակ այդպիսի գծերը ծածկում են միմեանց. այսինքն կազմում են մէկ ուղղութիւն:

[Ն'յատողութիւն: Այս յատկութեան վերայ հիմնուելով՝ կարելի է ստուգել, թէ ուղիղ է շինուած արդեօք քանոնը: Սորա համար դնում են քանոնի ծայրերը 2 կէտերի վերայ եւ ուղիղ գիծ են քաշում. յետոյ շուտաւով (փոփոխելով) քանոնի ծայրերը, դնում են նորան միեւնոյն կէտերին նոյն կողմով եւ կրկին քաշում են մի գիծ. եթէ որ քաշած երկու ուղիղ գծերը եւս ծածկում են միմեանց՝ (միմեանց վերայ են դալիս), այն ժամանակ քանոնը լինում է ուղիղ: Ատաղծագործները մակերեսութեան հարթութիւնը ստուգում են ուղիղ քանոնով:]

4) Գծի երկայնութիւնը իմանալով՝ քի չափելու համար ստնում են մի յայտնի երկայնաչափ. օրինակ սաժէն (ձողաչափ), ոտնաչափ, արշին և այլն: Իսկ սաժէնի և այլ չափերի երկայնութիւնը մենք իմանում ենք աչքերի և ձեռների օգնութեամբ:

Այս չափերը զանազան տէրութեանց մէջ զանազան կերպ են ընդունուած: Սեղանում մեծ տարածութիւնները չափում են վերաստերով (7 վերաստը կազմում է 1 մղոն). մէկ վերաստի մէջ կայ 500 սաժէն, 1 սաժէնի մէջ 7 ոտնաչափ: Ոտնաչափն ունի 12 մատնաչափ, իսկ 1 մատնաչափը ունի 10 դիծ: Բացի սորանից սաժէնը բաժանում են այլև 3 արշինի, իսկ արշինը 16 վերջոկի:

Եթէ կամենում ենք չափել դաշտի վերայ ուղիղ գծի երկայնութիւնը, պէտք է ցցենք գծի վերայ գետնի մէջ ուղղահայեաց դրութեամբ՝ երկու ցիցեր. յետոյ նայելով մէկից միւսի վերայ ցցենք նոցա յետեւից և միւս ցիցերը այնպէս, որ առաջինը ծածկէր մնացեալ միւս ցիցերին. այն ժամանակ բոլոր ցիցերը կզանուին ուղիղ գծի վերայ, որովհետև 2 ցիցերը (կէտերը) որոշում են ուղիղ գծի ուղղութիւնը: Սորանից յետոյ չափում են գիծը սաժէնով, թելով և կամ շղթայով: Զափոյ սաժէնը մէկ կամ քանի մի սաժէն երկայնութեամբ մի փայտեայ քանոն է, որ բաժանուած է առհասարակ ոտնաչափերի: Զափելու համար գործ ածուող թելը ունենում է առհասարակ 3 կամ 6 սաժէն

երկայնութիւն, որ և բաժանուած է լինում հանդոյցներով մասնաչափերի: Շղթան շինվում է երկաթից և բաղկացած է օղակներից, որք բաժանվում են միմեանցից փոքրիկ օղակներով. իւրաքանչիւր 2 օղակների միջի տարածութիւնը հաւասար է մի ոտնաչափի. իւրաքանչիւր 7 օղք առանձին, որք կազմում են մի սաժէն, բաժանուած են միմեանցից մի մեծ օղով, որոյ վերայ և կապած է մի թոււտախտակ, որ ցոյց է տալիս սաժէնների թիւը: Շղթայի ծայրերին կան օղակներ, որք չափելու ժամանակ հազցնվում են գետնի մէջ ցցուող ցիցերին. այսպիսի դէպքում շղթան պէտք է լինի ձգուած:

Տարածութիւնը փոքր դիւքով թղթի վերայ գծագրելու համար՝ գործ են ածում զծալափը, որը գտնվում է իւրաքանչիւր այն արկիներում, որք պարունակում են իրանց մէջ մաթեմատիքական գործիքներ: Գծաչափը մի պղնձեայ քանոն է՝ քանի մի հաւասար մասերի բաժանուած, որոնց կարելի է ընդունել վերստերի, սաժէնների, արշինների կամ ոտնաչափերի փոխարէն և այլն: Այս մասերից մինը բաժանվում է էլի առհասարակ 10 հաւասար մասերի:

Եթէ մենք կամենում ենք չափել տուած ուղիղ գիծը գծաչափի վերայ, այն ժամանակ առնում ենք նորա երկայնութիւնը կարկինի բացուած սրունքների մէջ և նայում, թէ որքան մասն կրճնի այդ երկայնութիւնը գծաչափի վերայ: Եթէ որ կամենում ենք ձևակերպել թղթի վերայ մի որևէ երկայնութեամբ ուղիղ գիծ, այն ժամանակ այդ երկայնութիւնը չափում ենք կարկինով ըստ գծաչափին և այդ չափով վերցնում ենք ուղիղ գիծը:

Իւրաքանչիւր առարկայի ձևակերպելու ժամանակ՝ (տան, պարտիզի կամ մի որոշեալ հողի և այլն) պէտք է յատակագիծը առնելիս նշանակել թէ ինչ գծաչափով է նա ձևակերպուած. այլապէս անկարելի է որոշել, չափել զանազան մասերի երկայնութիւնը (մեծութիւնը):

[Խ ն դ ի ռ ն ե ռ :

Այն ուղիղ գծերը, որոց երկայնութիւնները նշանակուած են թուերով,

4032

կարող են գումարուել եւ հանուել բոլորովին այնպէս, ինչպէս անուանա-
կան թուերը. իհարկէ նոքա պէտքէ լինին արդէն մի անուանականի, կամ
պէտքէ դարձնուին մի անուանականի:

1. Ի՞նչքան է սենեակի շրջապատը, որի երկայնութիւնն է 21 ոտն.
իսկ լայնութիւնը 18 ոտն.

2. 200 ոտն. երկայնութիւն ունեցող փողոցի երկու կողմերում եւս պէտ-
քէ որ մէկը միւսից 10 ոտն. հեռաւորութեամբ ծառեր տնկուին: Քանի
ծառ է հարկաւոր:— (42):

3. Մի մարդ խճուղիով գնալիս 300 հեռազրական սիւն անցաւ, որոնք
իրարից 20 սաժէնչափ հեռու էին. քանի վերստ դնաց նա:

$$\left(\frac{20 \times 300}{500} = \frac{6000}{500} = 12 \right)$$

4. 160 սաժէն երկայնութիւն ունեցող փողոցի երկու կողմերում եւս
պէտքէ տաշած քարից սալաճատակ շինել: Իւրաքանչիւր քարը ունի 10
ոտնչափ երկայնութիւն եւ 8 ոտնչափ լայնութիւն: Ո՞րքան քար է
հարկաւոր, եթէ նոցա շարեն երկայնութեամբ, եւ ձրքան, եթէ — լայնու-
թեամբ:

$$\left(\frac{2 \cdot 160 \cdot 7}{10} \text{ և } \frac{2 \cdot 160 \cdot 7}{8} = 224 \text{ և } 280 \right)$$

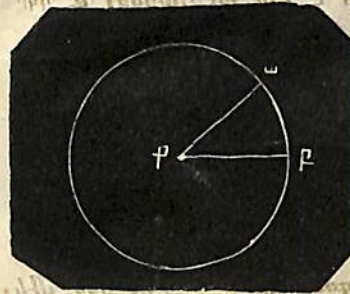
5. Մի այգի պէտք էր ցանկապատ անել. նորա կողմերը ունէին 30,
20, 15 եւ 10 սաժէն երկայնութիւն: Ո՞րքան կարժենար ցանկապատը,
եթէ որ իւրաքանչիւր 5 արշինը նստում է 1 մանէթ 25 կոպէկ —
(56 մանէթ 25 կոպէկ):

6. Լուսինը երկրից հեռու է 50,000 մղոն տարածութեամբ, արեգակը
20 միլիոն մղոն. ձրքան ժամանակում կարելի էր մի ճանապարհորդութիւն
անել երկրից մինչեւ լուսինը եւ արեգակը մի այնպիսի շոգեկառքի վերայ,
որ ամեն մի ժամում անցնում է 5 մղոն:— ($416^2/3$ որ. եւ 456 տա-
րում $226^2/3$ որ):

7. 12 ոտն. երկայնութիւն, 10 ոտն. լայնութիւն եւ 8 ոտն. բարձրու-
թիւն ունեցող արկղը պէտքէ պատել երկու երկաթեայ օղակներով խաչածեւ:
Քանի ոտնչափ երկաթեայ օղակ է հարկաւոր: ($2 \cdot 12 + 2 \cdot 8 + 2 \cdot 10 + 2 \cdot 8 = 76$):

5) Առնենք հարթ երեսի վերայ մի ուղիղ գիծ և դիցուք թէ
նա պտտւում է իւր ծայրակէտերից մինի (անշարժ մնացողը) շուրջ,
մինչև որ նա կրկին իւր առաջուայ դրութեանը հասնի: Այն
ճանապարհը, որ անում է ուղիղ գիծը լինում է մի կանոնաւոր
կոր գիծ, որը և կոչւում է շրջապատ կամ թովանդակագիծ, դրա
միջի տարածութիւնը շրջան, որ ունենում է կենդրոն. այսինքն
այնպիսի մի կէտ, որ հեռացած է լինում շրջապատի ամեն մի
կէտից միահաւասար հեռաւորութեամբ: Երջանի կենդրոնի շը-
ջապատից ունեցած հեռաւորութիւնը (տարածութիւնը) կոչ-
ւում է շառաիղ կամ ճառագայթ:

6) Եթէ առնենք երկու ուղիղ գծեր և դնենք միմեանց վերայ
այնպէս, որ նոցա ծայրակէտերը ծածկեն միմեանց, այն ժամանակ
գծերն էլ կձածկեն միմեանց: Եթէ սոցանից միւր թողնենք ան-
շարժ (Ձև 2), իսկ միւրը շրջենք հարթ երեսի վերայ իւր որևէ




ծայրակէտի շուրջ, այն ժամանակ
այդ կէտում՝ երկու գծերի մէջտե-
ղում անկիւն կստացուի. — այսինքն
դ կամ ազր կամ թզա անկիւն: Այս ան-
կիւնը գտնւում է դ դագաթի վերայ,
ազ և թր երկու կողմերի կամ՝ սրունք-
ների մէջ:

Ձև 2.

Անկեան մեծութիւնը կախուած չէ սրունքների երկայնութիւ-
նից կամ կարծութիւնից, այլ նոցա մեծ կամ փոքր բացուածքից:
Մինչև որ սրունքների բացուածքը չմեծանայ կամ չփոքրանայ,
անկիւնն անփոփոխ կմնայ:

7) ակ ուղիղ գիծը մի լիակատար պտոյտ անելով կ կէտի
շուրջը կգծէ մի ամբողջ շրջան: Այս շարժողութեան ժամանակ
կլինի այնպիսի մի միջոց, երբ կը և կր երկու ուղիղ գծերն էլ
կկազմեն մի ուղիղ գիծ և կպատահի ևս երկու դէպք, երբ

չարժուող կա ուղիղ գիծը միակերպ կլինի հակուած դէպի ինչպէս կը էն նոյնպէս և — կը (Ձև 3). այսինքն կե և կը դրութեանց մէջ: Այս վերջին դէպքում անկիւնը կոչվում է ուղիղ, և նշանակվում է Ո (ուղիղ) տառով. \angle եկը = Ո, \angle եկը = Ո և այլն:



Ձև 3.

3) Այն անկիւնները, որք Ո ից փոքր են՝ կոչվում են սուր անկիւններ, \angle ակը, իսկ այն անկիւնները, որք մեծ են ուղիղից — բութ, \angle բկէ:

Երկու ուղիղ անկիւններ, թե և եկը կարելի է միասին համարել որպէս մէկ \angle թկը = 2 Ո, և այսպիսի անկիւնը կոչվում է հարթ անկիւն: Այս \angle վերայ կարելի է էլի աւելացնել և ղկը \angle , և այն ժամանակ մենք կունենանք բարձր անկիւն, որ նոյնպէս կարելի է մեծացնել մինչև 4 ուղիղ անկիւն:

Այսպէս ուրեմն՝

- 2 Ո ից փոքր են գոգաւոր անկիւնները,
- 2 Ո ին հաւասար են հարթ " ,
- 2 Ո ից մեծ են բարձր " ,

Մի կէտի շուրջը եղած անկեանց գումարը = 4 Ո, իսկ մէկ կէտի շուրջը և ուղիղ գծի մէկ կողմում գտնուող անկեանց գումարը = 2 Ո: ա և բ անկիւնները կոչվում են կից կամ առնձեռակաց անկիւններ. (Ձև 4), որքան ա անկիւնը մեծ է ուղիղից, այնքան բ անկիւնը փոքր է ուղիղից: Սորանից հետևում է, որ




Ձև 4.

Եթէ որ բ սուր է, ուրեմն ա բութ է, եթէ որ բ = Ո, ուրե-

մքն և a = Ո:

9) Երկու ուղիղ գծեր ընդհատուելով կազմում են 4 անկիւն. a և դ, ե և զ անկիւնները կոչվում են հակադիր կամ զազաժն անկիւններ. (Ձև 5):

Այսպիսի անկիւնները հաւասար են միմեանց. որովհետև



Ձև 5.

$$\begin{array}{r} a + d = 2 \text{ Ո} \\ e + z = 2 \text{ Ո} \\ \hline a + d = e + z \\ e = e \\ \hline a = z \end{array}$$

նոյնը կլինի և այն ժամանակ, երբ մի կէտում ընդհատվում են 3, 4 և այլն ուղիղ գծեր:

10) Թե և անկիւնը (№ 7) բռնում է (ծածկում է) 4 կէտի շուրջը գտնուող ամբողջ տարածութեան քառորդ մասը և թե աղեղը գտնուող ամբողջ շրջապատի քառորդ մասին: Երկու ուղիղ անկեանք հաւասար թկը հարթ անկիւնը փակվում է շրջապատի կէտով թկը ով. կարճ ասել, մի անկիւն 4 Ո անկեանքանի երորդ մասը որ է, նորա դիմացի աղեղն էլ շրջապատի այնքան երորդ մասն է:

Եթէ որ թկա անկիւնը = $1/2$ Ո, այն ժամանակ և թա աղեղը = $1/2$ թե, եթէ թկէ անկիւնը = $1 1/2$ Ո, այն ժամանակ թե աղեղն էլ = $1 1/2$ թե աղեղին = $3/2$ թե = $3/4$ թե = թեղը աղեղի $3/4$ ինչ:

Սորա համար և մէկ յարաբերութիւնը կարելի է փոխարինել միևսով. այսինքն անկիւնների յարաբերութեանց փոխանակ աւել աղեղների յարաբերութիւնքը:

Շրջապատը բաժանում են 360 միմեանց հաւասար մասերի, որք կոչվում են աստիճաններ. ուրեմն աստիճանը կազմում է շրջապատի մէկ 360 թղ մասը:

Ուղիղ անկեան հանդէպը ձգուած է լինում շրջապատի $1/2$ մասը. սորա համար էլ ասում են, որ նա հաւասար է 90 աստիճանի (= 90°): Աստիճան բառը ինչպէս որ նշանակում է $1/4$ շրջ-

Ջագատի 90րդ մասը, նոյնպէս և նշանակում է ուղիղ անկեան 90րդ մասը: Որքան աստիճան որ պարունակում է աղեղը, նոյնքան աստիճան և պարունակում է նորա հանդէպը կենդրոնի վերայ գրտնուող անկիւնը. աղեղի աստիճանների թիւը համապատասխանում է անկեան աստիճանների թիւին: Սորանից հասկանալի է, որ

սուր անկիւնը	> 0°
	< 90°
ուղիղ "	= 90°
բութ "	> 90°
	< 180°
բարձր "	> 180°
	< 360°


Ուրեմն անկեանց մեծութիւնը որոշվում է աստիճաններով: Աստիճանները ցոյց են տալիս մի որևէ անկեան յարաբերութիւնը ուղիղ անկեան հետ. որովհետև ուղիղ անկիւնը ունենում է միշտ միևնոյն մեծութիւնը, ուստի և նա ընդունվում է քննարկել անկիւնների համար իբրև չափ (այսինքն միևս անկիւնների մեծութիւնը համեմատվում է ուղիղ անկեան հետ): Բոլոր ուղիղ անկիւնները հաւասար են միմեանց, նոյնպէս և հարթ անկիւնները, իսկ բարձր անկեանց համար այդ չի կարելի ասել: Ինչպէս աղեղի, նոյնպէս և անկեան աստիճանը բաժանվում է 60 հաւասար մասերի, որք կոչվում են րոպէ. իսկ իւրաքանչիւր րոպէն բաժանվում է 60 վայրկեանի. նորա նշանակվում են ահա այսպէս °, ', " : Ուրեմն 24° 36' 48" նշանակում են 24 աստիճան, 36 րոպէ, 48 վայրկեան: (Րոպէները և վայրկեանները սովորաբար ժամանակը որոշելու համար էլ են գործ անվում. այս պատճառաւ և այն դէպքերում, երբ սորանից կարող է ծագել երկու տեսակ միտք՝ անպատճառ պէտքէ յիշել թէ արդեօք խօսքը ժամանակի՞ րոպէների և վայրկեանների վերայ է՞ թէ անկեան և աղեղի):

11) Հիւսնները, քարտանները, որմնաղիւրները և այլ արհեստաւորք գործնականապէս անկիւնները չափելու համար գործ են

ածում անկիւնադիր (НАУГОЛЬНИКЪ, գեօնիա) կոչուած գործիքը: Նա բաղկացած է երկու միմեանց հետ միացած և խրեանց մէջ ուղիղ անկիւն պարունակող երկաթեայ կամ փայտեայ քանոններից, որը հարկաւորվում է վերոյիշեալ արհեստաւորներին սովորաբար այն ժամանակ, երբ միացնում են միմեանց ուղիղ անկիւն կազմող երկու մակերևոյթներու: Կարկինի լաւ արկղում միշտ լինում է այդպիսի անկիւնադիր՝ միայն փոքր դիրքով. և բացի դորանից փոքրիկ փայտեայ ուղղանկիւն եռանկիւնի, որի սուր անկիւններից իւրաքանչիւրը հաւասար է 1/2 Ո կամ թէ միւրը = 1/3, իսկ միւսը = 2/3 Ո:

Թղթի վերայի անկիւնները չափելու համար գործ է անվում մի առանձին գործիք, որ կոչվում է անկիւնաչափ կամ փոստարի: շեռեւեալ ձևը (Ձև 6) ցոյց է տալիս այդ գործիքի կազմութիւնը. դա շինվում է առհասարակ արուբից, որ սովորաբար գտնվում է Միշտ կարկինի լաւ տեսում: Թղթի քանոնի վերայ

28
143/2-88
6255
(41)



Ձև 6

շինուած է մի կիսաօղ, իսկ նորա վերայ անցրած են քանի մի կիսաշրջապատներ, որոց համար քանոնի վերին եզրը ծառայում է իբրև տրամագիծ, իսկ նորա վերայի փոքրիկ քանոնը նշանակում է նոցա կենդրոնը: Կիսաշրջապատները բաժանուած են



180 հաւասար մասերի. (աստիճանների), որոց վերայ նշանակուած թուերը աւելի յարմարութեան համար գրվում են թէ աջ կողմից դէպի ձախ և թէ ձախից դէպի աջ իւրաքանչիւր 10°-ից յետոյ: Բաժանման բոլոր գծերը ուղղուած են դէպի մի ընդհանուր կէտ—դէպի կենդրոնը:

Եթէ հարկաւոր է փոխադրելով չափել թղթի վերայ մի անկիւն, պէտքէ փոխադրել այնպէս դնել, որ քանոնի վերին եզրը ամբողջապէս լինի անկեան մի որևէ սրունքի վերայ, իսկ կենդրոնը անկեան գագաթի վերայ. այն ժամանակ միւս կողմը (հարկաւոր եղած ժամանակ բաւականաչափ շարունակուած) ցոյց կտայ շրջապատի վերայ անկեան մէջ պարունակուող աստիճանների թիւը: Հասկանալի է, որ անկիւնաչափի օգնութեամբ մենք կարող ենք նոյնպէս գծել թղթի վերայ զանազան մեծութիւն ունեցող անկիւններ: Լաւ կլինէր վարժուել փոխադրել երկու կերպ գործադրութեանց մէջ ևս:

Նրբ կամենում են իմանալ թէ մի գիծ կամ տարածութիւն հորիզոնական գրութիւն ունի թէ ոչ ինչպէս ջրի մակերևոյթն է ամանի մէջ, կամ թէ ուզում են գծին հորիզոնական գրութիւն տալ՝ գործ են ածում հարթաչափը՝ որոյ պատկերը դրուած է այստեղ: Հարթաչափը մի կիսաշրջան է՝ (Ձև 7), որ բաժնու-



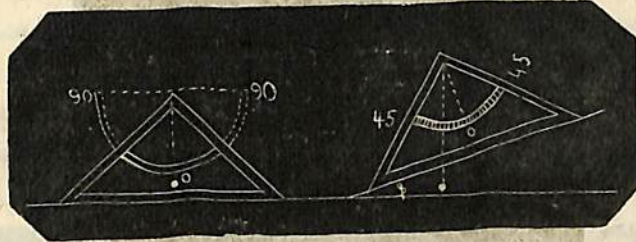
Ձև 7

ած է ար գծով երկու հաւասար մասերի, և որ ա կէտում ունի կապարալար: Եթէ այդ գործիքը գծի վերայ դնելուց յետոյ տեսանք, որ կապարալարը կախվում է ար գծի վերայից, այդ կնշանակէ՝ որ գիծը հորիզոնական է: Եթէ կամենում ենք իմանալ թէ հորիզոնական է արդեօք հարթ

երեսը՝ պէտքէ դնել նորա վերայ գործիքը զանազան ուղղութեամբ, որովհետև կարող է պատահել, որ մի գիծ տարածութեան վերայ կլինի հորիզոնական, իսկ ամբողջ երեսը թէք:

Եթէ որ գիծը կամ տարածութիւնը հորիզոնական չէ, այն

ժամանակ նորա թէք դրութիւնից ստացած (յառաջացած) անկիւնը հաւասար կլինի կապարալարից և ար գծից կազմուած անկեանը, $\Phi = \Phi$: Հետևեալ ձևը (Ձև 8) ցոյց է տալիս մի այլ տեսակ կազմուած հարթաչափ: Եթէ կամենում են իմանալ թէ շինութեան պատր, սիւնը կամ ցիցը ուղղահայեաց են՝ թէ ոչ՝ գործ են ածում արձակածից կապարալար: Նորա ուղղութիւնը ուղղահայեաց է անշարժ դրութեամբ եղած ջրի մակերևոյթին



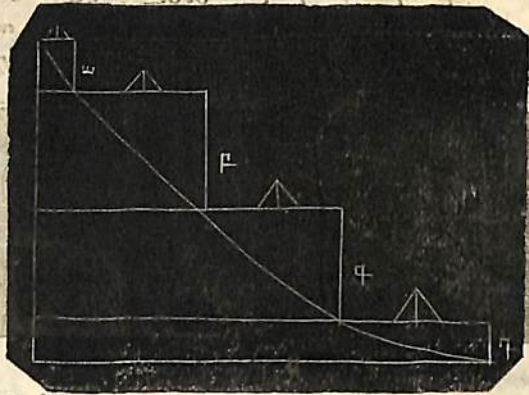
Ձև 8

կամ թէ առհասարակ հորիզոնական տարածութեանը և հայում է (եթէ շարունակենք նորան) դէպի ներքև — երկրի կենդրոնը, իսկ դէպի վեր՝ — գագաթնակէտը (զէնիտ):

[Ծանօթութիւն: Աշակերտները ինքեանք կարող են հաստ Թղթից շրջաններ շինել եւ երկու կենդրոնի վերայից անցնող միմեանց ուղղահայեաց գծերով բաժանել նոցա չորս հաւասար մասերի. յետոյ սկսեալ ուղիղ գծի մի որևէ ծայրից նոքա կարող են շրջապատը աստիճանների բաժանել, նշանակելով նոցա իւրաքանչիւր 10°-ից յետոյ, 0°-ից սկսեալ մինչև 360°: Վերջապէս շրջանի կենդրոնից կանցնեն մի երկամեայ թել, որը կարող փնէր ազատօրէն պտտուել կենդրոնի շուրջը, իսկ նորա միւս ծայրը միեւնոյն ժամանակ կարող փնէր շարժուել շրջանի բաժանմանց վերայով: Այսպիսի գործիքի վերայ աշակերտները կարող են ցոյց տալ անկիւնների բոլոր տեսակները. մի որոշեալ մեծութեամբ անկիւն (իւր աստիճանների լրիւ պարունակութեամբ), ամենամեծ եւ ամենափոքր սուր եւ բութ անկիւնները եւ այլն:

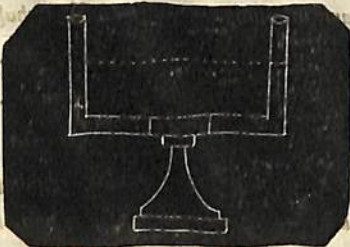
Յաւելուած 1. Շատ անգամ հարկաւոր է լինում իմանալ երկու կէտերի բարձրութեանց զանազանութիւնը (օրինակ թէ ինչ բարձրութիւնից գետն է թափվում ջուրը): Թէ ինչպէս է դա իմացվում, երևում է ներքեւը դրած ձևից (Ձև 9): Ուղղահայեաց ցիցերի վերայ հարթաչափի օգնութեամբ ամ-

բացնում են հորիզոնական փայտեր. բոլոր ցիցերի երկայնութեանց գումարը ցոյց կտայ չափուող տարածութեան վերին եւ ներքին կէտերի բարձրութեանց զանազանութիւնը: Աս կերպ չափելը կոչվում է սրշումն յարաբերական բարձրութեան, որը որոշ է անհար հետաքննող, երկաթուղիների,



Ձև 9

ջուանցքների եւ ճահճուտների ցահարիցներու համար: Մեծ տարածութեանց վերայ յարաբերական բարձրութիւնը որոշելու համար գործ են ածում այսուպէս անուանեալ **Հարթարարը**, որ շինուած է մի աստակեայ խողովակից (Ձև 10) եւ երկու այլ ուղղահայեաց որուն թեւեր կանգնած խողովակներից, սոցա մէջ լցրած է ջուր: Որովհետեւ ջրի մակերևոյթը հաղորդակից անօթների մէջ հորիզոնական մակերևոյթ է ունենում (նաևապար բարձրութեամբ) ուստի եթէ որ նայենք խողովակների մէկի միջից, այնպէս որ տեսութեան ճառագայթը անցնէր երկու մակերևութների վերայիցն էլ — կտանանք հորիզոնական:



Ձև 10

նրիւմ է հետեւեալ ձեւից (Ձև 11), որի վերայ ձեւակերպած է այդպիսի

մի որոշումն յարաներակիան բարձրութեան՝ օտնութեամբ քանոնի եւ դիտակ:



Ձև 11

Մանօթութիւն: Այս մի յարմար դէպք է աշակերտին զննել տալու, որ թէք տափարակութեան վերայ չեն կարող անել անկի շատ ծառեր, քան թէ նոյն չափ հորիզոնական տարածութեան վերայ. որովհետեւ թէք թէք տարածութիւնը երկայն էլ է, (Ձև 12), բայց ծառերը միշտ ուղղահայեաց են լինում հորիզոնականին:



Ձև 12

Ցաւելուած 2. Ի՞նչպիսի անկիւններ են կազմում միեւեանց հետ ժամացոյցի սլաքները 12, 1, 2, 3, 4... մինչև 12 ժամը Արեղի քանի րոպէն է անցնում մեծ սլաքը հինգ եւ մէկ րոպէ միջոցում:

Ժամանակի հինգ րոպէում մեծ սլաքը 12-ից անցնում է դէպի 1-ը եւ այս ժամանակ

աղեղի վերայ անցնում է $\frac{90^\circ}{3} = 30^\circ$ կամ $30 \cdot 60 = 1800$ աղեղի րո-

պէի. ուրեմն ժամանակի մէկ րոպէում նա անցնում է $\frac{1800}{5} = 360$ աղեղի

րոպէ կամ $\frac{360}{60} = 6^\circ$ աղեղ:

Ցաւելուած 3. Զննութիւններից յայտնի է, որ Աետերբուրգի մէջ մագնիսի սլաքը 6° թէքումն ունի դէպի արեւմուտք: Այս ի՞նչ կնշանակի. — կնշանակի թէ մագնիսի սլաքի ուղղութիւնը հարիզոնի հիւսիսային եւ հարաւային կէտերը միաւորող ուղեղ գծից (միջօրեականից) 6° անկւնով թէքուած է դէպի արեւմուտք:

Ցաւելուած 4. Հորիզոնը (նորա տափարակութիւնը) սովորաբար մի քանի հաւասար մասերի են բաժանում. առաջ չորս մասերի՝

երկու իրար ուղղահայեաց գծերի միջնորդութեամբ, որ անց են կացնվում զննողի կանգնած տեղից. այս գծերից մէկը հորիզոնի տափարակութեան վերայ միաւորում է հիւսիսային և հարաւային ծայրակէտերը, իսկ միւսը՝ արևելեանը և արևմտեանը: Այդ կէտերից ամեն մինը դրկից կէտից 90° հեռաւորութիւն ունի, և այդ տարածութիւնը հորիզոնի չորրորդ մասն է: Գորանից յետոյ լարերից և անկիւններից իւրաքանչիւրը կրկին երկու հաւասար մասերի է բաժանվում. որպիսով ստացվում են ուրիշ չորս երկրորդական կողմեր էլ — Արևելահիւսիսային, Արլէր. Արմ. Հս: Արմ. Հր: Գտէք զանազան աղեղների մեծութիւնը:

Մարտի 9-ին և Սեպտեմբերի 11-ին զարնանային և աշնանային զիշերահաւասարի ժամանակ արեգակը ծագում է (եթէ լինենք չկան արդիւղ) Արևելեան կէտում և մայր մտնում Արևմտեան կէտում. այդ ժամանակ նա ամբողջ ցերեկը երկնքի վերայ մի աղեղ է դժում 180° մեծութեամբ, կամ թէ երկնքի հասարակածի կէտը, որոյ բարձրագոյն կէտը Պետերբուրգի համար գտնվում է 30° բարձրութեան վերայ և այս բարձրութիւնը չափվում է միջօրեականի աղեղով և հարաւային կէտի ու հասարակածի և միջօրեական շրջանի ընդհատման կէտի մէջտեղը:

Մարտի 9-ից արեգակի ծագելու և մտնելու կէտերը արևելքի և արևմուտքի կէտից դէպի հիւսիս են շարժում. սեպտեմբերի 11-ից յետոյ դէպի հարաւ: Յունիսի 9-ին այդ կէտերը Պետերբուրգի համար արևելքի և արևմուտքի կէտերից հեռու են լինում $56\frac{1}{2}^\circ$: Մարտի 9-ի և սեպտեմբերի 11-ի ժամանակամիջոցում արեգակի աղեղը հորիզոնի վերայ 180° ց աւելի է. իսկ սեպտեմբերի 11-ից մինչև մարտի 9-ի — պակաս: Հորիզոնի վերայ ամենամեծ բարձրութիւն, այն է $53\frac{1}{2}^\circ$ արեգակն ունենում է յունիսի 9-ի, իսկ ամենափոքր, $6\frac{1}{2}^\circ$ դեկտեմբերի 9-ին:

Ձննողի զագաթնակէտը 90° աչափ հեռու է հորիզոնի բոլոր կէտերից: Մի տեղի միջօրեականը՝ այն է հիւսիսի և հարաւի կէտերից ու զագաթնակէտից անցնող շրջանը, անց է կենում աշխարհի տեսանելի բևեռից ևս և նորա աղեղը, որ գտնվում է


հիւսիսային բևեռի և հիւսիսի կէտի մէջտեղը՝ չափում է բևեռի բարձրութիւնը. Պետերբուրգի համար այդ բարձրութիւնը 60° :

Այսպիսի տեղեկութիւնները, որ կարեւոր են հորիզոնի վերայ երկրի կողմերը որոշելու և ամեն օր կատարուող երևոյթները հասկանալու համար, եթէ կամենանք պարզ հասկացնել աշակերտներին, կարելի է զանազան հարցել առաջարկել նորանց. օրինակի համար ի՞նչպէս հեռաւորութիւն ունի (հորիզոնի աստիճաններով հաշուելով) հիւսիսի կէտը հորիզոնի զլիւսւոր և երկրորդական կողմերից: Քանի՞ աստիճան է հիւսիսի կէտից մինչև միջօրեականի ու հասարակածի ընդհատման կէտը ($90^\circ + 60^\circ$): Քանի՞ աստիճան է հիւսիսային բևեռից մինչև զագաթնակէտը (30°): Ո՞րքան — հարաւի կէտից մինչև այժեղ ջեր արևադարձը ($6\frac{1}{2}^\circ$). մինչև հասարակածը (30°), մինչև խեցդեմնի արևադարձը ($30^\circ + 23\frac{1}{2}^\circ$): Ո՞ր շրջանների աղեղներով են հաշվում այս հեռաւորութիւնները (այն միջօրեական շրջանով — և ոչ միջօրեական գծով — որ միացնում է հորիզոնի տափարակութեան վերայ հիւսիսի և հարաւի կէտերը): Ի՞նչպիսի ուղիղ գծեր պէտք է անցուցանել զննելու տեղից, որ նուցա մէջ պարունակուին բևեռի բարձրութիւնը, հասարակածի բարձրութիւնը, բևեռի զագաթնակէտի հեռաւորութիւնը և այլն որոշող անկիւններ:

Ծանօթութիւն: Այս ծանօթութիւնները պատահում են աշխարհագրութեան դասերի մէջ, որին նուցա յատկապէս և վերաբերում են, բայց վերաբերում են և երկրաչափութեանը, որ պարտ է շոշափելի կացուցանել անկիւնների և աղեղների մասին գիտելիքը: Այսպիսի զննական վարժութիւնները միջոց են տալիս փորձելու աշակերտաց հասկացողութեան չափը: Բթամիտ աշակերտները դժուար են հասկանում նորանց. առհասարակ պէտք է օգնել անրին, զննելով իսկական բնութեան մէջ, և գորանից յետոյ միայն, եթէ կարեւոր կհամարուի, կարելի է գծել տախտակի վերայ և կամ գործածել կաղապարներ (մօդէլ): Լաւ հասկացող աշակերտները ինքեանք կարող են ձևերը գծել իսկ

լաւարդոյն աշակերտները մինչև անգամ իրանք իրանց կարող են հասկանալ այն էլ, ինչոր ուսուցիչը ասած չի լինիլ նորանց (աշխարհագրական լայնութիւնը = 60°, Համաշխարհային բևեռի բարձրութիւնը հաւասար է 60°, Զննողի և երկրի հիւսիսային բևեռի սեփոնի սարածութիւնն է 30°, հասարակածի բարձրութիւնը = 30°, երկնային բևեռի զազաթնակէտի հեռաւորութիւնը = 30° և այլն:)

12) Երկու ուղիղ գծեր կարող են այնպէս ձգուիլ մի տարածութեան վերայ, որ միշտ ահաւասար հեռաւորութիւն կունենան. այսինքն ոչ կմերձենան և ոչ կհեռանան միմեանցից. այսինքն որքան էլ նրանց ձգելու լինինք՝ ոչ կմտնենան, ոչ կհեռանան. այլ կերպ կթէ ասելու լինինք՝ — նոքա գնում են միմեանց զուգահեռական դրութեամբ. — Եւրեմն և զուգահեռական գծեր են նթէ որ ԱԲ և ԳԴ երկու զուգահեռականները (Ձև 13) կտրենք եձ թէք գծով, թէք գծի զուգահեռականներին վերևում և ներքևում կտրած երկու կէտերի շուրջ կտացուի ընդ ամենք ութն անկիւն. $\alpha, \beta, \gamma, \delta, \epsilon, \zeta, \eta, \theta$. սոքա ունին դանազան անուններ:



Ձև 13

Չուգահեռականաց մէջ գտնուող $\alpha, \beta, \gamma, \delta$ չորս անկիւնները կոչվում են ներքին անկիւններ, իսկ մնացեալ $\alpha, \beta, \gamma, \delta$ չորս անկիւնները — արտաքին:

Մէկ ներքին և մէկ արտաքին անկիւն, որք այլ և այլ զազաթններ ունին և գտնուվում են կտրող գծի միև

մերում, կոչվում են փոփոխ կամ փոխադարձ անկիւններ:

Ներքին փոփոխ անկիւններ են՝ α և ζ , նոյնպէս η և θ , իսկ արտաքին փոփոխները — α և ρ , նոյնպէս β և ϵ :

Երկու ներքին կամ երկու արտաքին անկիւններ, որք ունին այլ և այլ զազաթններ և գտնուվում են կտրող գծի միևնոյն կողմում, կոչվում են յարակից անկիւններ: Ուրեմն α և ϵ երկու անկիւնները արտաքին, իսկ η և ρ միւս երկուսը ներքին յարակից անկիւններ են:

Երկու գծերի զուգահեռականութիւնը նշանակելու համար գործ են ածում երբեմն այս նշանը \parallel : Դիցուք ԱԲ \parallel ԳԴ կնշանակէ, որ ԱԲ և ԳԴ երկու գծերը զուգահեռական են միմեանց:

Մենք արդէն գիտնք, որ (տես Ձև 13) $\rho = \theta, \epsilon = \zeta, \alpha = \beta, \eta = \delta$, որպէս զազաթն անկիւններ: Յայտնի է որ զուգահեռական գծերը մի ուղղութեամբ ձգուելով՝ միակերպ են թէքուած իրանց կտրող երկու ուղիղ գծի վերայ, այսինքն $\epsilon = \zeta, \alpha = \beta, \rho = \theta, \beta = \alpha$: Կշռեալ կամ ընդդիմակաց անկիւնները հաւասար են միմեանց:

Նոյնպէս $\epsilon + \alpha = 2\text{Ո}$, $\theta + \zeta = 2\text{Ո}$:

Որովհետև $\epsilon + \theta = 2\text{Ո}$, որպէս կից անկիւններ,

$$\begin{aligned} \epsilon &= \theta \\ \epsilon + \theta &= 2\text{Ո} \text{ և այլն:} \end{aligned}$$

Կտրող գծի մի կողմում գտնուող ինչպէս ներքին՝ նոյնպէս և արտաքին երկու անկիւնները իմիասին կազմում են 2 Ո: Ահա այնպէս.

$\epsilon = \theta$ կշռեալ անկիւններ.

$$\epsilon + \alpha = 2\text{Ո}$$

$$\epsilon + \theta = 2\text{Ո}$$

յետոյ $\rho = \theta, \epsilon = \zeta, \rho = \alpha, \epsilon = \beta$,

որովհետև $\rho + \theta = 2\text{Ո}$

$$\rho + \theta = 2\text{Ո}$$

$$\rho + \theta = \rho + \theta$$

$$\rho = \theta \text{ այսինքն:}$$

ներքին և արտաքին փոփոխ անկիւնները հաւասար են միմեանց. զ և գ կլինին՝ ինչպէս արդէն գիտենք՝ ներքին փոփոխները, իսկ ը և ա արտաքին փոփոխները:

[Ապացուցանելու համար, թէ $b = q$, $r = a$, պէտքէ հախճատել միմեանց հետ նախընթաց եզրակացումները]:

Յաւելուաւ: Չուզաճեռական զծերը զննելով՝ կարող ենք մակարեւել վեց կանոն (տեօրեմա) . $b = q$, $r = a$, $b + q = 2n$, $b + a = 2n$, $b + r = 2n$: Եթէ որ այս վեց կանոններից մինը ուղիղ է, այն ժամանակ մնացեալ հինգը ևս ուղիղ են: Լաւ կլինէր այս կանոններից ամեն մինը առանձնապէս զննել և նոցանից մակարեւել մնացեալ կանոնները: Այս դէպքում պէտքէ ծանաչել (զանազանել) ներքին և ա տար և կռեալ անկիւնները. այլև ներքին և արտաքին փոփոխ անկիւնները:

13) Հակադարձ կանոնները նոյնպէս կլինին ուղիղ: Մի որևիցէ կանոնի հակադարձ կանոնը ստանալու համար պէտքէ պայմանը դարձնել իբր հետևանք, իսկ հետևանքը — պայման: Մեր ստացած հակադարձ կանոնները կլինին սոքա.

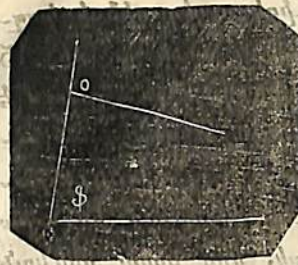
Եթէ երկու ուղիղ գծեր կտրվում են երրորդ ուղիղ գծով, և եթէ

ա) ներքին կռեալ անկիւնները հաւասար են արտաքին կռեալներին (q և r)՝ այն ժամանակ գծերը զուգահեռական են (\parallel), այլ և

բ) երբ արտաքին կամ ներքին երկու կռեալ անկեանց գումարը $= 2n$,

գ) երբ արտաքին կամ ներքին փոփոխ անկիւնները հաւասար են (եթէ որ Ա. ուղիղ է, այն ժամանակ Բ ևս ուղիղ է. Հակադարձօրէն՝ եթէ Բ ուղիղ է, այն ժամանակ Ա էլ ուղիղ է):

14) Եթէ այս պայմաններից մինը չէ կատարվում, այն ժամանակ գծերը զուգահեռական չեն (\parallel չեն). օրինակի համար երբ $\alpha > \beta$ (Ձև 14), այն ժամանակ գծերը կկտրուին աջ կողմից: Այս նշաններով հեշտ է իմանալ թէ կկտրուի՞ն արդեօք գծերը՝ թէ ոչ. և թէ՛ կտրող ուղիղ գծի որ կողմում կկտրուին նորա և որ կողմում — կհեռանան: Սորա մէջ վարժուելու հա-



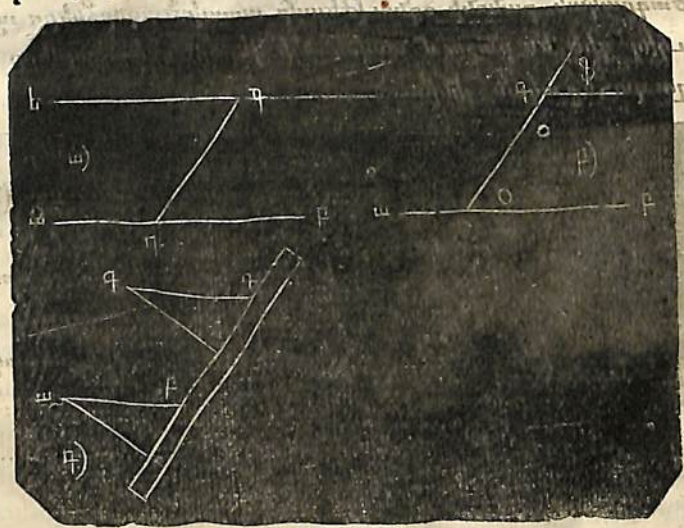
Ձև 14

մար կարելի է օգուտ քաղել վեց մակարեւած կանոններով. եթէ արդեօք որ նոցա մէջ մտնող անկիւնները անհաւասար են, նոյնպէս թէ՛ երկու անկեանց գումարը հաւասար չէ 2n. Այն ժամանակ մենք կգտնենք, որ գրծերը կտրվում են (հանդիպում են) այն կողմի վերայ, որ կողմում և գր-

տրվում են երկու ներքին փոփոխ անկիւններից փոքրը և որում ներքին կռեալ անկեանց գումարը փոքր է 2n ից:

15) Վերոյիշեալ կանոններից հեշտ է գտնել զուգահեռական գծեր քաշելու միջոցները:

Օրինակ, եթէ տուած գ կէտից (Ձև 15 — ա) պէտքէ քաշել ար գծին մի զուգահեռական, այն ժամանակ սորա համար մի-



Ձև 15.

ացնում են գ կէտը ար գծի վերայ գտնուած կէտերից մինի հետ զի ուղիղ գծի միջնորդութեամբ և զը գծի վերայ կազմում են զգր անկեանք հաւասար զգր անկիւնը 1) կամ չէ կարելի է անց-


1) Նախ այդ անկիւնը կարելի է մեքենայարար կազմել, իսկ ապա երկրաչափօրէն:

փացնել Գ կէտից ար գծի վերայ մի որևիցէ ուղիղ գիծ և կազմել գ կէտի վերայ օ անկեանը հաւասար Փ անկիւնը (Ձև 15 — բ)։ Սովորաբար գործնականապէս այս միւլենոյնը կատարվում է քանոնի օգնութեամբ, այնպէս դնելով որ նորա մօտ դրած ուղիղ անկիւն եռանկեան մի կողմը ձգուէր ար ուղիղ գծի վերայ յով յետոյ չփոխելով քանոնի դրութիւնը՝ շարժում են նորա վերայ եռանկիւնին մինչև այն ժամանակ, երբ նորա միւլենոյն կողմը կ'դիպէ գ կէտին։ որից յետոյ անցնում են դէ գիծը։

Այս միւլենոյն կերպով էլ անցուցանում են զուգահեռականներ և փայտեայ կամ մետաղեայ անկիւնա րի օգնութեամբ. (Ձև 15 — գ)։

Միւլենոյն նպատակով գործ են ածում զուգահեռական կոչուած քանոններն էլ։ Իհարկէ կան և այլ միջոցներ զուգահեռականներ քաշելու համար, ինչպէս օրինակ՝ անկիւնաչափի օգնութեամբ։

Գծագրական քանոնի օգնութեամբ ատախճագործները այնպիսի ուղիղ գիծ են քաշում տախտակի վերայ, որոց կողմերը պէտքէ զուգահեռական լինին։



Ձև 16.

Շատ ատաղձագործներ ունին գծագրական կրկնաքանոն (Ձև 16 — ա), որոնցից մէկը ինչ զրութեամբ և կամենաս՝ կարելի է ամրացնել միւսի վերայ. ապա ուրիմն և՛ գծել ամեն տեսակ անկիւններ։

Յ Ա Ի Ե Լ Ո Ի Ա Ծ.

Գործիքների գործածութեան մէջ վարժուիլը օգուտ է թէ աչքը եւ թէ ձեռքը կրօնելու համար։ Այս դէպքում նկարները պէտքէ շատ ծիշտ եւ մաքուր շինուած լինին։

1. Կաղնեցիք ուղիղ անկիւններ.
 - ա) եռանկեան օգնութեամբ,
 - բ) կիսաշրջանի օգնութեամբ,
 - գ) ուղիղ գծի վերայ տուած կէտուէ, եւ նորանից դուրս գտնուած կէտից։
 - դ) ուղիղ գծի ծայրակետի վերայ։

2. Կաղնեցիք 30°, 45°, 60°, անկիւններ. օգնութեամբ
 - ա) անկիւնաչափի (փոխաւորիչի),
 - բ) կարկինի։

3. Բ սժանեցիք անկիւններ.
 - ա) 2, 4, 8 հաւասար մասերի.
 - բ) 3, 5, 6, 7 հաւասար մասերի, անկիւնաչափի եւ կարկինի օգնութեամբ։

- 4) Քաղնեցիք զուգահեռական գծեր,
 - ա) գծագրական քանոնի օգնութեամբ,
 - բ) զուգահեռական քանոնների օգնութեամբ,
 - գ) եռանկեան օգնութեամբ,
 - դ) երկու ուղղահայեացքներով,
 - ե) դազաթն անկիւններով։

5. Բաժանեցիք որոշեալ երկայնութեամբ տուած գիծը.
 - ա) 2, 4, 8 հաւասար մասերի,
 - բ) 3, 5, 7, 10 հաւասար մասերի եւայլն]

IV Ե Ռ Ա Ն Կ Ի Ի Ն Ի.

Իւրաքանչիւր մակերևոյթ պատած է բոլոր կողմերից գծերով և կոչվում է Վ թէ մակերևոյթը կոր է կամ ուղիղ (հարթ), այն ժամանակ ձևերը կոչվում են կոր կամ հարթ ձևեր։ Մենք կ'ընենք միայն հարթ ձևերը, կամ հարթ մակերևութի վերայ գծուած ձևերը։ Նայելով թէ ինչպիսի գծերով է շրջապատուած հարթ ձևը. — ուղիղ, կոր կամ խառն գծերով. — այն ժամանակ և ձևերը կոչվում են ուղղազիծ, կորազիծ և զանազանազիծ կամ խառնազիծ։ Նրջանը կորազիծ հարթ ձև է։ Ձևը շրջապատող գծերը կոչվում են նոյն ձևի փոքր և Վ թէ կողմերի թիւը 3 է, ձևը կոչվում է եռակողմ կամ եռանկիւնի, եթէ

կողմերը չորս են, — քառակողմն կամ քառանկիւնի՝ և այլն՝
Ամեն մի ձև, որ չորսից աւելի կողմն ունի՝ կոչվում է առհա-
սարակ ռազմանկիւն: Մենք կգնենք այժմ հարթ ուղղազիծ եռ-
անկիւնները, կարծութեան համար անուանելով նոցա միայն
եռանկիւնիք:


1) Եռանկիւնին (\triangle) ունի երեք կողմն և երեք անկիւն. նորա
կողմերի մէջ գտնվում է եռանկեան մակերևոյթը:

2) Իւրաքանչիւր երկու կողմերը խիստին կազմում են մի ան-
կիւն, իւրաքանչիւր կողմի դիմացը գտնվում է մի կողմն:

3) Կողմերը կարող են լինել բոլորը կամ միահաւասար երկայ-
նութեամբ, կամ երկուսը միայն մի հաւասար երկայնութեամբ,
կամ բոլոր երեքն էլ զանազան (անհաւասար) երկայնութեամբ.
այսպիսով եռանկիւնիները կլինին. — հաւասարակողմն, հաւասարաը-
րունք և անհաւասարակողմն:

Հաւասարաըրունք եռանկեան մէջ այն կողմը՝ որ հաւասար չէ
մնացեալ երկուսին՝ կոչվում է այդ եռանկեան խարխուլը, առանց
նորա դրութեանը նայելու: Ուրիշ տեսակ եռանկեանց մէջ ամեն
մի կողմն էլ կարելի է իբրև խարխուլ ընդունել: Խարխուլի (կամ
նորա շարունակութեան վերայ) դիմացը գտնուող անկեան գա-
զաթից թողնուած ուղղահայեաց գիծը կոչվում է եռանկեան
բարձրութիւնը:

4) Եթէ որ արգ եռանկեան մէջ բոլոր երեք կողմերն էլ հաւ-



Ձև 17.

ասար են՝ (Ձև 17 — ա) այն ժամանակ բոլոր երեք անկիւններն

էլ հաւասար են միմեանց, և ոչ մի պատճառով չեն կարող հա-
ւասար չլինել: Այս բանը կարող ենք աչքով էլ տեսնել: Հաւա-
սարակողմն եռանկիւնին հաւասարանկիւն էլ է, և հակադարձօ-
րէն. — երբ բոլոր անկիւնները հաւասար են, այն ժամանակ բո-
լոր երեք կողմերն էլ են հաւասար:


Եթէ որ դեղ եռանկեան մէջ դե = եզ կողմին (Ձև 17 — բ) ու-
րեմն և $\angle \eta = \angle \varrho$ այսինքն հաւասարաըրունք եռանկեան մէջ
խարխուլի վերայ գտնուած անկիւնները հաւասար են միմեանց,
և հակադարձօրէն:

Անհաւասարակողմն էրթ եռանկեան մէջ (Ձև 17 — գ) անկիւն-
ներն էլ են անհաւասար, բացի դորանից ինչպէս արդէն տե-
սանք, ըթ մեծ կողմի դիմացը գտնվում է և է մեծ անկիւնը, էթ
միջակ (մեծութեամբ) կողմի դ մացը գտնվում է միջակ ը ան-
կիւնը, և վերջապէս ըէ փոքր կողմի դիմացը — և փոքր թ ան-
կիւնը, և հակադարձօրէն:

5) Իւրաքանչիւր (ուղղազիծ) եռանկեան երկու կողմերի գու-
մարը մեծ է երրորդից. ըէ + էթ > ըթ: (Եթէ ը ից սկսեալ գնաց-
ուի մինչև թ ոչ ուղղապէս, այլ է ից անցնելով, այն ժամանակ
պէտք կլինի պտոյտ առնել):

6) Տեսնենք այժմ թէ եռանկեան բոլոր երեք անկեանց գու-
մարը ի՞նչն է հաւասար:

Սորա համար շարունակենք եռանկեան կողմերից մինը (Ձև 18)
և նորա (կողմի) ծայրակէտում հանդիպակաց կողմին մի զուգա-
հեռական գիծ քաշենք, այն ժամանակ —




$z = z$
 $q = \omega$
 $q = q$
 $z + \eta + q = \rho + \omega + q$ 1)
 $z + q + \rho = 2\theta$
 $\omega + \rho + q = 2\theta$

Ձև 18.

1) Գծի տակն գրվում է այն՝ ինչ որ մակարելում է վերեւ գրու-

Այսպէս ուրեմն ուղղագիծ եռանկեան անկիւնների գումարը հաս-
ասար է երկու ուղիղ անկեան:
Այլ ապացուցութիւն. (Ձև 19).



Ձև 19.

o = p
phi = psi
omega = omega

o + phi + omega = p + psi + omega

[Երրորդ ապացուցութեան համար պէտքէ շարունակել բոլոր
երեք կողմերը և ստանալ ապացուցութիւնը № 8 կանոնից:]

7) Այս կանոնից շատ հետեւանքներ են ծագում.
ա) Եթէ եռանկեան մէջ յայտնի են երկու անկիւնները, այն
ժամանակ յայտնի կլինի և երրորդը. օրինակ՝ [Թող մի անկիւնը
լինի = 3/4 Ո, միւսը = 4/5 Ո, այն ժամանակ երրորդը կլինի = 2 Ո -
(3/4 + 4/5) Ո:

Կամ, եթէ մի անկիւնը ունի 80°, իսկ միւսը 70°, այն ժա-
մանակ երրորդը կունենայ 180° - 150° = 30°:

բ) Հաւասարակողմն եռանկեան մէջ իւրաքանչիւր անկիւնը =
2/3 Ո = 60°:

գ) Եթէ հաւասարասրունք եռանկեան մէջ յայտնի է մի ան-
կիւնը, այն ժամանակ յայտնի են արդէն բոլոր անկիւնները: Եթէ
յայտնի եղած անկիւնը գտնուում է գագաթին (խարխսի դիմա-
ջը), այն ժամանակ հանելով նորան 2 Ո ից և աւանելով մնա-
նից. նա գործէ անվում «ապա ուրեմն» բառի տեղը:

ցորդի կէսը — կստանանք խարխսի վերայ գտնուած անկիւննե-
րից իւրաքանչիւրի մեծութիւնը: Իսկ եթէ յայտնի է խարխսի
վերայի մի անկիւնը, այն ժամանակ կհանենք նորա կրկնակի
մեծութիւնը 2 Ո ից ու կստանանք գագաթի վերայ գտնուած
անկեան մեծութիւնը:

դ) Եռանկեան մէջ կարող է լինել միայն մէկ ուղիղ անկիւն
և այն ժամանակ միւս երկուսը պէտքէ լինին սուր, այդպիսի
եռանկիւնին կոչվում է ուղղանկիւն եռանկիւնի:

ե) Եռանկեան մէջ կարող է լինել միայն մէկ բութ անկիւն,
և այն ժամանակ միւս երկուսը կլինին սուր. այդպիսի եռանկիւ-
նին կոչվում է բութանկիւն եռանկիւնի:

զ) Եռանկեան մէջ բոլոր երեք անկիւնները, որովհետեւ նոցա
գումարը = 2 Ո, կարող են լինել սուր. այդպիսի եռանկիւնին
կոչվում է սուրանկիւն: Այսպէս ուրեմն իւրաքանչիւր եռանկեան մէջ
լինում է ոչ պակաս երկու սուր անկիւնից:

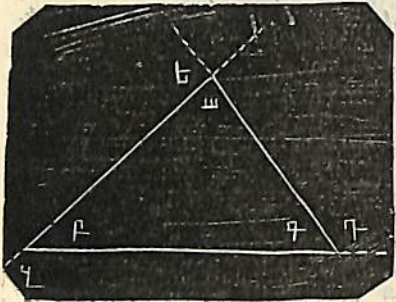
է) Որովհետեւ ամեն մի եռանկեան մէջ անպատճառ պէտքէ
լինի երկու սուր անկիւն, ուրեմն անյայտ է, որ երրորդ ան-
կիւնից է կախուած եռանկեան սուր անկիւն, ուղղանկիւն կամ
բութանկիւն լինելը:

ը) Հաւասարակողմն եռանկիւնին միշտ լինում է սուրանկիւն
Հաւասարասրունքը կարող է լինել բութանկիւն, ուղղանկիւն կամ
սուրանկիւն: Խարխսի վերայ գտնուած անկիւնները (հաւասարա-
սրունք եռանկեան մէջ) միշտ սուր են, սորա համար և եռան-
կեան ինչ տեսակ լինելը կախումն ունի գագաթի վերայ գտնու-
ուած անկիւնից. եթէ այդ անկիւնը բութ, ուղիղ կամ սուր է,
այն ժամանակ և եռանկիւնին կլինի բութանկիւն, ուղղանկիւն
կամ սուրանկիւն:

Անհաւասարակողմն եռանկիւնինները կարող են լինել երեք
տեսակիցն էլ: Ուղղանկիւն և բութանկիւն եռանկիւնինները կա-
րող են լինել միայն հաւասարասրունք և անհաւասարակողմն,
իսկ սուր անկիւն եռանկիւնին — հաւասարակողմն, հաւասարա-

պրունք և անհաւասարակողմն:

8) Նախալերջին ձևով (№ 6) մենք ստացանք $b = f$, $g = u$, ուրեմն $b + g = f + u$: Եթէ եռանկեան կողմերից մինը շարունակենք (Ձև 20), կստանանք արտաքին անկիւններ. ինչպէս օրինակ b , g , \dots անկիւնները:



Այսպէս ուրեմն, եռանկեան արտաքին անկիւնը հաւասար է ներքին այն երկու անկեանց գումարին, որք նորա հետ կից չեն: — Շարունակելով եռանկեան բոլոր երեք կողմերը, կստանանք.

Ձև 20.

$$\begin{aligned}
 g &= u + f \\
 b &= g + f \\
 a &= u + g \\
 \hline
 g + b + a &= u + f + g + f + u + g \\
 &= 2u + 2f + 2g \\
 &= 2 \cdot (u + f + g) \\
 &= 2 \cdot 2n = 4n,
 \end{aligned}$$


այսինքն եռանկեան արտաքին երեք անկիւնների գումարը $= 4n$: [Յանտուցիւն: Այս կանոններից շատերը կարելի է բացատրել ոչ միայն ձևերով, այլև, աւելի շոշափելի առնելու համար, ձոնտոնների կա՛մ ծծմբարների օգնութեամբ, ինչպէս անկիւնների, նոյնպէս եւ գծերի ու ձևերի վերաբերութեամբ: Աշակերտները պետք է պատրաստեն իւրեանց համար այդպիսի բարակ փայտեղ զանազան երկաթնութեամբ, բայց միեւնոյն հաստութեամբ, եւ նոցանից կազմեն ուսուցչի պատուիրած ձևերը: Ծծմբարները գործածելիս պէտք է ծծմբոտ ծայրերը կարել: Եթէ շրջունն այդ շիւղերը իւրեանց մի ծայրի շուրջը, այնպէս որ միւս ծայրը գծէր շրջապատ կամ կիսաշրջապատ, այն ժամանակ վերը սպաղուցուած կանոնները աւելի հասկանալի կդառնան:]

V ԵՐԿՈՒ ԵՌԱՆԿԻՆԻ.

1) Եթէ եռանկեան մէջ անցյենք կողմերից մէկին զուգահեռական մի ուղիղ գիծ (Ձև 21), կստանանք փոքր եռանկիւնի, որի միջև անկիւնները կլինին միեւնոյնները, ինչ որ մեծ եռանկեան մէջ: Հետեւաբար երկու եռանկիւնիներն էլ կունենան միակերպ ձև: Ձևի միակերպութիւնը կոչվում է նմանութիւն. այդ պատճառաւ և ստացած երկու եռանկիւնիները նման կլինին:

2) Հասկանալի է, որ երկու անմասն եռանկիւնիք էլ կարող են ունենալ հաւասար մակերևոյթ: Այդ դէպքում նոքա կոչվում են հաւասարաչափ, այսինքն՝ նոցա մակերևոյթները հաւասար են:

3) Իհարկէ կար դ է պատահել, որ երկու եռանկիւնիք ունենան միակերպ թէ մեծութիւն և թէ ձև. այնպէս որ մի եռանկիւնի իւր ամեն մասերով բոլորովին նման կլինի միւսին, և մէկը կարող է ծածկել միւսին իւր բոլոր համապատասխան մասերով. ձևակերպելով այդպիսով




Ձև 21.

մի եռանկիւնի միայն: Երկու այնպիսի եռանկիւնիներ, որ հաւասար մեծութիւն և հաւասար ձև ունենալով իրար կծածկեն՝ կոչվում են պատշաճական. իսկ նոքա, որք ձևով տարբեր են, բայց նոյն քանակութիւնը (մեծութիւնը) ունին՝ կոչվում են հաւասար: Պատշաճական եռանկեանց մէջ մէկ եռանկեան երեք կողմերից մէկը հաւասար է միւսի երեք կողմերից մինին, մէկ եռանկեան երեք անկիւններից մինը հաւասար է միւսի երեք անկիւններից մինին. նոցա մակերևոյթները մէկը միւսի վերայ է դալիս (ծածկվում). Եթէ նոցա հաւասար մասերը իրար վերայ դնենք,

այն ժամանակ նորա բոլորովին կծածկեն միմեանց:

Այժմ տեսնենք, թէ արդեօք յիշած նշանանոյցներից միքանիքը կախումն ունին միմեանցից՝ թէ ոչ. (երեք հաւասար կողմեր, երեք հաւասար անկիւններ և հաւասար մակերևոյթներ):

4) Առնենք Ա և Բ երկու հաւասար երկայնութեամբ ուղիղ գծեր (Ձև 22). նոցա ծայրերում կազմենք միմեանց հաւասար անկիւններ և անկեանց Գ և Դ կողմերը նոյնպէս միմեանց հաւասար կազմենք. մենք սորանով անկեանց կողմերի ծայրակէտերին կտանք միանման դրութիւն: Դոյն իսկ ծայրակէտերը որո-



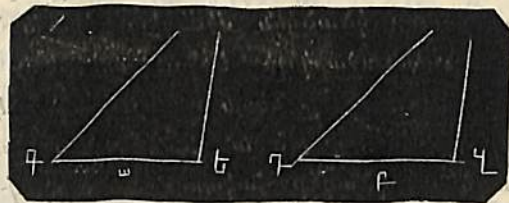
Ձև 22.

շում են և երրորդ գոյգ կողմերի դրութիւնը ու մեծութիւնը ապա ուրեմն և համապատասխան անկեանց մեծութիւնը: Երկու եռանկեանց միջ ևս բոլոր համապատասխան մասերը հաւասար կլինին միմեանց, դորա համար և եռանկիւնիների միմեանց վերայ դնելու ժամասակ, մէկի բոլոր մասերը կծածկեն միւսի բոլոր մասերին. Բ կծածկէ Ա ին, Գ — Դ ին և այլն: Եռանկիւնիները կծածկուին, նոքա հաւասարաչափ և նման են, (Տ). Ա և Բ, Գ և Դ հաւասար կողմերի դիմացի անկիւնները հաւասար են միմեանց, հաւասար են նոյնպէս Ն և Զ կողմերը, որք գտնուվում են հաւասար անկիւնների դիմաց:

Այսպէս ուրեմն, երկու եռանկիւնիներ պատշաճական են, եթէ նոքա ունին երկու հաւասար կողմեր, և եթէ այդ կողմերի մէջ գտնուող անկիւնները նոյնպէս հաւասար են (եռանկեանց հաւասարութեան առաջին կանոնը). կամ եռանկեան ձևը և մեծութիւնը որոշվում է երկու կողմերով և նոցա մէջ գտնուող

անկիւնով:

5) Թող Ա = Բ, $\angle \Gamma = \angle Դ$, $\angle Ե = \angle Զ$. այսինքն՝ թող կողմերը՝ իրանց վերայ գտնուող անկիւններով (Ձև 23) հաւասար լինին միմեանց. այն ժամանակ որոշուած կլինին և երկու եռանկեանց զազաթիւնը (անշուշտ այն պայմանով, որ $\Gamma + Ե < 2Ո$):



Ձև 23.

Այս կերպ ստացուած եռանկիւնիները եթէ միմեանց վերայ դնենք (Ա կողմը Բ կողմի վերայ և այլն), կծածկեն միմեանց. համապատասխան կողմերը կծածկուին, և ուրեմն եռանկիւնիները Տ. այս եռանկեանց մէջ ևս Ա և Բ հաւասար կողմերի դիմաց կգտնուին հաւասար անկիւններ, և Գ ու Դ, Ն և Զ հաւասար անկիւնների դիմաց կ'գտնուին հաւասար կողմեր:

Այսպէս ուրեմն եռանկիւնիները պատշաճական են, եթէ նոքա ունին մէկ հաւասար կողմն և երկու այդ կողմի վերայ գտնուող հաւասար անկիւններ (եռանկիւնիների հաւասարութեան երկրորդ կանոնը). կամ եռանկեան ձևը ու մեծութիւնը որոշվում է մէկ կողմով և դորա վերայ գտնուող երկու անկիւններով:

Չնշտ է նկատել, որ միւլենոյնը ստացդ է, եթէ յայտնի են մէկ կողմը, նորա վերայ գտնուող մէկ անկիւնը և նորա դիմացը երկրորդ անկիւնը. որովհետեւ այն ժամանակ սրոշուած կլինի կողմի վերայ գտնուող երկրորդ անկիւնն էլ: Սորա համար էլ եռանկիւնիների հաւասարութեան երկրորդ կանոնը կարելի է ամփոփել այսպէս:


Երկու եռանկիւնիներ պատշաճական են, եթէ նոքա ունին մի մի հաւասար կողմեր եւ երկու երկու նմանադիր անկիւններ:

Եռանկիւնիների հաւասարութեան վերջոյիշեալ երկու կանոնների հիման վերայ, այսինքն, եթէ տուած են կամ յայտնի են

երկու կողմերը և նոցա մէջ գտնուող անկիւնը, կամ մի կողմը և երկու անկիւնները (վերջին դէպքում նշանակելով, թէ երկու անկիւններն էլ առած կողմի վերայ են գտնվում, թէ միայն մէկ անկիւնը), այդ մասերով կարելի է կազմել միայն մի եռանկիւնի. իսկ եթէ կազմելու լինինք շատ եռանկիւնիներ, այն ժամանակ նորա բոլորը կծածկեն միմեանց (կլինին նոյնական եռանկիւնիները): Առաջարկելի երկու անկեանց մեծութիւնը կամայական չի կարող լինել. նոցա գումարը պէտքէ լինի $< 2\Omega$, որովհետեւ եթէ երկու առած անկիւնները ևս լինէին $=$ կամ $> 2\Omega$, այն ժամանակ կծագէր հակասութիւն, որովհետեւ եռանկեան միջև որևէ երկու անկիւնները իմաստն առած $< 2\Omega$:

[Այսպիսի սահմանները, որք զրոյում են մասերի կամ մեծութեանց համար՝ (կողմերի, անկիւնների և այլն), կոչվում են պայման:]

6) Քող առած լինի մեզ Ա, Բ, Գ երեք ուղիղ գծերի երկայնութիւնները (Ձև 24). բայց միևնոյն ժամանակ այնպէս որ նոցանից երկուսը իմաստն մեծ լինին երրորդից (պայման): Եթէ մենք Ա գծի մի որևէ ծայրակէտից գծենք մի աղեղ կարկնտով, որի սրունքների բացուածքի տարածութիւնը լինի $=$ Գ, իսկ Ա




Ձև 24.

գծի միւս ծայրակէտից — միւս աղեղը Բ գծի երկայնութեան բացուածքով, այն ժամանակ երկու աղեղները ևս կկտրուին մի կէտում, որը կորոշի (ցոյց կտայ) Ա գծի վերայ քաջած եռանկեան դազաթը և նորա միւս երկու կողմերի երկայնութիւնը. ապա ուրեմն յայտնի կլինին և բոլոր

մասերը — այդ եռանկեան ձևը և մեծութիւնը:
 Այսպէս ուրեմն եռանկեան ձևը և մեծութիւնը որոշվում է նորա երեք կողմերի մեծութեամբ:
 Եռանկիւնիների հաւասարութեան այս կերպ ստացուած եր-

բորդ կանոնի ստուգութիւնը կարելի է ապացուցանել յետևեալ կերպով ևս:

Քող երկու եռանկեանց մէջ էլ զոյգ զոյգ վերջրած առանձին (համաչափօրէն դրուած) կողմերը հաւասար լինին միմեանց ԲԳ = ԵԶ և այլն). (Ձև 25): Եթէ մենք ունենայինք որևէ մի (զոյգ անկեանց հաւասարութիւնը, այն ժամանակ եռանկեանց հաւասարութեան առաջին կանոնը յարմար կլինէր այս դէպքում: Գնելով ԵԶ կողմը ԲԳ կողմի վերայ, Ե անկիւնը Բ անկեան



Ձև 25.

վերայ, Զ անկիւնը Գ անկեան վերայ, երևակայենք որ ԴԵԶ եռանկիւնին ստացել է ԵԲԳ դրութիւնը. և քաջենք ԱԵ ուղիղ զիճը. այն ժամանակ կստանանք ԱԲԵ և ԱԳԵ հաւասարասրունք եռանկիւնիները, որք ունին իմաստն ԱԵ մի ընդհանուր խորիսխ. ապա ուրեմն ԱԵ խորիսխի վերայի անկիւնները իւրաքանչիւր եռանկեան մէջ պէտքէ հաւասար լինին միմեանց, կնշանակէ թէ՛ և ամբողջ $\angle Ա =$ ամբողջ $\angle Ե$, որը $= \angle Գ$: Այսպէս ուրեմն՝

Եթէ մի որևէ եռանկեան երեք կողմերը ջոկ ջոկ հաւասար են միւս եռանկեան երեք կողմերին, այն ժամանակ եռանկիւնիները հաւասար են:

Այսպիսի եռանկեանց մէջ հաւասար են նոյնպէս և այն անկիւնները, որք գտնվում են հաւասար կողմերի դիմաց (կամ որք պարունակվում են հաւասար կողմերի մէջ):

- Եւ այսպէս՝ եռանկեան ձևը և մեծութիւնը որոշվում է՝
- 2 կողմերով և նոցա մէջ պարունակող անկիւնով,
- 1 կողմով և 2 անկիւններով,
- 3 կողմերով:

Պատժէ 2 եռանկիւնիներ պատշաճական են, երբ հաւասար են միմեանց նոցա՝

2 կողմերը և նոցա մէջ պարունակուող անկիւնը,

1 կողմը և երկու նմանադիր անկիւնները,

3 կողմերը:

Այս բոլոր դէպքերումն էլ բոլոր համապատասխան մասերը հաւասար են միմեանց, հաւասար կողմերի դիմաց զանկում են հաւասար անկիւններ, իսկ հաւասար անկիւնների դիմաց հաւասար կողմեր, այնպէս որ՝ խմանալով մէկ հաւասարութիւնը, գիտենք, որ կայ և միւրը:

7) Հաւասարասրունը եռանկեանց վերաբերութեամբ յետագայ կանոնների ստուգութեանը կարելի է հաւաստիանալ, զննելով յառաջացած եռանկիւնիքը:

1. Այն ուղղահայեացը, որ կանգնում է եռանկեան խարիսխի մէջտեղին, անցնում է դիմացի զազաթից և բաժանում է այդ զազաթի մօտ եղած անկիւնը երկու կէս:

2. Այն ուղղահայեացը, որ իջնում է զազաթից եռանկեան խարիսխի վերայ, կտրում է խարիսխը նորա մէջտեղում, ուղղահայեաց է լինում խարիսխին և բաժանում է զազաթի անկիւնը երկու կէս:

3. Այն ուղիղ գիծը, որ միացնում է զազաթը խարիսխի մէջտեղին, ուղղահայեաց է խարիսխին և կիսում է զազաթեանկիւնը:

4. Գազաթեանկիւնը կիսող ուղիղ գիծը խարիսխն էլ է կիսում և ուղղահայեաց է նորան:

8) Կանոնաւոր ձև կոչվում է այն ձևը, որի կողմերը և անկիւնները հաւասար են միմեանց: Սորա համար և հաւասարակողմն եռանկիւնին կանոնաւոր եռանկիւնի է:

9) 1. Ուղղանկիւն եռանկեան մէջ ուղիղ անկեան դիմացի գիծը կոչվում է ներքնածիր, իսկ այն կողմերը՝ որք կազմում են իրանց մէջ ուղիղ անկիւն — էքեր:

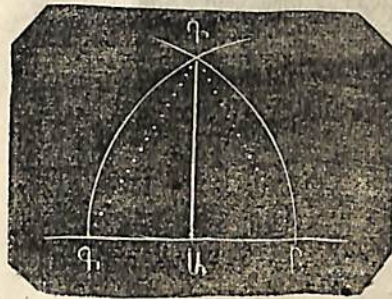
2. Նթէ երկու ուղղանկիւն եռանկեանց մէջ նմանադիր որևէ երկու գոյգ կողմերը հաւասար են, այն ժամանակ այդպիսի

եռանկիւնիները հաւասար են միմեանց:

10 Խնդիրներ:

1. Ուղիղ գծի վերայ տուած կէտից նորա վերայ ուղղահայեաց գիծ քաշեցէք:

Սորա համար տուած կէտից ԱԲ գծի վերայ երկու կողմերում որևէ երկայնութեամբ նշանակում են երկու հաւասար մասեր (Ձև 26). Գ կէտից սկսեալ ԳԲ գծով, իսկ Բ կէտից սկսեալ ԲԳ գծով աղեղներ են քաշում, որք ընդհատվում են (ԱԲ գծի վերևում և ներքևում) մի կէտում, Գ կէտում. միացնելով Գ կէտը Ա կէտի հետ, ստանում են ԴԱ գիծը, որը և կլինի ԳԲ ին



ուղղահայեաց. որովհետև.

Ձև 26.

ԳԱ = ԲԱ

ԳԴ = ԳԲ = ԲԴ

ԴԱ = ԴԱ

կամ. ԳԴ = ԳԲ = ԴԲ

∠Գ = ∠Բ

ԳԱ = ԲԱ

△ ԳԱԴ ≅ △ ԲԱԴ

△ ԴԳԱ ≅ △ ԴԲԱ

∠ԳԱԴ = ∠ԲԱԴ

∠ԴԱԴ = ∠ԴԱԲ

ԴԱ ուղղահայեաց է.

ԴԱ ուղղահայեաց է.

2. Բաժանեցէք տուած ուղիղ գիծը 2 հաւասար մասերի: Ա և բ ծայրակէտերից աք գծով աղեղներ ենք քաշում, որք կկտրուին գ և դ երկու կէտերում (Ձև 27), ուղիղ գծի երկու կողմերում. միացնելով գ կէտը դ կէտի հետ ուղիղ գծով, կբաժանենք նորանով աք ը ե կէտում երկու հաւասար մասերի:

և յիրաւի

ԳԷ = ԳԴ

Գա = Գբ

Դա = Դբ

} = ար

△ գադ ∽ △ գբդ


∠ ադդ = ∠ բգդ

∠ գաե = ∠ գբե

գա = գբ = ար

△ գաե ∽ △ գբե

աե = բե



Ձև 27.

Յաւելուած: Այս միւսնոյն կերպ վարուելով աե և բե ուղիղ գծերի հետ, կարող ենք բաժանել ար ուղիղ գիծը չորս հաւասար մասերի և այլն:

3. Ուղիղ գծից դուրս՝ տուած կէտից թողք ուղիղ գծի վերայ ուղղահայեաց:

Տուած կէտից (Ձև 28) մի աղեղ են քաշում, որ ընդհատում է տուած ուղիղ գիծը 2 կէտերում. բաժանում են այդ երկու կէտերի մէջ պարունակող ուղիղ գիծը 2 հաւասար մասն, և միացնելով մէջտեղը տուած կէտի հետ, ստանում են ուղղահայեաց. որովհետև,—

ար = ագ


բԷ = գԴ

∠ արգ = ∠ ագդ

△ արգ ∽ △ ագդ

∠ ադբ = ∠ ադգ

այդ ուղղահայեաց է:



Ձև 28.

4. Տուած անկիւնը կիսեցէք: Անկեան Ա գազաթից կամուռ որ գծով կքաշենք աղեղ, կանցցենք ԲԳ ուղիղ գիծը (Ձև 29), և բաժանելով նորան երկու հաւասար մասն, կքաշենք ԱԲ. այս

ուղիղ գիծը կբաժանէ Ա անկիւնը երկու հաւասար մասերի. որովհետև

ԲԳ = ԳԲ

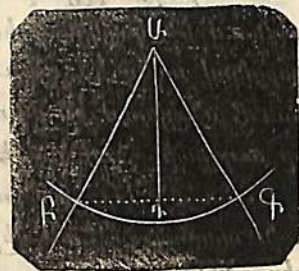
ԲԱ = ԳԱ

ԳԱ = ԳԱ

△ ԱԲԳ ∽ △ ԱԳԲ

∠ ԲԱԳ = ∠ ԳԱԲ

∠ ա բաժանուած է երկու հաւասար մասերի:




Ձև 29.

Յաւելուած: Նոյն կերպ վարուելով Ա անկեան կէտերի հետ, կբաժանենք ամբողջ Ա անկիւնը չորս հաւասար մասերի և այլն:

[Մանսնութիւն: Նուանկեան բարձրութիւն կոչվում է այն ուղղահայեացը, որ թողնվում է նորա միտքէ և անկեան գազաթից՝ դիմացի կողմի վերայ: Այդ բարձրութիւնը ստանալու համար շատ անգամ պէտքէ լինում կողմն շարունակել:

Այն կողմը, որի վերայ և թողում է ուղղահայեացը— կոչվում է եռանկեան խարիսխը: Նուանկեան կողմերից իւրաքանչիւրը կարելի է խարիսխ ընդունել]:

5. Կազմել (երկրաչափօրէն, և ոչ մեքենայօրէն) տուած անկեանը հաւասար մի այլ անկիւն:



Ձև 30.

Պահանջվում է բ կէտում բո ուղիղ գծի վերայ կազմել ա անկեանը հաւասար բ անկիւնը:

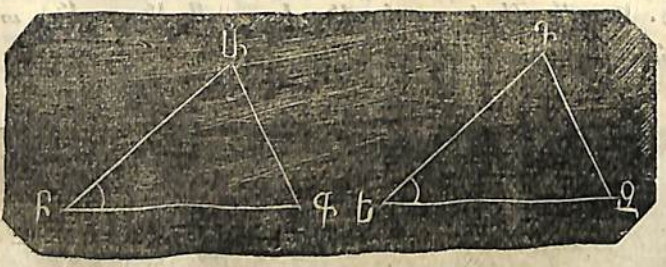
ա և բ կետերից գծում են նոյն կամուր դծով աղեյներ. առնում են կարկինով եր երկայնութիւնը (Ձև 30) և է կետից նորանով աղեղ են գծում, որը կկտրի առաջին աղեղին զ կէտում. անցնում են բզ ուղղ զիծը. այն ժամանակ $\angle բ = \angle ա$, որ ուղղակի հետևում է եռանկյունների հաւասարութիւնից:

6. Տուած կէտից մի ուղղ զիծ անցուցէք, որ շարունակուէր նոյն տարածութեան վերայ և լինէր զուգահեռական միւս ուղղ զծին:

Տուած Ա կէտից անցնում են առած զծին կամուր ԱԲ ուղղ զիծը, ԱԲ զծի վերայ Ա կէտում կազմում են (նախկին կազմութեան համաձայն) $\angle Ա = \angle ԱԲԳ$. այն ժամանակ ԱԳ || ԲԳ:

7. Կազմել տուած ԱԲԳ եռանկեանը մի այլ հաւասարաչափ և նման (Տ) եռանկիւնի:

Սորա համար օգուտ են քաղում եռանկյունների հաւասարութեան կանոնների մինից. կամ կազմում են $\angle Ե = \angle Բ$, $\angle ԵԳ = \angle Ա$, և անցնում են ԳԶ. կամ կազմում են



Ձև 31.


$\angle ԵԶ = \angle ԲԳ$, $\angle Ե = \angle Բ$ և $\angle Զ = \angle Գ$, կամ թէ առնում են $\angle ԵԶ = \angle ԲԳ$ և գծում են աղեղներ Ե կէտից ԲԱ գծով, իսկ Զ կէտից ԳԱ գծով

[Մանթուսիւն 1. Սորանից երևում է, որ խնդիրը լուծելու համար կարելի է բոլորովին օգուտ քաղել եռանկեան անկիւններից, բայց չէ կարելի երբէք չօգտուիլ կողմերով, հարկաւոր է

օգտուիլ գոնէ մէկ կողմով: Գործնականապէս առաւել լաւ է եռանկիւնի կազմել երբէք կողմերով, որովհետև կարկինով գծերը առաւել ճիշտ կարելի է վերցնել, քան թէ անկիւնաչափով անկիւնները

Մանթուսիւն 2. Եթէ ցանկանում են կազմել մի եռանկիւնի, որ նման լինի միայն տուած եռանկեանը՝ այն ժամանակ բաւական է միայն անցնել նորա մէջ իւր կողմերից մէկին զուգահեռական զիծ: Թէ ինչպէս պէտք է մի եռանկիւնի կազմել, որ հաւասարաչափ լինի տուած եռանկեանը (այսինքն՝ որ ունենայ տուած եռանկեան մակերևութի հետ միահաւասար մակերևոյթ)՝ դա ցոյց կտրուի յետոյ:

8. Գտնել ԱԲ ուղղ զծի երկայնութիւնը, որին չի կարելի ուղղ կերպով չափել: (Երբ օրինակ նորա ծայրակէտերի արանքում գտնվում է լիճ կամ ճահիճ):



Ձև 32.

[Նկատողութիւն: Այս օրինակից երևում է, որ կարելի է գիտնալ մեծութիւնները, չչափելով նոցա ուղղակի. այս կարող է մի կերպ բացատրել, թէ ինչպէս են չափում աստղաբաշխութեան մէջ տարածութիւնները:]

Ո՞ր զոգոն այդ յիշմանիմա զոյոգ մտքիմա ուրջ խոյոյր/ (1)

Յ Ա Ի Ե Լ Ո Ի Ա Ծ:

[Գործիքների օգնութեամբ գծելը մի շատ օգտակար վարժութիւն է:

1. Կազմեցէք հաւասարակողմն եռանկիւնի, երբ տուած են.

ա) մէկ կողմը, բ) բարձրութիւնը:

2. Կազմեցէք հաւասարատունք եռանկիւնի, երբ տուած են.

- ա) խարիսխը եւ անկիւններից մէկը,
- բ) հաւասար կողմերից մինը եւ մէկը անկիւններից,
- գ) խարիսխը եւ բարձրութիւնը,
- դ) խարիսխը եւ հաւասար կողմերից մէկը,
- ե) հաւասար կողմերից մէկը եւ բարձրութիւնը:

3. Կազմել ուղղանկիւն հաւասարատունք եռանկիւնի՝ երբ տոգած են.

ա) մէկը էջը, բ) ներքնածիզը եւ գ) բարձրութիւնը:

4. Կազմեցէք բութանկիւն եւ սուրանկիւն — հաւասարատունք եռանկիւնիներ պահանջուած բարձրութեամբ:

5. Կազմեցէք ուղղանկիւն եռանկիւնի, երբ տուած են.

- ա) մէկ էջը եւ մէկ սուր անկիւնը,
- բ) ներքնածիզը եւ մէկ սուր անկիւնը,
- գ) մէկ էջը եւ ներքնածիզը,
- դ) ներքնածիզը եւ բարձրութիւնը:

Վ Ի Բ Ա Ռ Ա Ն Կ Ի Ի Ն Ի.


Չորս կողմերով սահմանափակուած ձևը կոչվում է քառանկիւնի: Մենք այստեղ կ'ընենք հարթ ուղղազիծ քառանկիւնիները, որք ունին ուրեմն՝ 4 ուղղազիծ անկիւններ, հետեւաբար և 9 մասեր. 4 կողմեր, 4 անկիւններ և մէկ մակերևոյթ:

1) Այդպիսի քառանկեան բոլոր անկիւնների գումարը = 4 Ո:

Այն դիժը, որ միացնում է 2 դէմառդէմ գտնուած անկիւնները՝ ք անկիւնադիժը, բաժանում է քառանկիւնին երկու եռանկիւնիների. իւրաքանչիւր եռանկեան միջի անկեանց գումարը = 2 Ո. ուրեմն քառանկեան միջի անկիւնների գումարը = 2. 2 Ո = 4 Ո:

2) Երբ քառանկեան իւրաքանչիւր անկեան մէկ կողմը շարունակենք (Ձև 33), կստանանք 4 արտաքին անկիւններ, որոց գումարը հաւասար է նոյնպէս 4 Ո:

Քառանկեան իւրաքանչիւր արտաքին անկիւնը իւր հետ կից ներքին անկեան հետ իմիասին՝ կազմում է 2 Ո, բայց որովհետեւ բոլոր անկիւնների թիւը 4 է, ուրեմն ներքին և արտաքին անկիւնների գումարը կլինի = 4. 2 Ո = 8 Ո. ուրեմն միայն արտաքին անկիւնների գումարը = 4 Ո:



Ձև 33.

3) Ի՞նչ մեծութիւն կարող են ունենալ քառանկեան ներքին անկիւնները առանձին առանձին:

Առաջին կանոնին համաձայն, ներքին անկիւնների գումարը = 4 Ո, որտա համար էլ քառանկեան բոլոր 4 անկիւնները չեն կարող բութ կամ սուր լինել: Ուշադրութեամբ քննելով կգտնենք, որ նորա մէջ միանգամայն և եթ կարող են լինել —

Բարձր	Բութ	Ուղիղ	Սուր
1	1	—	2

Բարձր	Բուժ	Ուղեղ	Սուր
1	—	1	2
1	—	—	3
—	3	—	1
—	2	1	1
—	1	2	1
—	1	1	2
—	1	—	3
—	—	1	—

Հնդամենը 9 դեպք է, որ կարելի է պարզել ձևերի միջնորդութեամբ:

Ուրեմն քառանկյունները կարող են լինել ուղղանկյունների, բայց ոչ բութանկյունների և ոչ սուրանկյունների. քի՛ ոչ այնպիսիք, որոց մէջ բոլոր տրս անկյունները լինէին բութ կամ սուր:

4) Ահնայտնի է, որ քառանկյան կողմերը կարող են լինել՝ կամ բոլոր 4, կամ միայն 3, կամ 2, հաւասար մեծութեան, կամ թէ բոլորը ևս զանազան մեծութեան:

Քառանկյան մէջ մէկ կամ երկու զոյգ հանդիպակաց կողմերը կարող են զուգահեռական լինել միմեանց. վերջին դեպքում քառանկյունին կոչվում է զուգահեռագիծ. իսկ եթէ միայն երկու հանդիպակաց կողմերն են զուգահեռական, իսկ միւս երկուսը զուգահեռական չեն, այդպիսի քառանկյունին կոչվում է սեղան:


Այն քառանկյունին, որի բոլոր 4 կողմերը և 4 անկյունները հաւասար են միմեանց (իւրաքանչիւր անկյունը = 90) կոչվում է քառակուսի:

Այն քառանկյունին, որի միայն հանդիպակաց կողմերը հաւասար են, իսկ բոլոր անկյունները ուղիղ, կոչվում է ուղղանկյուն քառանկյունի:

Այն քառանկյունին. որի բոլոր կողմերը հաւասար են միմեանց, բայց հանդիպակաց անկյուններից մի զոյգը սուր, իսկ միւսը բութ են՝ կոչվում է շեղական:

Այն քառանկյունին, որի հանդիպակաց կողմերը միայն հաւա-

սար են, իսկ անկյունները սուր և բութ են՝ կոչվում է շեղանկյուն:



Ձև 31.

5) Եւրաքանչիւր զուգահեռագծի մէջ հանդիպակաց կողմերը և անկյունները հաւասար են միմեանց (Ձև 31): Եթէ մի անկյունագիծ քաշենք՝ նա կդառնայ ընդհանուր կողմն, իսկ ներքին փոփոխ անկյունները.

$$\angle \alpha = \angle \gamma$$

$$\angle \theta = \angle \psi$$

երկու եռանկյունները ևս հաւասար են միմեանց:

$$a = c, b = d, \angle \alpha = \angle \gamma$$

$$\angle \theta + \angle \alpha = \angle \psi + \angle \gamma$$

6) Անցնելով զուգահեռագծի մէջ երկու անկյունագծեր, կը ստանանք 4 եռանկյունիք, որոնցից հանդիպակացները հաւասար կլինին միմեանց, որովհետեւ նոքա ունին մի մի հաւասար կողմն և նոցա վերայ երկու երկու հաւասար անկյուններ:

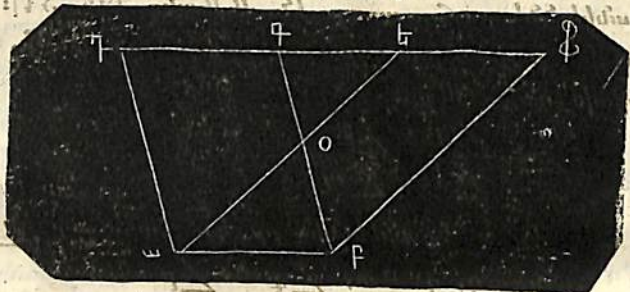
Ցուեալ: Անկյունագծերը բաժանում են միմեանց երկու հաւասար մասերի:

7) Եթէ քառանկյան մէջ հանդիպակաց կողմերը զոյգ ընդ զոյգ հաւասար են միմեանց, այն ժամանակ նա կհեռուի զուգահեռագիծ: Որովհետեւ եթէ անցնենք մի անկյունագիծ, այն ժամանակ կստանանք երկու միմեանց հաւասար եռանկյունիք, որոնցից և հետեւում է անկյունների հաւասարութիւնը, բայց որովհետեւ այդ անկյունները կլինին փոփոխներ, ուրեմն կողմերը || են:

Ընդմեջ 7.

Յաւելուած: Իւրաքանչիւր քառանկիւնի կլինի զուգահեռագիծ.

- ա) եթէ որևէ երկու հանդիպակաց անկիւնները հաւասար են,
- բ) եթէ միորեւիցէ անկիւն իւր դրակից 2 անկիւններից մինի հետ՝ տալիս է գումար = 2 Ո,
- գ) եթէ որ քառանկեան երկու հանդիպակաց կողմերը հաւասար և զուգահեռական են միմեանց:
- դ) եթէ որ անկիւնագծերը միմեանց կիսում են:
- 8) երկու զուգահեռագծեր, որք գտնվում են ար մի ընդհանուր խարխիսի վերայ (Ձև 35) և ար ու դՖ միևնոյն երկու զուգահեռական գծերի մէջ, միահաւասար մակերևոյթ են բռնում (սահմանափակում) ի հաւասարաչափ են:

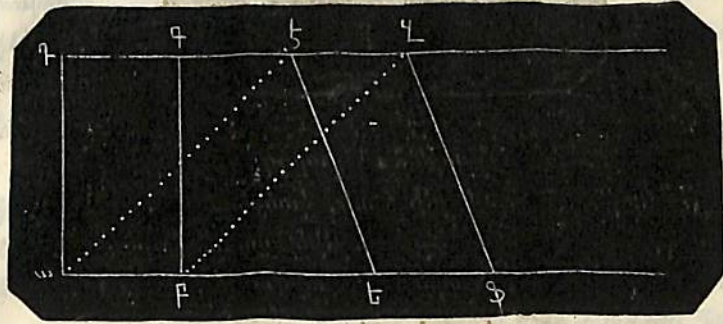


Ձև 35.

Δ ադե Մ Δ բգՖ, իրաց առնելով երկու եռանկիւնիներից ևս իւրեանց համար դօե ընդհանուր մասը (մակերևոյթը և աւելացնելով երկուսի վերայ ևս օտր մակերևոյթը, կստանանք արդդ = արՖն: (եթէ հաւասար քառանկութիւններից 'ի բաց առնենք հաւասար քանակութիւններ, այն ժամանակ նորա կմնան կրկին հաւասար, և եթէ հաւասար քանակութեանց վերայ աւելցնենք հաւասար քանակութիւններ, այն ժամանակ ևս կստացուին միմեանց հաւասար քանակութիւնք):

[Ծանօթութիւն: Ե կէտը ձևի վերայ ընկած է գ կէտի աջ կողմում, բայց նա կարող է ծածկել գ ին կամ ընկնել գ կէտի ձախ կողմում, Ե կէտի այրպիսի դրութեանց համար, որք կհարկաւորին կազմել, ապացուցութիւնքը այնքան հեշտ են, որքան և նախընթացները:]

9) Նախընթաց կանոնը ստոյգ է և այն ժամանակ, երբ երկու զուգահեռագծերը ևս կուենան հաւասար խարխիսներ և կգտնուին միևնոյն զուգահեռական գծերի մէջ. օրինակ, ար = եՖ և աՓ || դզ (Ձև 36):



Ձև 36.

Եթէ քաշենք աէ և բզ ուղիղ գծերը, այն ժամանակ կկազմուի արդէ ձևը, որ կուենայ առաջին զուգահեռագծի հետ ար ընդհանուր խարխիսը, իսկ երկրորդի հետ էզ ընդհանուր կողմը. ար = ու || էզ, աէ կլինի || բզ. որովհետև


$$\begin{array}{l} \triangle \text{արէ} \cong \triangle \text{բզդ} \\ \angle \text{աէզ} = \angle \text{բզդ} \end{array}$$

$$\text{աէ} \parallel \text{բզ}$$

արդէ զուգահեռագիծ է,

որ հաւասար է արդդ և եՖզէ երկու զուգահեռագծերին. ուրեմն և վերջինները հաւասար են միմեանց: (Եթէ երկու քանակութիւնք առանձին առանձին հաւասար են երրորդին, այն ժամանակ նորա հաւասար են միմեանց):

10) Եթէ եռանկիւնին ունի զուգահեռագծի հետ ընդհանուր կամ հաւասար խարխիս, և եթէ երկուսը ևս գտնվում են միևնոյն զուգահեռական ուղիղ գծերի մէջ, այն ժամանակ եռանկեան մակերևոյթը կլինի = զուգահեռագծի մակերևութի կէտին (Ձև 37):



Ձև 37.

Δ արև = 1/2 արգդ

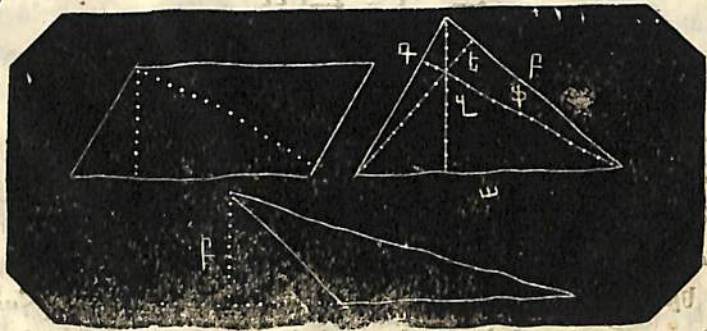
Անցնելով բՖ || աե, կտանանք

արգդ զուգահեռագիծը = արՖե զուգահեռագծին

Δ արև = 1/2 արՖե

Δ արև = 1/2 արգդ:

Յանելուած: Զուգահեռագծի բարձրութիւնը համարվում է այն ուղղահայեացի երկայնութիւնը, որ թողնվում է նորա մի կողմից մինչև իւրեան հանդիպակաց կողմի վերայ, իսկ եռանկեան բարձրութիւնն է, ինչպէս արդէն վերը յիշելիք՝ այն ուղղահայեացի երկայնութիւնը, որ թողնվում է մի որևէ անկեան գագաթից հանդիպակաց կողմի կամ նորա շարունակութեան վերայ:



Ձև 38.

Իւրաքանչիւր զուգահեռագծի մէջ կարելի է ամեն մի կողմը իբր խարխիս ընդունել. այն ուղղահայեացը, որ թողնվում է նորա (խարխիսը) վերայ հանդիպակաց կողմի վերայի մի որևէ

կէտից, կլինի զուգահեռագծի բարձրութիւնը: Եթէ ա կողմը ընդունելք իբր եռանկեան խարխիս (Ձև 38), այն ժամանակ զ կլինի նորա բարձրութիւնը. եթէ բ է նորա խարխիսը, այն ժամանակ է կլինի բարձրութիւնը, եթէ գ — խարխիսը, բարձրութիւնը կլինի ֆ: Եթէ բուժանկլին եռանկեան մէջ իբր խարխիս ընդունուած է ա կողմը, այն ժամանակ նորա բարձրութիւնը կլինի բ ուղիղ գիծը, որ գտնվում է եռանկեանուց դուրս:

Որովհետև զուգահեռական գծերը իւրեանց բոլոր շարունակութեամբ միտչափ հեռաւորութիւն ունին միմեանցից, ուստի և զուգահեռական գծերի մէջ գտնուող զուգահեռագծերը և եռանկեանները ունին հաւասար բարձրութիւնք: Այդ պատճառաւ և նախընթաց կանոնները կարելի է ձևակերպել այսպէս.

Հաւասար խարխիսներ և բարձրութիւններ ունեցող զուգահեռագծերը հաւասարաչափ են, իսկ եռանկեանց մակերևոյթները հաւասար են այն զուգահեռագծերի մակերևոյթների կէտին, որք ունին նոցա հետ հաւասար խարխիսք ու բարձրութիւնք:

11) Ի՞նչն է հաւասար ուղղագիծ բազմանկեան բոլոր ներքին անկիւնների գումարը. (քանի՞ ուղիղ անկեան են հաւասար նոքա բոլորը խիստին առած):

Եթէ առնենք բազմանկեան մէջ մէկ որևէ կէտ և միացնենք



նորան ուղիղ գծերով բոլոր անկիւնների գագաթներին (Ձև 39) այն ժամանակ բազմանկլինին կլաժանուի այնքան եռանկլինների, որքան և նա կողմն ունի. օրինակ վեցանկլինին կբաժանուի 6 եռանկլինների:

Ձև 39.

Իւրաքանչիւր եռանկեան մէջ անկիւնների գումարը = 2 Ո, սո-

րա համար և 6 եռանկեանց մէջ բոլոր անկիւնների գումարը կլինի $= 6 \cdot 20 = 120$ Ո: Բայց ներքին կէտի շուրջ գտնուող 6 անկիւնները չեն պատկանում վեցանկիւնու անկիւններին, որոնք համար և այդ անկիւնները պէտքէ հանել 120 Ո-ից. իսկ մէկ կէտի շուրջ գտնուող անկիւնների գումարը $= 4$ Ո: Ուրեմն վեցանկիւն բազմանկեան ներքին անկիւնների գումարը հաւասար կլինի $(12 - 4) \cdot 20 = 80$ Ո:

Միւս կերպով ներքին անկիւնների գումարը

Տօթնանկիւն բազմանկեան	$= 7 \cdot 20 - 40 = 100$ Ո:
Ութնանկիւն	$= 8 \cdot 20 - 40 = 120$ Ո:
Մասնանկիւն	$= 9 \cdot 20 - 40 = 140$ Ո:
Տասնանկիւն	$= 10 \cdot 20 - 40 = 160$ Ո:
Քսանանկիւն	$= 20 \cdot 20 - 40 = 360$ Ո:
Հարիւրանկիւն	$= 100 \cdot 20 - 40 = 1960$ Ո:
Փ — անկիւն	$= (\Phi \cdot 2 - 4) \cdot 20$

Մ' բազմանկեան ներքին անկիւնների գումարը քանի' ուղիղ անկեան հաւասար լինելու գտնելու համար, պէտքէ կողմերի (կամ անկիւնների) թիւը բազմապատկել 2 ով և հանել 4:

Այս միւս կերպով կարելի է և վճռել, անցնելով մի անկեան դադաթից անկիւնադձեր և այսպիսով բաժանել բազմանկիւնին եռանկիւնիների: Այն ժամանակ մենք կստանանք այնքան եռանկիւնիներ, որքան և կողմեր ունի բազմանկիւնին, միայն առանց երկուսի: Քառանկիւնին կբաժանուի ուրեմն երկու, հինգանկիւնին երեք, տասնանկիւնին ութը, Փ — անկիւնին $\Phi - 2$ եռանկիւնիների: Որովհետև եռանկեան անկիւնների գումարը $= 20$, ուստի և անկիւնների թիւը

քառանկեան մէջ	$= 2 \cdot 20 = 40$,
հինգանկիւնու	$= 3 \cdot 20 = 60$,
վեցանկիւնու	$= 4 \cdot 20 = 80$,
տասնանկիւնու	$= 8 \cdot 20 = 160$,
Փ — անկիւնու	$= (\Phi - 2) \cdot 20 = (2\Phi - 4) \cdot 20$

Կանոն. կողմերի թուից պէտքէ հանել 2, և քննարկող

բազմապատկել 2 ով: Եթէ որ բազմանկիւնին կանոնաւոր է, ինչ էնորա մէջ բոլոր կողմերը և անկիւնները հաւասար են միմեանց, այն ժամանակ իւրաքանչիւր անկիւնը կունենայ հետեւեալ մեծութիւնները. որովհետև բոլոր անկիւնների գումարը


եռանկեան մէջ	$= 20$, ուրեմն իւրաք. $= \frac{2}{3} \cdot 20 = 60^\circ$:
քառանկեան	$= 40$, " " $= \frac{4}{4} \cdot 20 = 90^\circ$:
հինգանկիւնու	$= 60$, " " $= \frac{6}{5} \cdot 20 = 180^\circ$:
վեցանկիւնու	$= 80$, " " $= \frac{8}{6} \cdot 20 = 120^\circ$:
տասնանկիւնու	$= 160$, " " $= \frac{16}{10} \cdot 20 = 144^\circ$:

Այս կերպով ահա, աւելացնելով կանոնաւոր ձևի կողմերի թիւը, աւելանում է և նորա անկիւնների մեծութիւնները:

Կանոնաւոր բազմանկեան իւրաքանչիւր անկեան մեծութիւնը գտնելու համար, նախ պէտքէ գտնել նորա բոլոր ներքին անկիւնների գումարը և բաժանել նորան կողմերի թուի վերայ: Թրինակ' կանոնաւոր քսանանկիւնու մէջ բոլոր անկիւնների գումարը հաւասար է $20 \cdot 20 - 40 = 360$. ուրեմն իւրաքանչիւր անկիւնը հաւասար է $\frac{20 \cdot 20 - 40}{20} = 20$ Ո. Փ — անկիւնա-

նու մէջ իւրաքանչիւր անկիւնը հաւասար է $\left(\frac{\Phi \cdot 2 - 4}{\Phi} \right) \cdot 20$

Յուսելուած 1. Եթէ անցնելու լինինք կանոնաւոր բազմանկեան միջնակէտից բոլոր անկիւնների դադաթներին ուղիղ գծեր, այն ժամանակ մենք կբաժանենք բազմանկիւնին այնքան հաւասար եռանկիւնիների, որքան և կողմեր ունի նա: Այս դէպքում հեշտ է որոշել այն անկիւնների մեծութիւնը, որք գտնվում են միջնակէտում (միջին կէտում) (կենդրոնական



2 և 40. անկիւնների): Յուսելուած 2. Նոյնպէս հեշտ է որոշել այն անկիւնների թիւը, որք կստացուին 4, 5, 10, Փ — անկիւնիներում, եթէ շարունա-

կենք բազմանկեան կողմերը մէկ ուղղութեամբ (Ձե 10):

Այդ արտաքին անկիւնների գումարը բոլոր ուղղագիծ ձևերի համար (սկսած նոյնպէս և եռանկիւնուց) հաւասար է 4 Ո:

Եթէ ձևը ունի Φ կողմեր, այն ժամանակ բազմանկեան ներքին անկիւնների գումարը կլինի ($\Phi - 2 - 4$) Ո. այդ բազմանկեան ներքին և արտաքին անկիւնների գումարը = $\Phi - 2$ Ո, ուրեմն միայն նորա արտաքին անկիւնների գումարը հաւասար կլինի 4 Ո:

[Յաւելում: Եւրաքանչիւր ուղղագիծ ձևի արտաքին անկիւնների գումարը չորս ուղեղին հաւասար լինելը կարելի է շոշափելի առնել բարակ փայտի շոջելով:

Մանրամասն: Օգտակար կլինի կաշկե միքանի կանոնաւոր ձևեր. օրինակ՝ քառանկիւնիք, հինգանկիւնիք, տասնանկիւնիք, — որոշել նոցա միջնակէտը և նորանից անցնել ուղիղ գծեր անկիւնների գագաթներին, կազմել արտաքին անկիւններ և յորինել այդ ձևերի ընդհանուր աղիւսակը քառանկիւնուց սկսեալ մինչև տասնանկիւնին. այնէ՝

- ա) ներքին անկիւնների,
- բ) արտաքին անկիւնների,
- գ) կենդրոնական անկիւնների:

Այսպիսով հեշտութեամբ կարելի է մակաբերել քանի մի նոր կանոններ:

12) Խնդիրներ:

[1. Բաշեցէք տուած քառանկիւնին

Սորա համար բաժանում են նրան անկիւնագծով 2 եռանկիւնների, և արդէն յայտնի եղանակով՝ գծում են այդ եռանկիւններից իւրաքանչիւրը նոյն իսկ դրութեամբ, ինչ դրութեամբ որ նա գտնուում էր քառանկեան մէջ:

2. Որ մասերը պէտքէ տուած լինին, որ կարելի լինէր գծել եռանկեան չորս տեսակներից իւրաքանչիւրը:

Քառակուսի գծելու համար պէտքէ յայտնի լինի մէկ կողմը: Աւղղանկիւն քառանկիւնի գծելու համար — երկու կողմերը:

Նեղականի համար մէկ կողմը և մէկ անկիւնը:

Նեղակերպի համար — երկու կողմեր և մէկ անկիւն:

Թէ ի՛նչպէս պէտքէ այս պայմաններով քաշել յիշեալ ձևերը, բացատրութեան կարևորութիւն չկայ:

3. Գծել տուած բազմանկիւնին:

Բաժանելով բազմանկիւնին եռանկեանց իւր որև է անկեան դազաթից անցրած անկիւնագծերով, գծում են իւրաքանչիւր եռանկիւնին առանձին, նոյն դրութեամբ, ինչ դրութիւն և ունի նա բազմանկեան մէջ:

Յաւելում: Կարելի է այլ կերպ վարուել ի՞նչ բաժանել բազմանկիւնին նորա մէջ առած մի կէտից եռանկիւնների, և ապա գծել իւրաքանչիւր եռանկիւնին կայն:

4. Թէ ի՛նչպէս պէտքէ փոխարկել զուգահեռագիծը մի ուրիշ իւրեան հաւասար և տուած անկիւնը ունեցող քառանկեան, — դարձնել շեղանկիւն զուգահեռագիծը իւրեան հաւասարաչափ ուղղանկիւն քառանկեան, — այդ ինքն ըստ ինքեան պարզ է:

5. Նոյն ձևով փոխարկել եռանկիւնին իւրեան հաւասար և տուած անկիւնն ունեցող մի այլ եռանկեան — սուրանկիւն եռանկիւնին փոխարկել իւրեան հաւասարաչափ եռանկեան՝ կայն:

6. Փոխարկել զուգահեռագիծը իւրեան հաւասարաչափ եռանկեան:

7. Փոխարկել եռանկիւնին իւրեան հաւասարաչափ զուգահեռագիծի:

8. Գծել այնպիսի մի եռանկիւնի, որ մեծ լինէր տուած եռանկիւնուց 2, 3, 4, ... Φ անգամ:

9. Գծել մի զուգահեռագիծ տուածից՝ 2, 3, 4, ... Φ անգամ մեծ:

10. Բաժանել եռանկիւնին 2, 3, 4, ... հաւասար մասերի:

11. Բաժանել զուգահեռագիծը 2, 3, 4, ... Φ հաւասար մասերի:

12. Գծել մի քառակուսի, եթէ տուած է նորա անկիւնագիծը,

13. Գծել ուղղանկիւն քառանկիւնի, եթէ տուած են՝ ա) կող-

մը և անկիւնագիծը, բ) կողմը և անկիւնը անկիւնագծերի ընդ-
հատման ժամանակ, գ) կողմը և անկիւնը, որ կազմվում է նո-
րանով անկիւնագծի հետ:

14. Գծել շեղական, եթէ տուած են.

- ա) կողմը և անկիւնագիծը,
- բ) երկու անկիւնագծերը,
- գ) մէկ կողմը և համապատասխան բարձրութիւնը,
- դ) անկիւնագիծը և բարձրութիւնը,
- ե) անկիւնագիծը և նորանով բաժանուող անկիւնը:

15) Գծել շեղակերպ, եթէ տուած են.

- ա) երկու կողմեր և մէկ անկիւն,
- բ) երկու կողմեր և բարձրութիւն,
- գ) մէկ կողմը, մէկ անկիւն և բարձրութիւն:

16. Գծել 5, 6, 7, 8, 9, 10 կողմանի կանոնաւոր ձևեր:

17. Որքան անկիւնագծեր կարելի է անցցնել այն ուղղագիծ
ձևի մէջ, որ ունի 3, 4, 5, 6, 7, 8, 9 կողմեր:

18. Կազմել հակադարձ խնդիրը և վճռել:


VII ՄԱԿԵՐԵԹԻՔՆԵՐԻ ՉԱՓՈՒՄՆԵ:

Ինչպէս որ երկայնութիւնները կամ գծերը չափվում են գծե-
րով, այնպէս էլ մակերևութիւնները չափվում են մակերևութիւներով,
որովհետև մի որևէ առարկայ չափել կարելի է միայն նորա նը-
ման առարկաներով: Այն բանը, ինչով որ չափում են, քի չափը,
պէտքէ յայտնի լինի չափողին իւր անձնական զննութեամբ: Թէ
ի՞նչ բանէ ֆոնտոր, այդ մենք իմանում ենք ձեռքով, ի՞նչ բան
է սաժէնը, ոտնաչափը և այլն, իմանում ենք կամ պարզելով
(ձգելով) մեր ձեռքերը, կամ ուղղակի ձեռքով և աչքերով:

Ռուսաստանում իբրև միութիւն չափի ընդունուած է անդ-
ղիական ոտնաչափը, որ բաժանվում է 12 մատնաչափի, իւրա-
քանչիւր մատնաչափը բաժանվում 10 գծերի. 7 ոտնաչափը = 1
սաժէնի = 3 արշինի, արշինը բաժանվում է 16 վերջովի:

Մակերևութիւնների չափի միութիւնը կազմում է հաւասարա-
կողմն ուղղանկիւն մակերևոյթը — քառակուսու մակերևոյթը —
քառակուսի վերստը, քառակուսի սաժէնը, քառակուսի մատնա-
չափը, քառակուսի գիծը և այլն:


Մակերևոյթիները չափելիս միութեան չափ ընդունվում է քա-
ռակուսի ոտնաչափը (Ձև 41): Քառակուսի ոտնաչափը = $12 \times 12 = 144$ քառակուսի մատնաչափի, քառակուսի մատնաչափը
= $10 \times 10 = 100$ քառակուսի գծերի: Քառակուսի ոտնաչափը
= $144 \times 100 = 14,400$ քառակուսի գծերի: Քառակուսի սա-
ժէնը = $(7 \times 7) = 49$ քառ". ոտնաչափի. մէկ արտափայրը (ղե-
կառնի) = 2400 (արբունի) կամ 3200 (անտետոլան) քա-
ռակ". սաժէնի:



Ձև 41.

1) Քառակուսու մակերևոյթը գտնելու համար պէտքէ նորա
կողմերի երկայնութիւնը ցոյց տուող թիւը բազմապատկել ինքն
կրանով:

Եթէ կողմը = 1 ոտն". — ուրեմն քառակուսու մակերևոյթը
= $1 \cdot 1 = 16$ քառ". ոտն": Եթէ կողմը = 4 ոտն". և 6 մատ". —
ուրեմն քառակուսու մակերևոյթը = 54×54 քառ". մատ".




Ձև 42.

Յաւելուած 1. Եթէ քանի մի եռանկիւնիների կողմերը յարաբերում են միմեանց այնպէս, ինչպէս, 1: 2: 3: 4 (Ձև 42), այն ժամանակ նոցա մակերևոյթները կ'յարաբերին միմիանց ինչպէս 1: 4: 9: 16, իմ մակերևոյթները աւելանում են այնպէս ինչպէս նորա կողմերի քառակուսիները:

[Ծանոթութիւն: Նախընթացից հասկացվում է, թէ ինչու երկու հաւասար բազմապատկիչների արտադրեալը անուանվում է թուի քառակուսին]:

Յաւելուած 2. Եթէ տրվում է քառակուսու մակերևոյթը և պահանջվում է գտնել նորա կողմերի երկայնութիւնը, այն ժամանակ պէտքէ այդ թիւը բաժանել երկու հաւասար բազմապատկիչների, օրինակ 100 ք 10 × 10 վերայ, 144 ք 12 × 12 վերայ և այլն: Բայց այս չի կարելի անել իւրաքանչիւր թուի հետ. որ կարելի է ստուգել փորձով: Վերջին դէպքում գտանելի թիւը գտնում են մօտաւորապէս, քառակուսի արմատ հանելով թուաբանական կանոնների օգնութեամբ:

2) Միւսնոյն ձևով գտնում են ուղղանկիւն քառանկեան մակերևութի մեծութիւնը (Ձև 43). այն է՝ բազմապատկելով միմեանց վերայ երկու կից կողմերի երկայնութիւնը ցոյց տուող թուերը, օրինակ. 1 × 2 = 2, 2 × 3 = 6, 3 × 6 = 18 քառակուսի մասնաչափի: Ինքն ըստ ինքեան հասկանալի է, որ ուղղանկիւն քառանկեան երկու կողմերը ևս պէտքէ որ որոշուած (չափուած) լինին միւսնոյն չափով: Եթէ մի կողմը հաւասար է 6 ոսնաչափի, իսկ միւսը 6 ոսն. և 4 մասն. այն ժամանակ երկու կողմերը ևս պէտքէ փոխարկել նախ մասնաչափերի և ապա գտած թուերը բազմապատկել միմեանց վերայ: Նոյն կերպով և պէտքէ վարուել բոլոր այս օրինակ դէպքերում:

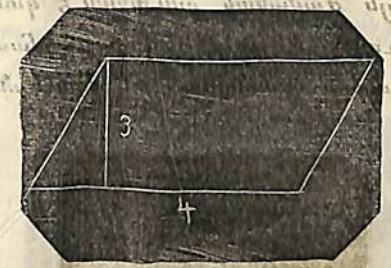


Ձև 43.

[Ծանոթութիւն: Այստեղից հասկանալի է գառնում, թէ ինչպէս են որոշվում ուղղանկիւն քառանկեան ձև ունեցող յատակների,

առաստաղի և սենեակների պատերի մակերևութները և այլն:]

3) Որովհետեւ շեղ զուգահեռագիծը հաւասարաչափ է այն ուղղանկիւն քառանկեան, որ ունի նորա հետ միւսնոյն խարխուլը և բարձրութիւնը, ուրեմն առաջինի մակերևոյթը կ'ստացուի այն ժամանակ. երբ կ'բազմապատկենք միմեանց հետ (Ձև 44) այն թուերը, որք ցոյց են տալիս խարխուլի և բարձրութեան երկայնութիւնը:

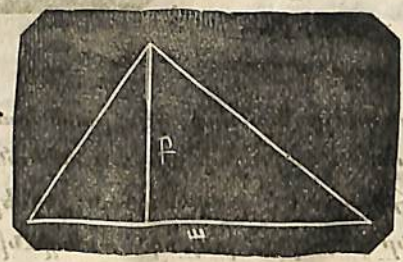


Ձև 44.

4 × 3 = 12 քառ. ոսն.
4) եռանկիւնին կազմում է այն զուգահեռագծի կէտը, որ ունի նորա հետ հաւասար խարխուլ և բարձրութիւն (Ձև 45).

$\frac{w \cdot p}{2} = \frac{w}{2} \times p = w \times \frac{p}{2}$, իմ

եռանկեան մակերևոյթը գտնելու համար կարելի է նոյնպէս կամ բազմապատկել խարխուլի կէտը ամբողջ բարձրութեամբ, կամ ամբողջ խարխուլը բարձրութեան կէտով:

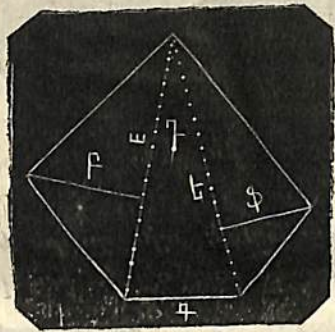


Ձև 45.

5) Եթէ տուած է բազմակողմանի մի ձև, այն ժամանակ պէտքէ նորան անկիւնազծելով բաժանել եռանկիւնիների և որոշել առանձին առանձին նոցանից իւրաքանչիւրի մակերևոյթը իւր խարխուլով և բարձրութեամբ, (Ձև 46). այն ժամանակ ձևի մակերևոյթը կ'լինի

$$= \frac{w \cdot p + q \cdot r + \dots}{2}$$

Եռանկեան համար իբրև խարխա կարելի է ընդունել մի որևէ կողմը և նորանով արդէն կ'որոշուի եռանկեան բարձրութիւնը: Բազմանկիւնին եռանկիւնիների բաժանել կարելի է նոյնպէս և միջնակէտից: Եթէ բազմանկիւնին կանոնաւոր է, այնպէս որ եթէ նորա կենդրոնից ուղիւ գծեր քաշենք դէպի նորա բոլոր գագաթները կբաժանուի նա այնքան հաւասար եռանկիւնիների, որքան և կողմն ունի.— այն ժամանակ բաւական է գտնել մի որևէ եռանկեան մակերևոյթը և գտած թիւը բազմապատկել կողմերի թուով, որ ստացուի կանոնաւոր բազմանկեան բոլոր մակե-



Ձև 46.

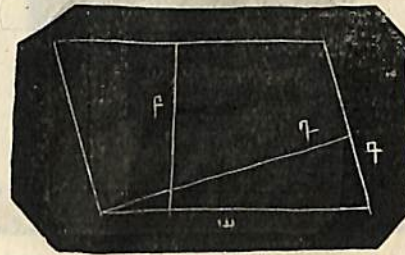
րևոյթը: Այսպիսի դէպքում բազմանկեան մակերևոյթը հաւասար է այնպիսի մի եռանկեան մակերևութի, որի խարխիւր հաւասար է բազմանկեան կողմերի գումարին, իսկ բարձրութիւնը — նորան կազմող եռանկիւնիներից մինի բարձրութեանը:

Յաւելումներ.

1. Ուղղանկիւն քառանկիւնին կարելի է բաժանել քառակուսիների, եթէ որ նորա երկու կողմերը կիսող գծերի կազմած կէտերից քաշենք զուգահեռական ուղիւ գծեր: Բայց այս չի կարելի անել շեղ զուգահեռագծի հետ, որովհետև սորանից թէև կարելի է քառակուսիներ հատանել, բայց մնացորդներ էլ կըստացուին, որք չեն ունենայ քառակուսիների ձևեր: Սորա հա-

մար և զուգահեռագիծը չի կարելի ուղղակի չափել, այլ պէտք է նախ դարձնել նորան ուղղանկիւն քառանկեան:

2. Այս ժամանակ բոլորը մին է. որ կողմը և ցանկաք, այն կողմը ևս կարող էք ընդունել, իսկ բարձրութիւնը կլինի այն ուղղահայեացը, որ կ'իջողուի այդ կողմի վերայ հանդիպակաց կողմի մի որևէ իցէ կէտից: Երկու արտադրեալները ևս, որք կըստացուին կողմերի համապատասխան բարձրութեանց վերայ բազմապատկելուց, հաւասար կլինին միմեանց, $ա \cdot բ = դ \cdot ր$: Եթէ որ $ա = 2 դ$, այն ժամանակ պէտք է որ $դ = 2 բ$ (Ձև 47):



Ձև 47.

[Ծանոթութիւն: Ով ծանօթ է համեմատութեանց հետ՝ նախընթացի հիման վերայ դուրս կբերէ, որ զուգահեռագծի մէջ (այնպէս՝ ինչպէս և եռանկեան մէջ) կողմերը հակադարձ համեմատութիւն ունին բարձրութեանց հետ:]

3. Որովհետև շեղականի բոլոր կողմերը հաւասար են միմեանց և որովհետև որ կողմն էլ որ խարխա ընդունես կարելի է, ուրեմն նորա բարձրութիւններն էլ պէտք է հաւասար լինին միմեանց:

4. Եռանկեան միջ իւրաքանչիւր կողմը կարելի է իբրև խարխա ընդունել և բազմապատկել նորան այդ կողմին համապատասխան բարձրութեամբ:

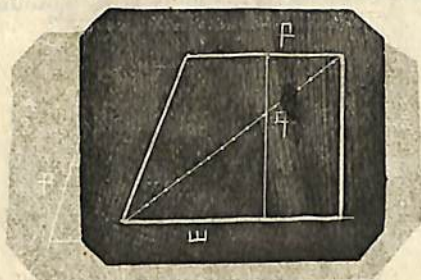
5. Եթէ մի քառանկիւնի, որի մակերևոյթը պէտք է գտնել անկիւնագծերով բաժանենք երկու եռանկեանց, այն ժամանակ կարելի է իւրաքանչիւր կողմը իբրև խարխա ընդունել, միայն առաւել օգտակար և առաւել պարզ կլինի, եթէ երկու եռան-

կինիների համար ընդունենք իբրև մի ընդհանուր խարխուս նոյն իսկ անկիւնազիծը: Այս դէպքում, փոխանակ 4ի, բաւական է չափել 3 զիծ:

6. Միևնոյն կերպով էլ առաւել օգտակար է սեղանի մէջ (Ձև 48) իբրև խարխուս ընդունել նորա զուգահեռական կողմերը:

$$\frac{a \cdot q + p \cdot q}{2} = \frac{(a+p) \cdot q}{2}$$

Գ. Ի՞նչ սեղանի մակերևութի մեծութիւնը կգտնուի այն ժամանակ, եթէ զուգահեռական կողմերի



Ձև 48.

զուամարը (թուերը) բազմապատկենք նոցա մէջ գտնուող տարածութեամբ և վերառնենք ստացած արտադրեալի կէսը:


7. Որովհետև ուղղանկիւն քառանկեան մակերևոյթը հաւասար է այն արտադրեալին, որ ստացվում է խարխուսը բարձրութեան վերայ բազմապատկելուց, ուրեմն երկու ուղղանկիւն քառանկեանց մակերևութիւները յարաբերում են միմեանց այնպէս, ինչպէս այդ արտադրեալները:

Իսկ եթէ խարխուսները հաւասար կլինին միմեանց, այն ժամանակ մակերևոյթները կյարաբերին միմեանց այնպէս, ինչպէս բարձրութիւնները. իսկ եթէ հաւասար բարձրութիւն ունին, — այնպէս, ինչպէս և խարխուսները:

8. Այս իսկ կանոնները ստոյգ են նաև զուգահեռադծերի և եռանկիւնների համար:

9. Եթէ հարկաւոր է գտնել այնպիսի քառակուսու կողմն, որի մակերևոյթը իւր մեծութեամբ հաւասար է զուգահեռադծի կամ եռանկեան մակերևութին, այն ժամանակ պէտք է

միայն քառակուսի արմատ հանել այն թուերից, որք և ցոյց են տալիս այդ զուգահեռադծի կամ եռանկեան մակերևութի մեծութիւնը:



Ձև 49.

Թող եռանկեան խարխուսը լինի = 20 ոտնաչափին, նորա բարձրութիւնը 10 ոտնաչափի, այն ժամանակ նորա մակերևոյթը կլինի = 20 x 5 = 100 քառ. ոտնաչափի. գտանել քառակուսու կողմը կլինի = 10 ոտնաչափի:

10. Եթէ դնենք միմեանց մօտ a և բ երկու ուղիղ գծերը, դժեմք նոցա զուամարով մի քառակուսի և բաժանենք նորան այնպէս (Ձև 49), ինչպէս և ցոյց է տուած ձևի վերայ, քառակուսին կբաժանուի 4 մասերի՝ և կստացուի մի քառակուսի՝ կազմուած a ուղիղ գծի վերայ, մի քառակուսի՝ կազմուած p ուղիղ գծի վերայ, և երկու հաւասար ուղղանկիւն քառանկիւնիք, — ասել է թէ քառակուսու մակերևոյթը բաժանվում է a . a + p . p + 2 . a . p մասերի:

[Թող a=6, p=4, կգտնենք

$$(6+4)^2 \left\{ \begin{array}{l} = 6^2 + 4^2 + 2 \cdot 6 \cdot 4 \\ \text{կամ } 10^2 \\ 100 = 36 + 16 + 48. \end{array} \right.$$

Երկու գծերի զուամարի վերայ կազմած երկրաչափական քառ.

ուսկուսին բաղկանում է այն քառակուսիների գումարից, որ կազմուած են լինում իւրաքանչիւր զծի վերայ և այն ուղղանկիւն քառանկիւնու կրկնապատկած մակերևութից, որ կազմուած է լինում երկոքին ուղիղ գծերից: Երկու թուերի գումարի թուաբանական քառակուսին բաղկանում է երկոքին թուերի քառակուսիների գումարից և երկոքին թուերի կրկնապատկած արտադրեալից:

11. Խնդիրներ:

1. Եռան". մակերևոյթը հաւասար է 20 քառ". սաժ". բարձրութիւնը 10 սաժ". Խնչն է հաւասար խարխուլը:

Որովհետև մակերևոյթը ստացուեցաւ բարձրութեան կէտրամբողջ խարխուլով բազմապատկելուց, ուստի խարխուլը կըստացուի, եթէ մակերևոյթը բաժանենք բարձրութեան կէտով

$$\left(\frac{20}{5} = 4 \text{ սաժ.}\right)$$

2. Եռանկեան մակերևոյթը հաւասար է 10 քառ". սաժ". 40 քառ". ոսնաչափի, խարխուլը = 30 ոսնաչափի, գտէ՛ք բարձրութիւնը:

$$\left(\frac{10 \cdot 49 + 40}{15} = 35\frac{1}{2} \text{ ոսն".} = 5 \text{ սաժ". } \frac{1}{3} \text{ ոսն.}\right)$$

3. Ուղղանկիւն քառանկեան մակերևոյթը = 360 քառ". սաժ.: Ի՞նչ մեծութիւն կունենան կից կողմերը, եթէ նոքա պէտքէ յայտնի լինին միայն ամբողջ թուերով (1. 360, 2. 180, 3. 120, 4. 90, 5. 72, 6. 60, 8. 45, 9. 40, 10. 36, 12. 30, 15. 24, 18. 20):

4 Շեղականի մակերևոյթը հաւասար է 120 քառ". մասնաչափի, նորա կողմը 10 մասնաչափի. գտնել բարձրութիւնը (12 մասնաչափ):

5. Երկու այգի ունին միաչափ մակերևոյթ. 625 քառ". սաժէն. նոցանից մէկի ձևը քառակուսի է, իսկ միւսինը այնտիսի ուղղանկիւն քառանկիւնի, որի լայնութիւնը = 12 սաժէնի. Ի՞նչ քան տարբերութիւն կայ նորա շրջագծի միջ. (28¹/₆ սաժ.):

6. Անկանոն ութնանկիւնին բաժանվում է մի որևէ անկեան

բաղաժից անցցրած անկիւնագծերով 6 եռանկիւնիների: Անկիւնագծերի երկայնութիւնն է 16, 20, 36, 40 և 50 ոսնաչափ, իսկ եռանկեանց անկիւնագծերին համապատասխան բարձրութիւնները 6, 9, 10, 12, 16 և 20 ոսնաչափ: Ի՞նչն է հաւասար ութնանկիւնու մակերևոյթը և այն քառակուսու կողմը, որ հաւասարաչափ է այս ութնանկիւնուն: (Ութնանկիւնու մակերևոյթը = 1458 քառ". ոսն". = 29 սաժ." 37 քառ". ոսն". իսկ նորան հաւասարաչափ քառակուսու կողմը = 38 ոսն". +):

Ծանոթութիւն: Տուածից կարելի է 'ի բաց առնել երկու անկիւնագծերի մեծութիւնը: Ի՞նչու՞ և իսկապէս որ անկիւնագծերի): Յաւելուած: Այստեղ յարմար էր համեմատել զանազան երկայնութեան և քառակուսի չափերը:

I ԵՐԿԱՅՆՈՒԹԵԱՆ ՉԱՓԵՐԸ:

1 ոսնաչափը	=	12 մասնաչափի	=	120 գծերի
		1 մասնաչափը	=	10 գծերի
1 սաժէնը	=	7 ոսնաչափի	=	48 մասնաչափի
	=	3 արշինի	=	48 վերշոկի:
		1 արշինը	=	2 ¹ / ₃ ոսնաչափի = 28 մասն.
			=	16 վերշոկի
1 վերստը	=	500 սաժէնի	=	3500 ոսն". = 1500 արշինի:
1 միլոնը	=	7 վերստի	=	21500 ոսնաչափի
			=	3500 սաժէնի:

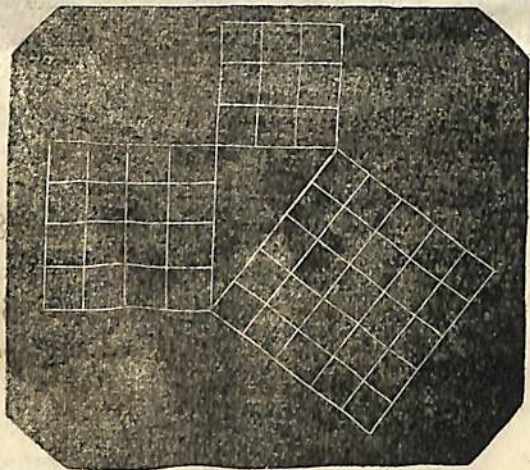
II ԳԱՌԱԿՈՒՍԻ ՉԱՓԵՐԸ:

1 քառ. ոսն.	=	144 քառ. մասնաչափի	=	14400 քառ. գծերի
	=	1 քառ. մասնաչափը	=	100 քառ. գծերի
1 քառ. սաժ.	=	49 քառ. ոսնաչափի:		

9 քառ. արշինի = 2294 քառ. վերջովի
 1 քառ. արշինը = 5¹/₉ քառ. ոտն. = 784 քառ.
 մաս. = 256 քառ. վերջովի
 1 քառ. վերստը = 250,000 քառ. սաժ.
 1 արտավարը (երեմեայ արքունական) = 2400 քառ. սաժ.
 քառանեայ տնտեսական = 3200 քառ. սաժ.

VIII ՊԻԻԹԱԳՈՐԵԱՆ ԿԱՆՈՆ:

Ուղղանկիւն եռանկիւնին առանձին ուշադրութեան արժանի է: Ուղեղ անկիւն կազմող կողմերը, կոչվում են ինչպէս և վերը ասուած է՝ էջեր, իսկ ուղեղ անկեան զիմացի կողմը (ամենաերկաւոր)՝ կոչվում է ներքնածիգ:



Ձև 50.

Նշանակելով մէկ էջի վերայ 3, իսկ միւսի վերայ 4 միմեանց հաւասար մասեր և քաշելով ներքնածիգը (Ձև 50), որի երկայնութիւնը որոշվում է էջերի երկայնութեամբ, կգտնենք որ նա հաւասար է հինգ այդպիսի մասերի:

Գծելով ուղղանկիւն եռանկեան 3 կողմերի վերայ ևս քառակուսիներ, կգտնենք, (որովհետեւ 5.5 = 3.3 + 4.4) որ ներքնածիգ քառակուսին հաւասար է էջերի քառակուսիների գումարին:

Այս կանոնը ստորագ է և ամեն ուղղանկիւն եռանկեանց համար և կոչվում է Պլաթարեան կանոն, որովհետեւ Պլաթագորըն է զտեղ նորան:

Առհասարակ դժուար չէ ապացուցանել այդ կանոնի ստուգութիւնը:

Քառակուսիները կազմելուց յետոյ թողնենք բ կէտից (Ձև 51) ազ ի վերայ մի ուղղահայեաց և շարունակենք նորան մինչև է կէտը. սորանից ներքնածիգի վերայ շինուած քառակուսին կրժանուի աե և դՖ երկու ուղղանկիւն քառանկեանց: Անցուցանենք բՖ և ազ օժանդակ ուղեղ գծերը:

ազ = գՖ

զզ = բզ

Հ ազզ = Հ բզՖ

Δ ազզ = Δ բզՖ


Δ ազզ = 1/2 զբ քառակուսուն

Δ բզՖ = 1/2 գե

զբ = գե

Նոյն կերպով ապացուցվում է, որ աե = բա, ուրեմն կանոնը ճիշտ է:


Պլաթագորեան կանոնի իսկութիւնը առաւել հեշտ բացատրվում է հետևեալ ձևով (Ձև 52):



Ձև 51.

Առնենք ԲՄԳ ուղղանկիւն եռանկիւնին, ԲԳ ներքնածիգի վերայ գծենք ԲԳԳԵ քառակուսին. ԱԲ ի և նորա շարունակութեան վերայ՝ Գ և Ե կէտերից քաշենք ԴԶ և ԵԵ ուղղահայեացները, իսկ ԴԶ գծի վերայ Գ և Ե

կէտերից ԳԹ և ԵԸ ուղղահայեացները: Այս կազմութիւնից յառաջ կգայ, որ ԲԱԳ, ԵԷԲ, ԵԸԴ ու ԳԹԳ ուղղանկիւն եռանկիւնիները (որոնք նշանակուած են 1, 2, 3 և 4 ով) պատշաճապէս են. դարձեալ կյառաջանայ՝ որ ԱԶԹԳ ը՝ ԱԳ էջքի վրայի քառակուսին, և ԶԷԸ ըն էլ ԱԲ էջքի վրայի քառակուսին կերկնցի: Յայտնի է որ ԲԳԴԵ ներքնաձիգի վերայի քառակուսին



Ձև 52.


բաղադրուած է ԲԳԹԸ ն ձևից և 3 ու 4 եռանկիւնիներով. և ստի՝ Եթէ որ ԲԳԴԵ քառակուսուց վերջին եռանկիւնիները հանենք և գնենք ներքևում 1 և 2 եռանկեանց տեղը, այն ժամանակ առաջուան քառակուսու երեսը կփոխուի ԱԳԹԸ նէ ձևին, որ և կպարունակէ իւր մէջ ԶԷԸ ու ԱԶԹԳ էջքերի վերայ եղած քառակուսիները:

Ուրեմն ներքնաձիգի վերայի քառակուսին ունի իրօք այնչափ երես, որչափ որ էջքերի վերայ եղած քառակուսիներն ունին: [Ծանօթութիւն 1. Պիւթագորեան կանոնը զորժ են ածում ոչ միայն ձևերի մակերևոյթները զտնելու համար, այլ և — այնքան շատ և զանազան դէպքերում, որ նա կոչվում է երկրաչափութեան և մաթեմատիքայի գլխաւոր կանոնը: Ասում են, թէ Պիւթագորը այս կանոնը գտնելու ուրախութիւնից 100 եղբ մատաղ բերեց աստուածներին:

Ծանօթութիւն 2. Հակադարձ կանոնը նոյնպէս ուղեղ է. եթէ եռանկեան մի կողմի քառակուսին հաւասար է միւս երկու կողմերի քառակուսիների թուին, այն ժամանակ առաջին կողմի հանգիստակաց անկիւնը կլինի ուղեղ:

Թող $a^2 = p^2 + q^2$. q կողմի վերայ ուղղահայեաց քաշենք (Ձև 53), որ $q = p$ և անցուցանենք b :

$$\begin{aligned} \text{Այս ժամանակ } b^2 &= p^2 + q^2 \\ &= p^2 + q^2 \\ &= a^2 \\ \hline b &= a \\ \hline \Delta a p q &= \Delta q p b \end{aligned}$$


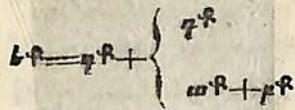


Ձև 53.

Ճարգ, ինչպէս և զգե Δ , ուղղանկիւն են և այլն: [Այս կանոնի հիման վերայ արհեստաւորները կազմում են մէքենայօրէն ուղեղ անկիւն, որոյ համար նորա բաժանում են լարը հանդիպանով այնպիսի մասերի, որ մ.ճը պարունակէր 5, երկրորդը 4, երրորդը 3 հաւասար մասեր, և կապում են նորա ծայրերը. ամրացնելով բաժանման կէտերը և ձգելով թելի մասերը, նորա ստանում են ուղղանկիւն եռանկիւնի]:

Խնդիրներ
1. Երկու քառակուսի դարձնել մէկի. ք այնպիսի մի քառակուսի կազմել, որ հաւասար լինէր այդ երկու քառակուսիների զուամբին (Ձև 54).


Սորա համար տուած քառակուսիների կողմերով կազմում են մի ուղեղ անկիւն, անցնում են ներքնաձիգ և նորա վերայ քաշում են իւր քառակուսին: Եթէ տուած լինէր և 3րդ քառակուսին, այն ժամանակ զտած ներքնաձիգի ծայրին պէտքէ երրորդ քառակուսու կողմին հաւասար երկայնութեամբ մի ուղղահայեաց իջցնել և անցնել նոր ուղղանկիւն եռանկեան ներքնաձիգը:



Ձև 51.

Այս կերպ շարունակելով կարելի է ինչքան քառակուսիների մակերևոյթներ էլ պահանջուի, դարձնել մէկ քառակուսու մակերևոյթ:

2. Նթէ պէտքէ գծագրել մի քառակուսի, որ երկու ծանօթ քառակուսիների տարբերութեանը հաւասար լինի, այն ժամանակ պէտքէ կազմել մի ուղիղ անկիւն (Ձև 55), նորա մի կողմի վերայ նշանակել տուած փոքր քառանկեան ա կողմը և նորա ծայրակէտը կենդրոն առնելով մեծ քառակուսու բ կողմին հաւասար շառաւիղով գծել մի աղեղ, որը կկտրի ուղիղ անկեան միւս կողմին. այդ կողմի կտրուածը իսկ կլինի գտանելի քառակուսու մի կողմը. որովհետև $\varphi^2 = \text{աբ} - \text{աբ}$:



Ձև 55.

3. Պահանջում է մի զուգահեռագիծ կամ մի եռանկիւնի երկպատկել, եռապատկել. բաժանել 2, 3 հաւասար մասերի և այլն:

Որովհետև հաւասար խորիսխը և բարձրութիւնը ունեցող զուգահեռագիծը և եռանկիւնները հաւասարաչափ են, և նույնա մակերևոյթները հաւասար բարձրութեանց ժամանակ յարա-

բերում են միմեանց այնպէս՝ ինչպէս խորիսխները, ուրեմն զուգահեռագծի կամ եռանկեան մակերևոյթը երկպատկելու, եռապատկելու համար պէտքէ միայն խորիսխը երկպատկել կամ եռապատկել. իսկ զուգահեռագիծը կամ եռանկիւնին 2, 3 հաւասար մասեր բաժանելու համար՝ պէտքէ միայն խորիսխը բաժանել նոյնչափ մասերի, պահպանելով նոյն բարձրութիւնը:


1. Ձուգահեռագծի մակերևոյթը վերածել եռանկեան:

Սորա համար պէտքէ թողնել նոյն բարձրութիւնը և տալ եռանկեանը երկու անգամ մեծ խորիսխ:

Կամ թողնել միևնոյն խորիսխը, և երկպատկել բարձրութիւնը:

5. Դարձնել քառանկիւնին եռանկեան:

Բաժանելով արդդ քառանկիւնին բոլ անկիւնագծով 2 եռանկիւնների, բաւական է միայն կազմել արդ եռանկեանը հաւասարաչափ մի եռանկիւնի, որի խորիսխը գտնուէր (Ձև 56)՝ զք էի շարունակութեան վերայ: Շարունակենք զք էն՝ ա կէտից անցցնենք զք ին զուգահեռական ած ուղիղ զիծը և քաշելով դե զիծը՝ կստանանք զբա և զբե եռանկիւնները. այս եռան-




Ձև 56.

կիւնները նոյնպէս ունին զք խորիսխը և գտնվում են զք և ած երկու զուգահեռականների մէջ, որոյ համար և ունին հաւասար բարձրութիւնք. ապա ուրեմն նոքա հաւասարաչափ են, որից հետևում է, թէ գրե եռանկիւնին = զդար քառանկեանը:

Յ. Հինգանկանին փոխել եռանկեան:

Մեցցնելով արդիւն Հինգ անկան բազմանկեան մէջ (Ձև 57) ազ և աղ երկու անկանազծերը, պէտքէ միայն արդ, աղի երկու եռանկանին երր զծաղրել այնպէս, որ նոցա խարխալները



Ձև 57.

զտնուէին զգ զծի շարունակութեան վերայ: Այդ անուամ են վերջիչեալ եղանակաւ. նոյն իսկ ձևից պարզ երևում է, որ աէզ եռանկանին հաւասարաչափ է Հինգ անկան բազմանկեանը:

7. Յռանկանին զուգահեռազծի փոխել:

Սորա համար պահպանելով եռանկեան բարձրութիւնը նորա խարխալի կէտը զուգահեռազծի համար խարխալս են դարձնում. կամ թէ չէ պահպանելով եռանկեան խարխալը իբրև զուգահեռազծի բարձրութիւն՝ ընդունում են եռանկեան բարձրութեան կէտը: Որովհետև իւրաքանչիւր ուղղազիծ ձև կարելի է փոխարկել իրան հաւասարաչափ եռանկեան, հետևաբար և իւրաքանչիւր ուղղազիծ ձև կարելի է փոխարկել և զուգահեռազծի:

IX Շ Ր Ձ Ա Ն.

Նրջան կտանանք, էթէ շրջենք մակերևութի վերայ իւր ծայրակէտերից մէկի շուրջը մի ուղիղ գիծ, մինչև որ ուղիղ

գիծը ընդունի իւր նախկին դրութիւնը: Ուղիղ գծի անշարժ կէտը կազմում է շրջանի միջնակէտը (կենդրոնը), իսկ միւս ծայրակէտը կզծէ շրջապատ կամ բովանդակագիծ, իսկ ինքը ուղիղ գիծ կզծէ շրջանի մակերեսոյնը կամ նոյն իսկ շրջան. ուղիղ գիծը կոչվում է շրջանի կէս երկակաուրը (շառաւիղ կամ ճառագայթ), նորա երկայնութիւնից է կախուած շրջանի մեծութիւնը:

Նրջանի ներսի միւս գծերի անունները սոքա են. երկակաուր (տրամագիծ կամ առանցք). սա մի ուղիղ գիծ է, որ անցնում է կենդրոնի վերայից և որի երկու ծայրակէտերը գտնվում են շրջապատի վերայ. լար — իւրաքանչիւր մի ուղիղ գիծ, որի ծայրակէտերը գտնվում են շրջապատի վերայ. աղիւ — շրջապատի իւրաքանչիւր մի մասը. շրջանի հատում — շրջանի մակերևութի մի մասը, որ գտնվում է լարի և նորան հանդիպակաց աղիղի մէջ:

Նրջանի հատում կամ շրջանի հատիչ կոչվում է շրջանի մակերևութի այն մասը, որ անփոփոխվում է աղիղի և երկու շառաւիղների մէջ:

Կենդրոնական անկան կամ կենդրոնի վերայի անկան կոչվում է այն ուղղազիծ անկանը, որ գտնվում է երկու շառաւիղների մէջ: Շրջապատ կամ ներքին անկան կոչվում է այն անկանը, որի զաղաթը գտնվում է շրջապատի վերայ, իսկ կողմերը կազմում են լարեր:

Նրջանին շոշափող կամ քսուող մի ուղիղ գիծ է, որ իւր բոլոր շարունակ երկարագծութեամբ ունի շրջապատի հետ միայն մի ընդհանուր կէտ. ապա ուրեմն և քսվում է միայն շրջապատին:

Հատանող կամ կտրող — մի շարունակուած լար է:

Հատիչենդրոն կամ նոյնակենդրոն շրջանները նոքա են, որք զըծուած են միևնոյն մակերևութի վերայ մէկ կենդրոնով, բայց այլ և այլ շառաւիղներով: Որովհետև իւրաքանչիւր ուղիղ գծի վերայ գտնվում է անհամար կէտերի բազմութիւն, ուրեմն իւրաքանչիւր ուղիղ գիծ, որ իւր շարժողութեամբ զծում է մէկ շրջան, զծում է միևնոյն ժամանակ և համակենդրոն շրջանների անհամար բազմութիւն:

Նրջանի նոյն իսկ կազմութիւնից և զննելուց պարզ երևում են ուղղակի հետեւեալ կանոնները:

1) Նրկակտուրը կամ տրամագիծը հաւասար է երկու կէտերկախութիւն կամ շառաւիղին:

2) Երկու լարերից փոքրը նա է, որ կենդրոնից հեռու է գտնւում: Նա է մեծը, որը մօտ է կենդրոնին:

3) Տրամագիծը բոլոր լարերից ամենամեծն է. հաւասար լարերը հաւասար հեռաւորութիւն ունին կենդրոնից:

4) Այն շառաւիղը, որ միանում է շոշափող գծի հպման կէտին կազմում է շոշափող գծի հետ ուղիղ անկիւն. կամ այլապէս ուղղահայեաց է նորա վերայ:

Հեշտ է ապացուցանել հետեւեալ կանոնը.

5) Նրջապատի անկիւնը երկու անգամ փոքր է այն կենդրոնական անկիւնից, որ գտնւում է նորա հետ միևնոյն աղեղի դիմացը:

Այս տեղ կարող են պատահել երեք դէպք՝ նայելով թէ որտեղ է գտնւում արդեօք կենդրոնը. շրջապատին կաճ անկեան կողմերից մինի վերջ, կամ նորա կողմերի մէջ, կամ թէ այդ անկիւնից դուրս (Ձև 58):

Նկ". 1. աղբ. Δ հաւասարաբունը է. ուր մն $\angle P = \angle Q$: $\angle QAP = \angle P + \angle Q$, սորա համար $\angle A = 2 \angle P$, ք $\angle P = \frac{1}{2} \angle QAP$:

Նկ". 2. Անցցնենք բաւ զիծը:

$\angle QAB = 2 \angle QPB$ (նախընթաց կանոնը)
 $\angle QAB = 2 \angle QPB$ (— —)

$\angle QAP = 2 \angle QPB$, կամ

$\angle QPB = \frac{1}{2} \angle QAP$:

Նկ". 3. Անցցնենք բաւ զիծը:

$\angle BAP = 2 \angle BQP$

$\angle BAP = 2 \angle BQP$

$\angle BAP - \angle BAP = 2 \angle BQP - 2 \angle BQP$
 $\angle QAP = 2 \angle QPB$



Ձև 58.

Այս կանոնից հետեւում է, թէ շրջապատի այն անկիւնը, որ գտնւում է կիսաշրջապատից կարճ աղեղի դիմաց, սուր է, այն անկիւնը, որ ունի իւր դիմաց կիսաշրջապատին հաւասար աղեղ՝ — ուղիղ է:

Կիսաշրջապատից մեծ աղեղի դիմաց գտնուող անկիւնը կլինի բութ, որովհետեւ առաջին դիպուածում կենդրոնի անկիւնը, որ կգտնուի նոյն աղեղի դիմաց, կլինի $< 2\alpha$,

երկրորդ դիպուածում $= 2\alpha$,

երրորդ դիպուածում $> 2\alpha$.

Բոլոր այս դիպուածները պէտքէ շոշափելի առնել նկարների օգնութեամբ:

Յաւելուած 1. Միևնոյն աղեղի վերայ կարող են պատահել անթիւ և անհամար շրջապատի անկիւններ, և նոքա բոլորը հաւասար լինելով կենդրոնական անկեան կէտին՝ հաւասար կլինին և միմեանց:

Յաւելուած 2. Մենք առաջ տեսանք, որ կենդրոնի անկիւնը չափւում է այն աղեղով, որ գտնւում է նորա կողմերի մէջ և պարունակում է այնքան աստիճան, որքան աղեղը. դորա համար և շրջապատի անկիւնը կպարունակէ իւր մէջ աղեղի աստիճանների կէտը, հետեւաբար և կչափուի իւր կողմերի մէջ պարունակուող աղեղի կէտով:

Յաւելուած 3. Նրջանի մէջ գծուած եռանկեան երեք անկիւնները յիսնում են այն աղեղնիւրին, որք իմիասին կազմում են ամբողջ շրջապատը. ուրեմն բոլորը իմիասին չափւում են շրջապատի կէտով, 180° : Եթէ շրջանի մէջ քաշուած է մի քառանկիւնի, այն ժամանակ իւրաքանչիւր երկու հանդիպակաց անկիւնները իմիասին կձգեն դէպի իրանց ամբողջ շրջապատը, դորա համար և իմիասին առած կլինին $= 180^\circ$:

6) Կենդրոնից լարի վերայ թողած ուղղահայեացը անցնում է նորա մէջտեղեց (Ձև 59):




Ձև 59.

Այս դէպքում մանաւանդ պետք են V գլխի, №7, կանոնները, որովհետեւ լարի ծայրակետերը ուղիղ գծերով կենդրոնի հետ միացնելուց յետոյ կազմվում են հաւասարասրունք եռանկյուններ:

7) Եթէ որ շառաւիղի շրջապատին կաած ծայրակետից շառաւիղին ուղղահայեաց քաշենք, այդ ուղղահայեացը կլինի շրջանին շոշափող գիծ:

Որովհետեւ, եթէ որ այդ ուղղահայեացի մի որևէ կետին կենդրոնից մի ուղիղ գիծ տանենք, այդ գիծը շառաւիղից երկայն կլինի, պատճառ որ կգտնուի ուղիղ անկեան՝ քի եռանկեան միջև ամենամեծ անկեան դիմացը. հետևաբար և մեր վերջրած ուղղահայեացի կետը գտնվում է շրջանից դուրս, (Ձև 60): Նոյնը ստոյդ է և իւրաքանչիւր կետի համար, որ վերջրած է ուղղահայեացի վերայ բացի մէկից. ուրեմն այդ ուղղահայեացը շոշափող գիծ է:



Ձև 60.

Ուղղահայեաց անցնենք շոշափող գծին, այն ժամանակ նա կանցնի կենդրոնի վերայից, և եթէ շարունակենք նորան, կլինի տրամագիծ:

Եթէ որ շրջանի կենդրոնից ուղղահայեաց թողնենք շոշափող գծի վերայ, այն ժամանակ ուղղահայեացը կհանդիպի նորան շոշափման կետում:

∠գրա = ∠գրբ
∠գար = ∠գբա
գա = գբ
Δգրա ≅ Δգրբ

ադ = բդ:

Հակադարձորէն: Այն ուղղահայեացը, որ թողած է լարի մէջտեղից, անցնում է շրջանի կենդրոնից:

Տառելուածի Որովհետեւ հաւասար շրջանների մէջ հաւասար լարերին համապատասխանում են կենդրոնական հաւասար անկյուններ, ուստի այս կանոնի հիման վերայ կարելի է առաջուան ցոյց տուածից առաւել ճիշտ կերպով չափել և անկյուններ գծել անկյունաչափի օգնութեամբ:

Թղթի վերայ անկյունը փոխադրելով չափելու համար, անկեան գագաթից փոխադրիչ շառաւիղին հաւասար շառաւիղով գծում են նորա կողմերի մէջ մի ալեղ, այդ աղեղն լարը վեր են առնում կարկինի սրունքների մէջ. յետոյ մէկ սրունքը դնում են փոխադրիչի զրօ բաժանման վերայ, իսկ միւսը ցոյց է տալիս կիսաշրջանի վերայ այն թիւը, որը և կազմում է չափուող անկեան մեծութիւնը:


Եթէ կամենում են փոխադրիչի օգնութեամբ որոշ մեծութեամբ անկյուն քաշել՝ մի ուղիղ գիծ են առնում: Նորա որևէ կետից փոխադրիչի շառաւիղով գծում են աղեղ, առնում են կարկինի սրունքների մէջ այն լարը, որ գտնվում է որոշեալ մեծութեամբ անկեան դիմաց, և նշանակում են նորան աղեղն վերայ, սխեալ աղեղն ուղիղ գծի հետ կտրուած կետից. յետոյ ուղիղ գծով միացնում են լարի միւս ծայրակետը վերառած կետի հետ և այս կերպով ստանում են պահանջուած անկյունը:

8) Խնդիրներ:

1) Գտէ՛ք շրջանի կենդրոնը:

Սորա համար անցնում են մի կամաւոր լար, երկու հաւասար մասն են անում նորան, և մէջտեղից նորա վերայ մի ուղղահայեաց են կայնեցնում, որը և շարունակում են երկու կողմերում մինչև շրջապատին կտրելու: Այս կերպով ստացվում է մի տրամագիծ, որի մէջտեղը լինում է շրջանի կենդրոնը:

Եւ կամ անցնում են երկու կամաւոր երկայնութեամբ լարեր և նոցա մէջտեղից կայնեցնում են ուղղահայեացներ. այն ուղղահայեացներից ամեն միւր կանցնի կենդրոնից, ուրեմն կենդրոնը կլինի այնտեղ, ուրտեղ և կկտրուին ուղղահայեացները (Ձև 61):



Ձև 61. Ձև 62.

2. Գծել այնպիսի մի շրջապատ, որ անցնէր տուած ուղիղ գծի ծայրերից:

Սորա համար կարելի է բաժանել ուղիղ գիծը երկու հաւասար մասերի (Ձև 62), և նորա մէջտեղից ուղիղ գծին հաւասար շառաւիղով գծել շրջան. այդ շրջանը կլինի մօտիկ ստուգութիւն ունեցող ամենափոքր շրջանը: Միւս շրջանները գտնելու համար ուղիղ գծի մէջտեղից կայնեցնում են մի ուղղահայեաց և շարունակում են երկու կողմերումն էլ: Այն ժամանակ ուղղահայեացի վերայ վերցրած իւրաքանչիւր կէտից կարելի է մինչև տուած ուղիղ գծի ծայրերից մինը շառաւիղ առնելով՝ շրջան քաշել. այդպիսի շրջաններից ամեն մինը կլուծի խնդիրը:

[Մտնօթութիւն: Այսպէս ուրեմն խնդիրը բառարարիչ կերպով լուծվում է այն շրջանների անթիւ բազմութեամբ, որոց կենդրոնները գտնվում են այն ուղղահայեացի վերայ, որ թողուած է տուած ուղիղ գծի մէջտեղից:

Այդ տեսակ խնդիրները կոչվում են անորոշ: Այս անորոշութիւնը կախուած է ոչ թէ լուծելու եղանակների շատութիւնից, այլ մեծութիւնների շատութիւնից, որք և բաւարարիչ են խնդրի համար: Միայն այս խնդրի մէջ գտանելի շրջանների կենդրոնների զրութիւնը ոչ բոլորովին կամաւոր է. — կամաւոր լինելը սահմանափակվում է այն պայմանով, թէ բոլոր կենդրոնները պէտ-

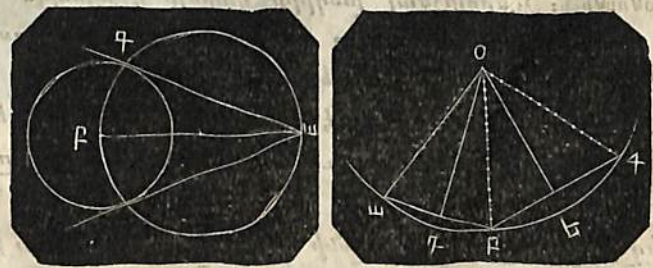
քէ գտնուին ուղղահայեացի վերայ]:

3. Գծել այնպիսի մի շրջապատ, որ շոշափէր ուղիղ գծին տուած կէտում:

Ուղիղ գծի վերայի տուած կէտից կայնեցնում են մի ուղղահայեաց և դորա վերայի միո բև է կամաւոր կէտից մինչև տուած կէտը շառաւիղ առնելով՝ գծում են մի շրջապատ, ինչպէս և ցոյց է տուած Ձև 60 երրորդում, որը կշոշափի ուղիղ գծին տուած կէտում:

4. Նրջանից դուրս գտնուող տուած կէտից շրջանին շոշափող գիծ գծել:

Յայտնի է որ շոշափող գիծը ուղղահայեաց է շառաւիղին, սորա համար և կհարկուորի տուած կէտից այնպիսի մի ուղիղ գիծ քաշել, որ կազմէր շառաւիղի հետ ուղիղ անկիւն: Եթ գիծը կլինի այդ եռանկիւնուց յառաջացած ներքնաձիգը: Ուրեմն պէտք է աբ գիծը երկու հաւասար բաժին անել և նորա կէտին հաւասար շառաւիղով (Ձև 63) նորա մէջտեղից մի շրջապատ գծել, որը կկտրի տուած շրջանը գ կէտում. անցցնելով այժմ ագ ուղիղը՝ կստանանք պահանջուած շոշափող գիծը:



Ձև 63. Ձև 64.

Որովհետև \angle բգա գտնվում է կիսաշրջապատի վերայ կամ կիսաշրջապատի ներսը գծուած մի անկիւն է, ուրեմն \sphericalangle Ո, հետեւարար և ագ ուղղահայեաց է բգ ին և է շոշափող:

Որովհետև երկու շրջանների շրջապատները կտրվում են եր-

կու կէտերում, ուրեմն մենք կատանանք միմեանց հաւասար շօ-
շափողներ (սա հեշտ է ապացուցանել)։ Իւրաքանչիւր շրջանի
գուրս գտնուող կէտից կարելի է քաշել նորան կրկու (հաւասար)
շօշափողներ։ Նոցանից կազմուած անկիւնը բաժանվում է երկու
հաւասար մասն այն ուղիղ գծով, որ անցնում է շրջանի կեն-
դրոնից, որին և նորա շօշափում են։

Յ. Ուղիղ գծի վերայ չգտնուող տուած երեք կէտերից ան-
ցուցանել շրջապատ

Եթէ միացնենք ա, բ, գ կէտերը երկու ուղիղ դժերով, այն ժա-
մանակ այս ուղիղ գծերը պէտքէ լինին ապագայ շրջապատի
լարերը (Ձև 64)։ Սորա համար և եթէ նոցա երկու հտասար
մասն անենք և նոցա մէջտեղից ուղղահայեաններ կանգնեցնենք,
այն ժամանակ գտանելի շրջապատի կենդրոնը պէտք է գտնուի
այդ երկու ուղղահայեանների վերայ, ապա ուրեմն՝ այնտեղ ուր
նորա կտրվում են. (օ կէտում) օա (օբ կամ օգ) կլինի այն ժա-
մանակ գտանելի շրջանի շառաւիղը, որի շրջապատը կանցնի ոչ
միայն ա կէտից, այլև բ և գ կէտերից, որովհետև օա, օբ, օգ
ուղիղ գծերը հաւասար են միմեանց օդա և օգբ, օեր և օեգ
եռանկեանց հաւասարութեան հիման վերայ։

[Ծանօթութիւն։ Վերջիշեալ խնդիրը կարելի է այսպէս առա-
ջարկել. հարկաւոր է մի դպրոց շինել այնպէս, որ նա գտնուէր
երեք գիւղերից ևս հաւասար հեռաւորութեամբ։]

Յաւելուած։ Որովհետև երեք կէտերը որոշում են արդ եռան-
կիւնին, ուրեմն վերջիշեալը վճռում է հետևեալ խնդիրը, գծել
եռանկեան շուրջը շրջան։

Որտեղ է գտնվում այդ շրջանի կենդրոնը ուղղանկիւն, բութ-
անկիւն և սուրանկիւն եռանկեանց մէջ (Ձև 65)։




Ձև 65.

Որովհետև ուղիղ անկիւնը գտնվում է կիսաշրջանի մէջ (կամ
դրուած է կիսաշրջապատի վերայ) ուրեմն նորա ներքնաձիգը
կլինի շրջանի տրամագիծը. գտանելի շրջանի կենդրոնը կգտնուի
ներքնաձիգի մէջտեղում. այդ իսկ պատճառաւ կենդրոնը գտնե-
լու համար պէտքէ միայն բաժանել ներքնաձիգը երկու հաւա-
սար մասերի։

Բութ անկիւնը գտնվում է կիսաշրջապատից մեծ աղեղի վե-
րայ, ուրեմն գտանելի շրջանի կենդրոնը կգտնուի եռանկեան մա-
կերևութից դուրս։

Սուր անկիւն եռանկեան իւրաքանչիւր անկիւնը գտնվում է
կիսաշրջապատից փոքր աղեղի վերայ, եռանկեան իւրաքանչիւր
կողմը կլինի այդպիսի աղեղի լարը. այդ իսկ պատճառաւ և դր-
տանելի շրջանի կենդրոնը կգտնուի եռանկեան ներսում։

6. Գծել եռանկեան մէջ շրջան. (եռանկեան կողմերը պէտքէ
շօշափին շրջանին. Ձև 66)։



Ձև 66.

Որովհետև (երգ խնդրին հա-
մաձայն) երկու շօշափողներից
կազմուած անկիւնը շրջանի կեդ-
րոնից անցնող ուղիղ գծի օգնու-
թեամբ բաժանվում է երկու հա-
ւասար մասերի, ուրեմն պէտք է
միայն երկու հաւասար մասն անել
եռանկեան երկու անկիւնները.
անկիւնները բաժանող երկու գծերի միմեանց կտրած տեղում
կգտնուի գտանելի շրջանի կենդրոնը. իսկ այն ուղղահայեացը,
որ կթողնուի կենդրոնից եռանկեան կողմերից մինի վերայ, կլինի
նորա շառաւիղը։

Կենդրոնից եռանկեան կողմերի վերայ թրջուած երեք ուղ-
ղահայեանների հաւասարութիւնը հետևում է երկզոյգ եռան-
կեանց հաւասարութիւնից. իսկ եռանկեան բոլոր երեք կողմերի
շօշափողներ լինելը շրջանին՝ հետևում է նորանից, որ նորա ուղ-
ղահայեաց են շառաւիղներին։

7. Ի՞նչպիսի քառանկեանց շուրջը և ինչպիսիների ներսը կարելի է շրջաններ քաշել:

ա) Քառակուսիների և ուղղանկյուն քառանկեանց շուրջը. մի խօսքով՝ ուղղանկյուն քառանկեանց շուրջը և քառակուսու մէջ:

Թէ ի՞նչպիսի է կախուած սա՞ — ինքն ըստ ինքեան հասկանալի է:


բ) Առ հասարակ այն բոլոր քառանկեանց դուրսը, որոց հանդիպակաց անկիւնների գումարը հաւասար են միմեանց և $\equiv 2\text{Ո}$:

Որովհետեւ իւրաքանչիւր շրջանի մէջ գծուած քառանկեան հանդիպակաց անկիւնների գումարը $\equiv 2\text{Ո}$:

Քառանկեան կողմերը գտանել շրջանի համար կլինին լարեր, իսկ սորանից յառաջանում է այն կանոնը, որով պէտքէ գտնել պահանջուած շրջանը:

գ) Իւրաքանչիւր այնպիսի քառանկեան մէջ, որի հանդիպակաց կողմերի գումարները հաւասար են միմեանց:

Որովհետեւ այս ստոյգ է շրջանից դուրս գծուած բոլոր քառանկեանց համար:



$$\begin{array}{l}
 \text{աբ} = \text{ար} \\
 \text{բե} = \text{բժ} \\
 \hline
 \text{աբ} + \text{բե} \left\{ \begin{array}{l} = \text{ար} + \text{բժ} \\ = \text{ար} \end{array} \right. \\
 \text{դգ} = \text{դը} \\
 \text{զզ} = \text{զժ} \\
 \hline
 \text{դգ} + \text{զզ} \left\{ \begin{array}{l} = \text{դը} + \text{զժ} \\ = \text{դը} \end{array} \right. \\
 \text{ար} + \text{դգ} \left\{ \begin{array}{l} = \text{ար} + \text{բժ} + \text{դը} + \text{եժ} \\ = \text{ար} + \text{բզ} \end{array} \right.
 \end{array}$$


Ձև 67.

Գտանել շրջանի կազմութիւնը հետևում է Յրդ խնդրից:

8. Գծել մի շրջապատ, որ շոշափէր տուած շրջապատին որոշեալ կէտում:

Անցցնելով տուած կէտին շառաւիղ և շարունակելով նորան շեպի վեր (Ձև 68), կարելի է այդ գծի իւրօրոնսյւր կէտից մին-

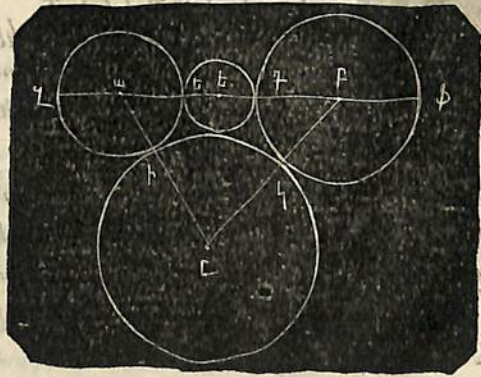
չև շոշափման կէտը շառաւիղ աւանդով խնդիրը լուծող շրջապատներ գծել: Բոլոր այդ շրջապատները տուած կէտի վերայ կունենան մի ընդհանուր շոշափման կէտ. ուրեմն շոշափում են միմեանց:



Ձև 68.

Այդ շրջապատները գտնվում են տուած շրջապատի գուլար կամ ներսը, կամ շրջապատում են նորան այնպէս, որ նա զըտնրվում է նորա մէջում: Այս երեք դէպքերը կախուած են կենդրոնի դրութիւնից և իւրաքանչիւր շառաւիղի մեծութիւնից, որ պարզ կարելի է տեսնել Ձևը դնելով:

Գ. Գծել մի շրջան, որ շոշափէր տուած երկու շրջաններին: Եթէ միայննք ուղղղ գծով երկու տուած շրջանների ա և բ



Ձև 69.

կենդրոնները (ձև 69), այն ժամանակ նոյն իսկ նկարից երև-


ու՛մ է, որ եղ, զբ, եֆ, զֆ գծերի մէջտեղեց՝ նոցա կէտով գրծուած շրջանները լուծու՛մ են խնդիրը:

Շրջանները թուով և են:

Իսկ բացի նոցանից միւրոնոյն խնդիրը լուծու՛մ են էլի շատ ուրիշ շրջաններ (անթիւ բազմութիւն):

Նրեակայէնք մեզ այդ շրջաններից մէկը, որի կենդրոնն է ը այն ժամանակ իր—կը: Այդ պատճառաւ էլ պէտքէ աի և բկ երկու շառաւիղներին հաւասար մասեր աւելցնել, և ստացած գծերով ա և բ կէտերից գծել մէկ կէտում կարուող (ը) շրջանների աղելները, այդ կէտը պէտքէ ընդունուի իրրև կենդրոն գտանելի շրջանի համար և այլն:

10. Ցուած ուղղանկիւն քառանկիւնին քառակուսու փոխարկել (Ձև 70):



աբ և ազ կողմերը շարունակենք ու կազմենք բե = ադ. բե ուղիղ գծի օ միջնակէտից օր շառաւիղով մի աղել գծե՛ք՝ որ կտրի ադ երկայնցրած գծին զ կէտում. այն ժամանակ բզէ եռանկիւնին զ կէտում կունենայ ուղիղ անկիւն: Գորանից յետոյ բզ գծի վերայ ի թէ կազմե՛ք բզէր քառակուսին, նա կունենայ արգղ ուղղանկիւն քառանկեան հետ հաւասար երես:

Սորան վերահասու լինելու համար քաշենք եր և զգ ուղիղ գծերը, որից

յետոյ կտեսնենք որ երը եռանկիւնին բզէր քառակուսու կէան է, իսկ զբզ՝ արգղ ուղղանկիւն քառանկեան կէան է: Բայց երը ու զբզ պատշաճական են, և զորա համար էլ հաւասար երես ունին. ուստի բզէր քառակուսին և արգղ ուղղանկիւն քառանկիւնին իրարու հաւասար են:

Յաւելուած: Մենք տեսանք, որ իւրաքանչիւր բազմանկիւնի կարելի է դարձնել իւրեան հաւասարաչափ եռանկեան, իւրա-

քանչիւր եռանկիւնի զուգահեռագծի, ուրեմն և ուղղանկիւն քառանկեան: Իսկ վերոյիշեալ կազմութեամբ ուղղանկիւն քառանկիւնին դառնում է քառակուսի:

Ուրեմն, իւրաքանչիւր ուղղազիծ ձևի մակերևոյթը կարելի է ընդունել իրրև քառակուսի ձև:

11. Գտնել շրջանի մակերևութի մեծութիւնը:

Մթէ որ շրջանի մէջ անցուցանենք երկու միմեանց փոխադարձաբար ուղղահայեաց տրամագծեր և միացնենք նոցա ծայրերը միմեանց ուղիղ գծերով՝ կատանանք շրջանի մէջ գծուած քառակուսի: Նորա մակերևոյթը փոքր կլինի շրջանի մակերևութից:

Նրեակայէնք թէ՛ շրջանի մէջ գծուած է կանոնաւոր վեցանկիւնի: Մթէ նորա անկիւնների գաղաթները միացնենք կենդրոնի հետ, այն ժամանակ վեց կենդրոնական անկիւններից իւրաքանչիւրը կլինի $\frac{360}{6} = 60^\circ$, և այս վեց եռանկեանց իւրաքանչիւր անկիւնը կլինի նոյնպէս $\frac{60}{2} = 30^\circ$: Այս եռանկեանց անկիւնները հաւասար են միմեանց, ուրեմն և հաւասարակողմն են. այդ պատճառաւ իւրաքանչիւր շրջանի շառաւիղը կարտունակուի շրջապատի վերայ 6 անգամ— Այդ վեցանկիւն բազմանկեան մակերևոյթը շրջանի մակերևութին աւելի կմօտենայ՝ քան թէ քառանկեան մակերևոյթը:

Իսկ եթէ գծենք շրջանի մէջ տասներկուանկիւն կանոնաւոր բազմանկիւնի, որի համար վեցանկիւն բազմանկեան կենդրոնական անկիւններից իւրաքանչիւրը պէտքէ երկու հաւասար մասն անել, լարեր անցնել և այլն, այն ժամանակ նորա մակերևոյթը առաւել կմերձենայ շրջանի մակերևութին: Որքան շատ կողմեր ունի շրջանի մէջ գծուած կանոնաւոր ձևը, այլքան նա աւելի մերձ է շրջանի կենդրոնին:

Ձևի գաղաթները կենդրոնի հետ միացնելուց կազմվում են հաւասար խարիսխ և հաւասար բարձրութիւն ունեցող հաւասար եռանկիւններ: Իսկ այն եռանկիւնները, որք ունին հաւասար բարձրութիւն՝ դրուած լինելով միմեանց վերայ, հաւա-

սորաչափ են մէկ այնպիսի եռանկեան, որ ունի նոյն բարձրութիւնը և որի խարխուլը հաւասար է միմեանց վերայ դրուած եռանկեանց խարխուլի գումարին: Համարենք թէ շրջանի մէջ գծուած է մի այնպիսի կանոնաւոր բազմանկիւն, որ ունի թուով չափազանց շատ կողմեր (100, 1000 և այլն), այնպէս, որ նորա մակերևոյթը (համարեայ) կծածկէ շրջանի մակերևութին: Եթէ երևակայենք, որ այդ եռանկեանց գումարը հաւասար է այնպիսի մի եռանկեան, որի բարձրութիւնը կարելի է վերցնել շառաւիղին հաւասար, իսկ խարխուլը հաւասար է բոլոր խարխուլների գումարին. քի՛ հաւասար է շրջապատին, այն ժամանակ հեշտ է հասկանալ, որ շրջանի մակերևոյթը հաւասար է այն եռանկեան մակերևութին, որի խարխուլը հաւասար է շրջապատին, իսկ բարձրութիւնը — շառաւիղին: Այդ մակերևոյթը կդանուի, եթէ բազմապատկենք միմեանց հետ այն թուերը, որք ցոյց են տալիս շրջապատի և շառաւիղի մեծութիւնը և բաժանել արտադրեալը շտի վերայ: Եթէ Բ ցոյց է տալիս շրջապատը (բովանդակագիծը), Շ շառաւիղը, այն ժամանակ շրջանի մակերևոյթը

$$= \frac{Բ \cdot \Gamma}{2} = \frac{Բ}{2} \cdot \frac{\Gamma}{2}$$

Այսպէս ուրեմն խնդիրը պահանջում է որոշել շառաւիղի կամ տրամագծի յարաբերութիւնը շրջապատի հետ. քի՛ շառաւիղով կամ տրամագծով որոշել համապատասխան շրջապատը Բ այց որովհետև շառաւիղը և տրամագիծը ուղիղ գծեր են, իսկ շրջապատը — կոր, ուրեմն այդ յարաբերութիւնը կարելի է սնտառապէս միայն գտնել 1): Նա գտնուած է արդէն զիտնակա-

1) Կոր փայտի շուրջը պէտքէ թել փաթաթել եւ համեմատել նորա երկայնութիւնը տրամագծի հետ:

Ի նմանով մի որևէ է նախապարհի երկայնութիւնը եւ այն անիւի տրամագիծը, որը եւ պէտքէ զլորուի այդ նախապարհով, հեշտ է համարել այն դարձուացքների թիւը, որ անւը այդ նախապարհի վերայ կանէ: Եթէ յայտնի է տրամագիծը եւ դարձուացքների թիւը, հեշտ է պոտել նախապարհի երկայնութիւնը:

նայց ձեռքով հին ժամանակներում և ձեակերպովում է այսպէս. 7 : 22, կամ 100 : 314, քի՛ էթէ տրամագիծը բաժանենք 7 կամ 100 մասերի, այն ժամանակ շրջապատը կունենայ 22 կամ 314 այդպիսի մասեր: Եթէ Տ տառով նշանակենք տրամագիծը Շ տառով շրջապատը, այն ժամանակ

$$\Gamma = \frac{22}{7} \cdot S \text{ կամ } \frac{314}{100} S, S = \frac{7}{22} \cdot \Gamma \text{ կամ } = \frac{100}{314} \Gamma:$$

Օրինակ: Ասենք թէ S = 10 սան". Որոշեցէ՛ք շրջապատի և շրջանի մակերևութի մեծութիւնը:

Պատասխան: $\frac{22}{7} \cdot 10 \text{ սան}'' = 31\frac{3}{7} \text{ սան}''$. շրջանի մակերևոյ-

թը = $31\frac{3}{7} \cdot 5 = 157\frac{1}{7} \text{ քառ}''$. սան":

Ենթադրենք: Եթէ կարելի լինէր գտնել տրամագծի շրջապատի հետ ունեցած ոչ միայն մասաւորապէս, այլ բոլորովն ճիշտ և խիստին յարաբերութիւնը, հեռուարար և գտնել մի այնպիսի եռանկեանի, որի մակերևոյթը բոլորովն հաւասար լինէր շրջանի մակերևութին և այդ եռանկեանին դարձնել իւրեան բոլորովն հաւասարաչափ քառակուսու, այն ժամանակ հենքի խնդիրը, քի՛ շրջանին հաւասար քառակուսու չափը որոշելը՝ վճռուած կլինէր: Սակայն մինչև այսօր նորան վճռել չեն կարողանում և ոչինչ յոյս չի կարելի ունենալ, որ երբ և իցէ լուծեն նորան: Այս պատճառաւ ներկայումս անգործ մարդիք միայն պարապում են այդ անլուծանելի խնդրով: այն հիման վերայ անլուծելի, որ կոր զիծը չէ կարելի ճշտօրէն ուղիղ գծով չափել:

12. Լիւրջօլիկան թիւը և այլն:

1. Շրջանի մակերևութի չափելուն և գտնելուն վերաբերեալ խնդիրը մենք վճռել ենք շատ կարճ կերպով: Բայց անօգուտ չէ լինիլ այս առարկան արծարծել մի փոքր ընդարձակ և ճշտօրէն:

Գծելով շրջանի մէջ մի կանոնաւոր բազմանկիւնի և աստիճան առ աստիճան կրկնապատկելով նորա կողմերը մինչև բազ-

մանկիւնին ստանար չափազանց շատ կողմեր՝ կարելի է (առանց նշանաւորը սխալի) ընդունել, որ շրջապատը հաւասար է բազմանկեան կողմերի թուին, իսկ շրջանի մակերևոյթը հաւասար է բազմանկեան մակերևութին:

Որովհետև կանոնաւոր բազմանկեան մակերևոյթը հաւասար է այնպիսի եռանկեան մակերևութի, որի խարխուլը հաւասար է բազմանկեան կողմերի գումարին, իսկ բարձրութիւնը բազմանկեան բարձրութեանը (ք կողմի կենդրոնից ունեցած տարածութեանը), ուրեմն շրջանի մակերևոյթը հաւասար կլինի այնպիսի եռանկեան մակերևութի, որի խարխուլը հաւասար է շրջապատին, իսկ բարձրութիւնը շրջանի շառաւիղին: Այս պատճառաւ շրջանի մակերևութի մեծութիւնը կգտնուի, երբ շրջապատը և տրամագիծը նշանակինք նոյն մեծութեան չափով բազմապատկենք միմեանց հետ այդ թուերը և բաժանենք արտադրեալը 2 ի վերայ: Ստացած թիւը կորոշէ շրջանի մակերևոյթը այն զծական չափի քառակուսով, որով որոշուած էին շրջապատը և տրամագիծը: Աթէ վերջինները առնուած էին իբրև ոսնաչափեր, այն ժամանակ շրջանի մեծութիւնը կորոշուի քառակուսի ոսնաչափերով և այլն:

2. Ուղիղ գիծը իւր մի որևէ ծայրի շուրջը պտտցնելով շրջան կազմելիս՝ հեշտ է նկատուի, որ շրջապատի երկայնութիւնը կախուած է շառաւիղի երկայնութիւնից և նորանով որոշվում է, միևնոյն ժամանակ նորա հետ էլ մեծանում ու փոքրանում է, որ երկու անգամ երկայն շառաւիղին համապատասխանում է և երկու անգամ երկայն շրջապատ. կարճ ասել, որ երկու շրջանների շրջապատները յարաբերում են միմեանց այնպէս, ինչպէս նոցա շառաւիղները կամ տրամագծերը, և որ շրջապատի տրամագծի հետ ունեցած յարաբերութիւնը բոլոր շրջանների մէջ ել միևնոյնը կլինի:

Ըստ այսմ առաջ առաջ պէտք է որոշել այդ յարաբերութիւնը, որ յետոյ կարելի լինի իւրաքանչիւր տրամագծի համար հաշուել նորա շրջապատի երկայնութիւնը:

Քայց որովհետև տրամագիծը ուղիղ գիծ է, իսկ շրջապատը կոր, ուրեմն այս վերջինը չէ կարող չափուել տրամագծի միջոցով լիակատար (մաթեմատիքական) ճշտութեամբ: Հին ժամանակներից արդէն, ինչպէս և վերը ասուած է՝ թուաբանները գտնում էին գտանելի յարաբերութիւնը. այսպէս Արքիմէտէսը, որ ապրում էր Ք.թ. դարում Քրիստոսից առաջ, որոշեց տրամագծի շրջապատի հետ ունեցած մասւոր յարաբերութիւնը = $\frac{22}{7} = 1 : \frac{31}{7}$. ուրեմն տրամագիծը կպարունակուի շրջապատի մէջ $\frac{31}{7}$ անգամ:

Վերոյիշեալ 7 : 22 յարաբերութիւնը բաւականին ճիշտ է համարեա գործնականութեան մէջ, որտեղ մեծ ճշտութիւն չէ պահանջվում: Միայն եթէ այս յարաբերութիւնը ընդունենք իբրև հիմք, այն ժամանակ գտած շրջապատը նոյնպէս և շրջանի մակերևոյթը կլինին խիստ անճշտից մի քիչ մեծ:

Աւելի ճիշտ գտաւ այս յարաբերութիւնը Մեկիոս անուամբ հոլլանդացի թուաբանը = $133 : 355$, բայց այս թուերը անյարմար են հաշուհանութեան ժամանակ. այս պատճառաւ և գործածութեան համար նախադասում են Նիպերլանդացի թուաբան Լիւդովի գտած յարաբերութիւնը $100 : 314$ (ճիշտը $1000 : 3142$, առաւել ճիշտ $10000 : 31416$ և այլն) որովհետև նորա մէջ տրամագիծը նշանակվում է 10, կամ 100, կամ 1000 կամ 10000, մի խօսքով՝ ասանորդական միութիւններով, այնպէս որ ասանորդական կոտորակներում նոցա հետ հեշտ է կատարվում հաշուհանութիւն: Անթաղրելով տրամագիծը = 1, շրջապատը կորոշուի 3, 14 ով, 3, 142, 3, 1416 և այլն: Այս թուերը այն աստիճան ճիշտ են, որ առաջինի գործածութեան ժամանակ $\frac{1}{100}$ կէսից պակաս սխալ ենք անում, երկրորդի ժամանակ $\frac{1}{1000}$ կէսից պակաս և այլն 1):

1) Եթէ տրամագիծը = 1, այն ժամանակ 3, 1 տալիս է չափազանց փոքր շրջապատ, իսկ 3, 2 չափազանց մեծ. 3, 14 չափազանց փոքր, 3, 15 չափազանց մեծ, 3, 144 չափազանց փոքր, 3, 142 չափազանց մեծ:

Այսպիսի փոքր թուերի բոլոր յարաբերութիւններից ամենաճիշտ յարաբե-

Իհարկէ կարելի է շրջապատի երկայնութիւնն էլ նշանակել տրամագծի մասերով: Այդ ցոյց տուող թիւը կոչուում է նորան գտնող զիանական Լիւդօլֆի անուամբ՝ Լիւդօլֆիական թիւ: Հաշուելու մէջ կարծութեան համար, նա նշանակուում է յունական π տառով (ասում են՝ պի). շառաւիղը նշանակուում են r տառով. իսկ մակերեսը F տառով (Fläche) [կամ S (Surface կայն)]:

3. Այս տառերի օգնութեամբ հեշտ է ձևակերպել հետևեալ խընդիրները, որոց հարկաւոր է լուծել:

- ա) Եթէ շառաւիղը կլինի r այն ժամանակ շրջապատը $= 2r\pi$:
- բ) Շրջանի մակերեսը F , հասնում է այն արտաբնական, որ ստացվում է շրջապատը շառաւիղի կէտի վերայ բազմապատկելուց, կամ այն արտադրեալին, որ ստացվում է շրջապատի կէտը ամբողջ շառաւիղի վերայ բազմապատկելուց:

$$2 r \pi \cdot \frac{r}{2} = \frac{2r\pi}{2} \cdot r = r^2 \pi.$$

Յ՞ շրջանի մակերեսը կդանուի, երբ շառաւիղին քառակուսին բազմապատկենք π թուի վերայ:

- գ) Եթէ տուած է շրջապատը՝ շառաւիղը գտնելու համար պէտք է շրջապատի կէտը բաժանենք π թուի վերայ:
- դ) Եթէ տուած է շրջանի մակերեսը՝ շառաւիղը ստանալու համար պէտք է մակերեսը բաժանենք π թուի վերայ, և քառորդից քառակուսի արմատ հանենք:

[Ծանոթութիւն: Այստեղ անտեղի կլինէր ցոյց տալ թէ ինչպէս է հանվում քառակուսի արմատը և թէ՛ ինչպէս թուերի մեծ մասերի համար այդ միայն մտաւորապէս կարելի է հանել:

բուժիւնն է 113 : 355 (նորան հեշտ է մտաւորել 11 [33] 55):
 Նշանակելով նորան տասնորդական կտորակո՛ւ, կդանենք մի թի, որը մի-
 այն, ճող թուանշանից սկզբաւ կգանազանուի ճիշտ (ես առաւել ճիշտ)
 մեծութիւնից:

սակայն երկրաչափական ձևերով էլ կարելի է քառակուսի արմատ գտնել: Օրինակի համար ընդունենք թէ՛ շառաւիղի քառակուսին $= 100 \square$ ոտն". վերլուծելով 100 թիւը 2 կամուոր բազմապատկչների վերայ, 100 և 4, 50 և 8, 25 և 16, 20 և 20, դժոււմ են մի ուղղանկէն քառանկէնի, որի կողմերը համապատասխանում են այս բազմապատկչներին, օրինակ 25 և 16: Այս ուղղանկէն քառանկէնին կսլլել է այնպիսի քառակուսու փոխարկել, որի կողմը և կկազմէ զտաննի քառակուսի արմատը: Իհարկէ գործնականութեան մէջ սորանից այնքան օգուտ չեն քաղում, որովհետեւ այդ կերպ դժելը և կարկնով չափելը մեծ ճշտութիւն չէ տալիս:

- 4. Հաշուահաննք շրջանի կլի քանի մի մասերը:
- ա) Շառաւիղով և կենդրոնական անկիւնով որոշել նորան համապատասխան արկղը:

Սորա համար հաշվում են շրջապատը շառաւիղով և առնում են նորա այնպիսի մասը, որպիսին կազմում է 360 աստիճանից առած անկիւնը:

- Օրինակ: $r = 12$ ոտ". կենդրոնական անկիւնը $= 36^\circ$,
- Շրջապատը $= 2 \cdot 12 \cdot 3, 11$.
- Արկղը $\dots = 2 \cdot 12 \cdot 3, 11 \cdot \frac{36}{360}$
- բ) Շառաւիղի և կենդրոնական անկեան օգնութեամբ գտնել հատածը:

Գտնում են մակերեսը և առնում են նորա այնպիսի մասը, ինչպիսի անկիւն և կազմում է 360 աստիճաններից:

- Օրինակ: $r = 8$ ոտ" կենդրոնական անկիւնը $= 45^\circ$,
- Շրջանի մակերեսը $= 3 \cdot 8 \cdot 3, 11$.
- Հատածը $\dots = 3 \cdot 8 \cdot 3, 11 \cdot \frac{45}{360}$
- գ) Ըստ շառաւիղի, կենդրոնական անկեան և լարի՝ գտնել հատածը:

Հատուածը կալում է հատածի և հաւասարադունք եռանկեան մէջ եղած տարբերութիւնը: Հատածը հաշվում է այնպէս, ինչպէս վերը ցոյց տրուեցաւ՝ շառաւիղով և կենդրոնական

անկեամբ. իսկ եռանկիւնին իւր խարսխով ու բարձրութեամբ: խարխսր (լարը) տուած է. իսկ բարձրութիւնը գտնվում է Պիւթազորեան կանոնով, և խարխսխով ու բարձրութեամբ.— եռանկեան գտանելի մակերևոյթը: եռանկեան մակերևոյթը հասնելով հատածի մակերևութից, կտանանք հատուածի մակերևոյթը:

6 Ա Ի Ե Լ Ո Ի Ա Մ:

[Մի քանի խնդիրներ էլ գործիքների օգնութեամբ լուծելի:
1. Տրուած երկայնութեամբ լարը (բոլորովին կամուռ) անցցնել շրջանի մէջ:

2. Անցցնել շրջանից դուրս գտնուող ուղիղ գծին զուգահեռական մի լար:

3. Գծել ուղղանկիւն, սուրանկիւն և բութանկիւն եռանկեանց մէջ, այլև քառակուսու, շեղականի և կանոնաւոր բազմանկեան ներսը և դուրսը շրջաններ:

4. Գծել շրջանի ներսը և շուրջը ուղղանկիւն, սուրանկիւն և բութանկիւն եռանկիւններ, քառակուսիք, կանոնաւոր բազմանկիւնիք (եռանկիւնիք, քառանկիւնիք և վեցանկիւնիք):

5. Գծել զանաղան մեծութեամբ շրջաններ, որք շօշափէին տուած անկեան կողմերը:

6. Գծել մի շրջապատ, որ քսուէր որոշեալ ուղիղ գծին որոշ կէտում և անցնէր միւս որոշեալ կէտից:

7. Գծել մի շրջապատ, որ քսուէր միւս շրջապատին տուած կէտում և անցնէր այն տրուած կէտից, որ գտնվում է տրուած շրջապատի կամ ներսը և կամ դուրսը:

8. Գծել մի շրջան, որ քսուէր միւս շրջանին որոշեալ կէտում և — մի ուղիղ գծի, որ ունի որոշեալ զրութիւն՝ գտանելի կէտում:]

13. Թուարանական խնդիրներ:

[1. Ի՞նչն է հաւասար այն շրջանի բովանդակագիծը (շըր-

ջապատ), որի տրամագիծը հաւասար է 6 մասնաչափի և 8 գծի (21 մասնաչափի 3, 52 գծին):

2. Ի՞նչն է հաւասար այն շրջանի տրամագիծը, որի շրջապատը=50 ստնաչափի, ընդունելով $\pi=22:7$. ($15^{10}/_{11}$ ստն):

3. Ո՞րքան տրամագիծ պէտք է ունենայ այն կլոր սեղանը, որի շուրջը կարող են նստել 12 մարդիք, իւրաքանչիւր մարդու համար 2 ստն. հաշուելով ($7^{7}/_{11}$ ստն. 22:7 և 7, 64 ստն. 314: 100 յարաբերութեան ժամանակ):

Կառքի առաջի անոյ տրամագիծը հաւասար է 3 ստն. իսկ յետինի տրամագիծը— $4^{1}/_{2}$ ստնաչափի: Ո՞րքան անգամ կպտտուին յետին անիւները այն տարածութեան վերայ, որ տարածութեան վերայ առջևիւնները պտտվում են 1000 անգամ: (1000, 3 : $4^{1}/_{2}=666^{2}/_{3}$ անգամ):

5. Որոշեցէ՛ք այն սեղանի մակերևոյթը, որի տրամագիծը հաւասար է 5 ստնաչափի: ($19^{9}/_{14}$ քառ. ստնաչափի):

6. Սպիտակ շրջանի վերայ նորա ներսից շինած է մի սև շրջան, որի տրամագիծը հաւասար է 6 մասնաչափի, իսկ բոլոր շրջանի տրամագիծը 3 ստնաչափի— Ո՞րքան է սպիտակ շրջանի մակերևութի մեծութիւնը: ($707^{1}/_{7} - 28^{2}/_{7} = 678^{6}/_{7}$ քառակուսի մասնաչափի=4 քառ. ստն. 102 $^{6}/_{7}$ քառ. մաս):

7. Նրջանի տրամագիծը=15 ստն. քառակուսու մի կողմը ևս միևնոյն երկ. յութիւնն ունի. գտէ՛ք երկրորին մակերևոյթների յարաբերութիւնը և շրջապատի քառակուսու կողմերի գումարի հետ ունեցած յարաբերութիւնը: (171: 600 և 176, $^{625}/_{225}$): (Իբրև π առնվում է 314 : 100):

8. Քառակուսու կողմերի գումարը և շրջանի շրջապատը հաւասար են միմեանց և պարունակում են առանձին առանձին 26 ստն. և 2 մաս. ի՞նչպէս են յարաբերում միմեանց նոցա մակերևոյթները:

9. Մէկ շրջանի տրամագիծը=5 մաս. միւսինը=20 մաս. ի՞նչպէս են յարաբերում միմեանց՝ ա) նոցա տրամագծերը, բ) շրջապատները, գ) մակերևոյթները: (ինչպէս 1:4, 1:4, 1:16):

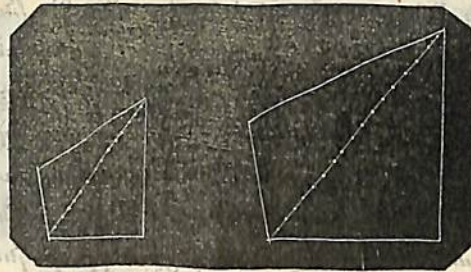
Այդպիսի եռանկիւնիներ կառացուին թուով 9 հատ: Սորանից հետևում է, որ եթէ երկու նման եռանկեանց կողմերը յարաբերում են միմեանց այնպէս, ինչպէս 1:3, այն ժամանակ նոցա մակերևոյթների յարաբերութիւնը հաւասար է $1:9 = 1:3 \cdot 3$:

Միւսնոյն կերպով կրօնենք, որ եթէ երկու նման եռանկեանց կողմերը յարաբերում են միմեանց ինչպէս 1:4, այն ժամանակ նոցա մակերևոյթները կ'յարաբերեն ինչպէս 1:16: Եթէ կողմերի յարաբերութիւնը $= 2:3$, այն ժամանակ մակերևոյթների յարաբերութիւնը $= 2 \cdot 2:3 \cdot 3$, ինչ երկու նման եռանկեանց մակերևոյթները յարաբերում են միմեանց այնպէս, ինչպէս նոցա կողմերի քառակուսիները. ուրեմն և կողմերը յարաբերում են միմեանց — ինչպէս մակերևութների քառակուսի արմատները: Յաւելուած: Եթէ մեր ասածները ձևակերպենք նկարի մէջ, այն ժամանակ նկարը կ'օգնէ մեզ խնդիրը լուծելում: Բաժանել ուղիղ գիծը քանի մի հաւասար մասերի. օրինակ 3, 5, 7 մասերի:

Սորա համար բաժանել ուղիղ գծի մի որևէ ծայրից անցրցնում են նորա վերայ կամաւոր անկիւն կազմելով մի անորոշ երկայնութեամբ ուղիղ գիծ, որի վերայ անկեան զաղաթից նըշանակում են որևէ քանակութեամբ հաւասար մասեր, որից յետոյ անցցնում են համապատասխան զուգահեռականներ:

3) Երկու նման ձևեր նմանազիր անկիւնազծերի օգնութեամբ բաժանվում են միմեան եռանկեանց: Իւրաքանչիւր երկու նըման եռանկեանց մակերևոյթները յարաբերում են միմեանց այնպէս, ինչպէս անկիւնազծերի քառակուսիները, իսկ այդ անկիւնազծերի քառակուսիները յարաբերում են այնպէս, ինչպէս իւրաքանչիւր երկու նմանազիր կողմերի քառակուսիները. ուրեմն իւրաքանչիւր երկու նման ձևերի մակերևոյթները յարաբերում են միմեանց այնպէս՝ ինչպէս համապատասխան կողմերի քառակուսիները: Կիցուք թէ երկու համապատասխան կողմերը յարաբերում են միմեանց ինչպէս 2:5, այն ժամանակ մակերևոյթները կ'յարաբերին ինչպէս $2 \cdot 2:5 \cdot 5 = 4:25$ (Ձև 72),

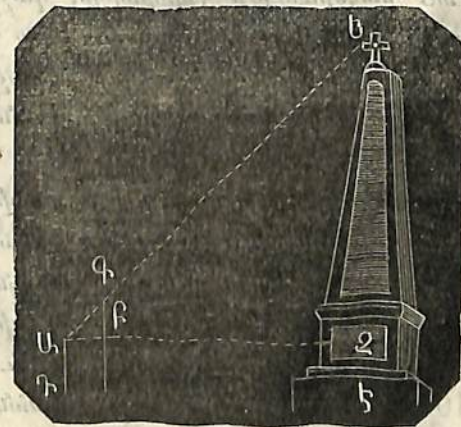
մեծ ձևի կողմը $\frac{5}{2}$ կամ $2\frac{1}{2}$ անգամ մեծ էր փոքր ձևի համապատասխան կողմից. իսկ մեծ ձևի մակերևոյթը կլինի $6\frac{1}{4}$ անգամ արդէն մեծ փոքրի մակերևութից: Մակերևոյթները մե-



Ձև 72.

ծանում են առաւել արագ՝ քան կողմերը, իսկապէս քառակուսական յարաբերութեան մէջ. այն ինչ կողմերը աւելանում են հասարակ յարաբերութեան մէջ:

4) Նման ձևերի օգնութեամբ կարելի է լուծել զանազան խնդիրներ, օրինակ՝ գտնել սեան, ամրոցի և այլ բաների բարձրութիւնները: Կիցուք թէ, եւ սիւնը կանգնած է Դէ հաւասար տարածութեան վերայ (Ձև 73): Մէկ յարմարաւոր տեղ են ընտրում զննութեան համար. օրինակ Դ կէտում: յետոյ



Ձև 73.

հարթաչափի օգնութեամբ կամ մի այլ միջոցով որոշում են ԱԶ

զուգահեռական ուղիղ գծի դրութիւնը. Ա կէտից նայում են Ե կէտի վերայ և Բ կէտում կանգնեցնում են ԲԳ ուղղահայեացքը. յետոյ չափում են ԱԲ, ԲԳ և ԱԶ գծերը:— Մենք ունինք այժմ ԱԲԳ և ԱԶն երկու նման եռանկիւնիները. ուրեմն՝

ԱԲ : ԲԳ = ԱԶ : բարձրութիւնը կազմող Ձն ին, որին գրտնում են համեմատութեան երեք յայտնի անդամներով: Ձն + Ձն = 2ն + ԱԳ՝ կլինի ամբողջ սեան բարձրութիւնը:


[Մանօթուծիւն: Եթէ ուղղահայեաց դրութեամբ ցցենք գետնի մէջ մի ձող և միևնոյն ժամանակ գննենք չափելի սեան և ձողի ստուերները, այն ժամանակ մենք կստանանք 2 նման եռանկիւնիներ, որովհետև արեգակի ճառագայթները ընկնում են զուգահեռական կերպով, և ձողի ստուերի երկայնութիւնը յարաբերում է նոյն իսկ ձողի երկայնութեանը այնպէս, ինչպէս սեան ստուերի երկայնութիւնը յարաբերում է նոյն իսկ սեան զտանելի երկայնութեանը:

Օրինակ: Ձողի ստուերը = $6 \frac{2}{3}$ ոտնաչափի, կողմը = $3 \frac{3}{4}$ ոտնաչափի, սեան ստուերը = 210 ոտն՝, սեան հաստութեան կէսը = 10 ոտն՝.— Որոշեցէ՛ք սեան բարձրութիւնը ($140 \frac{5}{8}$ ոտնաչափ)]:

5) Եթէ կամենում են թղթի վերայ անցցնել մի որևէ չափուած և գտնուած մակերևութի (պարտիզի, դաշտի) նկարը, փոքրացնելու համար հարկաւոր է գծաչափ: Սորս համար առհասարակ գործ են ածում համեմատական գծաչափը: Մենք կասենք այստեղ քանի մի խօսք նորա կազմութեան և գործածութեան մասին:

Ուղիղ գծի վերայ (Ձև 74) նշանակում են քանի մի հաւասար մասեր. զբ, բա և այլն. իւրաքանչիւրը օրինակ՝ մի մասնաչափ երկայնութեամբ. Ե կէտից աե գծին անցցնում են ԵՖ կամուոր երկայնութեամբ ուղղահայեաց ուղիղ զիծը, և քաշում են աեՖը ուղղանկիւն քառանկիւնին. ԵԳ և ԵՖ գծերը բաժանում են 10 հաւասար մասերի և բաժանման կէտերում նշանակում են թուանշաններ այն կարգով, ինչ կարգով որ ցոյց

է տրուած ձևի վերայ: ԵՖ գծի բաժանման կէտերից անցուցանում են աե գծին զուգահեռականներ, իսկ Ֆ կէտը միացնում են ուղիղ գծով Թ-րդ կէտի հետ և այլն, ինչպէս ցոյց է տրուած ձևի վերայ:



Ձև 74.

Եթէ ար, բզ, գզ, դե գծերը կազմում են ամբողջ միութիւններ (սաժէններ, ոտնաչափեր և այլն), այն ժամանակ դե-ի մասերը, օրինակ՝ ԵԳ, կկազմեն տասերորդ մասերը, իսկ այն մասերը, որք հետևաբար զանվում են ԵԹ-ից բարձր՝ ՖԵԹ Եռանկեան մէջ՝ կկազմեն $\frac{9}{10}$, $\frac{8}{10}$ և այլն ԵԹ մասերի մինչև $\frac{1}{10}$, որք զանվում են Ֆ զազաթի մօտ: Այսպէս ԵԹ զիծը կլինի մէկի $\frac{1}{10}$ ը, այն ժամանակ այս մասի $\frac{1}{10}$ ը կլինի միութեան $\frac{1}{100}$ ը, այս մասի $\frac{2}{10}$ ը կլինի միութեան $\frac{2}{100}$ ը, նորա $\frac{3}{10}$ ը կըլինի միութեան $\frac{3}{100}$ ը և այլն, այնպէս որ այսպիսի կազմութեան ժամանակ կարելի է չափել և անցցնել թղթի վերայ միութեան հարիւրերորդ մասերը: Օրինակ, եթէ կամենում են այս գծաչափով անցցնել 3 ամբողջ, 6 տասներորդ մասեր և 5 հարիւրերորդ, այն ժամանակ կարկինի մի սրունքը դնում են է կէտի, իսկ միւսը ք կէտի վերայ: (Համեմատական գծաչափի գործադրութիւնը հեշտանում է փորձով:

XI ՄԱՐՄԻՆՆԵՐԸ ԵՒ ՆՈՅԱ ՉԱՓՈՒՄԵ.

Հատուածակողմն կամ սղոցած կոչվում է այն մարմինը, որ շրջա-

պատուած է իւր խարխիսներէ վերայ երկու միմեանց զուգահեռական և հաւասար ձևերով, իսկ կողքերից շրջապատուած է այնքան ուղղանկիւն քառանկիւնիներով, որքան կողմն և ունի իւրաքանչիւր խարխիսը: Եթէ որ կողքի երեսները խարխիսների վերայ ուղղահայեաց են, հատուածակողմը կոչվում է ուղիղ. իսկ եթէ ոչ — շեղ:

Եթէ ուղիղ հատուածակողմի խարխիսները և կողքի երեսները վեց հաւասար քառակուսիներ են, նա կոչվում է խորանարդ:

Եթէ որ խարխիսների երեսները նոյնպէս զուգահեռադձեր են (ինչպէս և կողքի երեսները), այն ժամանակ հատուածակողմը կոչվում է զուգանեոտոն:

Պլան կոչվում է այն մարմինը, որ շրջապատուած է երկու միմեանց հաւասար շրջաններով և մէկ կորընթարթ կողմնական մակերևութով, որի վերայով կարելի է ուղիղ դձեր անցցնել մի ուղղութեամբ: Պլանները լինում են կամ ուղիղ՝ կամ շեղ:

Բուրդ կամ յուրան կոչվում է այն մարմինը, որ շրջապատուած է ուղղադիւր ձևով և այնքան մի զազաթում հաւաքուող եռանկիւնիներով, որքան և կողմեր ունի ձևը:

Աոն կոչվում է այն մարմինը, որի խարխիսը մի շրջան է՝ իսկ կողքը կորնթարթ մակերևոյթ, որ վերջանում է կազմելով վերեւում մի սուր ծայր և որի վերայ կարելի է անցցնել ուղիղ դձեր զազաթից խարխիսի վերայ: Աոները կարող են լինել ուղիղ և շեղ:

Գունտը մի մարմին է, որ շրջապատուած է այնպիսի մէկ կորընթարթ մակերևութով, որի բոլոր կէտերը միահաւասար հեռաւորութիւն ունին մի միջնակէտից, որ կոչվում է կենդոն:

Թէ ինչպէս յիշեալ երեք երկրաչափական մարմինները՝ զլանը, կոնը և գունտը կարող են կազմուել հարթ ձևերի պտտուելուց, հեշտ է հասկանալ:—

Եթէ ուղղանկիւն քառանկիւնին պտոյտ տրուի իւր կողմերից մինի շուրջ, այն ժամանակ կտացուի ուղիղ գլան:

Եթէ ուղղանկիւն եռանկիւնին պտոյտ տրուի իւր էջի շուրջը,

կտացուի կոն:

Եթէ կիսաշրջանը պտոյտ տանք իւր տրամագծի շուրջը, կտացուի գունտ:

Ուղղանկիւն քառանկեան շրջելու ժամանակ հանդիստ մնացած կողմը կազմում է զլանի առանցքը, նոցա վերայ գտնուող կողմերը գծում են խարխիսի կըր մակերևոյթները, հանդիպակաց կողմը — զլանի կողքի մակերևոյթը: Այս վերջին կողմի իւրաքանչիւր կէտը գծում է խարխիսի շրջապատին հաւասար և զուգահեռական մի շրջապատ, այդ պատճառով էլ, եթէ զլանը կարելու լինինք խարխիսի մակերևութին զուգահեռական մակերևութով, այն ժամանակ կտրած տեղում կտացուի խարխիսին հաւասար և զուգահեռական մի շրջան, այսպիսով զլանը կբաժանուի երկու մասերի:

Ուղղանկիւն եռանկեան պտտուելու ժամանակ նորա անշարժ մնացած էջը կկազմէ կոնի առանցքը, միւս էջը կգծէ խարխիսի մակերևոյթը, իսկ ներքնաձիգը կողքի մակերևոյթը: Եռանկեան մէջ պտտուող էջին զուգահեռաբար անցուցած ամեն մի ուղիղ դիւր կգծէ խարխիսին զուգահեռական մի շրջան, որը որքան մտանայ կոնի զազաթին, առաւել և առաւել կկորցնանայ: Ըստ այսմ, եթէ կարելու լինինք կոնին իւր խարխիսին զուգահեռական մակերևութով, կտանանք մի շրջան, և կոնը կբաժանուի երկու մասերի. ստորին (զլխատ, ծայրատեալ կամ հատեալ կոն) և վերին (խկական, փոքր կոն):

Եթէ բութանկիւն եռանկիւնին պտտենք բութ անկիւն կազմող կողմերից մինի շուրջը, այն ժամանակ կտացուի մի մարմին, որը կոն կզառնար, եթէ աւելացնէինք նորա վերայ միւս կոնը, որի կողքի մակերևոյթը կազմուած է լինում բութ անկեան երկրորդ կողմով: Եթէ բութանկիւն եռանկիւնին պտտենք բութանկեան դիմացը գտնուող կողմի շուրջը, այն ժամանակ կտացուի կրկնակի կոն, կամ երկու խարխիսները միմեանց հանդիպող կոն: Նոյնը կտացուի, եթէ պտտելու լինինք սուրանկիւն եռանկիւնին իւր կողմերից մինի շուրջը:

կիսաշրջանը պտտելիս անշարժ մնացած տրամագիծը կազմում է այս պտտյալից յառաջացած գնտի տրամագիծը, որ ստացվում է այդ կերպ շրջելուց. կիսաշրջանի մակերևույթը գծում է գնտի տարածութիւնը, իսկ կիսաշրջանի աղեղը — գնտի մակերևույթը: Իւրաքանչիւր մի ուղիղ գիծ, որ թողնւ-վում է տրամագծի վերայ մինչև շրջապատն ընդհատելը՝ շրջան է կազմում, և այս շրջաններից ամենամեծը այն կլինի, որ կու-նենայ գնտի հետ մի ընդհանուր կենդրոն. մնացեալները այնքան աս-աւել փոքր կլինին, որքան հեռու լինին այս միջին շրջանից: Եթէ անշարժ թողած տրամագիծը երկրի առանցքը ընդունենք, այն ժամանակ տրամագծի ծայրակէտերը կկազմեն բևեռները, ամենամեծ շրջանը — հասարակածը, իսկ նորան զուգահեռա-կան փոքր շրջանները — զուգահեռական գծերը, որոնցից նո-քա՝ որք հեռացած են հասարակածից $23\frac{1}{2}^\circ$, կոչվում են արևա-դարձեան գծեր, իսկ $66\frac{1}{2}^\circ$ հասարակածից կամ $23\frac{1}{2}^\circ$ բևեռից հեռացածները — բևեռային շրջաններ:

Վերոյիշեալ մարմինների բռնած տարածոցը կոչվում է նոցա խորանարդ պարունակութիւնը, ծաւալը: Նորա մեծութիւնը չափում են խորանարդների օգնութեամբ, քի որոշում են թէ որքան քառակուսի ստնաչափ, քառակուսի վերջոյի, քառակուսի մղոն և այլն է պարունակում ծաւալը: Խորանարդ ստնաչափը մի այնպիսի խորանարդ է, որի կողմերը (եզրները, գծերը) ունին մէկ ստնաչափ երկայնութիւն և այլն: Իհարկէ խորանարդի ձև չունեցող մարմինները այնու ամենայնիւ կարող են բռնել այն-պիսի մի տարածոց, ինչպիսին բռնում է իսկական խորանարդ ստնաչափը և այլն:

1. ԽՈՒԱՆԱՐԳԻ ԾԱԽԱԼԻ ԵՒ ՄԱԿԵՐԵՒՈՒԹԻ ՉԱՓՈՒՄՆԷ:

Ասենք թէ մենք ունինք մի քառակուսի, որի կողմերից իւրա-քանչիւրը ունի 2 մատնաչափ երկայնութիւն. այն ժամանակ նորա

մակերևութի վերայ կտեղաւորուի ընդամէնը 4 քառակուսի մա-նաչափ: Այս մակերևութի վերայ խորանարդ կազմելու համար պէտք է դնել նորա վերայ 2 շերտեր, որոնցից իւրաքանչիւրի երկայնութիւնը լինի 4 խորանարդ մատնաչափ: Ուրեմն ամբողջ խորանարդը կպարունակէ 8 խորանարդ մատնաչափ. խարխիւղ ունի $2 \cdot 2$ քառ. մատնաչափ, խորանարդը կունենայ $2 \cdot 2 \cdot 2$ խորան. մատնաչափ:

Եթէ խորանարդի եզրի երկայնութիւնը 3 մատնաչափ լինէր, այն ժամանակ խարխիւ մակերևույթը կպարունակէր $3 \cdot 3$ քառակ. մատնաչափ, իսկ խորանարդը — $3 \cdot 3 \cdot 3$ խորանարդ մատնաչափ:

Կանոն: Խորանարդի ծաւալը գտնելու համար՝ պէտք է 3 անգամ բազմապատկիլ առնել այն թիւը, որ ցոյց է տալիս եզրի երկայնու-թիւնը. ուրիշ կերպ՝ առնել այն թուի խորանարդը, որ ցոյց է տալիս եզրի երկայնութիւնը: Եթէ երկայնութիւնը արվում է մատնաչափերով, ստնաչափերով, արշիններով, այն ժամանակ ծա-ւալը ստացվում է խորանարդ մատնաչափերով, խորանարդ ու-նաչափերով, խորանարդ արշիններով:

Յաւելուած 1. Խորանարդ չափերը կամ ծաւալի չափերը.

1 խոր. սաժէնը = $7 \cdot 7 \cdot 7 = 343$ խոր. ոտն.:

1 խոր. ստնաչափը = $12 \cdot 12 \cdot 12 = 1728$ խոր. մատ.:

1 խոր. մատնաչափը = $10 \cdot 10 \cdot 10 = 1000$ խոր. գծերի:

1 խոր. սաժէնը = $3 \cdot 3 \cdot 3 = 27$ խոր. արշին:

1 խոր. արշինը = $16 \cdot 16 \cdot 16 = 4096$ խոր. վերջոյի:

Յաւելուած 2. Խորանարդի ամբողջ մակերևույթը 6 անգամ մեծ է իւր մէկ կողմի մակերևութից:

Յաւելուած 3. Երբ տրուած է մեկ խորանարդի ծաւալը և պահանջվում է նորա եզրի երկայնութիւնը գտնել, այն ժամա-նակ պէտք է ծաւալը ցոյց տուող թիւը վերածել 3 հաւասար բազմապատկիչների, և այդ բազմապատկիչն է՝ որ ցոյց կտայ եզրի երկայնութիւնը: Ծրինակ՝ 1000-ը վերածել $10 \cdot 10 \cdot 10$ -ի

վերայ. 1728՝ 12 · 12 · 12-ի վերայ: Այս չէ կարելի անել բոլոր
թուերի հետ, որ հեշտ կարելի է տեսնել փորձով: Իսկ մօտա-
ւորապէս գտնելը կատարվում է խորանարդ արմատներ հանելով:

2. ՀԱՏՈՒԱԾԱԿՈՂՄԻ ԾԱԻԱԼԻ ԵՒ ՄԱԿԵՐԵՒՈՒԹԻ ՉԱՓՈՒՄՆ

ԸՆԴՀԱՆՐԱՊԷՍ:

Եթէ երեակայինք, որ խորանարդի խարսխի վերայ կազմուած
է խորանարդի հետ հաւասար բարձրութիւն ունեցող շեղ զու-
գահեռոտն, այն ժամանակ այդ շեղ զուգահեռոտնը կրճնէ,
նոյնքան տարածութիւն՝ որքան և խորանարդը: Այստեղ կլինի
նոյնպէս այն յարաբերութիւնը, որ կար միանման խարսխներ և
բարձրութիւն ունեցող ուղղանկիւն քառանկեան և շեղանկիւն
զուգահեռագծի մէջ: Առհասարակ խարսխի հաւասար երես և
հաւասար բարձրութիւն ունեցող բոլոր զուգահեռոտները և
հատուածակողմները միակերպ տարածութիւն են բռնում. — հա-
ւասար ծաւալ ունին: Սորա համար հարկաւորութիւն չկայ, որ
այդպիսի հատուածակողմերի խարսխների տարածութիւնները
ունենային հաւասար թուով կողմեր. միայն թէ նոցա մակերե-
ւոյթները հաւասար լինէին միմեանց: Սորա համար և մի որևէ
հատուածակողմի ծաւալը կզտնուի այն ժամանակ, եթէ գտնենք
խարսխի մակերեւոյթը և գտած թիւը բազմապատկենք բարձրու-
թիւնը ցոյց տուող թուի վերայ: Այս կանոնը ձևակերպում են
և այսպէս. — հատուածակողմի ծաւալը հաւասար է խարսխի
մակերեւոյթը բարձրութեան վերայ բազմապատկելուց ստացած ար-
տադրեալին. — նախընթաց բացատրութիւնից յետոյ տուած
բացատրութեան մէջ պէտք չէ երկբայել:

Օրինակ: Հատուածակողմի խարսխի մակերեւութի (զուգա-
հեռոտն) երկայնութիւնն է 6 ոտնաչափ, լայնութիւնը 4 ոտն".
հատուածակողմի բարձրութիւնը = 10 ոտն", նորա ծաւալը
 $6 \cdot 4 \cdot 10 = 240$ խորանարդ ոտնաչափի:

Յաւելում 1. Եթէ պէտքէ գտնել ուղիղ զուգահեռոտնի մա-
կերեւութի մեծութիւնը, բաւական է միայն (որովհետև հան-
դիպակաց կողմերը հաւասար են միմեանց) գտնել խարսխի և
2 հանդիպակաց կողմերի մակերեւոյթները և նոցա գումարը
կիսել:

Եթէ օրինակ, հատուածակողմի երեք ծայրակցող կողմերի
երկայնութիւնն է 5 ոտնաչափ, 6 ոտնաչափ և 8 ոտնաչափ,
այն ժամանակ հատուածակողմի մակերեւոյթը հաւասար է՝

$$2 \cdot (5 \cdot 6 + 5 \cdot 8 + 6 \cdot 8) = 2 \cdot 118 = 236 \text{ քառակ"}. \text{ ոտնաչափի:}$$

Յաւելում 2. Մի սաժէն փայտը ունի 3 արշին երկայնութիւնը,
3 արշին բարձրութիւն և $\frac{3}{4}$ արշին հաստութիւն: Գտնել նորա
խորանարդ պարունակութիւնը:

$$3 \cdot 3 \cdot \frac{3}{4} = \frac{1}{4} \text{ խոր"}. \text{ սաժէնին} = 6\frac{3}{4} \text{ խոր"}. \text{ արշինի:}$$

Այդքան տեղ բռնում է մի սաժէն փայտը, բայց նորա մէջ
բուն փայտը բռնում է պակաս տարածութիւն. լաւ դարսուած
սաժէնի մէջ նա բռնում է տեղ ոչ առաւել՝ քան 5 խորա-
նարդ արշին:

3. ԳԼԱՆԻ ԾԱԻԱԼԻ ԵՒ ՄԱԿԵՐԵՒՈՒԹԻ ՉԱՓՈՒՄՆ:

Նրջանը կարելի է ընդունել որպէս մի անթիւ կողմեր ունե-
ցող բազմանկիւնի, իսկ զլանը — անթիւ կողմեր ունեցող մի
հատուածակողմն. այս պատճառաւ նորա խորանարդ ծաւալը
կզտնուի նոյնպէս այն ժամանակ, երբ նորա խարսխի մակերե-
ւոյթը բազմապատկենք բարձրութեան վերայ: Ուղիղ զլանի բարձ-
րութիւնը կլինի իւր առանցքը, իսկ շեղ զլանի բարձրութիւնը
փոքր կլինի առանցքից:

Օրինակ: Կլոր սեան խարսխի տրամագիծը = 3 ոտն". սեան
բարձրութիւնը = 20 ոտն". գտնել նորա ծաւալը:

Ծաւալը ստանալու համար որոշում են խարսխի մակերեւու-
թի մեծութիւնը քառակուսի ոտնաչափերով և գտած թիւը

բաղմնապատկում են բարձրութիւնը ցոյց տուող թուի վերայ. այն ժամանակ ստացվում է ծաւալը՝ խորանարդ ոսնաչափերով:

Տրամագիծը = 3 ոտն". շրջապատը = 3, 14 · 3 = 9, 42 ոտն". խարսխի մակերևոյթը = 9, 42 · 3/4 = 7, 065 քառակ". ոսնաչափի: Ծաւալը = 7, 065 · 20 = 141, 3 խորանարդ ոսնաչափի:

Կարճ ասել, պէտք է շոռաւիղի քառակուսին բաղմնապատկել π վերայ. ք · ք · խարսխի մակերևոյթը բաղմնապատկել բարձրութեամբ: 3/2 · 3/2 · 3, 14 · 20 = 141, 3 ոսնաչափի:

Յաւելում 1. Մի ծառի գլանաձև բունի շոռաւիղը = 2 ոսնաչափի. նորա երկայնութիւնն է 6 ոտն". գտնել ծաւալը:

r²π · l = 2² · 314 · 6 = 75, 36 խոր". ոսնաչափի:

Յաւելում 2. Զաղացաքարի տրամագիծը ունի 4 ոտն". երկայնութիւն և 10 մասնաչափ բարձրութիւն. առանցքի համար շինուած դատարկ տարածութիւնը այնպիսի զուգահեռոտնի ձև ունի, որի խարսխը ունի 9 մասնաչափ երկայնութիւն ու լայնութիւն, և 8 ոսնաչափ բարձրութիւն. գտնել քարի ծաւալը:

Զաղացաքարը ընդունում են իբրև լիակատար մի շրջան, գրտնում են նորա ծաւալը, և նորանից հանում են զուգահեռոտնի ծաւալը: 2 ոտն". = 24 մասնաչափի.

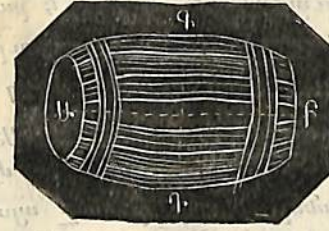
24 · 24 · 3, 14 · 10 = 18086, 4 խոր". մասնաչափի
9 · 9 · 8 = 648

Քարի ծաւալը = 17438, 4 խոր". մաս". = 10 խոր". ոտն" 158, 4 խոր". մաս"

Յաւելում 3. Եթէ կամենում ենք գտնել ուղիղ գլանի կողքի կորընթարթ մակերևոյթը, այն ժամանակ պէտք է երեւակայենք, որ այդ մակերևոյթը բացուել և դառել է հարթ մակերևոյթ: Նա հաւասար կլինի այնպիսի ուղղանկիւն քառանկեան, որի կողմերը կլինին գլանի բարձրութիւնը և նորա խարսխի բովանդակագիծը (շրջապատը). ուրեմն՝ մակերևութի մեծութիւնը կը գտնուի, երբ բաղմնապատկենք բարձրութիւնը խարսխի շրջապատի վերայ: Նախընթաց գլանի շրջապատը = 9, 42 ոտն". նորա բարձրութիւնը = 20 ոտն". ուրեմն կողքի մակերևոյթը = 9, 42 × 20 = 184, 4 քառակուսի ոսնաչափի:

Յաւելում 4. Որոշել տակառի ծաւալը:

Չափում են տակառի խարսխների տրամագիծը և տակառինը (Ձև 75) այնտեղ՝ ուր գտնվում է նորա մէջտեղի բացուածքը (ԳԳ), առնում են նորա թուարանական միջնաթիւը և



Ձև 75.

ընդունում են տակառը որպէս այնպիսի մի գլան, որի խարսխի մակերևութի տրամագիծը հաւասար է թուարանական միջնաթուին, իսկ բարձրութիւնը՝ հաւասար տակառի երկայնութեանը: Օրինակ:

Խարսխի տրամագիծը = 3 ոտն".
Մէջտեղի բացուածքի տրամագիծը (ԳԳ) = 3 ոտն". 4 մաս".

Թուարանական միջնաթիւը = 3 ոտն". 2 մաս".
Տակառի երկայնութիւնը = 6 ոտն".
3 ոտն". 2 մաս".
Խարսխի մակերևութի շոռաւիղը = 3 ոտն". 2 մաս". = 19 մաս".

Տակառի ծաւալը = 19 · 19 · 3, 14 · 6 · 12
= 81614, 88 խորանարդ մաս".
81614, 88
= 1728 խորանարդ ոտն".
= 47 խոր". ոտն" 398, 88 խոր". մաս"

Եթէ տակառի մէջտեղի բացուածքի տեղում գտնուող ուռոյցը մեծ է, այն ժամանակ (փորձի հիման վերայ) թուարանական միջնաթիւը ստանում են տակառի մէջտեղի բացուածքի մօտից և յատակի տրամագծից սկսեալ երկու անգամ վերցրած խորութիւնից:

4. ԲՈՒՐԳԻ ՄԱԿԵՐԵՒՈՒԹԻ ԵՒ ԾԱԽԱԼԻ ՉԱՓՈՒՄՆ:

Նռանկիւնի հատուածակողմը կարելի է բաժանել երեք միմեանց հաւասար ծաւալներ պարունակող բուրգերի (որ կարելի է զննելով խմանալ): Ուրեմն այդ բուրգերից իւրաքանչիւրը է այդպիսի հատուածակողմի երրորդ մասը: Բայց որովհետեւ չորս, հինգ և բազմանկիւն հատուածակողմներին միշտ կարելի է եռանկիւններին բաժանել, ուստի կանոնը այս կերպ կարելի է ձևակերպել. բուրգը (նորա ծաւալը) երրորդ մասն է այն հատուածակողմի, որ ունի նորա հետ միեւնոյն խարսխի բարձրութիւնը և խարսխի մակերևոյթը. ապա ուրեմն և՛ նորա խորանարդ պարունակութիւնը կդանուի այն ժամանակ, երբ կստացուի խարսխի մակերևոյթը բարձրութեան վերայ բազմապատկելուց ստացուած արտադրեալը՝ և կառնուի նորա երրորդ մասը:

Օրինակ: Թող խարսխի մակերևոյթը լինի ուղղանկիւն քառանկիւնի, որի կողմերը ունին 10 ոտն" և 6 ոտն". երկայնութիւն. բուրգի բարձրութիւնը (նորա զաղաթից խարսխի վերայ թողնուած ուղղահայեացը) = 18 ոտնաչափի: Գտնել այդ բուրգի ծաւալը:

Պատասխան: $\frac{10 \cdot 6 \cdot 18}{3} = 360$ խոր". ոտնաչափի:

[Ծանօթութիւն: Թէ հատուածակողմը երեք միահաւասար ծաւալներ պարունակող բուրգերի է բաժանվում՝ քի թէ բուրգը հատուածակողմի $\frac{1}{3}$ մասն է կազմում՝ կարելի է պարզ նկատել և չափերի օգնութեամբ: Իհարկէ այս դէպքում հատուածակողմը պէտքէ կազմուած լինի լիովին մի նիւթից:— Նոյնը ստոյգ է և զլանի ու կոնի վերաբերութեամբ:]

5. ԿՈՆԻ ՄԱԿԵՐԵՒՈՒԹԻ ԵՒ ԾԱԽԱԼԻ ՉԱՓՈՒՄՆ:

Կոնը կարելի է ընդունել իբրև մի բուրգ, որի խարսխը ունի անթիւ բազմութեամբ կողմեր, այդ պատճառաւ և կոնի ծաւալը հաւասար է այն արտադրեալի երրորդ մասին, որ ստացվում է խարսխի մակերևոյթը բարձրութեան վերայ բազմապատկելուց:

Օրինակ: Կոնի ձև ունեցող ծառի բունի ստորին տրամագիծը հաւասար է 8 ոտն". ծառի երկայնութիւնը 100 ոտն".

Խարսխի մակերևութի շրջապատը պարունակում է $8 \cdot 3,14 = 25,12$ ոտն". խարսխի մակերևոյթը = $25,12 \cdot 2 = 50,24$ քառ". ոտն". ծառի բունի ծաւալը

$\frac{50,24 \cdot 100}{3} = 1674\frac{2}{3}$ խոր". ոտնաչափի

կարձ. $\frac{r^2 \pi \cdot l}{3} = \frac{4 \cdot 4 \cdot 3,14 \cdot 10}{3} = 1674\frac{2}{3}$:

Յաւելուած: Ուղիղ կոնի կողքի կորնթարթ մակերևոյթը կարելի է երեւակայել իբր բացուած հարթ մակերևոյթ: Այն ժամանակ ստացվում է հատած, որի աղեղը հաւասար է լինում խարսխի շրջապատին, իսկ շառաւիղը կոնի կողքի գծին: Ուրեմն բազմապատկելով այդ քանակութիւնները և առնելով նոցա արտադրեալը կէսը, կգտնենք կոնի կողքի մակերևութի մեծութիւնը:

6. ԳՆՏԻ ԾԱԽԱԼԻ ԵՒ ՄԱԿԵՐԵՒՈՒԹԻ ՉԱՓՈՒՄՆ:

Կարելի է երեւակայել ինչպէս արդէն ցոյց տրուեցաւ, որ գնտի ծաւալը ծագում է կիսաշրջանի իւր տրամագծի շուրջը պտտելուց: Գնտի մեծ շրջաններ կոչվում են այնպիսի շրջանները, որոնց կենդրոնը ծածկում է (վերայ է գալիս) գնտի կենդրոնը:

նին, մնացեալ բոլորը կոչուած են փոքր շրջաններ: Երկրի հասարակածը և միջօրէակահանները (որք ընդունուած են իսկական գունտ) մեծ շրջաններ են. արևադարձները և բևեռային շրջանները փոքր շրջաններ են: Որքան փոքր շրջանը հեռացած է կենդրոնից, այնքան նա աւելի փոքր է:

Երևակայենք, որ գնտի մակերևոյթը բաժանուած է չափահանց շատ այնպիսի փոքրիկ ձևերի, որ նոցա կարելի է ընդունել (առանց նշանաւոր սխալի) իբրև հարթ ձևեր. եթէ այդ ձևերի անկեանց գազաթիւներից ուղիղ դժեր անցցնենք դէպի գնտի կենդրոնը, այն ժամանակ կստանանք բուրգերի մի դումար, որոց ծաւալը կազմում է գնտի ծաւալը: Բայց միահաւասար բարձրութիւնք ունեցող քանի մի բուրգերի գումարը հաւասար է ծաւալով՝ միևնոյն բարձրութիւնը ունեցող մի բուրգի, և որի մէջ խարսխի մակերևոյթը հաւասար է բոլոր բուրգերի խարսխների մակերևութիւնների գումարին. ուրեմն գնտի ծաւալը կստացուի այն ժամանակ, երբ նորա մակերևոյթը բազմապատկենք նորա շառաւիղի մի երրորդ մասով:

Գիտնականները ապացուցել են, որ գնտի մակերևոյթը չորերպատիկ աւելի է մեծ շրջանի մակերևութից:

Եթէ առնենք գնտի շառաւիղը հաւասար 10 ոտնաչափի, այն ժամանակ մեծ շրջանի շրջապատը կլինի $= 20 \cdot 3,14 = 62,8$ ոտնաչափի, մեծ շրջանի մակերևոյթը $= \frac{62,8 \cdot 10}{3} = 314$

քառ. ոտն. գնտի մակերևոյթը $= 4 \cdot 314 = 1256$ քառ. ոտն.

գնտի ծաւալը $= \frac{1256 \cdot 10}{3} = 4186\frac{2}{3}$ խոր. ոտն.

կարձ. $\frac{r^2 \pi \cdot 4 \cdot 10}{3} = \frac{100 \cdot 3,14 \cdot 4 \cdot 10}{3} = 4186\frac{2}{3}$

Յանելուած: Գնտի մեծ շրջանի մակերևոյթը $= r^2 \pi$: Առնելով նորան 4 անգամ, գնտի մակերևութի համար կստանանք $4r^2 \pi$: Բայց 4 անգամ վերցրած շառաւիղի քառակուսին հաւասար է տրամագծի քառակուսուն: Այդ պատճառաւ մակերևոյթը կարձ

գտնելու համար պէտք է տրամագծի քառակուսին բազմապատկել π վերայ. իսկ այս արտադրեալը բազմապատկելով շառաւիղի $\frac{1}{3}$ մասով, կգտնենք գնտի ծաւալը: Աերոյիշեալ օրինակի մէջ մակերևոյթը $= 20 \cdot 20 \cdot 3,14 = 1256$ քառակուսի ոտնաչափի, ծաւալը $= \frac{1256 \cdot 10}{3} = 4186\frac{2}{3}$ խորանարդ ոտնաչափի:

Խնդիրներ.

[1. Չափել սենեակի ծաւալը:
 Ենթադրելով, որ սենեակը ունի զուգահեռոսնի ձև, պէտք է չափել նորա երկայնութիւնը, լայնութիւնը և բարձրութիւնը ու բազմապատկել միմեանց վերայ գտած թուերը: (Իհարկէ բոլոր թուերը պէտքէ միահաւասար չափեր ցոյց տան. ցի կամ բոլորը ոտնաչափեր, կամ բոլորը մատնաչափեր և այլն):

2. Պէտք է Լքցնել մի քանդակ, որ ունի 80 ոտնաչափ երկայնութիւն, 10 ոտնաչափ լայնութիւն և 6 ոտն. խորութիւն: Եւրաքանչիւր սայլի վերայ տեղաւորվում է 5 խոր. ոտն. և արժէ նա 75 կոպէկ: Որքան կնատի քանդակի Լքցնելը:

Քանդակի խորանարդ պարունակութիւնը $= 90 \cdot 10 \cdot 6 = 4800$ խորանարդ ոտնաչափի, պահանջուած սայլերի թիւը $= \frac{4800}{5} = 960$.

Ծախքը կազմում է $960 \cdot 75 = 720$ մանէթ:

3. Որքան տասն վերշովանի գերաններ կարող են տեղաւորուիլ փետանոցի մէջ, որ ունի 20 արշին երկայնութիւն, 10 արշին լայնութիւն և 12 արշին բարձրութիւն:

(Փետանոցի ծաւալը $= 20 \cdot 10 \cdot 12 = 240$ խոր. արշինի: Տասն վերշովանի փայտերի մի սաժէնը բռնում է տեղ $= 3 \cdot 3 \cdot \frac{10}{16} = \frac{90}{16} = \frac{45}{8}$ խոր. արշին:

Սաժէն կտեղաւորուե $\frac{2400}{45} \cdot 8 = 427$, կլոր թուով):

4. Քանի՞ օղիւս է պէտք մի պատ շինելու համար, որի երկայնութիւնը պէտք է լինի 60 ոտնաչափ, բարձրութիւնը 10 ոտնաչափ, հաստութիւնը 3 ոտնաչափ, եթէ խրաքանչիւր օղիւսի երկայնութիւնն է 6, լայնութիւնը 3 և հաստութիւնը 2 մատ:

$$\left(\frac{60 \cdot 10 \cdot 3 \cdot 1728}{6 \cdot 3 \cdot 2} = 86400 \right)$$

5. Պահանջվում է 70 ոտնաչափ խորութեամբ մի ջրհոր փորել, վերին մակերևոյթը ուղղանկիւն քառանկեան ձև պէտք է ունենայ. 5 ոտն". երկայնութեամբ և 4 ոտն". լայնութեամբ: Քանի՞ խոր. սաժէն հող պէտք է դուրս փորել:

$$\left(\frac{70 \cdot 5 \cdot 4}{343} = 4\frac{4}{49} \right)$$

6. Ի՞նչ արժէ զուգահեռոտնաձև փայտի դէզը, որ ունի 35 ոտն". երկայնութիւն, 21 ոտն". լայնութիւն և 15 ոտնաչափ բարձրութիւն՝ եթէ որ 2 ոտն". երկայնութիւն ունեցող փայտի սաժէնը արժէ 5 մանէթ:

$$\left(\frac{35 \cdot 21 \cdot 15}{7 \cdot 7 \cdot 2} \cdot 5 = 562\frac{1}{2} \text{ մանէթ.} \right)$$

7. Որոշել զլանի ամբողջ մակերևոյթը, եթէ նորա խորսխի տրամագիծը հաւասար է 4 ոտնաչափի, իսկ երկայնութիւնը 12 ոտնաչափի (Նրկու խորսխների մակերևոյթները ևս — $2 \cdot 2^2 \cdot 3,14$, կողքի մակերևոյթը — $12 \cdot 4 \cdot 3,14$, բոլոր մակերևոյթը — $175,84$ քառ". ոտնաչափերի):

8. Ցախառի երկայնութիւնը հաւասար է 6 ոտն". յատակի տրամագիծը 18 մատն". տակառի միջին մասի տրամագիծը 22 մատն". քանի՞ աման ջուր կպարունակէ նա, եթէ մի ամանը հաւասար է մի խորանարդի. եզրի երկայնութիւնն է 4 մատն.:

$$\left(\text{Թուաբանական միջնաթիւը} = \frac{18+22}{2} = 20 \text{ մատնաչափի} \right)$$

$$\left(\frac{10^2 \cdot 3,14 \cdot 6 \cdot 12}{4 \cdot 4 \cdot 4} = 353\frac{1}{4} \text{ աման} \right)$$

9. Քանի՞ խորձ խոտ է դանվում դէզի մէջ, որ 20 ոտնաչափ բարձրութիւն և 16 ոտն". տրամագիծ ունեցող զլանի ձև ունի՝ եթէ որ մի խուլ ձը 300 խորանարդ ոտնաչափ է:

$$\left(\frac{8^2 \cdot 3,14 \cdot 20}{300} = 13\frac{1}{3} \text{ կլոր թուով} \right):$$

10. Պահանջվում է զրուցարանի վերայ մի շինական յարկ շինել (կոնի ձևով), յարկի շառաւիղը — 30 ոտն". բարձրութիւնը 40 ոտնաչափի: Որքան քառակուսի ոտնաչափ երկաթեայ թիթեղ կհարկաւորուի յարկը ծածկելու համար:

(Կոնի կողքի երկայնութիւնը — $30^2 + 40^2 = 50$ ոտնաչափից հանած քառակուսի արմատին: Պարսխի շրջապատը — $30 \cdot 3,14$,

կողքի մակերևոյթը — $\frac{50 \cdot 30 \cdot 3,14}{2} = 2355$ քառ". ոտնաչափի)

11. Որոշել երկրագնտի մակերևոյթը և ծաւալը:

Սմենից առաջ երկրաղնտի մէջ մենք իմացանք մէկ մեծ շրջանի (միջէօրականի) շրջապատը, և նորանով արդէն որոշեցինք արամագծի երկայնութիւնը (առանցքի), յայտնի յարաբերութեան հիման վերայ. — $314:100$:

Երկրի շրջապատը — 5400 աշխարհագրական մղոնի, ուրեմն տրամագիծը — 1719, կամ կլոր թուով 1720 մղոնի: Մեծ շրջանի մակերևոյթը — $\frac{5400 \cdot 1720}{4}$, իսկ մակերևոյթը 4 անգամ մեծ է — 9 288 000 քառակ". մղոնի:

$$\text{Ծաւալը} = \frac{9288000 \cdot 860}{3} = 3662560000 \text{ խոր. մղոնի,}$$

12. Որոշել մթնոլորդի ծաւալը, ընդունելով նորա բարձրութիւնը — 10 մղոնի:

Այս ծաւալը կազմում է երկու գնտերի տարբերութիւնը, որոնցից մեծի տրամագիծն է 870 մղոն, իսկ փոքրինը 860 մղոն: Փոքր գնտի (երկարի) ծաւալը դուրս է բերուած նախնթաղ խնդրի մէջ, ուրեմն հարկաւոր է գտնել մեծ գնտի ծաւալն էլ Մեծ գնտի (երկրագնտի մթնոլորդի հետ միասին) մեծ շրջա-

նի շրջապատը կլինի $1740 \cdot 3,14 = 5463,6$ մղոնի, զնտի մա-
կերևոյթը $= 5463,6 \cdot 1740 = 9506664$ մղոնի, ծաւալը
 $\frac{9506664 \cdot 870}{3} = 2756932560$ խորան". մղոնի. ուրեմն

մթնոլորդի ծաւալը $= 2756932560 - 2662560000 = 94372560$ խոր". մղոնի:

13. Յանկացողները կարող են փորձել լուծելու հետևեալ
խնդիրը. որոշել երկրագնտի ծանրութիւնը, եթէ նորա միջին
հարթութիւնը (տեսակարար կշիռը) $5\frac{1}{2}$ (5,5) անգամ մեծ է
զտած ջրի ծանրութիւնից:

Ընդունեցէք, թէ 1 խոր". ոտն". զուտ ջուրը կշռում է 69
գրվ". — եթէ երկրի ծաւալը $= 890475513119$ խոր". վերստին,
և նայեցէք թէ մեր ստացած թիւը շատ կզանազանուի
 65924000000000000000 փութից:

XII ԽՆԴԻՐՆԵՐ ՎԱՐՅՈՒԹԵԱՆ ՀԱՄԱՐ:

1. Խնդիրներ կազմութեան համար:

1. Քանի՞ ուղիղ գծերով կարելի է միացնել մէկ հարթ երեսի վերայ գտնուած 6, 10, 20, (n) կէտերին:
2. Չորս ուղիղ գիծ քաշեցէք, որ կտրուելիս լինին 1, 2, 3, 4, 5, 6 կէտերում:
3. Տրուած է երկու կէտերի դրութիւնը. գտնել երկուսից} հաւասար հեռաւորութեամբ գտնուող կէտեր:
4. Գտէք շրջանի կենդրոնը յայտնի շառաւիղով:
5. Քանի՞ աստիճան է անցնում հողմացոյցը, պատուելով հիւսիսից դէպի հիւսիս արևելք, արևելք, հարաւարևելք, հարաւ, հիւսիս, հիւսիսարևելք, հարաւ և հարաւ արևմուտք:
6. Ի՞նչպիսի անկիւններ է գծում մեծ (րոպէացոյց) սլաքը $1\frac{1}{2}, \frac{1}{3}, \frac{1}{4}$ ժամերում 1, 10, 25, 36 րոպէում:
7. Ի՞նչպիսի անկիւններ է գծում փոքր (ժամացոյց) սլաքը նոյն ժամանակամիջոցներում:
8. Ի՞նչպիսի անկիւններ են կազմում սլաքները միմեանց հետ 12, 6, 3, 9, $4\frac{1}{2}$, $8\frac{1}{3}$ ժամերին:
9. Անկեան մեծութիւնը $= 10^\circ, 60^\circ, 30\frac{1}{2}^\circ, 15^\circ 16', 36^\circ 50' 12''$. Ի՞նչ քան է նորա կից անկիւնը:

10. Ի՞նչին է հաւասար 3, 4, 5, 6, 10, ն— անկիւնանիւթ արտաքին անկիւնների գումարը, որք ստացվում են ձևի իւրաքանչիւր կողմի մի ուղղութեամբ շարունակելուց:

11. Ի՞նչին է հաւասար 3, 4, 5, 6, 10, ն— կանոնաւոր անկիւնանիւթ արտաքին անկիւններից իւրաքանչիւրը:

12. Հաւասարարունք եռանկեան գագաթի վերայ գտնուած անկիւնը=17° 12': Ի՞նչին է հաւասար խարսխի վերայի անկիւններից իւրաքանչիւրը:

13. Հաւասարարունք եռանկեան մէջ խարսխի վերայի անկիւններից մինը=40 1/20: Ի՞նչին է հաւասար գագաթի վերայի անկիւնը:

14. Հաւասարարունք եռանկեան մէջ խարսխի մօտ եղած արտաքին անկիւնը=120°: Ի՞նչին է հաւասար գագաթի վերայ գտնուած անկեան մօտի արտաքին անկիւնը:

15. Զուգահեռագծի մի անկիւնը=89°, ո՞րքան են մնացեալ անկիւնները:

16. Բաժանել ուղիղ անկիւնը երեք հաւասար մասերի:

17. Գծել անկիւն 60°, 30°, 45°, 15°, 75°:

18. Ի՞նչին է հաւասար Պ-ով արտայայտուած անկիւնների գումարը 16, 48, 90, 100 անկիւնիների մէջ:

19. Ո՞ր բաղմանկեանց անկիւնների գումարը հաւասար է 20, 60, 90 Ո:

20. Ի՞նչպիսի անկիւններ կազմելով կկտրեն միմեանց անկիւնագծերը քառակուսու, ուղղանկիւն քառանկեան, շեղականի և զուգահեռագծի մէջ:

21. Ի՞նչին է հաւասար կանոնաւոր 3, 4, 5, 6, -ն — անկիւնանիւթ մէջ կենդրոնական անկիւնը:

22. Քանի՞ զանազան կարգերով կարելի է տեղաւորել 2, 3, 4, 10, 100, -ն կէտերը կամ տառերը: Հակառակ խնդիրը:

23. Քանի՞ կէտերում կարող են կտրուիլ 2, 3, 4, 20, -ն ուղիղ գծերը: Հակառակ խնդիրը:

24. Քանի՞ անկիւնագիծ կարելի է անցցնել 4, 5, 6, 10, -ն

անկիւնանիւթ մէջ: Հակառակ խնդիրը:

25. Ո՞րքան բարձր և գոգաւոր անկիւններ կարող են լինել 4, 5, 6, 10, ն անկիւնանիւթ մէջ, և գոգաւոր անկիւններից ո՞րքան բուլթ, ուղիղ և սուր անկիւններ:

26. Եթէ շրջանի մէջ քաջնք կանոնաւոր 3, 4, 5, 6, -ն անկիւնանի և շառաւիղների օգնութեամբ միացնենք նորա գագաթները կենդրոնի հետ և յետոյ կողմերը շարունակենք, այն ժամանակ ի՞նչին հաւասար կլինին ձևի ներքին, արաքին և կենդրոնական անկիւնները:—

27. Կազմել Δ, երբ տուած են.

1) մէկ կողմն, նորա վերայ մի անկիւն՝ և նորան հանդէպ գտնուած մի անկիւնը,

2) երկու կողմեր և մեծ կողմի դիմացը գտնուող անկիւնը,

3) երկու կողմեր և փոքր կողմի դիմացը գտնուող անկիւնը,

28. Կազմել հաւասարարունք Δ, երբ տուած են՝

1) խարսխը և բարձրութիւնը,

2) խարսխը և իւր վերայ գտնուող անկիւնը,

3) հաւասար կողմերից մինը և խարսխի վերայի անկիւնը,

4) հաւասար կողմերից մինը և խարսխը:

29. Կազմել ուղղանկիւն Δ, երբ տուած են՝

1) մի էջը և նորա վերայի սուր անկիւնը,

2) մի էջը և իւրեան հանդիպակաց անկիւնը,

3) ներքնաձիգը և սուր անկիւնը,

4) ներքնաձիգը և մէկ էջը:

30. Կազմել Δ, երբ տուած են՝

1) մէկ կողմը, նորա վերայի անկիւնը և ուրիշ երկու կողմերի տարբերութիւնը,

2) մէկ կողմը, նորա վերայի անկիւնը և ուրիշ երկու կողմերի գումարը:

31. Սուրանկիւն Δ-ին փոխարկել.

ա) ուղղանկիւն եռանկեան,

բ) բուլթանկիւն եռանկեան:

32. Քառակուսին փոխարկել.
- ա) եռանկեան,
 - բ) ուղղանկիւն քառանկեան,
 - գ) շեղանկիւն զուգահեռագծի:
33. Փոխարկել Δ,
- ա) ուղղանկիւն քառանկեան,
 - բ) քառակուսու:
34. Գծել քառակուսի տրուած քառակուսուց 4, 9, 16, 25,
- 100 անգամ մեծ:
35. Գծել քառակուսի 2, 3, 5, 20, 40, 99 անգամ մեծ տրուած քառակուսուց:
36. Գծել մի քառակուսի, որ ունենայ տրուած շրջագիծը:
37. Գծել տրուած անկիւնագծի օդնութեամբ քառակուսի:
38. Կազմել ուղղանկիւն քառանկիւնի՝ երբ տրուած են.
- ա) կողմը և անկիւնագիծը,
 - բ) կողմը և անկիւնագծերի կտրելուց ստացուած անկիւններէց մէկը:
- գ) կողմը և անկիւնագծի կողմերէց մինի հետ կազմած անկիւնը:
39. Ի՞նչպէս քաշել շեղական, երբ տրուած են.
- ա) կողմը և մէկ անկիւնագիծը,
 - բ) երկու անկիւնագծերը,
 - գ) անկիւնագիծը և բարձրութիւնը,
 - դ) կողմը և բարձրութիւնը,
 - ե) անկիւնագիծը և նորա վերայի անկիւնները,
 - զ) անկիւնագիծը և նորա զիմացի անկիւնը:
40. 6, 7, 8 անկիւնանիւն փոխարկել Δ:
41. Անկանոն 7 անկիւնին 1, 2, 3 բարձր անկիւններով փոխարկել Δ:
42. Կազմել զուգահեռագիծ, երբ տրուած են.
- ա) 3 անկիւնները (նոցա զագաթների զրութիւնը),
 - բ) 2 անկիւնների զագաթները և անկիւնագծերի միմեանց կտրած կէտը,

- գ) կողմերը և մէկ անկիւնագիծը,
 - դ) կողմերը և մէկ անկիւնը,
 - ե) մէկ կողմը և երկու անկիւնագծերը,
 - զ) մէկ կողմը, մէկ անկիւնը և մէկ անկիւնագիծը,
 - է) երկու անկիւնագծերը և նոցա միջև անկիւնը:
43. Գծել շրջանի մէջ լար տրուած երկայնութեամբ:
44. Անցկացնել շրջանի մէջ տուած լարին զուգահեռական մի ուրիշ լար:
45. Գծել շրջան,
- ա) հաւասարակողմն եռանկեան մէջ,
 - բ) հաւասարաթունք Δ մէջ,
 - գ) անհաւասարակողմն Δ մէջ,
 - դ) քառակուսու մէջ,
 - ե) շեղականի մէջ,
 - զ) կանոնաւոր բազմանկեան մէջ:
46. Գծել շրջան,
- ա) եռանկեան շուրջը,
 - բ) քառանկեան շուրջը,
 - գ) ուղղանկիւն քառանկեան շուրջը,
 - դ) կանոնաւոր բազմանկեան շուրջը:
47. Գծել շրջանի շուրջը.
- ա) հաւասարակողմն Δ,
 - բ) անհաւասարակողմն Δ,
 - գ) քառակուսի,
 - դ) կանոնաւոր 5, 6, 7, -ն — անկիւնանի:
48. Գծել շրջանի մէջ,
- ա) կանոնաւոր Δ,
 - բ) » քառանկիւնի,
 - գ) » 5, 6, 7, -ն — անկիւնանի:
49. Գծել շրջապատ,
- ա) երկու տուած կէտից անցնող,
 - բ) տուած ուղիղ գծին՝ տրուած կէտում շօշափող,

- զ) ուրիշ շրջանի տուած կէտում շոշափող
- դ) տուած կէտից անցնող և տուած ուղիղ գծին շոշափող
- ե) տուած կէտից անցնող և ուրիշ տուած շրջանի շոշափող
- զ) երեք կէտերից անցնող:

50. Գծել շրջան տուած շրջանից 1, 8, 16, 25, 100 ան-

գամ մեծ:

51. Գծել շրջան միւս տուած շրջանից 2, 3, 5, 20 անգամ մեծ:

52. Գծել մի շրջան, որ հաւասար լինի միւս երկու շրջաններին խմբաին առած:

53. Գծել մի շրջան, որ հաւասար լինի միւս երկու շրջանների տարբերութեանը:

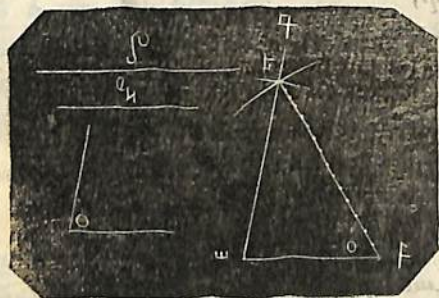
54. Գծել շրջան, որի շրջապատը երկու անգամ մեծ լինէր տուած շրջանի շրջապատից:

55. Գծել մի շրջան, որի մակերեսը հաւասար լինէր միւս տուած երեք շրջանների մակերեսների գումարին:

56. Տուած են եռանկեան երկու կողմերը և նոցանեց մինի դիմացի անկիւնը. կազմել եռանկիւնի:

Առաջին դիպուած: Տուած անկիւնը զանաւոր է արուած կողմերից մեծի դիմաց:

Կազմութիւն: Որովհետեւ o անկիւնը պէտք է մ գծի դիմացը գտնուի, ուրեմն նա զանաւոր է ն վերայ: Սորա համար առնենք $աբ$ զիծը $=ն$, $ա$ կէտում գծենք $\angle = \angle o$, իսկ $բ$ կէտից




Ձև 76.

մ միւս տուած կողմին հաւասար շառաւիղով քաշենք աղեղ:

Որովհետեւ (Ձև 76) $մ > բա$, ուրեմն այդ աղեղը կկտրէ ագ կողմին մի կէտում, որը և կլինի երրորդ անկեան զազաթը: Այս կերպով եռանկիւնին լրակատար կերպով որոշվում է երկու կողմերով և նո կողմի դիմացի անկիւնով:

Եկրորդ դիպուած: Տուած անկիւնը զանաւոր է փոքր կողմի դիմացը:

Կազմութիւն: Նշանակելով $աբ = մ$, $ա$ կէտում գծենք անկիւն $= \angle o$, և $բ$ կէտից ն գծին հաւասար շառաւիղով քաշենք աղեղ: Նայելով ն գծի մեծութեանը, աղեղը կարող է պատահել կամ չպատահել ագ կողմին: Այս վերջին դիպուածում խնդիրը անհնարին է: Պայման. ն պէտք է լինի այնուամենայնիւ ոչ պակաս այն ուղղահայեացից, որ թողնուած է $բ$ -ից ագ կողմի վերայ: Եթէ ն հաւասար է ուղղահայեացին, այն ժամանակ ուղղահայեացի խորիսխը կլինի եռանկեան երրորդ զազաթը, և եռանկեան մեծութիւնն ու ձևը որոշուած կլինին: Եթէ ն մեծ է այդ ուղղահայեացից, այն ժամանակ նորանով գծուած աղեղը կկտրէ ագ կողմին երկու կէտում, և մենք եռանկեան երրորդ զազաթի համար կունենանք երկու կէտեր. $ժ$ և $բ$ (Ձև 77): արժ եւ արը երկու եռանկիւնիները լրացնում են խնդրոյ պայմանը, որովհետեւ իւրաքանչիւր երկու կողմերը և անկիւնը ունին պահանջուած մեծութիւնները: Ապա ուրեմն այս վերջին դիպուածում իսկական մեծութիւնն ու ձևը անորոշ են:



Ձև 77.

Կնշանակէ որ նախընթաց պայմանները բաւական չեն: Պէտք է մէկ պայման ևս: Ի՞նչ պայման:

աժբ եռանկիւնին $ժ$ կէտում բուլթ անկիւն ունի, իսկ արբ

եռանկիւնին ը կէտում ունի սուր անկիւն: Այս պատճառով, եթէ նախընթաց պայմանների վերայ աւելացրած լինէր մեծ կողմի դիմացը գտնուող որևէ անկիւնը. — սուրը կամ բութը՝ այն ժամանակ խնդիրը լիովին որոշուած կլինէր: Աւրեմն, ուղղադիժ եռանկեան մեծութիւնը և ձևը որոշվում են երկու կողմերով, դոցանից որ եւէ մէկի դիմացը գտնուող մէկ անկիւնով եւ միւս կողմին հանդիպակաց անկեան ձևով: Այս վերջին անկեան մեծութիւնը իմանալ պէտք չէ, պէտք է միայն իմանալ, թէ ուղեղ անկիւն է նա, բութ՝ թէ սուր: Այս պատճառով երկու եռանկիւնիք հաւասար են, երբ նոցա մէջ համապատասխանօրէն հաւասար են բոլոր վերոյիշեալ մասերը: Նախընթաց դէպքերից առաջինը մտնում է վերջին ընդհանուր նախադասութեան մէջ:

Բնագրի մէջ գտնուած եռանկեանց հաւասարութեան երեք կանոնների վերայ պէտք է աւելացնել և այս չորրորդը: Այս կերպով ուղղադիժ եռանկեան ձևը և մեծութիւնը որոշուած են, երբ յայտնի են՝

- 1) 2 կողմերը և նոցա մէջ պարունակուող անկիւնը,
- 2) 1 կողմը և 2 նմանադիր անկիւնները,
- 3) 3 կողմերը,
- 4) 2 կողմերը, սոցանից մէկին հանդիպակաց անկիւնը և երկրորդ կողմին հանդիպակաց անկեան տեսակը:

Մէկ կողմը միշտ հարկաւոր է լինում իմանալ, որովհետեւ անկիւնները միայն որոշում են եռանկեան ձևը: Այս պատճառաւ.

- 1) 1 կողմը և 2 (իհարկէ նոյնպէս և 3) անկիւնները,
 - 2) 2 կողմերը և 1 անկիւն (ի՞նչպէս դրուած և ո՞րպիսի),
 - 3) 3 կողմերը:
57. Տուած է եռանկեան կողմերի գումարը և 2 անկիւնը: Պահանջվում է կազմել Δ:

3 քառ. անկ. մասաւոր զրոյանապա ըստ 3 րդ թ. իմանալով
անկիւնը 2 րդ անկիւնը ինչ
պէս յայտնի մէկին միայն 2 անկիւն է ընդհանուր գտն.

ա) ԵՐԿԱՅՆՈՒԹԵԱՆՑ ՀԱՇՈՒԵՀԱՆՈՒԹԻՒՆՈՒ:

2. Խնդիրներ հաշուեհանութեան համար.

1. Քանի՞ մասնաչափ ունի 4 սաժէնը, 3 ոտնաչափը և 7 մասնաչափը:
2. Քանի՞ սաժէն և ոտնաչափ կայ 6438 մասնաչափի մէջ:
3. Քառակուսի այգին ունի 3 սաժէն 4 ոտն". երկայնութիւն. ի՞նչին է հաւասար նորա ցանկապատը:
4. Ուղղանկիւն քառանկեան ձև ունեցող դաշտի երկայնութիւնն է 12 սաժէն, լայնութիւնը 4 սաժէն 5 1/2 ոտն". քանի՞ ոտն". մեծութիւն ունի նորա շրջագիծը:
5. Պատուհանի լայնութիւնը = 6 ոտն". 6 մասն"., շրջագիծը = 31 ոտն"., 8 մասն". ի՞նչին է հաւասար պատուհանի բարձրութիւնը:
6. Ի՞նչքան է հաւասարակողմն եռանկեան շրջագիծը, երբ մի կողմը = 3 ոտն". 4 մասն".
7. Հաւասարակողմն եռանկեան շրջագիծը = 4 ոտն". 8 մասն". մէկ կողմը = 1 ոտն"., 4 մասն". միւսը 2 ոտն"., 1 մասն". ի՞նչին է հաւասար երրորդ կողմը:
8. Հաւասարասրունք եռանկեան հաւասար կողմերից իւրաքանչիւրը = 4 ոտն"., 5". մասն". խորխտը = 6 ոտն"., 3 մասն". ի՞նչին է հաւասար շրջագիծը:
9. Ի՞նչին է հաւասար ուղղանկիւն եռանկեան ներքնաձիգը, երբ էջերը ունին 3 և 4 ոտն". 6 և 8 ոտն". և 15 ու 20 ոտն". երկայնութիւն:
10. Ներքնաձիգը = 40 ոտն". էջերից մինը = 24 ոտն",
" " " " = 70 " " " " = 42 "
Ի՞նչին է հաւասար երկու դէպքերում էլ միւս էջը:

11. Կանոնաւոր հինգանկեան շրջագիծը = 7 ոտն". 6 մատ".
Ի՞նչին է հաւասար իւրաքանչիւր կողմը:

12. Կանոնաւոր վեցանկեան շրջագիծը = 25 ոտն". 6 մատ".
Ի՞նչքան մեծութիւն ունին նորա կողմերը:

13. Երջանի տրամագիծը հաւասար է 3 ոտն". 4 մատ". Ի՞նչին է = շրջապատը (π ամենայն տեղ ընդունվում է հաւասար 3,14):

14. Ի՞նչքան մեծութիւն ունին այն շրջանի տրամագիծը և շառաւիղը, որի շրջապատը = 17,27 մատն".

15. Երբ երկու շրջանների տրամագծերը համապատասխանօրէն հաւասար են 1 և 3 (ոտն" մատ". սաժ". և այլն) ի՞նչքան մեծութիւն ունին նոցա շրջապատները և ինչպէս են յարաբերում նոքա:

16. Գերանի խարսխի տրամագիծը = 1 ոտն". 2 մատն". — զագաթինը 10 մատն". Ի՞նչին է հաւասար միջին տրամագիծը և ի՞նչքան է միջին կտրուածքի շրջապատը:

17. Երկու համակենդրոն շրջաններից մէկի շառաւիղը = 5 մատն". միւսինը = 7 մատ". Ի՞նչին է հաւասար նոցա շրջապատների տարբերութիւնը:

18. Ոչբան են հեռացած՝ երկու համակենդրոն շրջանների շրջապատները, եթէ նոցա շրջապատներից մէկը հաւասար է 50 մատն", միւսը 30 մատն".

19. Ի՞նչին է հաւասար 40° ունեցող աղեղը՝ այն շրջանի մէջ, որի շրջապատը 90 մատնաչափ է:

20. Երջանի շառաւիղը = 5 մատն". Ի՞նչին է հաւասար 30° ունեցող աղեղը:

բ) մակերևութիւնների չափումն.

21. Քանի՞ մատն". կայ 2 սաժէնի, 4 ոտն"., 28 մատնաչափի մէջ:

22. Քանի՞ սաժ", ոտն", և մատն". կայ 45782 մատնաչափի մէջ:

23. Ի՞նչին է հաւասար այն քառակուսիների մակերևոյթները, որոյ կողմերը հաւասար են 8 մատն"., 10¹/₂ մատ", 1 ոտ" 2 մատն"., 3 ոտն"., 4 մատն"., 2 սաժ". 4 ոտն"., 5 սաժ". 4 ոտն". 6 մատնաչափի:

24. Քառակուսու շրջագիծը = 7 ոտն"., 8 մատ. Ի՞նչքան է նորա մակերևոյթը:

25. Ուղղանկիւն քառանկեան ձև ունեցող այդին ունի 12 սաժ", 6 ոտն. երկայնութիւն և 3 սաժ. 4 ոտն. լայնութիւն. Ի՞նչքան է նորա մակերևոյթը:

26. Ուղղանկիւն քառանկիւնին ունի 17¹/₂ ոտն". երկայնութիւն և 11¹/₄ ոտն". լայնութիւն: Ոչբան պէտք է կարճանայ նորա երկայնութիւնը, եթէ լայնութիւնը կմեծանայ 1¹/₄ ոտնաչափով՝ իսկ մակերևոյթը կմնայ նոյնը:

27. Սենեակը ունի 20 ոտն. երկայնութիւն և 18 ոտն. լայնութիւն. քանի՞ տախտակ է պէտք այդ սենեակի յատակի համար, եթէ որ տախտակները ունին 12 ոտն. երկայնութիւն և 3³/₄ ոտն". լայնութիւն:

28. Սենեակը ունի 18 ոտն". երկայնութիւն, 15 ոտն". լայնութիւն և 12 ոտն". բարձրութիւն: Նորան պէտք է ներկել ձիթեայ ներկով: Սենեակի մէջ կայ երկու պատուհան՝ 10 ոտն". բարձրութեամբ և 6 ոտն. լայնութեամբ. և մէկ դուռն՝ 9 ոտն. բարձրութեամբ և 5 ոտն. լայնութեամբ. ոչբան կարժեանայ ներկելը, եթէ որ իւրաքանչիւր ոտնաչափը նստում է 3 կապէկ:

29 Շեղականի խարսխը = 5¹/₂ մատ. բարձրութիւնը 3 մատ. Ի՞նչքան է մակերևոյթը:

30. Շեղականի ծաւալը = 10 մատ. նորա բարձրութիւնը կամ գուղահեռական գծերի մէջ եղած տարածութիւնը = 1¹/₂ մատ. Ի՞նչքան է նորա մակերևոյթը:

31. Ի՞նչին է հաւասար շեղակնրպի մակերևոյթը, որի խարսխը 10 ոտն". 4 մատ". և բարձրութիւնը 5 ոտ". 8 մատ". է:

32. Քառակուսին և շեղականը ունին հաւասար շրջագծեր հաւասար ե՞ն արդեօք նոցա մակերևոյթները:

33. Սեղանի բարձրութիւնը = 4 ոտն". 8 մատ". զուգահեռական կողմերից մինը = 8 մատ". 4 մատ", միւսը 10 ոտն". 6 մատ". — Խճանքան է սեղանի մակերևոյթը:

34. Սեղանի մակերևոյթը = 198 քառ". մատ". — զուգահեռական կողմերը համապատասխանօրէն հաւասար են 10 մատ". և 12 մատ". — Խճանքան է հաւասար նորա բարձրութիւնը:

35. Մէկ մարդ երկու կտոր հող ունի, որք ունին հաւասար մակերևոյթներ: Ա կտորը ունի ուղղանկիւն քառանկեան ձև՝ 16 սաժ". երկայնութեամբ և 9 սաժ". լայնութեամբ. Բ կտորը — քառակուսի ձև ունի: Այդ երկու հողե կտորներից որի շրջագիծն է մեծ:

36. Եթէ մի քառակուսու կողմը հաւասար է 9 մատ". ուրեմն Խճանքան է հաւասար միւս քառակուսու կողմը, որ ունի 4, 9, 16, 25, 1/4, 1/9, անգամ մեծ մակերևոյթ:

37. Պտնել հետեւեալ եռանկեանց մակերևոյթները.
խարիսխը = 7 ոտն". 3 մատ"., բարձրութիւնը 4 ոտն". 6 մատ".
" = 8 ոտն". 4 մատ"., " 5 ոտն". 9 մատ".

38. Եռանկեան մակերևոյթը = 324 □ մատն". Խճանքան է հաւասար նորա բարձրութիւնը, եթէ խարիսխը = 30 մատ".

39. Եռանկեան մէջ ուղիղ անկիւն կազմող կողմերը հաւասար են 4 ոտն". 4 մատ". և 8 ոտն". 9 մատ". Խճանքան է մակերևոյթը:

40. Ուղղանկիւն եռանկեան մակերևոյթը հաւասար է 48 □ ոտն". Խճանքան է հաւասար փոքր էջը, եթէ մեծը հաւասար է 10 ոտն".

41. Երկու եռանկեանց բարձրութիւնը = 8 մատ". մէկի խարիսխը = 6 մատ". միւսինը 8 մատն. Խճանքան են հաւասար նոցա մակերևոյթները և Խճանքան են յարաբերում նոցա միմեանց:

42. Երկու եռանկեանց խարիսխը = 48 մատն". բարձրութիւնները համապատասխանօրէն հաւասար են 7 և 9 մատ". Խճանքան են յարաբերում մակերևոյթները:

43. Եռանկեան խարիսխը = 10 սաժ". 8 ոտն". Խճանքան է հաւասար նորա բարձրութիւնը, եթէ այդ եռանկեան մակերևոյթը

հաւասար է ուղղանկիւն քառանկեան մակերևոյթին, որ ունի 19 սաժ". 7 ոտն". երկայնութիւն և 6 սաժ". 4 ոտն". լայնութիւն:

44. Ուղղանկիւն քառանկեան ակիւնազիծը = 19 մատ". մէկ կողմը 12 մատ". Խճանքան է հաւասար մակերևոյթը:

45. Ուղղանկիւն եռանկեան ներքնաձիգը = 25 մատ". էջը = 20 մատ". Խճանքան է հաւասար մակերևոյթը:

46. Հաւասարասրունը եռանկեան մակերևոյթը = 300 քառ". մատ". բարձրութիւնը = 15 մատ". Խճանքան են նորա սրունքները:

47. Մի տան պատեր 40 ոտն". երկայնութիւն, 35 ոտն". լայնութիւն, 30 ոտն". բարձրութիւն ունին, իսկ սաղաձև յարկի բարձրութիւնն է 50 ոտնաչափ. նորան պէտք է ներկել ձիթեայ ներկով: Խճանքան կարժեանց ներկելը (դռները և պատահանների փեղկերը նոյն գնով հաշուելով). եթէ որ □ ոտն". արժէ 3 կողէի:

48. Սեղանի մէջ անկիւնազիծը = 10 մատ". իսկ նորա վերայ եռանկիւնիների գաղաթներից թողած ուղղահայեայնները = 30 և 36 մատ". Խճանքան է սեղանի մակերևոյթը:

49. Կանոնաւոր հինգանկիւն բազմանկեան կողմը = 10 1/2 մատ". կենդրոնից նորա կողմերից մինի մէջտեղում թողնուած ուղղահայեայնը = 2 13/4 մատ". Խճանքան է հաւասար նորա մակերևոյթը: Խճանքան երկայնութիւն պէտք է ունենայ եռանկեան խարիսխը, որ նա ունենար հինգանկիւն բազմանկեան մակերևոյթին հաւասար մակերևոյթ և 2 13/4 մատն". բարձրութիւն:

50. Կանոնաւոր վեցանկիւնին բաժանուած է 6 հաւասար եռանկիւնիների, որոց գաղաթները հաւասարում են կենդրոնում: Խարիսխը (վեցանկիւնանի կողմը) = 10 1/4 մատ". բարձրութիւնը 7 1/2 մատն". Խճանքան է հաւասար մակերևոյթը:

51. Նրջանի տրամագիծը հաւասար է 5 մատ". Խճանքան է հաւասար նորա մակերևոյթը:

52. Նրջանի շրջապատը = 25 մատ". Խճանքան է հաւասար մակերևոյթը:

53. Կլոր սեղանի շուրջը կաբող են նստել 10 մարդ, բռնելով

խրաքանչիւրը 21/4 ոտն". տեղ: Ի՞նչին է հաւասար սեղանի մակերևոյթը:

54. Նրջանի շառաւիղը=10 մատ". ի՞նչին է հաւասար կիսաշրջանի և քառորդ շրջանի մակերևոյթը:

55. Գտէք օղակի մակերևոյթը, որի ներքին շրջապատը հաւասար է 20 մատ", իսկ արտաքինը 25 մատնաչափի:

56. Օղակի լայնութիւնը=3 մատ". իսկ նորա ներքին շրջապատը=10 մատ". ի՞նչին է հաւասար մակերևոյթը:

57. Նրկու համակենդրոն շրջանների շառաւիղները հաւասար են 4 և 6 մատ". ի՞նչին է հաւասար շրջանների մակերևութների տարբերութիւնը:

58. Հատածի աղեղը=50°, շառաւիղը 10 մատ". ի՞նչքան է հատածի մակերևոյթը:

59. Հատածի կենդրոնական անկիւնը=60°, շառաւիղը 10 մատ". ի՞նչին է հաւասար մակերևոյթը:

60. Ի՞նչպէս պէտք է զուգահեռադիւր խրեան հաւասար և իրան բարձրութեան չափ բարձրութիւն ունեցող եռանկեան փոխարկել: Նրկուսի բարձրութիւնները=10 ոտն". խարխալը 12 ոտն".

61. Ի՞նչքան բարձրութիւն պէտք է ունենայ եռանկեան հեռահաւասար խարխալ ունեցող զուգահեռադիւր, եթէ մենք կամենում ենք, որ նորա մակերևոյթը հաւասար լինէր այդ եռանկեան մակերևութին: Խարխալը=12 ոտն". եռանկեան բարձրութիւնը 10 ոտն".

62. Նրջանի արամագիւր հաւասար է 10 մատ". եռանկեան բարձրութիւնը նոյնպէս = 10 մատ". ի՞նչին պէտք է հաւասար լինի եռանկեան խարխալը, որ նորա մակերևոյթը հաւասար լինէր շրջանի մակերևութին:

63. Նրջանի և ուղղանկիւն քառանկեան մակերևոյթները հաւասար են: Ի՞նչին է հաւասար վերջինի բարձրութիւնը, եթէ նորա խարխալը հաւասար է կիսաշրջապատին:

64. Նրկու նման եռանկեանց մէջ կողմերը յարաբերում են

միմեանց այնպէս, ինչպէս 4-ը 7-ին. փոքր եռանկեան մէջ մի կողմը=12 ոտն". Այսպիսի դէպքում ի՞նչին է հաւասար միւս եռանկեան մէջ համապատասխան կողմը:

65. Քող մի եռանկեան մէջ կողմը=8 մատ". բարձրութիւնը 5 մատ". ի՞նչին է հաւասար միւս նորան նման եռանկեան բարձրութիւնը, եթէ որ համապատասխան կողմը ունի 12 մատն". երկայնութիւն:

66. Ծառի ստուերի երկայնութիւնը=40 ոտն". մի 3 ոտն". երկայնութիւն ունեցող փայտ միւսնոյն միջոցում 5 ոտն" ստուեր է ձգում. ի՞նչքան բարձրութիւն ունի ծառը (ուշադրութիւն չդարձնելով նորա հաստութեան վերայ):

67. Նրկու նման եռանկիւնիներից փոքրի մէկ կողմը=10 մատ". իսկ մակերևոյթը 115 քառ". մատ". ի՞նչին է հաւասար միւսի մակերևոյթը, եթէ որ համապատասխան կողմը=15 մատ":

68. Նրկու շրջանների շառաւիղները 4 մատ". և 7 մատ". են. ի՞նչպէս են յարաբերում նոցա շրջապատները:

69. Մէկ շրջանի շրջապատը=10 մատ". միւսինը=59 մատ". ի՞նչպէս են յարաբերում նոցա տրամագծերը:

70. Նրկու շրջանների արամագծերը յարաբերում են միմեանց ինչպէս 3-ը 4-ին: Ի՞նչպէս են յարաբերում նոցա մակերևոյթները:

71. Ի՞նչպէս է յարաբերում շրջանի մակերևոյթը իւր տրամագծի քառակուսուն:

72. Ի՞նչպէս են յարաբերում շրջանի ներսը և դուրսը զըռուած քառակուսիների մակերևոյթները, եթէ որ շրջանի շառաւիղը=50 մատ".

գ) Ծառայնների չափումը.

73. Քանի՞ խոր". ոտն". կայ 7 խոր". սաժ". 3 խոր". ոտն". 4 խոր". մատ". մէջ:

74. Քանի խոր". ոտն". կայ 12456 խոր". մատնաչափի մէջ:

75. Խորանարդի կողմը = 3 մատ". ի՞նչն է հաւասար նորա խորանարդ բովանդակութիւնը:

76. Տախտակը ունի 14 ոտն". երկայնութիւն, $\frac{3}{4}$ ոտն". լայնութիւն $1\frac{1}{4}$ մատն". հաստութիւն: Ի՞նչքան է նորա ծաւալը:

77. Ի՞նչքան խոր". ոտն". օդ կայ այն սենեակի մէջ, որ ունի 20 ոտն". երկայնութիւն, 15 ոտն". լայնութիւն և 12 ոտն". բարձրութիւն:

78. Մի գերան ունի $7\frac{1}{2}$ մատն". քառակուսի շրջագիծ և 25 ոտն". երկայնութիւն: Ի՞նչքան կլինի նորա խորանարդ պարունակութիւնը:

79. Ո՞րքան խոր". սաժ". հող պէտք է դուրս տրուի, եթէ մենք կամենում ենք մի փոս փորել, որ ունենայ 15 ոտն". երկայնութիւն և 35 ոտն". լայնութիւն՝ 12 ոտն". խորութեան հետ:

80. Պարսպի երկայնութիւնն է 20 ոտն". հաստութիւնը 3 ոտն". բարձրութիւնը 8 ոտն". պարսպի տէրը կամենում է $2\frac{1}{2}$ ոտնաչափով աւելացնել նորա բարձրութիւնը: Ո՞րքան աղեւս կհարկաւորի դորա համար, եթէ որ մի աղեսը ունի 1 ոտն". երկայնութիւն, $\frac{2}{3}$ ոտն". լայնութիւն և $\frac{1}{4}$ ոտն". հաստութիւն:

81. Գտէք զբի մակերևոյթը, որ ունի $6\frac{1}{2}$ մատն". երկ". $3\frac{1}{2}$ մատ". լայն". կազմի վերայ, կազմի քամակը $1\frac{1}{2}$ մատն". լայնութիւն, թերթերի կզերբը $1\frac{1}{4}$ մատն". հաստութիւն ունին. $6\frac{1}{6}$ մատն". երկայնութիւն և $3\frac{1}{6}$ լայնութիւն:

82. Մի գլանաձև աման ունի $1\frac{1}{2}$ ոտն". բարձրութիւն և 10 մատն". լայնութիւն: Քանի՞ խոր". մատն". կայ նորա մէջ:

83. Գտէք այն գլանի երկայնութիւնը, որի խարսխի մակերևոյթն է $11\frac{1}{4}$ □ մատ". և ծաւալը 108 □ մատն".:

84. Վերանի շրջապատը հաւասար է $2\frac{1}{2}$ ոտն". իսկ երկայնութիւնը 18 ոտն". գտէք նորա ծաւալը:

85. Երկաթեայ $1\frac{1}{2}$ ոտն". տրամագիծ ունեցող գլանի ծանրութիւնն է 8 փութ".: Իմացէ՛ք այն գլանի ծանրութիւնը կամ չափը, որ ունի նոյն բարձրութիւնը, և որի խարսխի տրամագիծը

հաւասար է $2\frac{1}{2}$ ոտն".

86. Գատարկ գլանը ունի 15 մատն". երկայնութիւն. նորա արտաքին տրամագիծը 7 մատն". ի՞նչքան է նորա ծաւալը, եթէ որ գատարկ տարածութեան տրամագիծը հաւասար է 3 մատն".:

87. Քառակողմն բուրդի խարսխի մակերևոյթը ձևացնում է մի քառակուսի 4 մատն". երկայնութիւն ունեցող կողմերով. բուրդի երկայնութիւնը 18 մատն". է: Գտէ՛ք նորա ծաւալը:

88. Յռակողմն բուրդի խարսխի մակերևոյթը կազմում է մի եռանկիւնի իւր 4 մատն". երկայնութիւն ունեցող խարսխով և 3 մատն". բարձրութիւնը: Գտէ՛ք բարձրութիւնը = 24 մատն".

գտէ՛ք նորա ծաւալը: 907-3005
89. Կոնի շրջանաձև խարսխի ունի 4 մատն". տրամագիծ. կոնի բարձրութիւնը 12 մատն". գտէ՛ք նորա ծաւալը:

90. Խարսխի շրջապատը 18 մատն". է: Ի՞նչքան է կոնի ծաւալը, եթէ բարձրութիւնը = 30 մատն".

91. Կոնի խարսխի տրամագիծը = 4 մատն". բարձրութիւնը նոյնպէս 4 մատն". է: Ի՞նչն է հաւասար կոնի ծաւալը:

92. Գնտի տրամագիծը = 10 մատն". ի՞նչն է հաւասար նորա մակերևոյթը:

93. Գնտի տրամագիծը = $2\frac{1}{2}$ մատն". ի՞նչքան է նորա ծաւալը:

94. Աշխարհադրական գնտի շրջապատը = $31\frac{4}{10}$ մատն". ի՞նչն է հաւասար նորա ծաւալը և մակերևոյթը:

95. Ի՞նչպէս են յարաբերում միմեանց երկու գնտերի ծաւալները, որոնցից մէկի տրամագիծը 5 մատն". է, իսկ միւսինը — 10 մատնաչափ:

96. Ի՞նչպէս են յարաբերում միմեանց այդ գնտերի մակերևոյթները:

97. Ի՞նչպէս է յարաբերում գնտի ծաւալը իւր տրամագծի խոր". չափի հետ, որ ունի 10 մատն". երկայնութիւն:

98. Գնտի ծաւալը = $65\frac{5}{12}$ խոր". մատն". ի՞նչքան է նորա տրամագիծը:

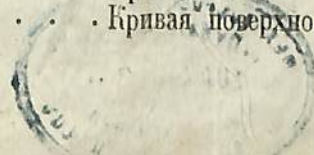
99. եթէ գնտի ծաւալը = $523\frac{1}{3}$ խոր". մատն". ուրեմն ի՞նչին է հաւասար նորա շրջապատը:

100. ա գնտի տրամագիծը և μ կոնի ու φ զլանի խարսխների մակերևոյթները հաւասար են բոլորը 1-ին. վերջին երկուսի բարձրութիւնները նոյնպէս 1-ին են հաւասար: Ի՞նչպէս են յարաբերում այդ մարմինների ծաւալները ամբողջ թուերով:



ԳՈՐԾ ԳՐՈՒԱԾ ԲԱՌԵՐԻ ՌՈՒՍԵՐԷՆ ԹԱՐԳՄԱՆՈՒԹԻՒՆՔԸ,
ԱՅՐՈՒԲԵՆԱԿԱՆ ԿԱՐԳԱԻ:

Անկիւնաչափ	Угломѣръ транспортнѣрь ,
Անկիւնագիծ	Діагональ.
Աղեղ	Дуга.
Անկիւնադիր	Наугольникъ.
Աստիճան	Градусъ.
Արտաքին յարակից անկիւններ	Внѣшніе углы наклоненія.
Արտաքին անկիւն	Внѣшний уголъ.
Անհավասարակողմն	Неравносторонній.
Բարձրութիւն	Высота.
Բազմանկիւնի	Многоугольникъ.
Բարձր անկիւն	Вогнутый или входящій уголъ.
Բուրդ	Пирамида.
Գլան	Цилиндръ.
Գծաչափ	Масштабъ.
Գունտ	Шаръ.
Եզր կամ կող	Край или ребро.
Նռանկիւնի	Треугольникъ.
Չուղաճեռոտն	Параллелепипедъ.
Չուղաճեռագիծ	Параллелограмъ.
Չուղաճեռական գիծ	Равноотстоящая линія.
Էջ	Катетъ.
Ընդդիմակաց կամ կշռեալ անկիւններ	Угли сходственные.
Լար	Хорда.
Խորանարդ	Кубъ.
Խարխախ	Основаніе.
Ծաւալ	Объемъ.
Կոն	Конусъ.
Կենդրոնական անկիւն	Центральный уголъ.
Կապարալար	Отвѣсъ.
Կողմն կամ սրունք	Бокъ или сторона.
Կենդրոն	Центръ.
Կոր գիծ	Кривая линія.
Կոր մակերևոյթ	Кривая поверхность.



- Կից կամ առնթերակաց. Смежный.
- Հակադիր կամ գաղաթնանկիւն, Противоположный угол.
- Հարթ անկիւն. Выямленный угол.
- Հատուած Сегментъ или отрезокъ.
- Հատած Секторъ или вырѣзокъ.
- Հարթ մակերևոյթ կամ երես Плоскость.
- Հարթաչափ. Ватерпасъ.
- Հաւասարակողմն. Равносторонній.
- Հաւասարաթունք. Равнобедренный.
- Հաւասարաչափ. Равнобѣрный.
- Հատանոց կամ կարող զիծ Свѣющая линия.
- Համակենդրոն կամ նոյնակենդրոն շրջաններ. Одинацентренныя круги, (ко-центрическіе).
- Հատուածակողմն կամ սրոցած. Призма.
- Հորիզոնական զիծ. Прямолежащая линия.
- Ներքին յարակից անկիւններ. Внутренныя углы наклоненія.
- Ներքնաձիգ. Гипотенуза.
- Նմանութիւն. Подобіе.
- Շօշափող կամ քսուող զիծ Касательная линия.
- Երջագատի անկիւն. } Уголъ при окружности или вписанный (периферическій).
- Եեղական. } Ромбъ.
- Շառաւիղ, ճառագայթ կամ կէս երկակտուր } Радиусъ или полуперечникъ.
- Երջան. Кругъ.
- Երջագատ Окружность.
- Երջագիծ. Обводъ.
- Ուղղանկիւն քառանկիւնի Прямоугольникъ.
- Ուղղահայեաց կամ ուղղաձիգ զիծ Прямостоящая, отвѣсная или перпендикулярная линия.
- Պատշաճականութիւն Равенство.
- Սեղան. Трапеція.
- Տրամագիծ, առանցք կամ երկակտուր Диаметръ или поперечникъ.
- Փառակուսի Квадратъ.
- Փառանկիւնի Четыреугольникъ.



1888

2013

« Ազգային գրադարան



NL0065776

5m