



Հայկական գիտահետազոտական հանգույց Armenian Research & Academic Repository



Սույն աշխատանքն արտոնագրված է «Ստեղծագործական համայնքներ
ոչ առևտրային իրավասություն 3.0» արտոնագրով

**This work is licensed under a Creative Commons Attribution-NonCommercial
3.0 Unported (CC BY-NC 3.0) license.**

Դու կարող ես.

պատճենել և տարածել նյութը ցանկացած ձևաչափով կամ կրիչով
ձևափոխել կամ օգտագործել առկա նյութը ստեղծելու համար նորը

You are free to:

Share — copy and redistribute the material in any medium or format

Adapt — remix, transform, and build upon the material

1485

512

4-31

LIBRARY



42.00
 525
 531.10
 120

4232
 529
 1571.32

801
 529

2010

[Faint, mostly illegible handwritten text in Arabic script, possibly bleed-through from the reverse side of the page.]

a

ies

of Guyard

Guyard

水

5

7811



512
4-31
այս

510
21-ԱԼ

ԱԼՃԵՊԸ

III

ԻՐԱՆՍՍՏԱՆԻ



2002

ԿՈՍՏԱՆԴՆՈՒՊՈԼԻՍ

ԲՏՊԱՐԱՆԻ Ա. Յ. ՊՈՅԱԾԵԱՆ

1871

15763



UNIVERSITY OF TORONTO

1917

1917

~~UNIVERSITY OF TORONTO~~


1917

UNIVERSITY OF TORONTO

~~UNIVERSITY OF TORONTO~~

1917

ԲՈՎԱՆԴԱԿՈՒԹԻՒՆ



ԳԼՈՒԽ Ա.

ՅԱՌԱՋԱԲԱՆԱԿԱՆ ՍԱՀՄԱՆՔ ԵՒ ԾԱՆՈԹՈՒԹԻՒՆՔ

80 ԳՈՒԱԾՔ

Սլճէպրա — Սահմանք — Բացատրութիւն ալճէպրայական նշանաց ,	4—21
Նման եղերք — Վերածութիւն նման եղերաց ,	21—24
Յաւելումն — կանոն ,	24—26
Հանում — կանոն — Ծանօթութիւն ,	26—51
Բազմապատկութիւն — կանոն միեղերաց ,	51—54
կանոն բազմեղերաց և նշանաց ,	54—56
Ծանօթութիւնք — Յատկութիւններ ցուցուած ,	56—40
Բաժանում Միեղերաց — կանոն ,	40—45
Նշանակութիւնք * ⁰ նշանակին ,	45—44
Նշանք Բաժանման ,	44—45
Բաժանում բազմեղերաց ,	45—47

ԳԼՈՒԽ Բ.

ԱԼՃԷՊՐԱՅԱԿԱՆ ԿՈՏՈՐԱԿՔ

Սահմանք — Ամբողջ քանակութիւն — Խառն քանակութիւն ,	47—50
Կոտորակ մը իր ամենապարզ ձևին վերածել ,	50
Խառն քանակութիւն մը կոտորակի վերածել ,	51
Կոտորակ մը ամբողջ կամ խառն քանակութեան վերածել ,	52
Կոտորակ մը ընդհանուր յայտարարի վերածել ,	55
Յաւելում կոտորակաց ,	54
Հանում կոտորակաց ,	55
Բազմապատկութիւն կոտորակաց ,	56
Բաժանում կոտորակաց ,	57

Գ Լ Ո Ւ Խ Գ.

ՀԱՒԱՍՏԱՐՈՒԹԻՒՆՔ ԱՌԱՋԻՆ ԱՍՏԻՃԱՆԻ

ՅՅԴՈՒԱՆ

Ս ահման հաւասարութեան — Յատկութիւնք հաւասարութեանց ,	58—64
Այլաձևութիւն հաւասարութեանց — Առաջին և երկրորդ	64—68
Լուծումն հաւասարութեանց առաջին աստիճանի — Կանոն	68
Խնդիրք առաջին աստիճանի հաւասարութեանց ,	69—70
Երկու անձանօթ քանակութիւնք պարունակող առաջին աստիճանի հաւասարութիւնք ,	70
Տարադրութիւն — Յաւելմամբ — Հանմամբ — Բաղդատութեամբ ,	71—74
Լուծումն խնդրոց երկու կամ աւելի անձանօթ քանակութեանց ,	74—77

Գ Լ Ո Ւ Խ Գ.

ԿՍՐՈՂՈՒԹԻՒՆՔ

Սահման կարողութեան ,	77
Միեզը մը կարողութեան հանել ,	78
Բազմեզը մը կարողութեան հանել ,	79—80
Կոտորակ մը կարողութեան հանել ,	81
Տարազ երկեզը ,	82—88

Գ Լ Ո Ւ Խ Ե.

Սահման քառակուսեաց—Քառակուսի արմատոց— և կատարեալ քառակուսեաց ,	88—94
Կանոն թուոց քառակուսի արմատ հանելու ,	94—98
Քառակուսի արմատք կոտորակաց ,	98—101
Քառակուսի արմատք միեզերաց ,	101—105
Արմատականք երկրորդ աստիճանի	105—107
Յաւելում արմատականաց ,	107
Հանում արմատականաց ,	108

Բազմապատկութիւն արմատականաց ,	109
Բաժանում արմատականաց ,	110
Ելուղումն քառակուսի արմատոց բազմեղերաց ,	110—114

Գ Լ Ո Ւ Խ Զ.

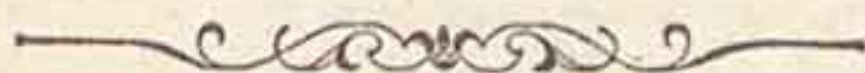
Հաւասարութիւնք երկրորդ աստիճանի ,	114
Սահման և ձև հաւասարութեանց ,	114—116
Թերի հաւասարութիւնք ,	116—120
Անթերի հաւասարութիւնք ,	120
Չորս ձևեր ,	121—125
Լուծումն հաւասարութեանց երկրորդ աստիճանի ,	125—126
Որպիսութիւնք արմատոց ,	126—152

Գ Լ Ո Ւ Խ Է.

Յառաջատութիւնք ,	155
Տարրերական յառաջատութիւնք ,	154—156
Վերջին եզր ,	156—158
Գումար ծայրից — Գումար կարգին ,	158—159
Հինգ թիւերը — Միջին թիւ մը դանկէլ ,	159—141
Երկրաչափական համեմատութիւն և յառաջատութիւն ,	141
Այլևայլ համեմատութիւնք ,	142—162
Երկրաչափական յառաջատութիւն ,	162
Վերջին եզր — Գումար կարգին ,	165—166
Հինգ թիւերը — Միջին մը դանկէլ ,	166—167

Գ Լ Ո Ւ Խ Ը.

Լակարիթմա կամ Գիպահամար ,	168—175
-------------------------------------	---------



100-101

101

102

103-104

PLATE 2

105

106-107

108-109

110

111-112

113-114

115-116

PLATE 3

117

118-119

120-121

122-123

124-125

126

127-128

129

130-131

132-133

PLATE 4

134-135



ԱԼՃԵՊՐԱ



ՆԵՐԱԾՈՒԹԻՒՆ

ԴԱՍ Ա.

1. Յովհաննէս եւ Վարդու տասներկու խնձոր ունին եւ մէկը միւսին ունեցածին չափ ունի. ամէն մէկը ուրբան ունի :

Վիցուք թէ խնձորները երկու հաւասար մասանց բաժնուին. յայտնի է թէ Յովհաննէս պիտի ունենայ մէկ մասը եւ Վարդու պիտի ունենայ միւս մասը. ուստի ամէն մէկը վեց խնձոր պիտի ունենայ :

Ալճէպրայի մէջ, շատ անգամ թիւերը այբուբենի դրերով կը ցուցուին. այսինքն՝ դիր մը կը դնենք թուոյ մը տեղ. ինչպէս + դնենք Յովհաննէսին խնձորներուն տեղ : Ան ատեն՝ որովհետեւ Վարդու հաւասար թիւ մը ունի, + պիտի դնենք նաեւ անոր ունեցած խնձորներուն տեղ : Բայց որովհետեւ մէկտեղ տասներկու խնձոր ունին, ուստի երկու + հաւասար պիտի ըլլայ 12 ի : Եւ կը դրենք այսպէս

$$+ + + = 2 + = 12.$$

Եւ եթէ երկու + հաւասար է 12 ի, կը հետեւի թէ մէկ + կամ + հաւասար է 2 ով բաժանեալ 12 ի, կամ հաւասար է 6 ի : Եւ կը դրենք այսպէս

$$+ = \frac{12}{2} = 6 :$$

Երբ + մինակ է, մէկ +, կամ 1 + ըսել կ'ուզենք : Եթէ 2 + դրենք՝ ըսել կ'ուզենք թէ + երկու անգամ

առնուած է . եթէ 3 + ըսել կ'ուզենք թէ երեք անգամ առնուած է , եւ այլն :

2. Յակոր եւ Յովհաննէս մէկտեղ 24 տանձ ունին , եւ մէկը՝ միւսին ունեցածին չափ ունի . ամէն մէկը ո՞րքան ունի :

Արդ՝ + դնենք Յակորին տանձերուն թուոյն տեղ . ան ատեն՝ նաեւ + պիտի ցուցրնէ Յովհաննէսին ունեցած տանձերուն թիւը . եւ որովհետեւ երկուքը 24 հաս ունին , ուստի 2 + հաւասար պիտի ըլլայ 24 ի ,

$$\text{կամ} \quad + + + = 24 .$$

$$\text{այսինքն} \quad 2 + = 24 \text{ եւ } + = \frac{24}{2} = 12 :$$

Ուստի ամէն մէկը տասներկու տանձ ունի :

3. Յովհաննէս եւ Գրիգոր 36 դեղձ ունին , եւ մէկը միւսին ունեցածին չափ ունի . ամէն մէկը ո՞րքան ունի :

Արդ՝ + դնենք ամէն մէկին ունեցածին թուոյն տեղ .

$$\text{ան ատեն} \quad + + + = 36 .$$

$$\text{այսինքն} \quad 2 + = 36 \text{ եւ } + = \frac{36}{2} = 18 :$$

4. Ի՞նչ է այն թիւը որ , եթէ իր վրայ այնչափ ալ յաւելցրնենք , հաւասար պիտի ըլլայ 20 ի :

Թող + ցուցրնէ այն թիւը . ան ատեն , որովհետեւ իր վրայ այնչափ ալ պիտի յաւելցրնենք , պիտի ունենանք ,

$$+ + + = 20 .$$

$$\text{այսինքն} \quad 2 + = 20 \text{ կամ } + = \frac{20}{2} = 10 :$$

Ուստի այն թիւն է 10 :

5. Ի՞նչ թիւ է այն որ , եթէ իր վրայ այնչափ ալ յաւելցրնենք , հաւասար պիտի ըլլայ 30 ի :

6. Ի՞նչ թիւ է այն որ , եթէ իր վրայ նոյնչափ ալ յաւելցրնենք , հաւասար պիտի ըլլայ 50 ի :

7. Ի՞նչ թիւ է այն որ , եթէ իր վրայ նոյնչափ ալ յաւելցրնենք , հաւասար պիտի ըլլայ 100 ի :

8. Ի՞նչ թիւ է այն որ, եթէ իր վրայ նոյնչափ ալ յաւելցրնենք, հաւասար պիտի ըլլայ 80 ի:

9. Ի՞նչ թիւ է այն որ, եթէ իր վրայ նոյնչափ ալ յաւելցրնենք, հաւասար պիտի ըլլայ 38 ի:

ԴԱՍ Բ.

1. Յովհաննէս եւ Վարդուս 12 խնձոր ունին, եւ Վարդուս Յովհաննէսին ունեցածին կրկինն ունի. ամէն մէկը սրբան ունի:

Դիցուք թէ խնձորները երեք հաւասար մասանց բաժնուին, յայտնի է թէ Յովհաննէս մէկ մասը պիտի առնէ, եւ Վարդուս երկու մասը:

Արդ՝ + դնենք Յովհաննէսին խնձորներուն թուոյն տեղ: Ան առնն՝ 2 + պիտի դնենք Վարդուսին խնձորներուն տեղ, եւ + + 2 + հաւասար պիտի ըլլայ բոլոր խնձորներուն թուոյն: Այս հաւասարութիւնը կը ցուցուի այսպէս

$$+ + 2 + = 12.$$

$$\text{այսինքն՝ } 3 + = 12, \text{ կամ } + = \frac{12}{3} = 4:$$

Ուստի Յովհաննէս ունի 4 խնձոր, եւ Վարդուս՝ 8:

2. Յակոբ եւ Յովհաննէս 30 տանձ ունին, եւ Յովհաննէս Յակոբին ունեցածին կրկնապատիկն ունի. ամէն մէկը սրբան ունի:

Վարձեալ՝ դիցուք թէ ամբողջ թիւը երեք հաւասար մասանց բաժնուի. Յակոբ ասոնց մէկ մասը պիտի առնէ եւ Յովհաննէս երկու մասը:

Ուրեմն թող + ցուցրնէ Յակոբին ունեցած տանձերուն թիւը. ան առնն 2 + պիտի ցուցրնէ Յովհաննէսին ունեցած տանձերուն թիւը: Եւ + + 2 + հաւասար պիտի ըլլայ ամբողջ տանձերուն թուոյն, եւ պիտի ունենանք

$$+ + 2 + = 30.$$

$$\text{այսինքն՝ } 3 + = 30 \text{ կամ } + = \frac{30}{3} = 10:$$

Ուստի Յակոբ ունի 10 տանձ, եւ Յովհաննէս՝ 20:

3. Քրիզոր եւ Յակոբոս 48 գրիչ ունին, եւ Յակոբոս Քրիզորին ունեցածին կրկնապատիկն ունի. ամէն մէկը սրբան ունի:

Յրդ՝ թող + ցուցնէ Քրիզորին գրիչներուն թիւը. ան ատեն՝ 2 + պիտի ցուցնէ Յակոբոսին գրիչներուն թիւը: Եւ + + 2 + պիտի ցուցնէ երկուքին ունեցած ամբողջ թիւը:

Ուստի պիտի ունենանք

$$+ + 2 + = 48.$$

$$\text{այսինքն՝ } 3 + = 48, \text{ կամ } + = \frac{48}{3} = 16:$$

Ուստի Քրիզոր ունի 16 գրիչ, եւ Յակոբոս՝ 32:

4. Ի՞նչ թիւ է այն որ, եթէ վրան իր կրկնապատիկը յաւելցրնենք, հաւասար պիտի ըլլայ 60 ի:

Յրդ՝ + դնենք այն թուոյն տեղ. ան ատեն այն թուոյն կրկնապատիկը պիտի ըլլայ 2 +, եւ պիտի ունենանք

$$+ + 2 + = 60.$$

$$\text{այսինքն՝ } 3 + = 60 \text{ կամ } + = \frac{60}{3} = 20.$$

Եւ կը տեսնենք թէ 20 վրան իր կրկնապատիկը յաւելցրնելով, կ'ըլլայ 60:

5. Յովհաննէս Վարդուսին ըսաւ, «Քու գնդակներդ ինծի տուր, եւ ես հիմակուան ունեցածիս եւ ապապատիկը պիտի ունենամ»: «Ոչ», պատասխանեց Վարդուս, «քու կիներդ ինծի տուր, եւ ես ճիշտ 51 հատ պիտի ունենամ»: Ամէն մէկը սրբան ունէր:]

Յրդ՝ թող + ցուցնէ Յովհաննէսին գնդակներուն թիւը, եւ 2 + պիտի ցուցնէ Վարդուսին ունեցած գնդակներուն թիւը. եւ որովհետեւ երկուքը 51 հատ ունին, կը գրենք այսպէս


$$+ + 2 + = 51.$$

այսինքն՝ $3 + = 51$ կամ $+ = \frac{51}{3} = 17$:

6. Ե՞նչ թիւ է այն՝ որուն վրայ եթէ իր կրկնապատիկը յաւելցրնենք, գումարը հաւասար պիտի ըլլայ 57 ի :

7. Ե՞նչ թիւ է այն՝ որուն վրայ եթէ իր կրկնապատիկը յաւելցրնենք, գումարը հաւասար պիտի ըլլայ 90 ի :

8. Ե՞նչ թիւ է այն որ, եթէ վրան իր կրկնապատիկը յաւելցրնենք, հաւասար պիտի ըլլայ 39 ի :



ԴԱՍ Գ.

1. Եթէ Յովսէփի եւ Պօղոս 24 փետուր ունին, եւ Յովսէփի Պօղոսին ունեցածին եռապատիկն ունի, ամէն մէկը սրբան ունի :

Յայտնի է որ՝ եթէ քսանըչորս փետուրները չորս հաւասար մասանց բաժնուին, Պօղոս պիտի առնէ մէկ մասը, եւ Յովսէփը երեք մասը :

Արդ՝ թող $+$ ցուցրնէ Պօղոսին փետուրներուն թիւը, ան առեն $3 +$ պիտի ցուցրնէ Յովսէփին փետուրներուն թիւը, եւ պիտի ունենանք

$$+ + 3 + = 24.$$

այսինքն՝ $4 + = 24$ կամ $+ = \frac{24}{4} = 6$:

2. Ե՞նչ թիւ է այն՝ որուն վրայ եթէ իր եռապատիկը յաւելցրնենք, գումարը հաւասար պիտի ըլլայ 48 ի :

Եթէ $+$ գնենք այն թուոյն տեղ, պիտի ունենանք

$$+ + 3 + = 48.$$

այսինքն՝ $4 + = 48$, կամ $+ = \frac{48}{4} = 12$:

3. Յակորոս եւ Յովհաննէս 60 խնձոր ունին, եւ Յակորոս Յովհաննէսին ունեցածին եռապատիկն ունի. ամէն մէկը սրբան ունի:

Գիցուք թէ խնձորները չորս հաւասար մասանց բաժնուին. յայտնի է թէ Յովհաննէս պիտի առնէ մէկ մասը, եւ Յակորոս՝ երեք մասը:

Արդ՝ $+$ = ըլլայ Յովհաննէսին խնձորներուն թըւոյն, եւ պիտի ունենանք

$$+ + 3 + = 60.$$

$$\text{այսինքն՝ } 4 + = 60, \text{ կամ } + = \frac{60}{4} = 15:$$

Ուտի Յովհաննէս պիտի ունենայ 15, եւ Յակորոս՝ 45:

4. Ի՞նչ թիւ է այն որ, եթէ վրան իր եռապատիկը յաւելուենք, հաւասար պիտի ըլլայ 100 ի:

Արդ՝ թող $+$ ցուցընէ այն թիւը. ան առեն

$$+ + 3 + = 100.$$

$$\text{այսինքն՝ } 4 + = 100, \text{ կամ } + = \frac{100}{4} = 25:$$

5. Ի՞նչ թիւ է այն՝ որուն չորս անգամն իր վրայ յաւելցընելով, գումարը հաւասար պիտի ըլլայ 60 ի:

Թող $+$ ցուցընէ այն թիւը. ան առեն

$$+ + 4 + = 60.$$

$$\text{այսինքն՝ } 5 + = 60 \text{ կամ } + = \frac{60}{5} = 12:$$

6. Ի՞նչ է այն թիւը որ, եթէ 3 ով բազմապատկուի, եւ արտադրեալին վրայ այն թուոյն կրկնապատիկը գումարուի, հաւասար պիտի ըլլայ 75 ի:

Թող $+$ ցուցընէ այն թիւը.

ան առեն՝ $3 + = 3$ ով բազմապատկեալ թուոյն արտադրեալին.

եւ $2 + =$ թուոյն կրկնապատկին.

եւ $3 + + 2 + = 5 + = 75,$

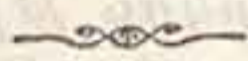
կամ՝ $+ = \frac{75}{5} = 15,$ պահանջեալ թիւը:

7. Ի՞նչ է այն թիւը որ, եթէ իր եռապատկին հետ գումարուի, հաւասար պիտի ըլլայ 140 ի:

8. Ի՞նչ է այն թիւը որ, եթէ 5 ով բազմապատկուի,

կուլի, եւ արտադրեալին հետ գումարուի, հաւասար պիտի ըլլայ 240 ի:

9. Ի՞նչ է այն թիւը՝ որուն կրկնապատկին եւ եռապատկին գումարը հաւասար է 123 ի:



ԴԱՍ Դ.

1. Յովհաննէս ու Վարդուս 80 խնձոր ունին, եւ Յովհաննէս Վարդուսին ունեցածին հորս անգամն ունի. ամէն մէկը սրքան ունի:

Արդ՝ + դնենք Յովհաննէսին խնձորներուն թուոյն տեղ. ան ատեն 4 + պիտի դնենք Վարդուսին խնձորներուն տեղ,

եւ $+ + 4 + = 80.$


այսինքն՝ $5 + = 80,$ եւ $+ = \frac{80}{5} = 16:$

2. Ի՞նչ է այն թիւը որ, եթէ իր քառապատկին հետ գումարուի, հաւասար պիտի ըլլայ 90 ի:

3. Ի՞նչ է այն թիւը որ, եթէ իր հնգապատկին հետ գումարուի, հաւասար պիտի ըլլայ 120 ի:

4. Ի՞նչ է այն թիւը որ, եթէ իր վեցապատկին հետ գումարուի, հաւասար պիտի ըլլայ 243 ի:

5. Ի՞նչ է այն թիւը որ, եթէ իր եօթնապատկին հետ գումարուի, հաւասար պիտի ըլլայ 360 ի:



ԴԱՍ Ե.

1. Ի՞նչ թիւ է այն որ, եթէ իր հնգապատկին հետ գումարուի, կ'ըլլայ 60:

2. Յովհաննէս շատ մը գնդակներ ունէր. անոնց քառապատիկն ալ գնեց, եւ եօթանասուներկնգ հատ ունեցաւ. առաջ քանի՞ հատ ունէր:

3. Եթէ + եօթն անգամ, եւ ապա ութ անգամ առնուի, քանի՞ անգամ առնուած պիտի ըլլայ :

4. Եթէ նախընթաց օրինակին մէջ, + հաւասար ըլլար 5 ի, գումարին թուական արժէքն ի՞նչ պիտի ըլլար :

5. Չափր անանկ երկու թիւեր՝ որոնց գումարը յիսուս, եւ անոնց մէկը միւսին չորս անգամն ըլլայ :

Թող + ցուցնէ փոքր թիւը .
ան առեն 4 + պիտի ցուցնէ մեծ թիւը,
եւ խնդրոյն պայմաններէն,

$$+ + 4 + = 50 .$$

ուստի՝ $5 + = 50$, կամ $+ = \frac{50}{5} = 10$:

6. Չափր անանկ երկու թիւեր՝ որոնց գումարը քառասունուհինգ, եւ մէկը միւսին ութ անգամն ըլլայ :

7. Քառասունուութ անանկ երկու մասերու բաժնէ, որ մեծը փոքրին հինգ անգամն ըլլայ :

8. Ի՞նչ է 9 + ի եւ 3 + ի գումարը : Թուական գումարն ի՞նչ է, ենթացողով թէ + 5 ի հաւասար է :

9. Ի՞նչ կ'ընէ + + + 3 + + 4 + + 5 + : Եթէ + ի արժէքը 2 ըլլայ, գումարին թուական արժէքն ի՞նչ պիտի ըլլայ :

10. Յակորոս եւ Յովհաննէս երեսունուվեց խրնձոր իրենց մէջ կ'ուզեն այնպէս բաժնել՝ որ Յակորոս Յովհաննէսին եռապատիկն ունենայ . ամէն մէկը քանի՞ հատ պիտի ունենայ :

11. Ի՞նչ է այն թիւը որ, եթէ ութ անգամը վրան յաւելցրնենք, գումարին վրայ ալ թուոյն եռապատիկը յաւելցրնենք, հաւասար պիտի ըլլայ 48 ի :

12. Ի՞նչ է այն թիւը որ, եթէ իր իններորդ մասին հետ գումարուի, պիտի ըլլայ 20 :

Թող 9 + ցուցնէ այն թիւը .
ան առեն 9 + ի մէկ իններորդը պիտի ըլլայ + , եւ խնդրոյն պայմանէն,

$$9 + + = 20 ,$$

ուստի՝ $10 + = 20$, կամ $+ = \frac{20}{10} = 2$:

ուրեմն՝ եթէ + = 2, 9 + = 18, Պատասխան :

ԴԱՍ Զ.

1. Ե՞նչ թիւ՝ իր վեց անդամին եւ ապա հինգ անդամին հետ գումարուելով, քսանուչորս կ'ըլլայ՝
Թող + ցուցրնէ այն թիւը .

ապա՝ $6 + =$ այն թուոյն վեց անդամին ,

եւ $5 + =$ այն թուոյն հինգ անդամին .

եւ խնդրոյն պայմաններէն ,

$$+ + 6 + + 5 + = 24 .$$

ուստի՝ $12 + = 24$, կամ $+ = \frac{24}{12} = 2$:

2. Ե՞նչ թիւ՝ իր կրկնապատկին , եռապատկին , քառապատկին եւ հնգապատկին հետ գումարուելով , տասնուհինգ կ'ըլլայ :

3. Յաժնէ քսանեւմէկ անանկ երեք մասերու , որ երկրորդը առաջինին չորս անգամն ըլլայ , եւ երրորդը՝ երկրորդին չորս անգամը :

4. Երկրագործ մը այժերուն եռապատիկը ոչխար ունի , եւ ոչխարներուն մէկ երրորդին չափ ալ դառն ունի , ամէնը երեսուն հատ են . ամէն մէկ տեսակէն սրբան ունի :

Սրդ՝ թող + ցուցրնէ այժերուն թիւը .

ան առեն $3 +$ պիտի ցուցրնէ ոչխարներուն թիւը ,

եւ $+ 4$ պիտի ցուցրնէ դառներուն թիւը , եւ խնդրոյն

պայմաններէն , $+ + 3 + + = 30$, բոլորին թիւը .

ան առեն՝ $5 + = 30$, կամ $+ = \frac{30}{5} = 6$, դառները

կամ այժերը : Նաեւ $3 + = 3 \times 6 = 18$, ոչխարնե-

րուն թիւը :

5. Յովհաննէս երկու քոյր եւ մէկ եղբայր ունի ,

եւ կ'ուզէ անոնց երեսուն թալէր բաժնել : Բայց

կ'ուզէ մեծ քրոջը պզտիկին կրկնապատիկը տալ ,

եւ եղբորը՝ երկու քրոջը տուածին չափ . իւրաքան-

չիւրին սրչափ տալու է :

6. Պարտէզի մը մէջ երեսունուհինգ ծառ կայ .

ապուրի եւ տանձի ծառերը հաւասար են , բայց սա-

լորի ծառերուն եռապատիկը կեռասի ծառ կայ, եւ տանձի ծառերուն կրկնապատիկը խնձորի ծառ. ամէն մէկ տեսակէն քանի՞ ծառ կայ:

7. Քաժնէ քսանուչորս անանկ երեք մասերու, որ երկրորդն առաջինին կրկնապատիկն ըլլայ, եւ երրորդն՝ առաջինին եռապատիկը:

8. Յովհաննէս Քասալարին ունեցած պտուտակներուն երեք անդամը գնդակներու ունի. մէկ պտուտակը կ'արժէ երեք սէնթ, եւ մէկ գնդակը՝ մէկ սէնթ, եւ մէկտեղ կ'արժեն երեսուն սէնթ. իւրաքանչիւրը քանի՞ հատ ունի:

ԴԱՍ Է.

1. Յակոբոս Վարդուսին ունեցած գնդակներուն երեք անդամն ունի. եւ մէկտեղ երեսունուերկու հատ ունին. ամէն մէկը ո՞րքան ունի:

Թող $+$ = Վարդուսին գնդակներուն թուոյն.
ապա՝ $3 +$ = Յակոբոսին գնդակներուն թուոյն,
եւ $+ + 3 +$ = 32 , երկուքին ունեցածը.

ան ատեն $4 +$ = 32 , կամ $+$ = $\frac{32}{4}$ = 8 .

ուստի Վարդուս ունի 8 , եւ Յակոբոս ունի $8 \times 3 = 24$:

2. Յովհաննէս, Քասալար ու Սարգիս իննսուն գիրք ունին. Քասալար Յովհաննէսին գրքերուն հինգ անդամն ունի, եւ Սարգիս՝ Յովհաննէսին գրքերուն չորս անդամը. իւրաքանչիւրը քանի՞ հատ գիրք ունի:

Թող $+$ = Յովհաննէսին գրքերուն թուոյն.
ապա $5 +$ = Քասալարին գրքերուն թուոյն,
եւ $4 +$ = Սարգիսին գրքերուն թուոյն.

ան ատեն՝ $+ + 5 + + 4 +$ = 90 , բոլորին ունեցած թիւը.

ուստի $10 +$ = 90 , կամ $+$ = $\frac{90}{10}$ = 9 .

ուրեմն Յովհաննէս ունի 9 , Քասալար՝ 45 , եւ Սարգիս՝ 36 :

3. Երեք թուոց գումարն է քսանուչորս • երկրորդն առաջինին կրկնապատիկն է, եւ երրորդը՝ առաջինին հնգապատիկը • ինչ են այն թիւերը :

4. Երեք թուոց գումարն է քառասունեւութ • երկրորդը առաջինին եօթնապատիկն է, եւ երրորդն՝ առաջինին ու երկրորդին գումարին հաւասար է • ինչ են այն թիւերը :

5. Չորս թուոց գումարն է եօթանասուն • երկրորդն առաջինին քառապատիկն է, եւ երրորդն՝ առաջինին եռապատիկը, ու չորրորդը՝ երրորդին կրկնապատիկը • ինչ են այն թիւերը :

6. Բաժնէ երեսունեւինը անանկ երեք մասերու, որ երկրորդը առաջինին եռապատիկն ըլլայ, եւ երրորդը՝ երկրորդին եռապատիկը :

7. Բաժնէ եօթանասունուհինգ անանկ երկու մասերու, որ պղտիկը մեծին մէկ չորրորդն ըլլայ :

8. Բաժնէ ութսունուհինգ անանկ չորս մասերու, որ երկրորդն առաջինին քառապատիկն ըլլայ, եւ երրորդը՝ երկրորդին քառապատիկը, եւ չորրորդը՝ երրորդին քառապատիկը :

ԴԱՍ Ը.

1. Յակորոս Յովհաննէսէն հինգ խնձոր առաւ, եւ ան ատեն տասուերկու հատ ունեցաւ • առաջ որքան ունէր :

Թող $+ =$ անոր առջի ունեցածին •
 ան ատեն՝ $+ + 5 = 12$, ետքի ունեցածը •
 արդ՝ եթէ $+ |$ վրայ 5 աւելցնելով գումարը կ'ըլլայ 12, ուրեմն $+ =$ պիտի ըլլայ 12 է 5 պակասի •
 ուստի՝ $+ = 12 - 5 = 7$:

Երբ թիւ մը հաւասարութեան մէկ անդամէն առնելով միւսին մէջ կը դնենք, ասոր փոփոխել կ'ըսենք:

2. Չասպար Սարգսէն ութ դնդակ աւելի ունի, եւ մէկտեղ երեսունուվեց հատ ունին. ամէն մէկը սրբան ունի:

Թող $+$ = Սարգսին ունեցած թուոյն .

ապա՝ $+$ $+$ 8 = Չասպարին ունեցած թիւը,

եւ $2 + + 8 = 36$, երկուքին ունեցած թիւը .

արդ՝ եթէ $2 + 8$ ի հետ գումարուելով հաւասար կ'ըլլայ 36 ի, ուրեմն $2 +$ հաւասար ըլլալու է 36 է 8 պակասի .

ուստի՝ $2 + = 36 - 8 = 28$,

կամ՝ $+$ $= \frac{28}{2} = 14$:

Ուստի կը տեսնենք թէ աւելի թիւ մը, այսինքն՝ յաւելման նշան ունեցող թիւ մը, մէկ անդամէն միւսին կը փոփոխուի, սոսկ իր նշանը նուազի փոխելով:

3. Հօր մը տարիքը տղուն տարիքին կրկնապատիկն է, եւ եթէ ասոնց տարիքներուն գումարին վրայ չորս յաւելցընենք՝ 64 կ'ըլլայ. ամէն մէկուն տարիքը՝ քանի է:

Թող $+$ ցուցընէ տղուն տարիքը .

ապա՝ $2 +$ պիտի ցուցընէ հօրը տարիքը,

եւ $3 + + +$ պիտի ցուցընէ անոնց տարիքներուն գումարը .

արդ՝ խնդրոյն պայմաններէն կ'ելլէ

$$2 + + + 4 = 64 .$$

ուստի՝ $3 + + 4 = 64$, եւ $3 + = 64 - 4 = 60$.

կամ՝ $+$ $= \frac{60}{3} = 20$, տղուն տարիքը,

եւ $20 \times 2 = 40$, հօրը տարիքը:

4. Երկրագործ մը ոչ խարներու երեք արօտ ունի. երկրորդին մէջ՝ առաջնոյն կրկնապատիկը կայ,

Եւ երրորդին մէջ՝ առաջնոյն եւ երկրորդին մէջ եղածէն 13 պակաս կայ . եւ ընդ ամէնը յիսուսուեօթը ոչխար ունի : Ամէն մէկ արօտին մէջ քանի՞ ոչխար կայ :

5. Ի՞նչ է այն թիւը՝ որուն վրայ եթէ տասը դումարուի, դումարը հաւասար պիտի ըլլայ այն թուոյն եռապատկին :

6. Յովհաննէս հաւասար թուով շատ մը տանձ, դեղձ ու լեմոն դնեց, որոնց համար հարիւր սէնթ տուաւ . ամէն մէկ դեղձին ու տանձին համար սէնթ մը տուաւ, եւ ամէն մէկ լեմոնին համար 3 սէնթ տուաւ . ամէն մէկ տեսակէն քանի՞ հատ դնեց :

7. Մարդ մը ութսուն թալէր նուիրեց տարբեր ժամանակներ . երկրորդ նուէրը առաջինին կրկնապատիկն էր . եւ երրորդը՝ առաջինին ու երկրորդին չափ եւ ութը թալէր ալ աւելի . ամէն մէկ անգամին սրչափ տուաւ :

8. Ձի մը, կառք մը եւ ձիուն կազմածը, մէկտեղ հարիւր քսան թալէր կ'արժեն : Ձիուն արժէքը, վրան քսան թալէր աւելցընելով, հաւասար կ'ըլլայ կազմածին արժէքին, եւ կառքը կազմածէն քսան թալէր աւելի կ'արժէ . իւրաքանչիւրին արժէքն ինչ է :

ԴԱՍ Թ.

1. Բաժնէ քսանուամէկ թալէր՝ Յակոբոսին, Յովհաննէսին ու Վարդուսին, անանկ որ Յակոբոս Յովհաննէսէն չորս թալէր աւելի ունենայ, եւ Յովհաննէս՝ Վարդուսէն մէկ թալէր աւելի :

Թող $+$ = Յակոբոսին բաժնին,
 ան առեն $+$ — 4 = Յովհաննէսին բաժնին,
 եւ $+$ — 4 — 1 = Վարդուսին բաժնին,

Եւ $+ + + + - 4 - 4 - 1 = 21$.

ուստի $3 + - 9 = 21$.

արդ՝ եթէ 9 ուլ նուազեալ 3+ հաւասար է 21 ի, ուրեմն 3+ հաւասար պիտի ըլլայ 9 ուլ յաւելեալ 21 ի.

ուստի $3 + = 21 + 9 = 30$,

կամ $+ = \frac{30}{3} = 10$;

ուստի Յովհաննէսին բաժինը $= 10 - 4 = 6$,

Եւ Վարդուսին բաժինը $= 10 - 5 = 5$;

Ծանօթութիւն. — Նախընթաց օրինակէն կը տեսնենք որ բացասական թիւ մը կրնանք հաւասարութեան մէկ անդամէն միւսին տեղափոխել՝ սոսկ իր նշանը դրականի փոխելով:

2. Մարդ մը պանդոկ մը երթալով երեք շիլին ծախք կ'ընէ. եւ նորէն ուրիշ պանդոկ մը կ'երթայ եւ հոն ինը շիլին ծախք կ'ընէ, որ իր քովը մնացածին երեք անգամն է. առաջ որքան ունէր:

3. Երեք հոգի, Ա, Բ եւ Գ պանդոկի մը մէջ քսանեւութ թալէր ծախք ըրին. Բ՝ Աէն երեք թալէր աւելի ծախք ըրաւ. եւ Գ՝ Բէն եօթը թալէր աւելի. ամէն մէկը որչափ ծախք ըրաւ:

4. Չորս թիւերու գումարն է 33. երկրորդը՝ առաջինին կրկնապատիկն է, եւ երրորդը՝ երկրորդին եռապատիկը, եւ չորրորդը՝ երրորդին քառապատիկը. թիւերն ինչ են:

5. Երկու թուոց գումարը 13 է, եւ անոնց տարբերութիւնն է 3. ինչ են այն թիւերը:

Թող $+ =$ մեծին,

ան ատեն $+ - 3 =$ փոքրին.

Եւ $2 + - 3 = 13$. ուստի $2 + = 13 + 3 = 16$,

կամ $+ = \frac{16}{2} = 8$, եւ $8 - 3 = 5$.

ուստի թիւերն են 8 եւ 5:

6. Յակոբ Յովհաննէսին ըսաւ, « Գու գնդակնե-

բուդ հինգը ինծի տուր, եւ ես պիտի ունենամ հիւ
մակուան ունեցածիդ կրկնապատիկը» . մէկտեղ
տասնուինը հաս ունէին . ամէն մէկը քանի հաս
ունէր :

Թող + ցուցրնէ Յակոբին ունեցածը .
ան ատեն 19 — + պիտի ցուցրնէ Յովնաննէսին ու
նեցածը .

եւ խնդրոյն պայմաններէն կ'ելլէ ,
$$+ + 5 = 2(19 - +) = 38 - 2 + .$$

ապա , 2 + եւ 5 տեղափոխելով՝ կ'ունենանք
$$3 + = 38 - 5 = 33 ,$$

կամ
$$+ = \frac{33}{3} = 11 :$$

Ծանօթութիւն . — Երբ երկու կամ աւելի եզրերէ
բաղկացեալ ալճէպրայական տարազ մը՝ կուզենք
թուով մը բազմապատկել , այն եզրերը փակագծի
մէջ կը դնենք , եւ բազմապատկիչը կը գրենք աջ
կամ ձախ կողմը . ինչպէս ,

$$2(19 - +) \text{ կամ } (19 - +)2$$

կը ցուցրնէ թէ 19 ի եւ + ի տարբերութիւնը 2 ով
պիտի բազմապատկուի :

7. Մօր մը եւ իր աղջկանը տարիքներուն գու
մարը 56 է . աղջկանը տարիքը մօրը տարիքին մէկ
երրորդն է . իւրաքանչիւրին տարիքն ինչ է :

ԴԱՍ Ժ.

1. Եթէ 3 + է + հանենք , ինչ կը մնայ : Եթէ 2 +
հանենք , ինչ կը մնայ : Եթէ 3 + հանենք , ինչ կը մնայ :

2. Եթէ 3 + է + — 1 հանենք , ինչ կը մնայ :

Հոս կ'առաջարկենք 3 + է + — 1 հանել , որ մէկ + է
փոքր է : Ուրեմն եթէ 3 + է + հանենք , կ'ո մնայ 2 + .

Եւ շատ հանած կ'ըլլանք, ու հետեւապէս ճաշարը մէկ նուազած պիտի ըլլայ: Ուստի ճշմարիտ մնացորդն ունենալու համար՝ 1 պէտք է յաւելցընել, եւ ան ատեն կ'ունենանք

$$3 + - (+ - 1) = 3 + - + + 1 = 2 + + 1:$$

Սյս եւ ասոր նման արդիւնքներ դանելու համար՝ քառնալի թուոյն նշանները $\frac{+}{-}$ ինչպէս, եւ եզրերը դուժարելու է:

3. Ի՞նչ է տարբերութիւնը

$$4 + + 3 \text{ ի եւ } 2 + - 2 \text{ ի.}$$

$$4 + + 3 - (2 + - 2) = 4 + - 2 + + 3 + 2 = 2 + + 5:$$

4. Ի՞նչ է տարբերութիւնը

$$6 + - 9 \text{ ի եւ } 2 + - 8 \text{ ի:$$

5. Ի՞նչ է տարբերութիւնը

$$3 + - 4 \text{ ի եւ } - + + 6 \text{ ի:$$

6. Ի՞նչ է տարբերութիւնը

$$- 5 + + 7 \text{ ի եւ } - 3 + + 8 \text{ ի:$$

7. Յակոբին տարիքը Յովհաննէսին տարիքէն քերք աւելի է. եւ Յակոբին տարիքին մէկ վեցերորդը Յովհաննէսին տարիքին մէկ հինգերորդին հաւասար է. իւրաքանչիւրին տարիքն ի՞նչ է:

Թող + ցուցընէ Յակոբին տարիքը.

ապա + - 3 պիտի ցուցընէ Յովհաննէսին տարիքը. եւ խնդրոյն պայմաններէն,

$$\frac{+}{6} = \frac{+-3}{5}.$$

ուստի՝ $5 + = 6 + - 18$, կամ $+ = 18$:

8. Մամուէլ Յովհաննէսէն երկու սէնթ աւելի ունի. եթէ Յովհաննէսին սէնթերը Մամուէլինին վրկնապատկէն հանենք, տասը կը մնայ. ամէն մէկը յիշքան ունի:

Թող + ցուցընէ Մամուէլին թիւը.

ան ատեն + - 2 պիտի ցուցընէ Յովհաննէսին թիւը, եւ խնդրոյն պայմաններէն,

$$2 + - (+ - 2) = 10.$$

այսինքն՝

$$2 + - + + 2 = 10.$$

կամ՝

$$+ + 2 = 10, \text{ կամ } + = 10 - 2 = 8:$$

9. Երկրագործ մը ոչխարներ ունի երկու փարախներու մէջ . առաջնոյն մէջ՝ երկրորդին մէջ եղած ոչխարներէն հինգ աւելի կայ . բայց մեծ փարախին եռապատիկը հաւասար է պզտիկ փարախին քառապատիկին . իւրաքանչիւր փարախին մէջ քանի ոչխար կայ :

10. Լուսիա Աննայէն հինգ տարուան մեծ է . բայց եթէ Լուսիային տարիքին չորս անգամէն Աննային տարիքին հինգ անգամը հանենք , քան չի մնար . ամէն մէկուն տարիքն ինչ է :

11. Ի՞նչ է տարբերութիւնը

$5 + + 3 \text{ ի եւ } - 7 + - 4 \text{ ի} :$

12. Ի՞նչ է տարբերութիւնը

$- 6 + + 3 \text{ ի եւ } 8 + + 9 \text{ ի} :$

5144
5116

ԴԱՍ ԺԱ.



1. Չաճառական մը շատ մը լեմոն գնեց հաւասար թուով . ամէն մէկ լեմոնի համար երկու սէնթ , եւ ամէն մէկ նարինջի համար երեք սէնթ տուաւ , եւ բոլորին համար ութսուն սէնթ վճարեց . ամէն մէկէն սրբան գնեց :

Թող + ցուցրնէ ամէն մէկ տեսակին թիւը .

$2 + =$ լեմոններուն արժէքին ,

եւ $3 + =$ նարինջներուն արժէքին .

եւ խնդրոյն պայմաններէն ,

$2 + + 3 + = 80$ սէնթի ,

ուստի՝ $5 + = 80$, կամ $+ = \frac{80}{5} = 16$:

2. Չաճառական մը շատ մը լեմոն գնեց հատը երկու սէնթի , եւ երեք անգամը նարինջ գնեց հատը չորս սէնթի , եւ բոլորին համար տուաւ ութսուն չորս սէնթ . ամէն մէկ տեսակէն սրբան գնեց :

3. Ի՞նչ թիւ՝ եթէ իր հինգ անգամին հետ դու մարտի եւ դումարէն 9 հանուի՝ 21 կ'ըլլայ :

4. Յովհաննէս իր քսակին մէջ քանի մը փարա ունի, փարաներուն կէսին չափ դուրուշ ունի, եւ դուրուշներուն կէսին չափ ալ լիրա ունի. ընդ ամէնը քսանեւութ կտոր ունի. ամէն մէկ տեսակէն ո՞րքան ունի :

Թող + ցուցընէ լիրաներուն թիւը .

ան ատեն՝ $2 +$ պիտի ցուցընէ դուրուշներուն թիւը ,

եւ $4 +$ պիտի ցուցընէ փարաներուն թիւը .

ապա՝ խնդրոյն պայմաններէն ,

$$+ + 2 + + 4 + = 7 + = 28, \text{ կամ } + = \frac{28}{7} = 4 :$$

5. Չամբիւղի մը մէջ՝ դեղձերուն երեք անգամը խնձոր կայ, եւ խնձորներուն հինգ անգամը տանձ կայ. ընդ ամէնը իննսունուհինգ հատ է. ամէն մէկ տեսակէն ո՞րքան կայ :

6. Ի՞նչ թիւ՝ եթէ եօթնով բազմապատկուի եւ արտադրեալէն հինգ հանուի, հաւասար կ'ըլլայ այն թուոյն չորս անգամին՝ յաւելեալ տասուիրեքով :

7. Ձիավաճառ մը ձի մը եւ երկու թամբ ունի. թամբին մէկը կ'արժէ երեսուն թալէր եւ միւսը հինգ. եթէ աղէկ թամբը ձիուն վրայ դնէ, անոնց արժէքը հաւասար կ'ըլլայ ձիուն արժէքին կրկնապատկին՝ նուազեալ միւս թամբին կրկնապատկովը. ի՞նչ է ձիուն արժէքը :

ԴԱՍ ԺԲ.

1. Ի՞նչ թիւ է այն որ, եթէ վրան հինգ դումարուի, եւ դումարը երեքով բազմապատկուի, հաւասար կ'ըլլայ այն թուոյն տասը անգամին՝ յաւելեալ մէկով :

Թող + ցուցրնէ այն թիւը .
 ապա՝ խնդրոյն պայմաններէն ,
 $3 (+ + 5) = 10 + + 1,$
 ուստի՝ $3 + + 15 = 10 + + 1 .$
 եւ $10 +$ ու 15 տեղափոխուելով ,
 $3 + - 10 + = 1 - 15,$
 կամ՝ $- 7 + = - 14,$
 եւ երկու անդամներուն նշանները փոխելով ,
 $7 + = 14$ կամ $+ = \frac{14}{7} = 2 :$

Ծանօթութիւն . — Բոլոր + երն առաջին անդամին մէջ տեղափոխելէն ետքը , եթէ վերջին նշանը նուազ է՝ առաւել ըրէ , երկու անդամներուն մէջ բոլոր երեւոյն նշանները փոխելով :

2. Երկու թուոց տարբերութիւնը երեք է , եւ անոնց գումարը տարբերութեան հինգ անդամն է . ինչ են այն թիւերը :

3. Յակոբոս Յովհաննէսին ըսաւ , « Քու խնձորներդ ինծի տուր , եւ ես քու հիմակուան ունեցածիդ երեք անդամը պիտի ունենամ » : « Այ » , ըսաւ Յովհաննէս , « քանզի դուն իմ ունեցածէս չորս աւելի ունիս » . ամէն մէկը քանի հատ ունէր :

Թող + ցուցրնէ Յովհաննէսին խնձորներուն թիւը .
 ապա՝ $+ + 4$ պիտի ցուցրնէ Յակոբոսին խնձորներուն թիւը .

եւ խնդրոյն պայմաններէն ,
 $+ + + + 4 = 3 + ,$
 որ տեղափոխուելով կ'ըլլայ $+ = 4 :$

4. Յակոբ աղքատներու պատահեցաւ , որոնց ամէն մէկուն 6 ական սէնթ տուաւ . եթէ աղքատները չորս աւելի ըլլային , եւ ասոնց ալ ամէն մէկուն նոյնչափ տուած ըլլար , ընդ ամէնը եօթանասուներկու սէնթ տուած պիտի ըլլար . քանի աղքատներ կային :

5. Յովհաննէս իր բաղերուն երկու անդամը հընդ-

կահաւ ունի. սագերուն երկու անգամը՝ բաղ. եւ սագերուն ութ անգամը՝ վառեակ. ամէնը քառասունուհինգ հատ են. ամէն մէկ տեսակէն քանի հատ ունի:

6. Երեք հոգի քառասունուուրթ թալէր առին. երկրորդն առաջինէն չորս թալէր աւելի առաւ, եւ երրորդը՝ երկրորդէն չորս աւելի. ամէն մէկը քանի թալէր առաւ:

7. Երեք թուոց գումարն է երեսունուվեց. երկրորդն առաջինէն ութ աւելի է. եւ երրորդը՝ երկրորդէն տասնուվեց պակաս է. ինչ են այն թիւերը:

Թող + ցուցնէ այն թիւերուն առաջինը.
 ապա՝ + + 8 պիտի ցուցնէ երկրորդ թիւը.
 եւ որովհետեւ երրորդը երկրորդէն 16 պակաս է,
 աւրեմն + + 8 — 16 պիտի ցուցնէ երրորդ թիւը.
 յայնժամ խնդրոյն պայմաններէն,

$$+ + + + 8 + + + 8 - 16 = 36,$$

$$\text{կամ} \quad 3 + = 36, \text{ կամ} + = 12.$$

ուստի թիւերն են 12, 20 եւ 4:

8. Հայր մը, աղայ մը եւ աղջիկ մը իրենց տարիքը բաղդատելով գտան որ աղուն տարիքն աղջկանը տարիքին կրկնապատիկն էր. եւ եթէ աղուն տարիքին կրկինէն չորս հանուէր, հորը տարիքը կ'ելլէր, եւ անոնց տարիքին գումարը 73 էր. ամէն մէկուն տարիքն ինչ էր:

ԴԱՍ ԺԳ.

1. Երկու թուոց գումարն ինն է. եթէ առաջնոյն վրայ վեց աւելցնենք, գումարը երկրորդին կրկինը պիտի ըլլայ. ինչ են այն թիւերը:

Թող + ցուցնէ առաջին թիւը.
 ան ատեն 9 — + պիտի ցուցնէ երկրորդ թիւը,

Եւ խնդրոյն պայմաններէն,

$$+ + 6 = 2(9 - +) = 18 - 2 + .$$

ուստի, $3 + = 12$, Կամ $+ = \frac{12}{3} = 4$, առաջինը .

Եւ $9 - + = 9 - 4 = 5$, երկրորդ թիւը :

2. Յակոբ եւ Յովհաննէս ընկոյզ խաղացին . Յակոբ սկսած ատենը՝ Յովհաննէսին ընկոյզներուն կըրկինն ունէր . բայց երբ Յովհաննէս ութ շահեցաւ, ան ատեն Յակոբին քովը մնացած ընկոյզներուն կըրկինն ունեցաւ . իւրաքանչիւրն սկսած ատենը քանի հատ ունէր :

Թող $+$ ցուցնէ Յովհաննէսին ընկոյզները, ան ատեն $2 +$ պիտի ցուցնէ Յակոբին ընկոյզները .

Եւ $+ + 8$ Յովհաննէսին ունեցածը՝ շահելէն ետքը,

Եւ $2 + - 8$ Յակոբին ունեցածը՝ կորսնցնելէն ետքը . ան ատեն խնդրոյն պայմաններէն,

$$+ + 8 = 2(2 + - 8) = 4 + - 16,$$

Կամ $3 + = 24$.

ուստի՝ $+ = 8$, Յովհաննէսին ունեցած թիւը .

Եւ $2 + = 16$, Յակոբին ունեցած թիւը :

3. Պարտէզի մը մէջ վաթսուն ծառ կայ . տանձի ծառերուն թիւը խնձորի ծառերուն կըրկինն է, եւ տանձի ու խնձորի ծառերուն չափ ալ սալորի ծառ կայ . ամէն մէկ տեսակէն քանի ծառ կայ :

4. Երկու հոգի Ա եւ Բ միեւնոյն ժամանակ ճամբքայ կ'ելլեն իրարմէ իննսուն մղոն հեռու տեղերէ եւ զէպ' իրար կ'երթան . Ա կը ճամբորդէ ժամը 6 մղոն, եւ Բ կը ճամբորդէ երեք մղոն . քանի ժամէն իրարու պիտի պատահին :

Թող $+$ ցուցնէ ժամերուն թիւը . ան ատեն $6 +$ պիտի ցուցնէ Ա ին երթալու մղոններուն թիւը .

Եւ $3 +$ պիտի ցուցնէ Բ ին երթալու մղոններուն թիւը .

Եւ խնդրոյն պայմաններէն,

$$6 + + 3 + = 90,$$

ուստի՝ $9 + = 90$ Կամ $+ = 10$:

5. Կարողոս այսինչ գնով վեց կանգուն կտաւ գնեց, եւ ետքը ինը կանգուն ալ գնեց նոյն գնով. քայց վերջին անգամ առջինէն քսանուեօթը շիլին աւելի տուաւ. կանգունին ինչ տուաւ :

6. Ութսուն օխա առնող տակառի մը մէջ օղիի, գինւոյ եւ օշարակի խառնուող մը կայ. գինիէն տասն օխա աւելի օշարակ կայ, եւ օշարակին ու գինւոյն չափ ալ օղի կայ. ամէն մէկէն քանի օխա կայ :

7. Չորս հոգի հարիւր քսանուամէկ թալէր արծող նաւ մը շինեցին. երկրորդն առաջինին կրկնապատիկը վճարեց, երրորդն՝ առաջինին ու երկրորդին վճարածին չափ, եւ չորրորդը՝ երրորդին ու երկրորդին չափ. իւրաքանչիւր սրչափ վճարեց :

8. Բ Ա էն վեց շիլին աւելի ունի. Գ Բ էն վեց շիլին աւելի. Գ Գ էն վեց շիլին աւելի, Ս ին ունեցածին ալ եռապատիկն ունի. իւրաքանչիւրը քանի շիլին ունի: Պ. Ա Գ շիլին ունի :

9. Երկու հոգի քսան թալէր ունէին, եւ խաղացին մինչեւ որ մէկը հինգ թալէր կորսնցուց. եւ ան ատեն չահողը կորսնցրնողին քառապատիկն ունեցաւ. սկիզբէն ամէն մէկը սրչափ ունէր: Պ. 11 եւ Գ :

10. Քսան լիար ծանրութեամբ ձուկ մը բռնուեցաւ. գլխուն ծանրութիւնը պոչին ծանրութեան չորս անգամն էր, եւ մարմնոյն ծանրութիւնը պոչին ծանրութեան հինգ անգամը. ամէն մէկ մասին ծանրութիւնն ինչ էր :

ԱԼՃԵՊՐԱ



ԳԼՈՒԽ Ա.

Յաստազատեան տկանն աանհոճանն և շանօրնախանն :

1. ՔԱՆԱԿՈՒԹԻՒՆ կ'ըսուի այն քաներուն՝ որոնք կ'աճին, կը նուազին, կը հաշուուին կամ կը չափուին :

2. ՉԱՓԱԲԵՐՈՒԹԻՒՆԸ քանակութեան գիտութիւնն է :

3. ԱԼՃԵՊՐԱՆ կամ ԳՐԱՆՍԵՒԻԸ չափաբերութեան այն ճիւղն է որուն մէջ քանակութիւնները դրերով կը ներկայացուին, եւ այն քանակութեանց վրայ կատարուելու գործողութիւնները կը ցուցուին նշաններով :

4. Այս նշանը (+), կ'ըսուի առաւել. եւ երկու կամ աւելի քանակութեան յաւելումը կը ցուցնէ. ինչպէս՝ 9 + 5, կը կարդանք 9 առաւել 5, կամ 9 ին վրայ 5 յաւելեալ :

Եթէ ինը թիւը « դրով ցուցնենք, եւ 5 թիւը ք դրով, ան առեն պիտի ունենանք « + ք, որ կը կարդանք « առաւել ք եւ կը ցուցնէ թէ « ով ներկայացեալ թիւը ք ով ներկայացեալ թուոյն հետ դու մարելու է :

-
1. Ի՞նչ է քանակութիւնը :
 2. Ի՞նչ է չափաբերութիւնը :
 3. Ի՞նչ է ալճեպրան :
 4. Ի՞նչ կը ցուցնէ առաւել նշանը :

5. Այս նշանը (—), կ'ըսուի նուսաղ. եւ կը ցուցընէ թէ քանակութիւն մը ուրիշ քանակութեանէ մը հանուելու է. ինչպէս՝ 9—3, կը կարդանք 9 նուսաղ 3, կամ 9 էն 3 հանուած :

Նմանապէս՝ ա — բ, կը կարդանք, ա նուսաղ բ, կամ ա էն բ հանուած :

6. Այս նշանը (X), բազմապատկութեան նշանն էրսուի. եւ երբ երկու քանակութեանց մէջտեղ կը դրուի, կը ցուցընէ թէ անոնք մէկտեղ պիտի բազմապատկուին : Նաեւ երկու քանակութեանց բազմապատկութիւնը կը ցուցուի անոնց մէջտեղ կէտմը միայն դնելով. ինչպէս՝ 36×25 , կամ $36 \cdot 25$, որ կը կարդացուի 36 բազմապատկեալ 25 ուլ :

7. Չրերով ներկայացեալ քանակութեանց բազմապատկութիւնը կը ցուցուի միայն զրերն իրարու ետեւ դրելով, առանց անոնց մէջտեղ որ եւ իցէ նշան մը դնելու :

Ինչպէս՝ աբ, կամ $a \times b$, կամ $a \cdot b$ նոյն են. եւ կամ աբգ, կամ $a \times b \times c$, կամ $a \cdot b \cdot c$ միեւնոյն բանն են : Ձորօրինակ՝ ենթադրենք թէ $a = 36$, եւ $b = 25$, կ'ուեննանք

$$ab = 36 \times 25 = 900 :$$

Գարձեալ՝ դիցուք թէ $a = 2$, $b = 3$ եւ $c = 4$, կ'ուեննանք $abc = 2 \times 3 \times 4 = 24$:

Արտադրելոյ մը զրերն այբուբենի կարգով շարել շատ յարմար է :

8. Այլեւայլ զրերով նշանակեալ արտադրելոյ մը

5. Ի՞նչ կը ցուցընէ նուսաղ նշանը :

6. Ի՞նչ կը ցուցընէ բազմապատկութեան նշանը : Բազմապատկութիւնը քանի՞ կերպերով կրնայ ցուցուիլ :

7. Եթէ միայն զրերը գործածուին, անոնց բազմապատկութիւնն ի՞նչպէս կրնայ ցուցուիլ :

8. Այլեւայլ գրոց արտադրելոյն մէջ՝ իւրաքանչիւր գիր ի՞նչ կը կոչուի : Քանի՞ քանորդականներ կան աբ ի մէջ : Քանի՞ աբգ ի մէջ : Քանի՞ աբգդ ի մէջ :

մէջ, ինչպէս $\infty \neq \neq$, իւրաքանչիւր գրեր ∞ , \neq եւ \neq ,
կը կոչուին արտադրելոյն գրաւոր \neq անորոշականները :
Չորօրինակ՝ $\infty \neq$ արտադրելոյն մէջ՝ երկու քանորդա-
կաններ կան, ∞ եւ \neq . $\infty \neq$ արտադրելոյն մէջ՝ երեք
քանորդականներ կան, ∞ , \neq եւ \neq :

9. Բաժանում ցուցնող երեք նշաններ կան.
ինչպէս՝ $\infty \div \neq$ կը ցուցնէ թէ $\infty \neq$ ով բաժնուելու է .
 $\frac{\infty}{\neq}$ կը ցուցնէ թէ $\infty \neq$ ով բաժնուելու է .
 $\infty \lfloor \neq$ կը ցուցնէ թէ $\infty \neq$ ով բաժնուելու է :

10. Այս նշանը ($=$) կ'ըսուի հաւասարութեան
նշան, եւ կը կարգացուի հաւասար է : Երբ այս նշանը
երկու քանակութեանց մէջտեղ կը դրուի՝ կը ցուցնէ
թէ անոնք իրարու հաւասար են . ինչպէս՝ $9 - 5 = 4$.
այսինքն՝ 9 նուազ 5 հաւասար է 4 ի : Նաեւ $\infty + \neq$
 $= \neq$, կը ցուցնէ թէ ∞ եւ \neq քանակութեանց գու-
մարը հաւասար է \neq ի :

Եթէ ենթադրենք $\infty = 10$, եւ $\neq = 5$, կ'ուենանք
 $\infty + \neq = \neq$, եւ $10 + 5 = \neq = 15$:

11. Այս նշանը ($>$), կ'ըսուի անհաւասարու-
թեան նշան, եւ կը գործածուի ցուցնելու թէ քա-
նակութիւն մը ուրիշ քանակութենէ մը մեծ կամ
փոքր է :

Ինչպէս՝ $\infty > \neq$ կը կարգանք՝ $\infty \neq$ է մեծ է, եւ
 $\neq < \infty$ կը կարգանք $\neq \infty$ է փոքր է . այսինքն՝ նշանին
բացուածքը մեծագոյն քանակութեան դարձած է .
ինչպէս՝ եթէ $\infty = 9$, եւ $\neq = 4$, կը գրենք՝ $9 > 4$:

12. Եթէ քանակութիւն մը իր վրայ այլեւայլ ան-
գամ յաւելեալ է, ինչպէս՝ $\infty + \infty + \infty + \infty + \infty$, ընդ-

9. Քանի նշաններ կան բաժանման մէջ : Ի՞նչ են անոնք :
10. Ի՞նչ է հաւասարութեան նշանը . եւ ի՞նչ կը ցուցնէ :
11. Անհաւասարութեան նշանը ի՞նչ բանի համար կը գոր-
ծածուի : Բացուած կողմը ի՞նչ քանակութիւն կը դրուի :
12. Ի՞նչ է համարտագրիչը : Քանի՞ անգամ աւելուած է
 ∞ \neq ի մէջ : Քանի՞ անգամ 5 \neq ի մէջ : Եթէ համար-
տագրիչը դրուած չէ, ի՞նչ համարտագրիչ կը հասկցուի :
3

հանրապէս մէկ անգամ կը գրենք, եւ անկէ առաջ թիւ մը կը դնենք ցուցնելու թէ նոյն քանակութիւնը քանի անգամ առնուած է.

ինչպէս՝ $m + m + m + m + m = 5m :$

5 թուանշանը m ինն հաճախորդելը կ'ըսուի, եւ կը ցուցնէ թէ m 5 անգամ առնուած է :

Եթէ համարադրիչը 1 է, ընդհանրապէս զանց կ'առնուի. ինչպէս՝ m եւ 1 m միեւնոյն են, իւրաքանչիւրն m ի կամ մէկ m ի հաւասար ըլլալով :

13. Եթէ քանակութիւն մը շարունակ իրմով բազմապատկուի՝ ինչպէս $m \times m \times m \times m$, ընդհանրապէս արտադրեալը կը ցուցնենք գիրը մէկ անգամ գրելով, եւ առջեւը քիչ մը վերօք թուանշան մը դրնելով. ինչպէս,

$m \times m \times m \times m \times m = m^5 :$

5 թուանշանը m ինն ցուցելը կ'ըսուի, եւ կը ցուցնէ թէ m արտադրելոյն մէջ քանի անգամ կայ իբր քանորդական : Չորօրինակ. եթէ m^3 ունինք, եւ ենթադրենք $m = 3$, կը գրենք,

$m^3 = m \times m \times m = 3^3 = 3 \times 3 \times 3 = 27 .$

Եթէ $m = 4$, $m^3 = 4^3 = 4 \times 4 \times 4 = 64 .$

Եւ եթէ $m = 5$, $m^3 = 5^3 = 5 \times 5 \times 5 = 125 :$

Եթէ ցուցիչը 1 է, ընդհանրապէս զանց կ'առնուի. ինչպէս՝ m^1 եւ m միեւնոյն են, որոնց իւրաքանչիւրը կը ցուցնէ թէ m իբր քանորդական մէկ անգամ միայն կայ :

14. Քանակութեան մը կարողութիւնը՝ նոյն քանակութիւնն իրմով այլեւայլ անգամ բազմապատկելն ելած արտադրեալն է.

ինչպէս՝ $m^3 = 4^3 = 4 \times 4 \times 4 = 64 .$

15. Ի՞նչ կը ցուցնէ գրի մը ցուցիչը : Քանի՞ անգամ կայ m քանորդականը m^2 ի մէջ : Քանի՞ m^3 ի մէջ : Քանի՞ m^4 ի մէջ : Եթէ ցուցիչը գրուած չէ, ի՞նչ ցուցիչ կը հասկցուի :

14. Ի՞նչ է քանակութեան մը կարողութիւնը : Ի՞նչ է 2 ի երրորդ կարողութիւնը : Յուցուր m ի չորրորդ կարողութիւնը :

64 4 ի երրորդ կարողութիւնն է, եւ 3 ցուցիչը կը ցուցնէ կարողութեան աստիճանը :

15. Այս $\sqrt{\quad}$ նշանը կ'ըսուի արժաստան նշան, եւ երբ քանակութեան մը առաջ կը դրուի, կը ցուցնէ թէ այն քանակութեան արմատը պիտի հանուի ինչպէս $\sqrt{\quad}$ կամ միայն $\sqrt{\quad}$ կը ցուցնէ $\sqrt{\quad}$ թառակուսի արմատը :

$\sqrt[3]{\quad}$ կը ցուցնէ $\sqrt[3]{\quad}$ խորանարդ արմատը :

$\sqrt[4]{\quad}$ կը ցուցնէ $\sqrt[4]{\quad}$ չորրորդ արմատը :

Արմատական նշանին վրայ դրուած թիւը կ'ըսուի ցուցիչ արմատայ. ինչպէս 2 ցուցիչ է քառակուսի արմատի, 3՝ խորանարդ արմատի, 4՝ չորրորդ արմատի, եւ այլն :

Գիցուք թէ $\sqrt[4]{64} = 2$, կ'ուսենանք

$$\sqrt[4]{64} = 2, \quad \sqrt[3]{64} = 4 :$$

16. Ալճէպրայական լեզուով, այսինքն՝ գրեթե եւ նշաններու օժանդակութեամբ գրուած ամէն քանակութիւն, կը կոչուի ալճէպրայական քանակութիւն. ինչպէս,

$7x^3y^2$ { ալճէպրայական քանակութիւն է, եւ կը ցուցնէ թէ 7 անգամ x ի խորանարդը բազմապատկեալ է թի քառակուսով .

եւ $3x - 5y$ { կը ցուցնէ թէ 3 անգամ x 3 անգամ y է հանուելու է .

եւ $2x^2 - 3xy + 4y^2$ { կը ցուցնէ թէ 2 անգամ x թառակուսիէն 3 անգամ xy բազմապատկեալ է ով հանուելու է, եւ տարբերութեան վրայ y թի քառակուսոյն չորս անգամն աւելցնելու է :

15. Յուցուր քանակութեան մը քառակուսի արմատը : Եւ խորանարդ արմատը : Եւ եւ 4րդ արմատը :

16. Ի՞նչ է ալճէպրայական քանակութիւն մը : Ալճէպրայական քանակութիւնն է $5xy$: Ալճէպրայական քանակութիւն են $9x$, $4y$: Ալճէպրայական քանակութիւնն է $5x - y$: Ուրիշ օրինակներ տուր :

1. Չրէ m ի քառակուսւոյն եռապատիկը p ի խորանարդով բազմապատկեալ : $m \cdot 3m^2p^3$

2. Չրէ p ով բազմապատկուած m ի խորանարդին ինն անգամէն հանուած r ով բազմապատկեալ q ի քառակուսին : $m \cdot 9m^3p - q^2r$

3. Եթէ $m = 2$, $p = 3$, եւ $q = 5$, ի՞նչ է $3m^2p^2 - m^2q$ ի արժէքը : $m \cdot 78$

4. Եթէ $m = 4$, $p = 6$, $q = 7$, $r = 8$, ի՞նչ է $9m^2 + p^2 - m^2r$ ի արժէքը : $m \cdot 154$

5. Եթէ $m = 7$, $p = 3$, $q = 7$, $r = 4$, ի՞նչ է $6m^2 + 3p^2q - 4r^2$ ի արժէքը : $m \cdot 227$

6. Եթէ $m = 5$, $p = 6$, $q = 6$, $r = 5$, ի՞նչ է $9m^2q - 8m^2 + 4p^2$ ի արժէքը : $m \cdot 1564$

17. Երբ ալճէպրայական քանակութիւն մը յաւելման կամ բարձման նշանով կցուած է, կ'ըսուի մէք, կամ մէկ եզրէ բաղկացեալ քանակութիւն մը, կամ պարզապէս եք մը . ինչպէս՝

$$3m, 5m^2, 7m^3p^2,$$

միեզր են :

18. Երբ երկու կամ աւելի մասերէ բաղկացեալ ալճէպրայական ձեւ մը յաւելման կամ հանման նշաններով կցուած է, կ'ըսուի բազմէք, եւ կամ երկու կամ աւելի եզրերէ բաղկացեալ քանակութիւն :

Ջորձրինակ՝ $3m - 5p$ եւ $2m^2 - 3p^2 + 4p^2$ բազմեզր են :

19. Երկու եզրերէ բաղկացեալ բազմեզր մը՝ կ'ըսուի երկէք . եւ երեք եզրերէ բաղկացեալ մը՝ կ'ըսուի երեքէք :

20. Բաղադիր — , կամ փակադիր () ,

17. ի՞նչ է միեզրը : $5m^2$ միե՞զր է :

18. ի՞նչ է բազմեզր մը : $5m - p$ բազմե՞զր է :

19. ի՞նչ է երկեզր մը : ի՞նչ է երեքեզր մը :

20. ի՞նչ բանի համար կը գործածուի բաղադիր : Արնա՞ս զանիկայ փակադ. ծով բացատրել :

կը գործածուի ցուցնելու թէ բազմեզրի մը բոլոր եզրերն 'ի միասին առնուած նկատուելու են . ինչպէս՝

$$m + p + q \times p, \text{ կամ } (m + p + q) \times p,$$

կը ցուցնէ թէ՝ $m + p + q$ երեքեզրը, p ով պիտի բազմապատկուի . նաև՝ $m + p + q \times q + r + t$, կամ $(m + p + q) \times (q + r + t)$, կը ցուցնէ թէ $m + p + q$ երեքեզրը՝ $q + r + t$ երեքեզրով պիտի բազմապատկուի :

Երբ փակագիծը կը գործածուի, բազմապատկուած թեան նշանը սովորաբար զանց կ'առնուի . ինչպէս՝

$$(m + p + q) \times p \text{ եւ } (m + p + q) p \text{ նոյն են :}$$

21. Եթէ բազմեզրի մը երկու կամ աւելի եզրերը նոյն գրերն ունին, եւ իւրաքանչիւրին մէջի նոյն գրերը նոյն ցուցիչն ունին, այն եզրերը կը կոչուին նման եզրեր .

Ինչպէս՝ հետեւեալ բազմեզրին մէջ

$$7 m^2 p + 3 m^2 p - 4 m^3 p^2 + 5 m^3 p^2,$$

$7 m^2 p$, եւ $3 m^2 p$ եզրերը նման են . այսպէս են նաև եւ $-4 m^3 p^2$ եւ $5 m^3 p^2$ եզրերը, երկուքին մէջ ալ գրերն ու ցուցիչները նոյն ըլլալով : Բայց $8 m^2 p + 7 m^2 p^2$ երկեզրին մէջ, եզրերը նման չեն . քանզի՝ թէ՛ եւ նոյն գրերէն բաղկացեալ են, իւրաքանչիւրին մէջ եղած նոյն գրերը նոյն ցուցիչը չունին :

ՎԵՐԱԾՈՒԹԻ Ն ԱԼՃԷՊ ԱՅՍ ԱՆ ՉԵՒՈՑ

22. Երբ բազմեզր մը նման եզրեր կը պարուսնակէ, աւելի պարզ ձևի մը կրնայ վերածուիլ :

21. Բազմեզրի մը որ եզրերը նման կը կոչուին: $5 m^2 p$ և $6 m^2 p^2$ նման են: $2 m^2 p^2$ և $2 m^3 p^2$ նման են :

22. Ի՞նչ է բազմեզրի մը ամենապարզ ձևը: Եթէ եզրերը գրական ու նման են, աւելի պարզ ձևի մը կրնա՞ն վերածուիլ: Ի՞նչ կերպով:

1. Ինչպէս, 3 աբ + 2 աբ, հաւասար է 5 աբ ի :
2. Վերածէ 3 աբ + 9 աբ + 2 աբ բազմեզրը իր ամենապարզ ձեւին : Պ. 14 աբ :
3. Վերածէ աբգ + 4 աբգ + 5 աբգ բազմեզրը իր ամենապարզ ձեւին :

Երբ նման եզրերն իրարու հետ կը գումարենք՝ համարադրիչներուն գումարը կ'առնենք եւ գրաւոր մասն ալ աջ կողմը կը դնենք : Առաջին եզրին՝ աբգ ին համարադրիչը 1 կը հասկցուի, (Յօդ. 12) :

	աբգ
	4 աբգ
	5 աբգ
	10 աբգ

23. Բազմեզրի մը այլեւայլ եզրերէն ունայ առջեւը + նշանը կը դրուի, ունայ ալ՝ — նշանը : Առաջինները կը կոչուին գումարելի եղբւր, վերջինները՝ բառնալի եղբւր :

Երբ բազմեզրի մը առաջին եզրին առջեւը նշան մը չկայ, + նշանով կը հասկցուի :

1. Յովհաննէս 20 խնձոր ունէր եւ 5 ը Սամուէլին տուաւ . քովը ո՞րքան մնաց :

Արդ՝ Յովհաննէսին խնձորները ցուցրնենք ա ով . անոր Սամուէլին տուածն ալ ցուցրնենք ք ով . ան առեն իր քով մնացածը պիտի ցուցուի ա — ք ով :

2. Ըսենք թէ վաճառական մը առեւտուրի գնաց ա թալէրով . ժամանակէ մը ետքը ք թալէր շահեցաւ . ան առեն ո՞րքան ունեցաւ : Պ. ա + ք :

Եթէ շահելու տեղ կորսնցուցած ըլլար, քովը ո՞րքան մնացած պիտի ըլլար : Պ. ա — ք :

25. Ի՞նչ կը կոչուին + նշան ունեցող եզրերը : Ի՞նչ կը կոչուին — նշան ունեցողները : Եթէ եզրէ մը առաջ նշան մը գրուած չէ, ի՞նչ նշանով կը հասկցուի : Եթէ գումարելի ու բառնալի նշաններ ունեցող բազմեզրի եզրերը նման են, կրնա՞ն վերածուիլ : Ըսէ վերածելու կանոնը : Վերածուածութիւնը ցուցիչներուն ալ կը ներդործէ թէ միայն համարադրիչներուն :

Արդ՝ եթէ կորուստը գործի սկսած ատենը ունեցած գումարէն աւելի ըլլար, այսինքն՝ եթէ x և y մեծագոյն ըլլար, ան ատեն մնացորդին առջեւը նուազ նշանը դրուելու էր ցուցնելու համար թէ բառնալի քանակութիւնը մեծագոյնն է :

Յնչպէս, եթէ 2000 թալէրով գործի սկսէր, եւ 3000 թալէր կորսնցնէր, ան ատեն ճշմարիտ տարբերութիւնը — 1000 թալէր կ'ըլլար :

3. Վիցուք թէ վաճառական մը իր առնելիքները գումարելի, եւ պարտքերը բառնալի կը կոչէ : Արդ՝ եթէ 600 թալէր մէկէ մը առնելիք ունենայ, 800 թալէր ուրիշէ մը, 300 ալ ուրիշ մէկէ մը, եւ 500 թալէր մէկուն պարտք ունենայ, 200 թալէր մէկուն եւ 50 թալէր ուրիշի մը, հաշիւն ինչ պիտի ըլլայ :
Պ. 950 թւր. առնելիք :

4. Վերածէ իր ամենապարզ ձեւին հետեւեալ բազմեզրը :

$$3x^2 + 5x^2 - 3x^2 + 4x^2 - 6x^2 - x^2$$

Գումարելի եղեր+ :

$$\begin{aligned} &+ 3x^2 \\ &+ 5x^2 \\ &+ 4x^2 \end{aligned}$$

Բառնալի եղեր- :

$$\begin{aligned} &- 3x^2 \\ &- 6x^2 \\ &- x^2 \end{aligned}$$

$$\text{Գումար} + 12x^2 \quad \text{Գումար} - 10x^2$$

$$\text{բայց} \quad 12x^2 - 10x^2 = 2x^2 :$$

Ուստի բազմեզրի մը իրարու նման եզրերուն վերածութեանը համար հետեւեալ կանոնն ունինք :

ԿԱՆՈՆ

Ա. Գումարի բոլոր գումարելի եզրերուն համարպատրէիները, և անոնց գումարին կցէ գրասոր ճասը. նոյն կերպով յեացոր բառնալի եզր մը :

Բ. Փոքր համարպատրէիքն թէ՛ն հանէ, և մնացորդին առաջ դէր թէ՛նցնէ համարպատրէին նշանը, և առջեւը կցէ գրասոր ճասը :

Ծանօթութիւն . — Պիտելու է որ վերածութիւնը միայն համարադրիչներուն կը ներգործէ , եւ ոչ թէ ցուցիչներուն :

ՕՐԻՆԱԿՔ

1. Վերածէ իր ամենապարզ ձեւին հետեւեալ բազմեզրը ,

$$+2m^3 p q^2 - 4m^3 p q^2 + 6m^3 p q^2 - 8m^3 p q^2 + 11m^3 p q^2 :$$

Քաթիր գումարելի ու բառնալի եզրերուն գումարները զատ զատ . յետոյ զաթիր այս գումարներուն տարբերութիւնը , այսպէս ,

$$\begin{array}{r}
\text{Գումարելի էղէր} \\
+ 2 m^3 p q^2 \\
+ 6 m^3 p q^2 \\
+ 11 m^3 p q^2 \\
\hline
\end{array}$$

$$\begin{array}{r}
\text{Բառնալի էղէր} \\
- 4 m^3 p q^2 \\
- 8 m^3 p q^2 \\
\hline
- 12 m^3 p q^2
\end{array}$$

$$+ 19 m^3 p q^2$$

ուստի , կ'ունենանք $19 m^3 p q^2 - 12 m^3 p q^2 = 7 m^3 p q^2 :$

2. Վերածէ $4m^2 p - 8m^2 p - 9m^2 p + 11m^2 p$ բազմեզրը իր ամենապարզ ձեւին : Պ. $- 2m^2 p :$

3. Վերածէ $7m p q^2 - m p q^2 - 7m p q^2 + 8m p q^2 + 6m p q^2$ բազմեզրը իր ամենապարզ ձեւին : Պ. $13m p q^2 :$

4. Վերածէ $9 p^3 - 8 m p^2 + 15 p^3 + 8 p m + 9 m p^2 - 24 p^3$ բազմեզրը իր ամենապարզ ձեւին :

$$\text{Պ. } m p^2 + 8 p m :$$

Նման եզրերու վերածութիւնը ալճէպրայի յատուկ գործողութիւն մըն է : Այսպիսի վերածութիւններ միշտ կ'ըլլան Ալճէպրայական Յաւելման , Հանման , Բազմապարհութեան ու Բաժանման ձեւ :

ՅԱԻԵԼՈՒՄ

24. Ալճէպրայի մէջ յաւելումն այն գործողու-

24. Ալճէպրայի մէջ ի՞նչ է յաւելումը : Ի՞նչ կը կոչուի այսպիսի ամենապարզ և համազօր ձև մը :

Թիւնն է որով այլեւայլ ալճէպրայական քանակութեանց ամենապարզ համազօր ձեւը կը դանենք : Այսպիսի համազօր ձեւ մը այն քանակութեանց գումարը կ'ըսուի :

1. Ի՞նչ է $3m + 2p$ եւ $2m + p$ բաղմեղութիւնն դումարը :

Վերածելով եզրերը , ինչպէս Յօդ. 23, — $2m + p$

դումարը կը դանենք $m + 3p$

2. Եթէ դումարենք հետեւեալ քանակութիւնները ,

$$\left\{ \begin{array}{l} 3m \\ 5p \\ 2+ \end{array} \right.$$

արդիւնքն է $3m + 5p + 2+$
քանակութիւններ՝ որ աւելի պարզ ձեւի մը չեն կրնար վերածուիլ :

Գարձեալ , դումարէ հետեւեալ միւլտիպլիկացիաները :

$$\left\{ \begin{array}{l} 4m^2p^3 \\ 2m^2p^3 \\ 7m^2p^3 \end{array} \right.$$

Յետ վերածելոյ (Յօդ. 23) արդիւնքն է . . . $13m^2p^3$

3. Գտիր հետեւեալ ձեւերուն դումարը :

$$\left\{ \begin{array}{l} 2m^2 - 4mp \\ 3m^2 - 3mp + p^2 \\ 2mp - 5p^2 \end{array} \right.$$

Յետ վերածելոյ (Յօդ. 23) արդիւնքն է $5m^2 - 5mp - 4p^2$

25. Որովհետեւ վերնոյն նման ձեռնարկութիւն մը ամէն բաղմեղութիւն ալ կը պատշաճի , ուստի ալճէպրայական քանակութեանց յաւելմանը համար հետեւեալ ընդհանուր կանոնը կը մակարեւրենք :

ԿԱՆՈՆ

Ա. Գումարելի +անակոթի-նները պահէ պահ թիւ այն-

25. Ալճէպրայական քանակութեանց յաւելման կանոնն ի՞նչ է :

պէս որ նման եղբերը սխեմայն սեան հը իյնան , և իւր
բառանշիւր եղբին իր յարասի նշանը պատր :

Բ. Վերածե նման եղբերը , և այս արդիւնքներուն
առջեւն իրենց յարասի նշանները գրե այն եղբերը որ չեն
կրնար վերածուիլ :

ՕՐԻՆԱԿԻ

1. Ի՞նչ է 3⁺ , 5⁺ , — 2⁺ , եւ 13⁺ քանա-
կութեանց գումարը : Պ. 19⁺ :

2. Քումարէ 4⁺ + 8⁺ եւ 2⁺ — 7⁺ + 7⁺ :
Պ. 6⁺ + 7⁺ + 7⁺ :

3. Քումարէ հետեւեալ բազմեղբերը ,
3² — 2² — 4⁺ , 5² — 7² + 2⁺ , եւ 3⁺
— 3² — 2² :

3² եղբը 5²ին նման ըլլա-
լով կը գրենք 8² , որ երկու
եղբերուն վերածութեան ար-
դիւնքն է :

$$\left. \begin{array}{l}
 3^2 - 4^+ - 2^2 \\
 5^2 + 2^+ - 7^2 \\
 + 3^+ - 2^2 - 3^2 \\
 \hline
 8^2 + 7^+ - 5^2 - 3^2
 \end{array} \right\}$$

Ապա անցնելով — 4⁺ եղբին՝ որ նման է + 2⁺
եւ + 3⁺ ի , եւ վերածելով երեք եղբերը՝ կ'ունե-
նանք + 7⁺ , զոր 8²էն ետքը կը գնենք : Այնուհետեւ
7² պարունակող եղբերուն անցնելով ասոնց ալ գու-
մարը կը գտնենք որ է — 5² , եւ անոր առջեւը կը
գրենք — 3² :

(4)	(5)	(6)	(7)
2 ⁺	6 ⁺	5 ⁺	3 ⁺
2 ⁺	5 ⁺	5 ⁺	5 ⁺
<hr/>	<hr/>	<hr/>	<hr/>
2 ⁺	11 ⁺	5 ⁺ + 5 ⁺	8 ⁺

(8)	(9)	(10)
7 ⁺ + 9 ⁺	8 ⁺ + 3 ⁺	12 ⁺ — 6 ⁺
— 3 ⁺ — 3 ⁺	5 ⁺ — 9 ⁺	— 3 ⁺ — 9 ⁺
<hr/>	<hr/>	<hr/>
4 ⁺ + 6 ⁺	13 ⁺ — 6 ⁺	9 ⁺ — 15 ⁺

(11)

$$\begin{array}{r} 6m + 8mf \\ -7m + 9mf \\ \hline m + 17mf \\ \hline 0 \quad 0 \end{array}$$

(12)

$$\begin{array}{r} 3mf + l + s \\ mf - 3mf - s \\ \hline mf - mf + 3l \\ \hline mf + 4l \end{array}$$

(13)

$$\begin{array}{r} 7 + 3mf + 3f \\ -3 + 3mf - 5f \\ \hline 5 + 9mf - 9f \\ \hline 9 + 9mf - 11f \end{array}$$

(14)

$$\begin{array}{r} 8 + 9mf + 13m^2f^2 \\ -7 + 13mf + 14m^2f^2 \\ \hline -4 + 4mf - 20m^2f^2 \\ \hline -3 + 0 + 7m^2f^2 \end{array}$$

(15)

$$\begin{array}{r} 7 + 9t + 5z + 3 - l \\ - + - 3t \quad - 8 - l \\ - + + t - 3z + 1 + 7l \\ \hline -2 + 6t + 3z - 1 - l \\ + + 8t - 5z + 9 - l \\ \hline 4 + 3t + 0 + 4 + 3l \end{array}$$

(16)

$$\begin{array}{r} 8m + f \\ 2m - f + f \\ -3m + f + 2r \\ \hline -6f - 3f + 3r \\ -5m + 7f - 8r \\ \hline 2m - 5f + 5f - 3r \end{array}$$

17. Պակասի 7m²f - 3mf² - 8f²f - 9f³ + f²r²,
8mf² - 5m²f + 3f³ - 4f²f + f²r² եւ 4m²f - 8f³ +
9f²f - 3r³:

Պ. 6m²f + 5mf² - 3f²f - 14f³ + 2f²r² - 3r³:

18. Պակասի 5m²f² + 6f² - 4mf, - 3m²f² -
6f² + 4mf, - mf + 9f² + 2m²f², + 6mf - 8f² +
6m²f²:

Պ. 10m²f² + f² + 5mf:

19. Պակասի 4m³f² - 16m⁴ + 9m³r, + 6m³f² -
- 6m³r + 17m⁴, + 16m³r - m⁴ - 9m³f²:

Պ. m³f² + m³r:

20. Պուճարէ $m^2 + 3n - s - n$, $- 6n - 3s + 11n + 4r$, եւ $+ 3n + 4s - 10n + 4r$:

Պ. $m^2 + 4r + 4r$:

21. Պուճարէ $19m^2 + 3p - 12m^3 q^2$, $5m^2 + 3p + 14m^3 q^2 - 10m +$, $- 2m^2 + 3p - 12m^3 q^2$, եւ $- 18m^2 + 3p - 12m^3 q^2 + 9m$:

Պ. $4m^2 + 3p - 22m^3 q^2 - m$:

22. Պուճարէ $3m + p + r$, $5m + 2p + 3mr$, $m + r + mr$, եւ $- 3m - 9mr - 8p$:

Պ. $6m - 5p + 2r - 5mr$:

23. Պուճարէ $5m^2 p + 6r + 9p^2$, $7r - 8m^2 p$, եւ $15r - 9p^2 + 2m^2 p$:

Պ. $- m^2 p - 2r$:

24. Պուճարէ $8m + 5mp + 3m^2 p^2 q^2$, $- 18m + 6m^2 + 10mp$, եւ $10m + 15mp - 6m^2 p^2 q^2$:

Պ. $- 3m^2 p^2 q^2 + 6m^2$:

25. Պուճարէ $3m^2 + 5m^2 p^2 q^2 - 9m^3 +$, $7m^2 - 8m^2 p^2 q^2 - 10m^3 +$, եւ $10mp + 16m^2 p^2 q^2 + 19m^3$:

Պ. $10m^2 + 13m^2 p^2 q^2 + 10mp$:

ՀԱՆՈՒՄ

26. Ալճէպրայի մէջ հանուճն այն գործողութիւնն է, որով երկու ալճէպրայական քանակութեանց ամենապարզ տարրերութիւնը կը գտնենք:

Ինչպէս, $6m$ ի եւ $3m$ ի մէջտեղի տարրերութիւնը կը ցուցուի այսպէս $6m - 3m = 3m$.

Եւ $7m^3 p$ ի ու $3m^3 p$ ի մէջտեղի տարրերութիւնը՝ այսպէս $7m^3 p - 3m^3 p = 4m^3 p$:

26. Ալճէպրայի մէջ ի՞նչ է հանուճը: Եթէ քանակութիւնները գրական ու նման են, տարրերութիւնն ի՞նչպէս կը գտնուի: Երբ նման չեն, տարրերութիւնն ի՞նչպէս կը ցուցուի:

Նմանապէս՝ 4ա ի եւ 3բ ի մէջտեղի տարբերութիւնը
կը ցուցուի 4ա — 3բ : Ուստի,

Եթէ +անսկոտ-խեաները որբական աս նման էն՝ հասարակ
որբերէնները հանէ, և որբերէրոտ-խեանը կցէ թրատոր ճասը :
Եթէ նման չէն, բարձրալի +անսկոտ-խեանն ասալ նաւալ
նշանը դիր :

(1)	(2)	(3)
3աբ է	6ա+	9աբգ
2աբ հանէ	3ա+	7աբգ
-----	-----	-----
աբ կը մնայ	3ա+	2աբգ
-----	-----	-----
(4)	(5)	(6)
16ա ² բ ² գ է	17ա ³ բ ³ գ	24ա ² բ ² գ
9ա ² բ ² գ հանէ	3ա ³ բ ³ գ	7ա ² բ ² գ
-----	-----	-----
7ա ² բ ² գ կը մնայ	14ա ³ բ ³ գ	17ա ² բ ² գ
-----	-----	-----
(7)	(8)	(9)
3ա+ է	4աբ+	2աճ
8գ հանէ	9աբ	ա+
-----	-----	-----
3ա+ — 8գ կը մնայ	4աբ+ — 9աբ	2աճ — ա+
-----	-----	-----

27. Հանէ 4ա է
 հետեւեալ եզրերը 2բ — 3գ
 եւ անոնց տարբերութեան ձեւն է . 4ա — (2բ — 3գ)

Արդ պէտք է գիտնալ թէ 2բ ի եւ 3գ ի մէջտեղի
 որբերէրոտ-խեան է որ 4ա էն պիտի հանուի :
 Ուստի եթէ գրենք 4ա — 2բ ,
 ան առեն 3գ ի մէջ քանի միութիւն որ կայ այնքան

27. Եթէ 4ա էն 2բ — 3գ հանենք, ի՞նչ ընելու ենք : Եթէ
 4ա էն 2բը հանես, շատ առած կ'ըլլա՞ս : Ուստի պահանջ
 ի՞նչպէս լեցրնելու է :

աւելի առած կ'ըլլանք. ուստի ճշմարիտ մնացորդը գտնելու համար՝ 3քը գումարուելու է, որ է . . . 4^ա — 2ք + 3ք :

Այս օրինակը թուանշանով բացատրելու համար՝ ենթադրենք թէ $m = 5$, $p = 5$, եւ $q = 3$.
ան առեն պիտի ունենանք 4^ա = 20,
եւ 2ք — 3ք = 10 — 9 = 1
որ կը գրուի . . . 4^ա — (2ք — 3ք) = 20 — 1 = 19 :

Հոս կը պահանջուի որ 20 էն 1 հանենք : Ուրեմն եթէ 4^ա = 20 էն 2ք = 10 հանենք, յայտնի է թէ 3ք = 9 աւելի հանած կ'ըլլանք. ուստի ճշմարիտ մնացորդը գտնելու համար պէտք է 9 յաւելուլ :

28. Ուստի ալճէպրայական քանակութեանց հանմանը համար հետեւեալ կանոնն ունինք :

ԿԱՆՈՆ

- Ա. Հանուելու քանակութեանը նուազելի քանակութեան քանիք քիչ, նման եզրերը իրարու քանի դնելով :
- Բ. Հանուելու քանակութեան բոլոր եզրերուն նշանները փոփոխել, կամ փոխուած բժբանել, եւ ան արեւն առնուապարզ յեջն վերածել, ինչպէս գումարման մէջ :

ՕՐԻՆԱԿԻ

(1)

$$\begin{array}{r} 6m^2 - 5m + 3^2 \text{ էն} \\ 5m + 5m + 7 \text{ հանել} \\ \hline 5m^2 - 8m + 3^2 \text{ կը մնայ} \end{array}$$

(1)

$$\begin{array}{r} 6m^2 - 5m + 3^2 \\ - 5m - 5m - 7 \\ \hline 5m^2 - 8m + 3^2 - 7 \end{array}$$

Ասիկայ նշն բա- նըն է, եթէ վարի գծին նշանները փոխուին :

(2)

$$\begin{array}{r} 6m^2 - m + 3p^2 \text{ էն} \\ 9m^2 - + + p^2 \text{ հանել} \\ \hline -3m^2 - m + + + 2p^2 \text{ կը մնայ} \end{array}$$

(3)

$$\begin{array}{r} 6m^2 - 3m^2 + 5p \\ m^2 - 3 + m \\ \hline 5m^2 - 3m^2 + 3 + 5p - m \end{array}$$

28. Ի՞նչ է Ալճէպրայական քանակութեանց յաւելման կանոնը :

(4)	(5)
$5m^3 - 4m^2p + 3p^2q$ էն	$4mp - 4r + 3m^2$
$-2m^3 + 3m^2p - 8p^2q$ հանէ	$5mp - 4r + 3m^2 + 5p^2$
$7m^3 - 7m^2p + 11p^2q$	$-mp + 3r - 5p^2$

6. Հանէ $6m^3 + 6$ էն $3m^3 - 4$: Պ. $3m^3 + 4 + 6$:
7. Հանէ $3m + 6$ էն $3m + 4$: Պ. $4 + 6$:
8. Հանէ $7m^2p^2 - 4^2$ էն $18m^2p^2 + 4^2$:
Պ. $-11m^2p^2 - 2 \cdot 4^2$:
9. Հանէ $-m - 5p + 7q - r$ էն $4p - q + 2r + 2p$:
Պ. $-m - 9p + 8q - 3r - 2p$:
10. Հանէ $-3m + p - 8q + 7r - 5s + 3z - 7t - 13u$ էն $r + 2m - 9q + 8s - 7t + 7z - 3u - r$:
+ Պ. $-5m + p + q - t - 12s + 3z - 12u + 3u$:
11. Հանէ $m^3 + 3p^2q + mp^2 - mpq$ էն $p^3 + mp^2 - mpq$:
Պ. $m^3 + 3p^2q - p^3$:
12. Հանէ $12t + 6m - 4p + 40$ էն $4p - 3m + 4t + 6r - 10$:
Պ. $8t + 9m - 8p - 6r + 50$:
13. Հանէ $2t - 3m + 4p + 6q - 50$ էն $9m + 4p + 6p - 6q - 40$:
Պ. $t - 12m - 2p + 12q - 10$:
14. Հանէ $6m - 4p - 12q + 12t$ էն $2t - 8m + 4p - 6q$:
Պ. $14m - 8p - 6q + 10t$:
15. Հանէ $8mpq - 12p^3m + 6qt - 7t$ էն $7qt - 4t - 13p^3m$:
Պ. $8mpq + p^3m - qt - 6t$:

29. Բազմեզր քանակութիւնները զանազան այլաձևութիւններ կրնան ունենալ՝ հանման կանոնով :

Առաջին օրինակ . . . $6m^2 - 3mp + 2p^2 - 2pq$,
 Կ'ըլլայ . . . $6m^2 - (3mp - 2p^2 + 2pq)$:

29. Ի՞նչպէս կրնան փոխել բազմեզրի մը ձևը :

- Երկրորդ $7m^3 - 8m^2p - 4p^2q + 6p^2,$
 կ'ըլլայ $7m^3 - (8m^2p + 4p^2q - 6p^2),$
 կամ դարձեալ $7m^3 - 8m^2p - (4p^2q - 6p^2):$
 Երրորդ $8m^3 - 7p^2 + q - r,$
 կ'ըլլայ $8m^3 - (7p^2 - q + r):$
 Չորրորդ $9p^3 - m + 3m^2 - r,$
 կ'ըլլայ $9p^3 - (m - 3m^2 + r):$

30. Ծանօթութիւն. — Յաւելման եւ հանման վրայով մինչեւ ցարդ ըսուածներէն՝ հետեւեալ սկզբունքները կը մակաբերենք:

Ա. Ալճէպրայի մէջ յաւելուլ բառը միշտ առաւելութիւն չի նշանակեր, ինչպէս որ կը նշանակէ թուաբանութեան մէջ. ոչ ալ քոմար բառը կը նշանակէ որեւէ յաւելեալ թիւերէ թուականապէս մեծագոյն թիւ մը: Քանզի՝ եթէ m ի վրայ — p յաւելունք, կ'ունենանք $m - p$, որ ճշգիւ խօսելով՝ m ով ու p ով ներկայացուած միութեանց թիւերուն մէջտեղի տարբերութիւնն է: Հետեւապէս՝ այս արդիւնքը թուականապէս m էն փոքրագոյն է: Այս գումարը թուաբանական դաւժաբէն որոշելու համար, ալճէպրայական քոմար կ'ըսուի:

Ինչպէս՝ $2m^2 - 3m^2p + 3p^2q$ բազմեզրը՝ $2m^2$, — $3m^2p$ եւ $3p^2q$ միեզրերուն ալճէպրայական գումարն է, իրենց յատուկ նշաններովը. առկայն խոսական առաւելութիւն գումարելի եզրերուն մէջ պարունակեալ միութեանց գումարներուն, ու բառնալի եզրերուն մէջ պարունակեալ միութեանց գումարներուն մէջտեղի թուաբանական տարբերութիւնն է:

Ասկէ կը հետեւի թէ ալճէպրայական գումար մը թուական դործածութեամբ՝ կրնայ բացասական թուոց մը վերածուիլ:

50. Ալճէպրայի մէջ յաւելուլ եւ գումար բառերը նոյն նշանակութիւնն ունին ինչպէս թուաբանութեան մէջ: Ի՞նչ է ալճէպրայական գումարը 9 եւ — 4 ի: Ալճէպրայական գումար մը կրնայ բացասական ըլլալ: Ալճէպրայի մէջ հանում բառը միշտ նուազում կը նշանակէ:

Բ. Ալճէպրայի մէջ հանած բառը միշտ նուազում էինչանակեր • ոչ ալ արթեր-ի-ն բառը կը նշանակէ բառնալի թիւէն թուականապէս փոքրագոյն թիւ մը • քանզի՝ $+ = եւ - քի մէջտեղի թուական տարբերութիւնը = + ք ըլլալով, = քն աւելի է: Այս արդիւնքը ալճէպրայական տարբերութիւն մըն է, եւ կրնանք դնել հետեւեալ ձեւով,$

$$= - (- ք) = + ք :$$

ԲԱԶՄԱՊԱՏԿՈՒԹԻՒՆ

31. Եթէ մարդ մը օրը = թալէր կը շահի, 6 օրը սրչափ կը շահի: Հոս պարզապէս = թիւը 6 անգամ առնուելու է • եւ ան առեն շահածը պիտի ըլլայ 6 =

1. Եթէ կանգուն մը ասուի ք թալէր է, տասը կանգունն ինչ պիտի ըլլայ: Պ. 10ք թալէր:

2. Եթէ գլխարկ մը 9 թալէր կ'արժէ, ք գլխարկն ինչ պիտի արժէ: Պ. 9ք թալէր:

3. Եթէ զոյգ մը ձեռնոց = տէնթ կ'արժէ, ք զոյգն ինչ կ'արժէ:

Հոս յայտնի է որ արժէքը կը գտնուի՝ = ի մէջ պարունակուած միութիւնները ք անգամ կրկնելով • ուստի արժէքն է = ք տէնթ • եւ կը հետեւցրնենք թէ՛

Ալճէպրայի մէջ բազմապատկութեան կ'ըսուի այն գործողութիւնը, որով բազմապատկելի հոշուած քանակութեան մը կը կրկնուի այնքան որքան թութեան հայ բազմապատկելի հոշուած քանակութեան մէջ:

32. Եթէ մարդու մը եկամուտը շաբաթը 3 = թալէր է, 4ք շաբթուան մէջ սրչափ պիտի ըլլայ:

51. Ի՞նչ է բաղմապատկութիւնը:
 52. Քանորդականաց դասաւորութիւնը փոխուելով արտագրեալը կը փոխուի՞:

Հոս 3^ա թալէրը կրկնելու ենք 4^ք շաբաթներուն մէջ պարունակուած միութիւններով . ուստի արտադրեալը հաւասար է ,

$$3^a \times 4^x = 12^a x :$$

Եթէ ենթադրենք $a = 4$ եւ $x = 3$, արտադրեալը հաւասար պիտի ըլլայ 144 ի :

Ծանօթութիւն : — Յայտնի է թէ 12^{աք} արտադրելոյն արժէքը չի փոխուիր քանորդականաց դասաւորութիւնը փոխելով . այսինքն՝ միեւնոյն բանն են , 12^{աք} եւ $a^x \times 12$, եւ $x^a \times 12$, եւ $a \times 12 \times x$.

33. Արդ բազմապատկենք $3^a x^2$, $2^a x^2$ ուլ, որ կրնայ գրուիլ հետեւեալ ձևով ,

$$3^a x^2 \times 2^a x^2 = 3 \times 2^a a a x x x x .$$

որուն մէջ a չորս անգամ քանորդական է , եւ x^2 երեք անգամ . ուստի (30դ . 13) ,

$$3^a x^2 \times 2^a x^2 = 3 \times 2^a a a x x x x = 6^a x^3 ,$$

որուն մէջ հասարակարգիչները կը բազմապատկեն , եւ նման գրեթէ ցոյցիչները կը գումարեն :

Ուստի միեւր քանակութեանց բազմապատկութեանը համար հետեւեալ կանոնն ունինք :

ԿԱՆՈՆ

Ա. Բազմապատկիչ հասարակարգիչները երարու հետ նոր հասարակարգիչի մը հասար :

Բ. Գրի այս հասարակարգիչն է որեւէ բազմապատկիչը եւ $6^a x^3$ եւ բազմապատկիչն ՏԷԼԻ ԲՆԼՐԻ ԳՐԵՐԸ , իւրաւանդիւր գրիչն էրիւր + անորդականաց ՏԷԼԻ ԵՐ ցոյցիչներուն գումարին հասասար ցոյցիչ մը դնելով :

35. Միեւրները բազմապատկելու ատեն , համարտադրիչներն ի՞նչ ընելու է : Ի՞նչ ընելու է նման գրերուն ցոյցիչները : Միեւրաց բազմապատկութեան կանոնն ի՞նչ է :

ՕՐԻՆԱԿԻ

1. $8m^3 p^2 \times 7p r^2 = 56m^3 p^2 r^2 :$

2. $21m^3 p^2 r \times 8p r^3 = 168m^4 p^3 r^4 :$

3. $4p r \times 7r \dagger = 28p r r \dagger :$

(4)	(5)	(6)
$3m^2 p$ բազմապատկէ	$12m^2 +$	$6+է \eta$
$2m^2 p$ ուլ	$12+^2 է$	$mէ^2 \eta$
<hr/>	<hr/>	<hr/>
$6m^4 p^2$	$144m^2 +^3 է$	$6m+է^3 \eta^2$

7. Բազմապատկէ $5m^3 p^2 +^2$, $6p^5 +^6$ ուլ :
 Պ. $30m^3 p^2 p^5 +^8 :$

8. Բազմապատկէ $10m^4 p^5 p^8$, $7p r$ ուլ :
 Պ. $70m^5 p^5 p^9 r :$

9. Բազմապատկէ $9m^3 p +է$, $9m^3 p +է$ ուլ :
 Պ. $81m^6 p^2 +^2 է^2 :$

10. Բազմապատկէ $36m^8 p^7 p^6 r^5$, $20m p^2 p^3 r^4$ ուլ :
 Պ. $720m^9 p^9 p^9 r^9 :$

11. Բազմապատկէ $20m^5 p^5 p r$, $12m^2 +^2 է$:
 Պ. $240m^7 p^5 p r +^2 է :$

12. Բազմապատկէ $8m^3 p^3 է^4$, $7m^4 p +է^5$ ուլ :
 Պ. $56m^7 p^4 +է^9 :$

13. Բազմապատկէ $51m^2 է^2 +^2$, $9m^2 p p^2 +^5 է$ ուլ :
 Պ. $459m^4 p p^2 +^7 է^3 :$

14. Բազմապատկէ $64m^3 s^5 +^4 է \eta$, $8m p^2 p^3$ ուլ :
 Պ. $512m^4 p^2 p^3 s^5 +^4 է \eta :$

15. Բազմապատկէ $9m^2 p^2 p^2 r^2$, $12m^3 p^4 p^6$ ուլ :
 Պ. $108m^5 p^6 p^8 r^3 :$

16. Բազմապատկէ $216m p^7 p^3 r^8$, $3m^3 p^2 p^5$ ուլ :
 Պ. $648m^4 p^9 p^8 r^8 :$

17. Բազմապատկէ $70m^8 p^7 p^4 r^2 \dagger$, $12m^7 p^5 p^3 r +^2 է^3$ ուլ :
 Պ. $840m^{15} p^{12} p^7 r^3 \dagger^3 է^3 :$

X 34. Արդ գանք երկու բազմադրերու բազմապատկութեան ամենէն ընդհանուր կերպը քննելու :

Թող a ցուցնէ բազմապատկելոյն բոլոր գումարելի եզրերուն գումարը, եւ b — b բառնալի եզրերուն գումարը : Թող c ցուցնէ բազմապատկչին գումարելի եզրերուն գումարը, եւ d — d բառնալի եզրերուն գումարը : Ան ատեն՝ բազմապատկելին կը ցուցուի $a - b$ ու՛, եւ բազմապատկիչը $c - d$ ու՛ : Արդ կը պահանջուի որ $a - b$ այնքան առնուի, որքան միութիւն կայ $c - d$ ի մէջ :

Նախ $a - b$ առնենք այնքան որքան $c - d$ միութիւն կայ :

Ար սկսինք a գրելով, որ $a - b$
 b անգամ $c - d$ մեծ է, քան
 d ի ու b ի մէջտեղի տարբերութեանն է միայն որ c անգամ պիտի առնուի : Ուստի՝ $a - b - c + d$, $c - d$ բազմապատկեալ $a - b$ ի արտադրեալն է :

Բայց որովհետեւ $a - b$ այնքան պիտի առնուի, որքան միութիւն կայ $c - d$ եւ d ի տարբերութեանը մէջ, ուստի՝ $a - b - c + d$ արտադրեալը՝ c անգամ $a - b$ ի չափ մեծ է : Բայց $a - b$ c անգամ առնելով կ'ըլլայ $a - b - c$: Հանելով աս արտադրեալը $a - b - c$ էն (30դ. 28), կ'ունենանք

$$(a - b) \times (c - d) = a - b - c + d :$$

35. Ուստի, նշաններու համար հետեւեալ կանոնն ունինք .

Երբ բազմապատկելոյն $a - b$ բազմապատկչին երկու եզրերը նման նշաններ ունին, անոնց արտադրեալը $+$ նշանը

55. Ի՞նչ կ'ըլլայ $+e + o$ լ բազմապատկելով : Ի՞նչ $+e - o$ լ : Ի՞նչ $-e + o$ լ : Ի՞նչ $-e - o$ լ : Ի՞նչ է բազմադրերու բազմապատկութեան կանոնը :

կ'առնենայ . և երբ օրաբեր նշաններ առնին , անոնց արտադրեալը — նշանը կ'առնենայ :

Վասնորոյ՝ արճէպրայական լեզուով կ'ըսենք , թէ
 + բազմապատկեալ + սվ , կամ — բազմապատկեալ
 — ուլ՝ + կ'ըլլայ . — բազմապատկեալ + ուլ , կամ
 + բազմապատկեալ — սվ՝ — կ'ըլլայ :

Ուստի՝ բազմեղրերու բազմապատկութեանը համար հետեւեալ կանոնն սենիք :

ԿԱՆՈՆ

Բազմապատկէ բազմապատկելոյն թուր եղբերք բազմապատկելին ասին թի եղբակք , յիշելով թէ ասին թի բազմապատկութեան թի նման նշաններու արտադրեալը ասուաւել նշան առնի , և օրաբեր նշաններու նոսաղ : Յետոյ վերածե ելած բազմեղրք թ ասինապարզ յիշին :

ՕՐԻՆԱԿՔ

1. Բազմապատկէ . . . $2m + 3p$

. $3 + p ուլ$

Արտադրեալը . . . $6m + 2 - 9mp + 2mp + 3p^2$

վերածուելով կ'ըլլայ . . . $6m + 2 - 11mp + 3p^2$

2. $m^4 - 2p^3$ բազմապատկէ $m - p ուլ$:

Պ . $m^5 - 2mp^3 - m^4p + 2p^4$:

3. $+^2 - 3+ - 7$ բազմապատկէ $+ - 2 ուլ$:

Պ . $+^3 - 5+^2 - + + 14$:

4. $3m^2 - 5mp + 2p^2$ բազմապատկէ $m^2 - 7mp ուլ$:

Պ . $3m^4 - 26m^3p + 37m^2p^2 - 14mp^3$:

5. $+^4 - 2+^3t + 4+^2t^2 - 8+t^3 + 16t^4$ բազմապատկէ $+ + 2t ուլ$:

Պ . $+^5 + 32t^5$:

6. $2+ + 4t$ բազմապատկէ $2+ - 4t ուլ$:

Պ . $4+^2 - 16t^2$:

X 37. Քառակուսելով $m - p$ ի տարրերու թիւնը՝ կ'ուենանք $(m - p)^2 = (m - p)(m - p) = m^2 - 2mp + p^2$. այսինքն՝

Երկու m $+$ անասիւն-թեանց ճիշտելի որորթերու-թեանը $+$ ասուս-հոստին հասասար է ասուսընայն $+$ ասուսիւսուսայն, նուսուզ ասուսընայն $և$ երկրորդին որորորթելոյն կրկնասարիկը, ասուսել երկրորդին $+$ ասուսիւստին :

1. Քառակուսէ $2m - p$: Կ'ուենանք

$$(2m - p)^2 = 4m^2 - 4mp + p^2 :$$

2. Քառակուսէ $4mf - pf$: Կ'ուենանք

$$(4mf - pf)^2 = 16m^2f^2 - 8mpf^2 + p^2f^2 :$$

3. Քառակուսէ $7m^2p^2 - 12mp^3$: Կ'ուենանք

$$(7m^2p^2 - 12mp^3)^2 = 49m^4p^4 - 168m^3p^5 + 144m^2p^6 :$$

38. $m + p$ բազմապատկէ $m - p$ ուլ : Կ'ուենանք

$$(m + p) \times (m - p) = m^2 - p^2 : \text{Ուստի,}$$

Երկու m $+$ անասիւն-թեանց p ուսարը՝ իրենց որորթերու-թեանը p բազմասարիկալ, հասասար է իրենց $+$ ասուսիւստին-թեան որորթերու-թեանը :

1. $2f + p$ բազմապատկէ $2f - p$ ուլ : Կ'ուենանք

$$(2f + p) \times (2f - p) = 4f^2 - p^2 :$$

2. $9mf + 3pf$ բազմապատկէ $9mf - 3pf$ ուլ : Կ'ուենանք $(9mf + 3pf)(9mf - 3pf) = 81m^2f^2 - 9p^2f^2 :$

3. $8m^3 + 7mp^2$ բազմապատկէ $8m^3 - 7mp^2$ ուլ :

Կ'ուենանք $(8m^3 + 7mp^2)(8m^3 - 7mp^2) = 64m^6 - 49m^2p^4 :$

ԲԱԶՄԵԶՐԵՐԸ ԻՐԵՆՑ ՔԱՆՈՐԴԱԿԱՆՆԵՐՈՒՆ ՎԵՐԼՈՒՄԵԼ

X 39. Երբեմն պէտք կ'ըլլայ բազմեղրի մը քա-

38. Երկու քանակութեանց տարրերութեանը քառակուսին ինչի՞ հաւասար է :

39. Երկու քանակութեանց գումարն իրենց տարրերութիւն ուլը բազմապատկեալ ինչի՞ հաւասար է :

Նորդականները դանել, կամ բազմեզր մը իր քանորդականներուն վերլուծել: Ինչպէս՝ եթէ ունինք հետեւեալ բազմեզրը,

$$m^2 + mp + p^2,$$

կը տեսնենք թէ m հասարակաց քանորդական մըն է. այսինքն ամէն մէկ եզրին մէջ կը գտնուի. ուստի՝ հետեւեալ ձեւով կրնանք դնել

$$m (p + p + p):$$

1. Գտիր $m^2 p^2 + m^2 p + m^2 p$ ի քանորդականները :
Պ. $m^2 (p^2 + p + p):$
2. Գտիր $3m^2 p + 6m^2 p^2 + p^2 p$ ի քանորդականները :
Պ. $p (3m^2 + 6m^2 p + p^2):$
3. Գտիր $3m^2 p + 9m^2 p + 18m^2 p + 18m^2 p + 18m^2 p + 18m^2 p$ ի քանորդականները :
Պ. $3m^2 (p + 3p + 6p + 6p):$
4. Գտիր $8m^2 p + 18m^2 p^2 + 2m^2 p^3 - 30m^2 p^4 + 15m^2 p^5$ ի քանորդականները :
Պ. $2m^2 (4p + 9p^2 + p^3 - 15m^2 p^4 + 15m^2 p^5):$
5. Գտիր $m^2 + 2mp + p^2$ ի քանորդականները :
Պ. $(m + p) \times (m + p):$
6. Գտիր $m^2 - p^2$ ի քանորդականները :
Պ. $(m + p) \times (m - p):$
7. Գտիր $m^2 - 2mp + p^2$ ի քանորդականները :
Պ. $(m - p) \times (m - p):$

ԲԱԺԱՆՈՒՄ

40. Ալճէպրայի մէջ բաժանումն այն դործողութիւնն է, որով երկու ալճէպրայական ձեւերէ երբորդ մը կը գտնենք, որ երկրորդին հետ բազմա-

40. Ի՞նչ է Ալճէպրայի մէջ բաժանումը: Ի՞նչ է միեզրերը բաժնելու կանոնը:

արտակուսելով՝ արտադրեալը առաջնոյն հաւասար կ'ըլլայ: Առաջինը կ'ըսուի բաժանելի, երկրորդը՝ բաժանարար, եւ երրորդը՝ Կանոն:

1. $72m^5$ կը բաժնենք $8m^3$ ով այսպէս.

$$\frac{72m^5}{8m^3}$$

Հոս երրորդ միեզր մը գտնելու ենք, որ երկրորդին հետ բազմապատկուելով՝ առաջնոյն հաւասար ըլլայ: Յայտնի է թէ երրորդ միեզրն է $9m^2$: Ուստի

$$\frac{72m^5}{8m^3} = 9m^2. \text{ քանզի, } 8m^3 \times 9m^2 = 72m^5:$$

$9m^2$ քանորդը կ'ուենենանք՝ բաժանելոյն համարարարին համարարարը բաժանելով, եւ նման գրին ցոյցիւներն իրարօք հանելով:

Նաեւ՝
$$\frac{35m^3p^2q}{7m} = 5m^{3-1}p^{2-1}q = 5m^2pq,$$

քանզի
$$7m \times 5m^2pq = 35m^3p^2q:$$

Գարձեալ՝
$$\frac{56m^4p^2q^2}{8m^3pq} = 7mpq:$$

Ուստի՝ միեզրերու բաժանման համար հետեւեալ կանոնն ունինք:

ԿԱՆՈՆ

Ա. Բաժնէ բաժանելոյն համարարարին բաժանարարին համարարարը՝ նոր համարարարն է համար:

Բ. Այս նոր համարարարին առջեւ գրէ բաժանելոյն բոլոր գրերը, ահին ձեւին բաժանելոյն ձեւ իր նմանցած ցոյցիւն բաժանարարին ձեւ նմանցածին որչափ որ ձեժ է, այն արբէրութեան հաստատար ցոյցիւն ճշտաւրով:

Այս կանոնին համեմատ կը գտնենք.

$$\frac{48m^3p^3q^2r}{12m^2p^2q} = 4m^2pqr. \text{ եւ } \frac{150m^5p^8qr^3}{30m^3p^5qr^2} = 5m^2p^3qr:$$

- 1. $16+^2$ բաժնէ $8+$ ուլ: Պ. $2+$:
- 2. $15+^2$ բաժնէ $3+^2$ ուլ: Պ. $5+^2$:
- 3. $84+^3$ բաժնէ $12+^2$ ուլ: Պ. $7+^3$:
- 4. $36+^4$ բաժնէ $9+^3$ ուլ: Պ. $4+^3$:
- 5. $88+^3$ բաժնէ $8+^2$ ուլ: Պ. $11+^3$:
- 6. $42+^2$ բաժնէ $7+^2$ ուլ: Պ. $6+^2$:
- 7. $64+^5$ բաժնէ $32+^4$ ուլ: Պ. $2+^3$:
- 8. $128+^5$ բաժնէ $16+^4$ ուլ: Պ. $8+^5$:
- 9. $256+^4$ բաժնէ $16+^3$ ուլ: Պ. $16+^3$:
- 10. $300+^3$ բաժնէ $60+^2$ ուլ: Պ. $5+^2$:
- 11. $88+^5$ բաժնէ $11+^3$ ուլ: Պ. $8+^2$:

41. Նախընթաց կանոնէն կը հետեւի թէ միեզրաց ճիշտ բաժանումն անհնարին է,

Ա. Երբ բաժանելոյն համարտադրիչը՝ բաժանարարին համարտադրիչովը ճիշտ չի բաժնուիր:

Բ. Երբ բաժանարարին մէջ գրի մը ցուցիչը՝ բաժանելոյն մէջի նման գրին ցուցչէն մեծագոյն է:

Գ. Երբ բաժանարարը բաժանելիէն մէկ կամ աւելի գրեր կը պարունակէ:

Երբ այս երեք դէպքերէն մէկը կը պատահի, քանորդը կը ցուցուի միեզր կոտորակի մը ձևով: Այսպիսի ձևերու համար կ'ըսենք թէ իրենց անհնար չեն ունին, երբ համարիչն ու յայտարարը նման քանորդական մը չունին:

Չորորինակ, $12+^4$ բաժնուալ $8+^2$ ուլ, կ'ըլլայ

$$\frac{12+^4}{8+^2}$$

41. Ի՞նչ է առաջին դէպքը ուր միեզրաց բաժանումը ճիշտ չ'ըլլար: Ի՞նչ է երկրորդը: Ի՞նչ է երրորդը: Եթէ այս դէպքերուն մէկը պատահի, բաժանումը ճիշտ կրնայ ըլլալ: Անատեն քանորդն ի՞նչ ձևով պիտի մնայ: Այս կոտորակը շատ անգամ աւելի պարզ ձևի մը կրնայ վերածուիլ:

որոշն համարիչն ու յայտարարը 4, m^2 , p եւ q քանորդականներով բաժնելով՝ կրնանք վերածել, եւ

կ'ըլլայ
$$\frac{12m^4 p^2 q r}{8m^2 p q^2} = \frac{3m^2 p r}{2q}$$

Նաեւ
$$\frac{25m^5 p^2 r^3}{15m^4 p^6 r^4} = \frac{5m}{3p^4 r}$$

42. Ուստի՝ միեզր կոտորակի մը վերածութեանը համար հետեւեալ կանոնն ունինք :

ԿԱՆՈՆ

Համարչին եւ յայտարարին զլէ նման քանորդականները զլէ :

Այս կանոնին համեմատ կ'ուեննանք

(1)

(2)

$$\frac{48m^3 p^2 q r^3}{36m^2 p^3 q^2 r^4} = \frac{4m r^2}{3p q^4} \text{ եւ } \frac{37m^3 p^3 q^5 r}{6m^2 p q^4 r^2} = \frac{37m p^2 q}{6r}$$

(3)

(4)

Նաեւ
$$\frac{7m^2 p}{14m^3 p^2} = \frac{1}{2m p} \text{ եւ } \frac{4m^2 p^2}{6m p^4} = \frac{2m}{3p^2}$$

5. $49m^2 p^2 q^6$ բաժնէ $14m^3 p q^4$ ուլ : Պ. $\frac{7p q^2}{2m}$:

6. $18m^2 p^2 s^2$ բաժնէ $12m^4 p^4 q r$ ուլ : Պ. $\frac{3s^2}{2m^2 p^2 q r}$:

7. $28m^5 p^6 q^7 r^8$ բաժնէ $16m p^9 q r^7 s$ ուլ :
 Պ. $\frac{7m^4 q^6 r}{4p^3 s}$:

8. $72m^3 q^2 p^2$ բաժնէ $12m^5 q^4 p^3 r$ ուլ : Պ. $\frac{6}{m^2 q^2 p r}$:

9. $96m^5 p^8 q^9 r^4$ բաժնէ $75m^2 q^4$ ուլ :
 Պ. $\frac{32m^3 p^8 q^8 r^4}{25q^4}$:

42. Ի՞նչ է միեզր կոտորակի մը վերածութեան կանոնը :

40. $127r^3 + 2t^2$ բաժնէ $16r^4 + 4t^4$ ուլ: Պ. $\frac{127}{16r^4 + 2t^2}$

43. Եթէ հետեւեալ ձեւերն ունինք

$$\frac{m}{m}, \frac{m^2}{m^2}, \frac{m^3}{m^3}, \frac{m^4}{m^4}, \frac{m^5}{m^5}, \text{ եւ այլն,}$$

եւ ցուցիչներուն կանոնը գործածենք, սխալի ունենանք

$$\frac{m}{m} = m^{1-1} = m^0, \frac{m^2}{m^2} = m^{2-2} = m^0, \frac{m^3}{m^3} = m^{3-3} = m^0$$

եւ այլն. բայց որովհետեւ քանակութիւն մը իրմով բաժնուելով 1 ի հաւասար կ'ըլլայ՝ կը հետեւի թէ

$$\frac{m}{m} = m^0 = 1, \frac{m^2}{m^2} = m^{2-2} = m^0 = 1, \text{ եւ այլն,}$$

կամ 'ի վերջոյ՝ եթէ ցուցիչը ճ ուլ նշանակենք, կ'ուսենանք

$$\frac{m^f}{m^f} = m^{f-f} = m^0. \text{ այսինքն՝}$$

0 ցուցիչ նշեցող թուոյ ճը կարողութիւնը հաւասար է 1 է. եւ ուստի՝ m^0 ձեւով քանորդական մը կրնայ զանց առնուիլ՝ 1 ի հաւասար ըլլալուն համար:

2. $6m^2p^2q^4r$ բաժնէ $2m^2p^2r$ ուլ:

$$\frac{6m^2p^2q^4r}{2m^2p^2r} = 3m^{2-2}p^{2-2}q^4r^{1-1} = 3q^4:$$

3. $8m^4p^3q^4r^5$ բաժնէ $4m^2p^3q^4r^5$ ուլ: Պ. $2m^2$:

4. $16m^6p^8r^9$ բաժնէ $8m^6p^8r$ ուլ: Պ. $2r^8$:

5. $96m^4p^5r^8q^9$ բաժնէ $24m^4p^4r^5q^9$ ուլ. Պ. $4pr^3$:

ԲԱԺԱՆՄԱՆ ՄԷՁ ՆՇԱՆՆԵՐ

44. Բաժանման նպատակն է՝ քանորդ կոչուած

45. Ինչի՞ հաւասար է m^0 : Թուոյ մը կարողութիւնն ինչի՞ հաւասար է, երբ կարողութեան ցուցիչը 0 է:

44. Եթէ քանորդը բաժանարարով բազմապատակուի, ինչի՞ հաւասար կ'ըլլայ: Եթէ բազմապատկելին ու բազմապատկիչը

երրորդ քանակութիւն մը դանել, որ բաժանարարին հետ բազմապատկուելով բաժանելին կ'արտադրէ :

Որովհետեւ, բազմապատկութեան մէջ, նման նշաններ ունեցող երկու եզրերուն արտադրեալը + նշանը կ'ունենայ, եւ տարբեր նշաններ ունեցող երկու եզրերու արտադրեալը — նշանը կ'ունենայ, ուստի կը մակարեւնք՝

Ա. Թէ երբ բաժանելոյն եզրը + նշան ունի, եւ բաժանարարինը՝ + նշան, քանորդին համեմատական եզրը + նշանն ունենալու է :

Բ. Երբ բաժանելոյն եզրը + նշան ունի, եւ բաժանարարինը՝ — նշան, քանորդին համեմատական եզրը — նշան ունենալու է, քանզի միայն — նշանը — նշանին հետ բազմապատկուելով՝ բաժանելոյն + նշանը կ'արտադրէ :

Գ. Երբ բաժանելոյն եզրը — նշան ունի, եւ բաժանարարինը՝ + նշան, քանորդին եզրը — նշան ունենալու է :

Դարձեալ համառօտիւ կ'ըսենք թէ,
+ բաժանեալ + ով, եւ — բաժանեալ — ով,
կ'ելլէ + .

— բաժանեալ + ով, եւ + բաժանեալ — ով,
կ'ելլէ — :

ՕՐԻՆԱԿՔ

1. $4m +$ բաժնէ — $2m$ ով : Պ. — $2+$:
Յայտնի է թէ հոս պատասխանը — $2+$ ըլլալու է .

քանզի՝ — $2m \times -2+ = +4m+$, բաժանելին :

2. $36m^3 + 2$ բաժնէ — $12m^2 +$ ով : Պ. — $3m+$:

3. — $38m^3 p^5 q^2 r^2$ բաժնէ $29m^2 p^4 q$ ով :

Պ. — $2mpqr^2$:

Նման նշաններ ունին, ի՞նչ կ'ըլլայ արտադրելոյն նշանը : Եթէ տարբեր նշաններ ունին, ի՞նչ կ'ըլլայ : Եթէ բաժանելոյն եզրն ու բաժանարարին եզրը նոյն նշան ունին, ի՞նչ կ'ըլլայ քանորդին համեմատական եզրին նշանը : Երբ տարբեր նշաններ ունին, ի՞նչ կ'ըլլայ քանորդին եզրին նշանը :

4. — $84m^4p^5q^3$ բաժնէ — $42m^2p^2q$: $\eta \cdot 2m^2p^3q^2 :$
5. $64q^4r^5+3$ բաժնէ $16q^4r+1$: $\eta \cdot 4r^4+2 :$
6. — $88p^4+5t^6$ բաժնէ — $24p^3q^2r+5$: $\eta \cdot \frac{11p^6}{3qr} :$
7. $84m^4p^2q^2r$ բաժնէ — $42m^4p^2q^2r$: $\eta \cdot -2 :$
8. — $88m^6p^7q^6$ բաժնէ $8m^5p^6q^6$: $\eta \cdot -11m^p :$
9. — $15m^2+t^3$ բաժնէ $3m^2$: $\eta \cdot -5m+t^2 :$
10. — $96m^4p^2q^3$ բաժնէ $12m^3p^2q$: $\eta \cdot -8m^2q^2 :$
11. — $144m^9p^8q^7r^5$ բաժնէ — $36m^4p^6q^6r$: $\eta \cdot 4m^5p^2q^2r^4 :$
12. $256m^3p^2q^2+3$ բաժնէ — $16m^2q+2$: $\eta \cdot -16m^2q+2 :$
13. — $300m^5p^4q^3+2$ բաժնէ $30m^4p^3q^2+1$: $\eta \cdot -10m^2q+1 :$
14. $500m^8p^9q^6$ բաժնէ — $100m^7p^8q^4$: $\eta \cdot -5m^2q^2 :$
15. — $64m^5p^8q^7$ բաժնէ — $8m^4p^7q^6$: $\eta \cdot 8m^2q :$
16. $72m^5p^3q^4$ բաժնէ — $8m^4p^2q$: $\eta \cdot -9m^2q^3 :$

ԲԱԺԱՆՈՒՄՆ ԲԱԶՄԵԶԵՐԱՅ

ՕՐԻՆԱԿ ԱՌԱՋԻՆ

45. $m^2 - 2m + 1 + 2$ բաժնէ $m - 1$: $\eta \cdot$

Ալճէպրայի բաժանման Բաժանելի Բաժանարար
 մէջ ամենէն յարմար կերպը $m^2 - 2m + 1 + 2$ | $\frac{m - 1}{m - 1}$
 կը համարուի բաժանարարը $m^2 - m +$ | $m - 1$
 բաժանելուն աջ կողմը՝ եւ $\frac{m^2 - m +}{m - 1}$ | $\frac{m^2 - m +}{m - 1}$
 քանորդը ուղղակի բաժա- $- m + 1 + 2$ | $\frac{m^2 - m +}{m - 1}$
 նարարին ներքեւը դնել : $- m + 1 + 2$

45. Բազմեզը մը մասնաւոր գրի մը նայելով շարել ըսելով
 ի՞նչ կը հասկցուի :

Նախ կը բաժնենք բաժանելուոյն m^2 եզրը՝ բաժանարարին m եզրովը . որուն քանորդը կ'ըլլայ m , ու կը դնենք բաժանարարին տակը: Ան ատեն բաժանարարը կը բազմապատկենք m ուլ, եւ $m^2 - m +$ արտադրեալը բաժանելիէն կը հանենք, եւ մնացորդին քով կը բերենք $+^2$: Ապա մնացորդին առաջին եզրը՝ $-m +$, կը բաժնենք m ուլ, եւ քանորդը կ'ըլլայ $- +$: Ան ատեն բաժանարարը կը բազմապատկենք $- +$ ուլ, եւ առաջուան պէս հանելով՝ կը գտնենք որ բան չի մընար: Ուստի՝ $m - +$ է ճիշտ քանորդը:

Այս օրինակին մէջ՝ Բաժանելուոյն եւ Բաժանարարին եզրերը այնպէսի կերպով ճշտ Գրած ենք որ Գրեցին ճշտ հոն ցոյցիւները յախեն որեւ յաջ կը նստապէն մընար: Ասիկայ կ'ըսուի բաժանարարին ու բաժանելին այն դրոյն նայելով շարել: Այս կարգադրութեամբ՝ քանորդին առաջին եզրը գտնելու համար, բաժանելուոյն ձախ կողմի առաջին եզրը՝ բաժանարարին ձախ կողմի առաջին եզրովը բաժնուելու է:

46. Ուստի բազմեզերաց բաժանմանը համար հետեւեալ կանոնն ունինք:

ԿԱՆՈՆ

Ա. Եարէ Բաժանելին ու Բաժանարարը նոյն Գրին նայելով, եւ ապա Բաժանելուոյն յախ կողմի առաջին եզրը՝ Բաժանարարին յախ կողմի առաջին եզրովը Բաժնէ . Եւ լուծը Բաժանարարին առաջին եզրն է . Բազմապատկէ Բաժանարարն այս եզրով, եւ արտադրեալը հանէ Բաժանելիէն:

Բ. Ան ապէն մնացորդին առաջին եզրը Բաժնէ Բաժանարարին առաջին եզրովը, եւ կ'ելլէ Բաժանարարին երկրորդ

46. Ի՞նչ է բազմեզերաց բաժանման ընդհանուր կանոնը: Եթէ շարուած բաժանելուոյն առաջին եզրը չկրնայ բաժնուիլ շարուած բաժանարարին առաջին եզրովը, ճիշտ բաժանումը հնարաւոր է: Եթէ մասնական բաժանելուոյ մը առաջին եզրը՝ բաժանարարին առաջին եզրովը չի բաժնուիլ, ճիշտ բաժանումը հնարաւոր է:

Եզրը • Բազմապատկէ Բաժանարարն այս Երկրորդ Եզրով ,
 և արտադրելու Կանէ առջի Բորժողութեան արդիւնքն :
 Այսպէս շարունակէ թիւը որ ճնայորդը 0 ըլլայ , Կամ
 թիւը որ ճնայորդին առաջին Եզրը չիբնայ Բաժանուիլ Բա-
 ժանարարին առաջին Եզրով :

ՕՐԻՆԱԿ ԵՐԿՐՈՐԳ

Արդ

$$51m^2p^2 + 10m^4 - 48m^3p - 15p^4 + 4mp^3 \text{ բաժնենք}$$

$$4mp - 5m^2 + 3p^2 \text{ ուլ :}$$

Բաժանելի •	Բաժանարար •
$10m^4 - 48m^3p + 51m^2p^2 + 4mp^3 - 15p^4$ $+ 10m^4 - 8m^3p - 6m^2p^2$ <hr/> $- 40m^3p + 57m^2p^2 + 4mp^3 - 15p^4$ $- 40m^3p + 52m^2p^2 + 24mp^3$ <hr/> $25m^2p^2 - 20mp^3 - 15p^4$ $25m^2p^2 - 20mp^3 - 15p^4$ <hr/>	$ - 5m^2 + 4mp + 3p^2$ <hr/> $- 2m^2 + 8mp - 5p^2$ Քանորդ :

Ծանօթութիւն • — Երբ շարուած բաժանելուոյն առաջին Եզրը շարուած բաժանարարին առաջին Եզրովը ճշգիւ չի բաժնուիր , կատարեալ բաժանում անհնար է • այսինքն թէ՛ անանկ բազմեզր մը չ'ելլեր որ բաժանարարով բազմապատկուելով , բաժանելին արտադրէ : Եւ ընդհանրապէս՝ պիտի դանկնք թէ ճշգրիտ բաժանում անհնարին է , երբ որ եւ է մասնական բաժանելուոյն Եզրերուն առաջինը՝ բաժանարարին առաջին Եզրովը չի կրնար բաժնուիլ :

ԸՆԳՀԱՆՈՒՐ ՕՐԻՆԱԿՔ

- | | | |
|----|----------------------------------|-----------------|
| 1. | $18+^2$ բաժնէ $9+$ ուլ : | Պ . $2+$: |
| 2. | $10+^2է^2$ բաժնէ $- 5+^2է$ ուլ : | Պ . $- 2է$: |
| 3. | $- 9m+^2է^2$ բաժնէ $9+^2է$ ուլ : | Պ . $- mէ$: |
| 4. | $- 8+^2$ բաժնէ $- 2+$ ուլ : | Պ . $4+$: |
| 5. | $10mp + 15mէ$ բաժնէ $5m$ ուլ : | Պ . $2է + 3է$: |
| 6. | $30m+ - 54+$ բաժնէ $6+$ ուլ : | Պ . $5m - 9$: |

7. $10t^2 - 15t^2 - 5t$ բաժնէ 5t ուլ :
 Պ. $2t^2 - 3t - 1$:
8. $12m + 3m + 18m + 2$ բաժնէ $3m$ ուլ :
 Պ. $4 + + - 6t^2$:
9. $6m^2 + 9m^2 + m^2 + 2$ բաժնէ $m +$ ուլ :
 Պ. $6 + + 9m + m +$:
10. $m^2 + 2m + + t^2$ բաժնէ $m + +$ ուլ : Պ. $m + +$:
11. $m^3 - 3m^2t + 3mt^2 - t^3$ բաժնէ $m - t$ ուլ :
 Պ. $m^2 - 2mt + t^2$:
12. $24m^2p - 12m^3p^2 - 6mp$ բաժնէ $-6mp$ ուլ :
 Պ. $-4m + 2m^2p + 1$:
13. $6t^4 - 96$ բաժնէ $3t - 6$ ուլ :
 Պ. $2t^3 + 4t^2 + 8t + 16$:
14. $48t^3 - 76m + 2 - 64m^2 + 105m^3$ բաժնէ $2t - 3m$ ուլ :
 Պ. $24t^2 - 2m + - 35m^2$:
15. $t^6 - 3t^4 + 2 + 3t^2 + 4 - t^6$ բաժնէ $t^3 - 3t^2 + + 3t + 2 - t^3$:
 Պ. $t^3 + 3t^2 + + 3t + 2 + t^3$:
16. $-15m^4 + 37m^2p - 29m^2q - 20p^2r^2 + 44pq - 8q^2r^2$ բաժնէ $3m^2 - 5p - + q$ ուլ :
 Պ. $-5m^2 + 4p - 8q$:
17. $3m^4 - 8m^2p^2 + 3m^2q^2 + 5p^4 - 3p^2q^2$ բաժնէ $m^2 - p^2$ ուլ :
 Պ. $3m^2 - 5p^2 + 3q^2$:
18. $6t^6 - 5t^5t^2 - 6t^4t^4 + 6t^3t^2 + 15t^3t^3 - 9t^2t^4 + 10t^2t^5 + 15t^5$ բաժնէ $3t^3 + 2t^2t^2 + 3t^2$ ուլ :
 Պ. $2t^3 - 3t^2t^2 + 5t^3$:
19. $-t^2 + 16m^2 + 2 - 7mp - 4m^2p + - 6m^2p^2 + 6m +$ բաժնէ $8m + - 6mp - t$ ուլ :
 Պ. $2m + + mp + t$:
20. $3t^4 + 4t^3t - 4t^2 - 4t^2t^2 + 16t - 15$ բաժնէ $2t + + t^2 - 3$ ուլ :
 Պ. $3t^2 - 2t + 5$:
21. $t^5 + 32t^5$ բաժնէ $t + 2t$ ուլ :
 Պ. $t^4 - 2t^3t + 4t^2t^2 - 8t^3 + 16t^4$:
22. $3m^4 - 26m^3p - 14mp^3 + 37m^2p^2$ բաժնէ $2p^2 - 5mp + 3m^2$ ուլ :
 Պ. $m^2 - 7mp$:

ԳԼՈՒԽ Բ.

ԱԼՃԷՊՐԱՅԱԿԱՆ ԿՈՏՈՐԱԿԻ

47. Ալճէպրայական կոտորակները բնութեամբ նման են թուարանական կոտորակաց. այսինքն՝ ըմբռնելու ենք թէ միութիւն մը յայտարարին մէջ եղած միութեանց թուոյն հաւասար մասանց բաժնուած է, եւ համարչին մէջ որչափ միութիւն որ կայ, այն մասերէն այնքան առնուած է: Ուստի, յաւելում, հանում, բազմապատկութիւն եւ բաժանում կը կատարուին թուարանական կոտորակաց կանոններուն համեմատ:

Չասնորոյ հարկ չէ այս կանոններն ապացուցանել, այլ զանոնք գործածելու ատեն հետեւելու ենք ալճէպրայական ամբողջ քանակութեանց համար ցուցուած կանոններուն:

48. Քանակութիւն մը որ կոտորակի մը ձեւով ցուցուած չէ, ամբողջ քանակութիւն կ'ըսուի:

49. Ալճէպրայական ձեւ մը որ մասամբ մը ամբողջ եւ մասամբ մը կոտորակաձեւ է, խառն քանակութիւն կ'ըսուի:

50. Ա. կոտորակ մը իր ամենապարզ ձեւին վերածել:

47. Ի՞նչպէս նկատելու ենք ալճէպրայական կոտորակները: Ի՞նչ կը ցուցնէ յայտարարը: Ի՞նչ կը ցուցնէ համարիչը: Ուրեմն ի՞նչպէս կատարուելու են կոտորակաց գործողութիւնները:
48. Ի՞նչ է ամբողջ քանակութիւնը:
49. Ի՞նչ է խառն քանակութիւնը:
50. Կոտորակ մը իր ամենապարզ ձեւին ի՞նչպէս կը վերածուի:

Կոտորակ մը իր ամենապարզ ձեւն ունի կ'ըսուի, երբ համարչին եւ յայտարարին մէջ նոյն քանորդական չկայ: Միեզր կոտորակի մը իր ամենապարզ ձեւին վերածելու կանոնն արդէն արուած է (Յօդ. 42):

Բազմեզր կոտորակները վերածելու քանի մը օրինակ տանք:

1. Վերածէ $\frac{m^2 - p^2}{m^2 - 2mp + p^2}$ իր ամենապարզ ձեւին:

Այս կոտորակն հետեւեալ ձեւը կ'առնու.

$$\frac{(m + p)(m - p)}{(m - p)^2},$$

(Յօդ. 37 եւ 38): Ջնջելով երկու եզրերուն մէջ եղած $m - p$ քանորդականը՝ կ'ունենանք

$$\frac{m + p}{m - p},$$

2. Վերածէ $\frac{5m^3 - 10m^2p + 5m^2p^2}{8m^3 - 8m^2p}$ իր ամենապարզ ձեւին:

Այս ձեւը կրնայ վերածուիլ այսպէս.

$$\frac{5m(m^2 - 2mp + p^2)}{8m^2(m - p)}$$

կամ

$$\frac{5m(m - p)^2}{8m^2(m - p)},$$

Ջնջելով $m(m - p)$ քանորդականները՝ արդիւնքը կ'ըլլայ

$$\frac{5(m - p)}{8m}.$$

Ուստի կոտորակ մը իր ամենապարզ ձեւին վերածելու համար՝ համարչին եւ յայտարարին մէջ եղած նոյն քանորդականները կը ջնջեն:

Տեղեկութիւն: — Չափը համարչին ու յայտարարին մէջ նոյն քանորդականներն՝ ըստ Յօդ. 39:

ՕՐԻՆԱԿԻ

1. վերածէ $\frac{3m^2 + 6m^2 p^2}{12m^4 + 6m^3 p^2}$ իր ամենապարզ

ձևին : $\eta . \frac{1 + 2p^2}{4m^2 + 2mp^2} :$

2. վերածէ $\frac{15m^5 p + 25m^9 p}{25m^2 + 30m^2}$ իր ամենապարզ

ձևին : $\eta . \frac{3m^3 p + 5m^7 p}{11} :$

3. վերածէ $\frac{85p^7 q r^5}{15p^7 q^8 r^5}$ իր ամենապարզ ձևին :

$\eta . \frac{17}{3q^7} :$

4. վերածէ $\frac{60q^6 r^4 q^5}{12q^5 r^4 q^9}$ իր ամենապարզ ձևին :

$\eta . \frac{5q}{q^4} :$

5. վերածէ $\frac{27m^4 p^4 - 81mp^6}{63mp^6 - 36m^2 p^4}$ իր ամենապարզ

ձևին : $\eta . \frac{3m^3 - 9p^2}{7p^2 - 4m} :$

6. վերածէ $\frac{96m^3 p^2 q}{-12m^3 p^2 q}$ իր ամենապարզ ձևին :

$\eta . -8 :$

7. վերածէ $\frac{24p^5 - 36mp^4}{48m^4 p^4 - 66m^5 p^6}$ իր ամենապարզ

ձևին : $\eta . \frac{4p - 6m}{8m^4 - 11m^5 p^2} :$

51. Բ. Խառն քանակութիւն մը կոտորակի ձևի վերածել :

51. Խառն քանակութիւն մը կոտորակի ձևի ի՞նչպէս կը վերածուի :

ԿԱՆՈՆ

Բազմապատիկ ածիւղը մասը կոտորակին յայտարարողը •
արտադրելուն վրայ աւելցուած հասարկը, և հասարկին
որակը դիւր յայտարարը :

ՕՐԻՆԱԿՔ

1. Վերածէ $6\frac{1}{7}$ կոտորակի ձեւի :

$$6 \times 7 = 42. 42 + 1 = 43. \text{ ուստի, } 6\frac{1}{7} = \frac{43}{7} ;$$

2. Վերածէ $x - \frac{(m^2 - x^2)}{x}$ կոտորակի ձեւի :

$$\text{Պ. } x - \frac{m^2 - x^2}{x} = \frac{x^2 - (m^2 - x^2)}{x} = \frac{2x^2 - m^2}{x} :$$

3. Վերածէ $x - \frac{m + x + x^2}{2m}$ կոտորակի ձեւի :

$$\text{Պ. } \frac{m + x + x^2}{2m} :$$

4. Վերածէ $5 + \frac{2x - 7}{3x}$ կոտորակի ձեւի :

$$\text{Պ. } \frac{17x - 7}{3x} :$$

5. Վերածէ $1 - \frac{x - m - 1}{m}$ կոտորակի ձեւի :

$$\text{Պ. } \frac{2m - x + 1}{m} :$$

6. Վերածէ $1 + 2x - \frac{x - 3}{5x}$ կոտորակի ձեւի :

$$\text{Պ. } \frac{10x^2 + 4x + 3}{5x} :$$

7. Վերածէ $2m + p - \frac{3p + 4}{8}$ կոտորակի ձեւի :

$$\text{Պ. } \frac{16m + 8p - 3p - 4}{8} :$$

8. Վերածէ $8 + 3m^2$ — $\frac{8 + 6m^2p^2 + 4}{12mp^2 + 4}$ կոտորակի

ձեւի : $\eta . \frac{96mp^2 + 4 + 30m^2p^2 + 4 - 8}{12mp^2 + 4} :$

9. Վերածէ $9 + \frac{3p^2 - 8p^4}{m - p^2}$ կոտորակի ձեւի :

$\eta . \frac{9m - 6p^2 - 8p^4}{m - p^2} :$

52. Գ. կոտորակ մը ամբողջ կամ խառն քանակուածեան վերածել :

ԿԱՆՈՆ

Բաժնէ կոտորակին համարելը յայտարարող մինչև որ ճանցորդին առաջին ելը բաժանարարին առաջին ելը ողջ ալ չի բաժնուիր : Այն Կանոնը զրայ աւելցուի յայտարարող բաժանեալ վերջին ճանցորդը :

ՕՐԻՆԱԿԻ

1. Վերածէ $\frac{8966}{8}$ ամբողջ թուոյ :

8) 8966(
 1120 . . . 6 մնացորդ ,
 Ուստի , $\eta . 1120 \frac{6}{8} :$

2. Վերածէ $\frac{m + m^2}{+}$ խառն քանակուածեան :

$\eta . m - \frac{m^2}{+} :$

3. Վերածէ $\frac{m + +^2}{+}$ ամբողջ կամ խառն քանակուածեան : $\eta . m - + :$

52. կոտորակ մը ամբողջ կամ խառն քանակուածեան ի՞նչպէս կը վերածուի :

4. Վերածէ $\frac{m^2 - 2m^2}{f}$ խառն քանակութեան :

Պ. $m - \frac{2m^2}{f}$:

5. Վերածէ $\frac{m^2 - f^2}{m - f}$ ամբողջ քանակութեան :

Պ. $m + f$:

6. Վերածէ $\frac{f^3 - t^3}{f - t}$ ամբողջ քանակութեան :

Պ. $f^2 + ft + t^2$:

7. Վերածէ $\frac{10f^3 - 5f + 3}{5f}$ խառն քանակութեան :

Պ. $2f - 1 + \frac{3}{5f}$:

8. Վերածէ $\frac{36f^3 - 72f + 32m^2 + 2}{9f}$ խառն քանակութեան :

Պ. $4f^2 - 8 + \frac{32m^2 + 2}{9}$:

53. Գ. Տարբեր յայտարարներ ունեցող կոտորակներն ընդհանուր յայտարար մը ունեցող համարողոր կոտորակաց վերածել :

ԿԱՆՈՆ

Բազմապարհէ իւրատանը իւր համարիչ էր յայտարարեն զառ Բ՝ լրջ յայտարարներով, և կ'ըլլան նոր համարիչներ. Բ՝ լրջ յայտարարներն ալ Բազմապարհէ իրարու հետ և կ'ըլլայ ընդհանուր յայտարար :

55. Կոտորակներն ընդհանուր յայտարարի ի՞նչպէս կը վերածուին :

1. Վերածէ $\frac{1}{2}$, $\frac{7}{3}$, եւ $\frac{4}{5}$ ընդհանուր յայտարարի :

$1 \times 3 \times 5 = 15$, առաջնոյն նոր համարիչ :

$7 \times 2 \times 5 = 70$, երկրորդին » »

$4 \times 3 \times 2 = 24$, երրորդին » »

եւ $2 \times 3 \times 5 = 30$, ընդհանուր յայտարար :

ուստի՝ $\frac{15}{30}$, $\frac{70}{30}$ եւ $\frac{24}{30}$ առջիններուն համադր կոտորակներ են :

Տեղէկ-Նի-ն : — Յայտնի է թէ այս վերածութիւնը տարրեր կոտորակաց արժէքները չի փոխեր . քանզի իւրաքանչիւրին յայտարարն ու համարիչը միեւնոյն թնուով բազմապատկուած են :

2. Վերածէ $\frac{m}{p}$ եւ $\frac{p}{q}$ ընդհանուր յայտարար ու նեցող համադր կոտորակաց :

$$\left. \begin{aligned} m \times q &= mq \\ p \times p &= p^2 \end{aligned} \right\} \text{նոր համարիչներ .}$$

եւ $p \times q = pq$ ընդհանուր յայտարար :

ուստի՝ $\frac{mq}{pq}$ եւ $\frac{p^2}{pq}$ առջիններուն համադր կոտորակներ են :

3. Վերածէ $\frac{m}{p}$ եւ $\frac{m+p}{q}$ ընդհանուր յայտարարի :

$$\eta . \frac{mq}{pq} \text{ եւ } \frac{mq + p^2}{pq} :$$

4. Վերածէ $\frac{3+}{2m}$, $\frac{2p}{3q}$, եւ η ընդհանուր յայ-

տարարի : $\eta . \frac{9q+}{6mq}$, $\frac{4mp}{6mq}$ եւ $\frac{6m\eta}{6mq}$:

5. Վերածէ $\frac{3}{4}$, $\frac{2+}{3}$ եւ $m + \frac{2+}{m}$ ընդհանուր յայ-

տարարի : Պ. $\frac{9m}{12m}$, $\frac{8m+}{12m}$ եւ $\frac{12m^2 + 24+}{12m}$:

6. Վերածէ $\frac{1}{2}$, $\frac{m^2}{3}$ եւ $\frac{m^2 + +^2}{m + +}$ ընդհանուր

յայտարարի :

Պ. $\frac{3m + 3+}{6m + 6+}$, $\frac{2m^3 + 2m^2 +}{6m + 6+}$ եւ $\frac{6m^2 + 6+^2}{6m + 6+}$:

7. Վերածէ $\frac{m}{3f}$, $\frac{6m+}{5f}$ եւ $\frac{m^2 - +^2}{f}$ ընդհանուր

յայտարարի :

Պ. $\frac{5mf}{15ff}$, $\frac{18mf+}{15ff}$ եւ $\frac{15m^2ff - 15ff+^2}{15ff}$:

8. Վերածէ $\frac{f}{5m}$, $\frac{m-f}{f}$ եւ $\frac{f}{m+f}$ ընդհանուր

յայտարարի :

Պ. $\frac{mf^2 + f^2f}{5m^2f + 5mf}$, $\frac{5m^3 - 5mf^2}{5m^2f + 5mf}$ եւ $\frac{5mf^2}{5m^2f + 5mf}$:

54. Ե. Գումարել կոտորակները :

ԿԱՆՈՆ

Վերածէ կոտորակները, եւէ հարկ է, ընդհանուր յայտարարի : Ետքը համարելները գումարէ, եւ անոնց գումարն ընդհանուր յայտարարին վրայ դիր :

ՕՐԻՆԱԿԻ

1. Գումարէ $\frac{6}{2}$, $\frac{4}{3}$ եւ $\frac{2}{5}$:

54. Կոտորակներն ի՞նչպէս կը գումարուին :

Ընդհանուր յայտարարի վերածելով՝ կ'ուենենանք

$$6 \times 3 \times 5 = 90 \text{ (ա) համարիչ :}$$

$$4 \times 2 \times 5 = 40 \text{ (բ) համարիչ :}$$

$$2 \times 3 \times 2 = 12 \text{ (գ) համարիչ :}$$

$$2 \times 3 \times 5 = 30 \text{ յայտարար :}$$

Ուստի՝ կոտորակաց գումարին ձեւն է

$$\frac{90}{30} + \frac{40}{30} + \frac{12}{30} = \frac{142}{30} .$$

որ իր ամենապարզ ձեւին վերածուելով կ'ըլլայ $4 \frac{11}{15}$:

2. Քափիր $\frac{m}{p}$, $\frac{t}{r}$ եւ $\frac{k}{z}$ ի գումարը :

Հոս $\left. \begin{aligned} m \times r \times z &= m r z \\ t \times p \times z &= t p z \\ k \times p \times r &= k p r \end{aligned} \right\} \text{ նոր համարիչներ են ,}$

եւ $p \times r \times z = p r z$ ընդհանուր յայտարար :

Ուստի՝

$$\frac{m r z}{p r z} + \frac{t p z}{p r z} + \frac{k p r}{p r z} = \frac{m r z + t p z + k p r}{p r z} .$$

3. Քումարէ $m = \frac{3+^2}{p}$ եւ $p = \frac{2m+}{t}$:

Պ. $m + p = \frac{2m^2 + - 3t + ^2}{p t}$:

4. Քումարէ $\frac{+}{2}$, $\frac{+}{3}$ եւ $\frac{+}{4}$, Պ. $+ + \frac{+}{12}$:

5. Քումարէ $\frac{+-2}{3}$ եւ $\frac{4+}{7}$, Պ. $\frac{19+ - 14}{21}$:

6. Քումարէ $+ + \frac{+-2}{3}$ եւ $3+ + \frac{2+ - 3}{4}$:

Պ. $4+ + \frac{10+ - 17}{12}$:

7. Քուճարէ $4+$, $\frac{5+^2}{2^m}$ եւ $\frac{+ + m}{2+}$:

Պ . $4+ + \frac{5+^3 + m+ + m^2}{2^{m+}}$:

8. Քուճարէ $\frac{2+}{3}$, $\frac{7+}{4}$ եւ $\frac{2+ + 1}{5}$:

Պ . $2+ + \frac{49+ + 12}{60}$:

9. Քուճարէ $4+$, $\frac{7+}{9}$ եւ $2+ \frac{+}{5}$:

Պ . $4+ + \frac{44+ + 90}{45}$:

10. Քուճարէ $3+ + \frac{2+}{5}$ եւ $+ - \frac{8+}{9}$:

Պ . $3+ + \frac{23+}{45}$:

11. Քուճարէ $m - \frac{6f}{8^m}$ եւ $1 - \frac{f}{r}$:

Պ . $\frac{8^{m^2} f r - 6f r + 8^m r - 8 m f}{8^m r}$:

55. 2. Հանել կոտորակները :

ԿԱՆՈՒՆ

Ա. Վերածել կոտորակներն ընդհանուր յայտարարի :

Բ. Հանել թանձալի կոտորակին հասարկ ընդհանուր կոտորակին հասարկին, և արբեբերուելն ընդհանուր յայտարարին վրայ :

ՕՐԻՆԱԿԻ

1. Ի՞նչ է $\frac{3}{7}$ ի եւ $\frac{2}{8}$ ի տարբերութիւնը :

$\frac{3}{7} - \frac{2}{8} = \frac{24}{56} - \frac{14}{56} = \frac{10}{56} = \text{Պ} . \frac{5}{28}$:

2. Ի՞նչ է $\frac{+ - m}{2f}$ եւ $\frac{2^m - 4+}{3f}$ կոտորակներուն

տարբերութիւնը :

55. Կոտորակներն ի՞նչպէս կը հանուին :

Հոս՝ $\left\{ \begin{array}{l} (+ - \infty) \times 3\text{բ} = 3\text{բ}+ - 3\infty\text{բ} \\ (2\infty - 4+) \times 2\text{բ} = 4\infty\text{բ} - 8\text{բ}+ \end{array} \right\}$ համարիչներ :

և $2\text{բ} \times 3\text{բ} = 6\text{բ}\text{բ}$ ընդհանուր յայտարար :

Ուստի՝ $\frac{3\text{բ}+ - 3\infty\text{բ}}{6\text{բ}\text{բ}} - \frac{4\infty\text{բ} - 8\text{բ}+}{6\text{բ}\text{բ}} =$

Պ. $\frac{3\text{բ}+ - 3\infty\text{բ} - 4\infty\text{բ} + 8\text{բ}+}{6\text{բ}\text{բ}} :$

3. Չափը $\frac{12+}{7}$ ի և $\frac{3+}{5}$ ի տարբերութիւնը :

Պ. $\frac{39+}{35} :$

4. Չափը 5է ի և $\frac{3է}{8}$ ի տարբերութիւնը :

Պ. $\frac{37է}{8} :$

5. Չափը $\frac{3+}{7}$ ի և $\frac{2+}{9}$ ի տարբերութիւնը :

Պ. $\frac{13+}{63} :$

6. Ի՞նչ է $\frac{+ + \infty}{\text{բ}}$ ի և $\frac{\text{բ}}{\text{բ}}$ մէջտեղի տարբերու-

թիւնը :

Պ. $\frac{\text{բ} + + \infty \text{բ} - \text{բ}\text{բ}}{\text{բ}\text{բ}} :$

7. Ի՞նչ է $\frac{3+ + \infty}{5\text{բ}}$ ի և $\frac{2+ + 7}{8}$ մէջտեղի տարբե-

րութիւնը :

Պ. $\frac{24+ + 8\infty - 10\text{բ}+ - 35\text{բ}}{40\text{բ}} :$

8. Ի՞նչ է $3+ + \frac{+}{\text{բ}}$ ի և $+ - \frac{+ - \infty}{\text{բ}}$ ի տարբերու-

թիւնը :

Պ. $2+ + \frac{\text{բ} + + \text{բ} + + \infty\text{բ}}{\text{բ}\text{բ}} :$

56. Է. Բազմապատկել կոտորակները :

ԿԱՆՈՆ

Եթե բազմապատկելու փանակաթիւները խառն են, կոտորակի վերածել. ետքը համարելները ճշտեղ բազմապատկել. որ կ'ըլլայ նոր համարել, և յայտարարները ճշտեղ՝ որ կ'ըլլայ նոր յայտարար :

ՕՐԻՆԱԿԻ

1. $\frac{3}{7}$ և $\frac{1}{6}$ բազմապատկել $8\frac{1}{3}$ ուլ :

Քործողութիւնն
 $\frac{3}{7}$ և $\frac{1}{6}$ Ը = $\frac{3}{42}$,

Նախ բազադրեալ կոտորակը պարզ կոտորակի կը վերածենք որ կ'ըլլայ $\frac{3}{42}$, և ապա խառն թիւը կոտորակի կը վերածենք որ կ'ըլլայ $\frac{25}{3}$. Ուստի՝

$8\frac{1}{3} = \frac{25}{3}$,

$\frac{3}{42} \times \frac{25}{3} = \frac{75}{126} = \frac{25}{42}$:

Ետքը համարիչը համարչին, ու յայտարարը յայտարարին հետ կը բազմապատկենք :

Պ . $\frac{25}{42}$:

2. $x + \frac{p}{x}$ բազմապատկել $\frac{t}{x}$ ուլ :

Նախ՝ $x + \frac{p}{x} = \frac{x^2 + p}{x}$:

Ուստի՝ $\frac{x^2 + p}{x} \times \frac{t}{x} = \eta . \frac{x^2 t + p t}{x^2}$:

3. $\frac{3+}{5}$ բազմապատկել $\frac{3x}{p}$ ուլ : Պ . $\frac{9x+}{5p}$:

4. $\frac{2+}{5}$ բազմապատկել $\frac{3+^2}{2x}$ ուլ : Պ . $\frac{3+^3}{5x}$:

56. Կոտորակներն ի՞նչպէս կը բազմապատկուին :

5. Բաղմապատկէ $\frac{2+}{m}$, $\frac{3mf}{f}$ եւ $\frac{3mf}{2f}$: Պ . $9m+$:

6. Ի՞նչ է $f + \frac{f+}{m}$ եւ $\frac{m}{f}$ ի արտադրեալը :

Պ . $\frac{mf + f+}{f}$:

7. Ի՞նչ է $\frac{+^2 - f^2}{ff}$ եւ $\frac{+^2 + f^2}{f + f}$ ի արտադրեալը :

Պ . $\frac{+^4 - f^4}{f^2f + ff^2}$:

8. Ի՞նչ է $+ + \frac{+ + 1}{m}$ եւ $\frac{+ - 1}{m + f}$ ի արտադրեալը :

Պ . $\frac{m+^2 - m+ + +^2 - 1}{m^2 + mf}$:

9. $m + \frac{mf}{m - +}$ բաղմապատկէ $\frac{m^2 - +^2}{+ + +^2}$ ուլ :

Պ : $\frac{m^4 - m^2 +^2}{m+ + m+^2 - +^2 - +^3}$:

57. Ը. Բաժնել կոտորակները :

ԿԱՆՈՆ

Վերածել իւրանո Ժանահո-լի-ննէրը, էլիէ կան, կոտորակի . ապա շրջէ բաժանարարին ելրէրը և բաղմապատկէ համարիչը համարչով և յայտարարը յայտարարով :

ՕՐԻՆԱԿՔ

1. $\frac{1}{2} \frac{0}{4}$ բաժնէ $\frac{5}{8}$ ուլ :

57. Կատորակ մը ուրիշ կոտորակով ի՞նչպէ՞ս կը բաժնուի :

Ճշգրիտ քանորդը պիտի ցուցուի $\frac{\frac{10}{24}}{\frac{5}{8}}$ բազազրեալ կոտորակին ձեւովը :

Արդ՝ այս կոտորակին եզրերը բազմապատկենք յայտարարին շրջեալ եզրերովը . այսպէս ընելով կոտորակին արժէքը չի փոխուիր . եւ ան ատեն պիտի ունենանք ,

$$\frac{\frac{10}{24}}{\frac{5}{8}} = \frac{\frac{10}{24} \times \frac{8}{8}}{\frac{5}{8} \times \frac{8}{8}} = \frac{\frac{10}{24} \times \frac{8}{5}}{1} = \frac{10}{24} \times \frac{8}{5} = \frac{2}{3} \text{ քանորդ :}$$

Յայտնապէս կը տեսնենք թէ այս քանորդը ելաւ պարզապէս համարիչը յայտարարին շրջեալ եզրերուն հետ բազմապատկելով : Այս քանորդը կրնայ աւելի պարզուիլ 5 եւ 8 հասարակաց քանորդականներով բաժնելով , եւ ճշգրիտ քանորդը կ'ըլլայ $\frac{2}{3}$:

2. $\frac{p}{2q}$ բաժնէ $\frac{1}{2}$ ով :

$$\frac{p}{2q} = \frac{2mq - p}{2q}$$

Ուստի՝

$$\frac{p}{2q} \div \frac{1}{2} = \frac{2mq - p}{2q} \times \frac{2}{1} = q \cdot \frac{2mq - p}{2q}$$

3. $\frac{7+}{5}$ բաժնէ $\frac{12}{13}$ ով : $q \cdot \frac{91+}{60}$:

4. $\frac{4+^2}{7}$ բաժնէ $5+$ ով : $q \cdot \frac{4+}{35}$:

5. $\frac{++1}{6}$ բաժնէ $\frac{2+}{3}$ ով : $q \cdot \frac{++1}{4+}$:

6. $\frac{+}{+-1}$ բաժնէ $\frac{+}{2}$ ով : $q \cdot \frac{2}{+-1}$:

$$7. \quad \frac{5t}{3} \text{ բաժնէ } \frac{2m}{3f} \text{ ուլ :} \quad \eta . \frac{5ft}{2m} :$$

$$8. \quad \frac{t-f}{8ft} \text{ բաժնէ } \frac{3t+}{4t} \text{ ուլ :} \quad \eta . \frac{t-f}{6t^2+} :$$

$$9. \quad \frac{t^4 - ft^4}{t^2 - 2ft + f^2} \text{ բաժնէ } \frac{t^2 + ft}{t-f} :$$

$$\eta . t + \frac{f^2}{t} :$$

$$10. \quad 6m^2 + \frac{f}{5} \text{ բաժնէ } t^2 - \frac{t-m}{2} \text{ ուլ :}$$

$$\eta . \frac{60m^2 + 2f}{10t^2 - 5t + 5m} :$$

$$11. \quad 18t^2 - t + \frac{m}{f} \text{ բաժնէ } m^2 - \frac{f}{5} \text{ ուլ :}$$

$$\eta . \frac{90ft^2 - 5ft + 5m}{5m^2f - f^2} :$$

$$12. \quad 20t^2 - \frac{8mf}{rt^3} \text{ բաժնէ } t^2 - \frac{f-t}{t} \text{ ուլ :}$$

$$\eta . \frac{20rt^3 + t^2 - 8mf}{rt^3 + t^2 - rt^3f - rt^4} :$$



ԳԼՈՒԽ Գ.



ՀԱՒԱՍԱՐՈՒԹԻՒՆՔ ԱՌԱՋԻՆ ԱՍՏԻՃԱՆԻ

58. Հաւասարութիւնն է՝ երկու հաւասար քանակութեանց մէջտեղը հաւասարութեան նշանով ալճէպրայական ձեւ մը . ինչպէս՝ $+ = + + \times$ հաւասարութիւն մըն է , որուն մէջ $+ = + + \times$ ու թի գումարին :

59. Այս սահմանէն կ'իմանանք թէ ամէն հաւասարութիւն երկու մասերէ կը բաղկանայ , որոնք իրարու հետ կը կապուին $=$ նշանով : Նշանին ձախ կողմի մասը կ'ըսուի առաջին անդամ . եւ աջ կողմինը՝ երկրորդ անդամ : Իւրաքանչիւր անդամ կրնայ մէկ կամ աւելի եղբերէ բաղկանայ : Ինչպէս՝ $+ = + + \times$ հաւասարութեան մէջ $+ = + + \times$ անդամն է , եւ $+ + \times$ երկրորդ :

60. Ամէն հաւասարութիւն կրնանք համարիլ խնդրոյ մը ալճէպրայական արտայայտութիւնը : Ինչպէս՝ $+ + + = 30$ հաւասարութիւնը՝ հետեւեալ խընդրոյն ալճէպրայական արտայայտութիւնն է .

58. Ի՞նչ է հաւասարութիւնը :

59. Հաւասարութիւն մը քանի՞ մասերէ կը բաղկանայ : Այս մասերն ի՞նչպէս կը կապուին : Ձախ կողմի մասն ի՞նչ կ'ըսուի : Աջ կողմինն ի՞նչ : Իւրաքանչիւր անդամ մէկ կամ աւելի եղբերէ կրնայ բաղկանայ :

60. Ամէն հաւասարութիւն ի՞նչպէս կրնա նկատուի : $+ + + = 30$ հաւասարութիւնը ո՞ր խնդրոյն արտայայտութիւնն է : Ալճ

Թիւ ճը գործել՝ որ իրեն հետ գումարուելով, հաստատար
կ'ըլլայ 30 է :

Այս խնդիրը լուծելու համար՝ նախ ալճէպրայա-
կան լեզուով կ'արտայայտենք, եւ կ'ուենենանք հե-
տեւեալ հաւասարութիւնը,

$$+ + + = 30 :$$

Գումարելով + իրեն հետ՝ կ'ուենենանք

$$2+ = 30 .$$

եւ 2 ուլ բաժնելով՝ կ'ուենենանք

$$+ = 15 :$$

Ուստի՝ կը տեսնենք թէ ալճէպրայի մէջ խնդրոյ
մը լուծումը՝ երկու որոշ մասերէ կը բաղկանայ .
որք են՝ խնդրոյն ԱՐՏԱՅԱՅՏՈՒԹԻՒՆԸ, եւ հաւաս-
արութեան ԼՈՒԾՈՒՄԸ :

Ա. ԱՐՏԱՅԱՅՏՈՒԹԻՒՆԸ կը հայանայ ծանօթ եւ պա-
հանջեալ համ ձանօթ +անահո-թեանց մէջտեղի յարա-
բերութիւնն ալճէպրայատեալ բացատրելու մէջ :

Բ. Հաստատարութեան ԼՈՒԾՈՒՄԸ՝ պահանջեալ համ
անծանօթ +անահո-թեանց արժեքները գործելն է :

Խնդրոյ մը տրուած կամ ծանօթ մասերը կը ցու-
ցրենք թուանշաններով կամ այբուբենին առաջին
գրերովն . այսինքն՝ ա, Բ, Գ, եւ այլն, բաց'ի է եւ
չ գրերէն : Պահանջեալ կամ անծանօթ մասերը կը
ցուցրենք +, է, շ եւ այլն գրերով :

ՕՐԻՆԱԿ

Գաիր թիւ մը՝ որ իր կրկինին հետ գումարուելով,
հաւասար կ'ըլլայ 24 է :

Ճէպրայի մէջ խնդրոյ մը լուծումը քանի՞ մասերէ կը բաղկանայ :
Յիշէ զանոնք : Ինչէ՞ կը բաղկանայ առաջին մասը : Երկրորդը :
Խնդրոյ մը ծանօթ մասերն ինչո՞վ կը ցուցրենք : Անծանօթ
մասերն՝ ինչո՞վ :

Արտայայտութիւն :

Թող + ցուցրնէ այն թիւը . ան ատեն պիտի ունենանք $+ + 2+ = 24$.

աս է արտայայտութիւնը :

Լուծում :

Ունենալով $+ + 2+ = 24$,
 կը դումարենք $+ + 2+$,
 որ կ'ըլլայ $3+ = 24$,
 եւ 3 ով բաժնելով $+ = 8$:

61. Անծանօթ քանակութեան դանուած արժէքը ստուգում է կ'ըսուի , երբ այն դանուած արժէքը տրուած հաւասարութեան մէջի անծանօթին տեղը դրուելով՝ երկու անդամներն իրարու հաւասար կու գան :

Ինչպէս՝ վերջին հաւասարութեան մէջ դտանք $+ = 8$: Եթէ + ի այս արժէքն այն հաւասարութեան մէջ դնենք , պիտի ունենանք

$$8 + 2 \times 8 = 8 + 16 = 24 .$$

որ կը ցուցրնէ թէ 8 է ճշմարիտ պատասխանը :

62. Հաւասարութիւն մը՝ որ անծանօթ քանակութեան մը առաջին կարողութիւնը միայն կը պարունակէ , կ'ըսուի առաջին աստիճանի հաւասարութիւն :

ինչպէս՝ $6+ + 3+ - 5 = 13$
 եւ $++ + 3+ + 4 = 7$

առաջին աստիճանի հաւասարութիւններ են :

Հաւասարութեան մը բնութիւնը մտածելով՝ կը տեսնենք թէ հաւասարութիւն մը հետեւեալ երեք յատկութիւններն ունենալու է :

61. Հաւասարութիւնը երբ ստուգում է կ'ըսուի :
 62. Երբ հաւասարութիւն մը անծանօթ քանակութեան մը առաջին կարողութիւնը միայն կը պարունակէ , ի՞նչ կ'ըսուի : Ի՞նչ են ամէն հաւասարութեան երեք էական յատկութիւնները :

Ա. Երկու անդամները նոյն տեսակ քանակութիւններէ բաղկանալու են . այսինքն՝ թալէր = թալէր , լիար = լիար :

Բ. Երկու անդամներն իրարու հաւասար ըլլալու են :

Գ. Երկու անդամները նման նշաններ ունենալու են :

63. Ինքնայայտ ճշմարտութիւն մը առաջ կ'ըսուի : Հոս կրնանք դնել հետեւեալները :

1. Եթէ հաստատարութեան ճշ էրկոտ անդամներու մէջ զրոյ հաստատար + անսահմանութեանէր աւելցուին , անդամաց հաստատարութեանը շատրուի :

2. Եթէ հաստատարութեան ճշ էրկոտ անդամներէն հաստատար + անսահմանութեանէր հանուին , հաստատարութեանը շատրուի :

3. Եթէ հաստատարութեան ճշ էրկոտ անդամները մեծոյն թանձր թաղմանցի են , հաստատարութեանը շատրուի :

4. Եթէ հաստատարութեան ճշ էրկոտ անդամները մեծոյն թանձր են , հաստատարութեանը շատրուի :

ԱՅԼԱԶԵՒՈՒԹԻՒՆ ՀԱՒԱՍՏԱՐՈՒԹԵԱՆՑ

64. Հաւասարութեան մը այլաձևութեան է ահոր ձեւը փոխել առանց աւելլու անդամոց հաւասարութիւնը :

Հետեւեալ այլաձևութիւնները շարունակ կը գործածուին հաւասարութեանց լուծմանը մէջ :

ՅՅԼԱԶԵՒՈՒԹԻՒՆ ԱՌԱՋԻՆ

65. Երբ հաւասարութեան մը կողերէն ոմանք կտտորակ են , նոյն հաւասարութիւնն ամբողջ կողեր ունեցող հաւասարութեան մը վերածել :

65. Ի՞նչ է տուածը : Յիշէ վերի չորս առածները :
64. Ի՞նչ է հաւասարութեան մը այլաձևութիւնը :
65. Ի՞նչ է տուածին այլաձևութիւնը : Ի՞նչ է թուոց ամենափոքր ընդհանուր բազմապատկիչը : Ի՞նչպէս կը գտնուի ամենափոքր ընդհանուր բազմապատկիչը :

1. Առ հետեւեալ հաւասարութիւնը

$$\frac{2+}{3} - \frac{3+}{4} + \frac{+}{6} = 11 :$$

Նախ վերածէ բոլոր կոտորակները միեւնոյն յայտարարի, ան առեն հաւասարութիւնը կ'ըլլայ,

$$\frac{48+}{72} - \frac{54+}{72} + \frac{12+}{72} = 11 .$$

Եւ որովհետեւ երկու անդամներն ալ միեւնոյն թուով կրնանք բազմապատկել՝ առանց հաւասարութիւնն աւելու, ուստի զանոնք 72 ուլ կը բազմապատկենք, որ միեւնոյն բանն է եթէ կոտորակաց եզրերուն մէջի յայտարարը վերջնենք կամ ջնջենք եւ ամբողջ եզրը 72 ուլ բազմապատկենք. ան առեն հաւասարութիւնը կ'ըլլայ

$$48+ - 54+ + 12+ = 792 ,$$

$$\text{կամ } 6 \text{ ուլ բաժնելով՝ } 8+ - 9+ + 2+ = 132 :$$

Քայց առ վերջին հաւասարութիւնն աւելի կարճ կերպով մը կրնանք ստանալ, եթէ յայտարարաց ամենափոքր ընդհանուր բազմապատիկը գանենք :

Այլեւայլ խոսոց աճեափոքր ընդհանուր բազմապատիկն է այն աճեափոքր թիւը, զոր անոնց աճեա թիւը կը բաժնէ առանց մնացորդի :

Երբ թիւերը փոքր են, նայուածքով մը մէկէն կրնայ որոշուիլ : Ամենափոքր ընդհանուր բազմապատիկը գանելու կերպը լիովին ցուցուած է թուաբանութեան մէջ :

$$\frac{2+}{3} - \frac{3+}{4} + \frac{+}{6} = 11 \text{ հաւասարութեան մէջ}$$

կը տեսնենք թէ յայտարարաց ամենափոքր ընդհանուր բազմապատիկը 12 է, եւ եթէ հաւասարութեան բոլոր եզրերը 12 ուլ բազմապատկենք, կ'ունենանք

$$8+ - 9+ + 2+ = 132 .$$

որ նոյն է առջի գանուած հաւասարութեան հետ :

66. Ուստի՝ հաւասարութիւն մը պարզելու կամ յայտարարներն աներեւութացընելու համար հետեւեալ կանոնն ունինք :

ԿԱՆՈՆ

Ա. Գորիք բոլոր յայտարարներուն ածեանօրէնքը ընդհանուր բազմապատիկը :

Բ. Բազմապատիկ հաստատութեան երկու անդամներուն ածեան ձէլ ելրը այն ընդհանուր բազմապատիկով կորորակ ելուղ ելրերը վերածելով ածբողջի :

ՕՐԻՆԱԿՔ

$$1. \text{ Պարզէ } \frac{+}{5} + \frac{+}{7} - 4 = 3 \text{ հաւասարութիւնը :}$$

$$\text{Պ. } 7+ + 5+ - 140 = 105 :$$

$$2. \text{ Պարզէ } \frac{+}{6} + \frac{+}{9} - \frac{+}{27} = 8 \text{ հաւասարութիւնը :}$$

$$\text{Պ. } 9+ + 6+ - 2+ = 432 :$$

$$3. \text{ Պարզէ } \frac{+}{2} + \frac{+}{3} - \frac{+}{9} + \frac{+}{12} = 20 \text{ հաւասարութիւնը :}$$

$$\text{Պ. } 18+ + 12+ - 4+ + 3+ = 720 :$$

$$4. \text{ Պարզէ } \frac{+}{5} + \frac{+}{7} - \frac{+}{2} = 4 \text{ հաւասարութիւնը :}$$

$$\text{Պ. } 14+ + 10+ - 35+ = 280 :$$

$$5. \text{ Պարզէ } \frac{+}{4} - \frac{+}{5} + \frac{+}{6} = 15 \text{ հաւասարութիւնը :}$$

$$\text{Պ. } 15+ - 12+ + 10+ = 900 :$$

$$6. \text{ Պարզէ } \frac{+}{8} - \frac{+}{7} + \frac{+}{6} = 9 \text{ հաւասարութիւնը :}$$

$$\text{Պ. } +7 - 88 + 87 = 879 :$$

66. Կատարակ ունեցող հաւասարութիւն մը պարզելու կանոնն ի՞նչ է :

$$7. \frac{m+}{f} - \frac{2f^2+}{mf} + 4m = \frac{4ff^2+}{m^3} - \frac{5m^3}{f^2} + \frac{2f^2}{m}$$

— Յթ հաւասարութեան մէջ յայտարարաց ամենափոքր ընդհանուր բազմապատիկն է $m^3 f^2$. ուստի՝ յայտարարներն աներեւոյթ ընելով՝ կ'ունենանք $m^4 f + 2m^2 f f^2 + 4m^4 f^2 = 4f^3 f^2 + 5m^6 + 2m^2 f^2 f^2 - 3m^3 f^3$:

ԱՅԼԱԶԵՒՈՒԹԻՒՆ ԵՐԿՐՈՐԳ

67. Երբ հաւասարութեան մը երկու անդամներն ալ բազմեզր են, այնինչ եզրերը մէկ անդամէն միւսին տեղափոխել :

1. Օրինակի աղաղակ՝ առ հետեւեալ հաւասարութիւնը, $5+ - 6 = 8 + 2+$:

Նախ՝ եթէ երկու անդամներէն ալ $2+$ հանենք, հաւասարութիւնը չ'աւրուիր, եւ կ'ունենանք

$$5+ - 6 - 2+ = 8 :$$

Ուստի՝ կը տեսնենք թէ $2+$ եզրը՝ որ երկրորդ անդամին մէջ գումարելի էր, առաջնոյն անցնելով կ'ըլլայ բառնալի :

Երկրորդ՝ եթէ երկու անդամներուն վրայ 6 աւելցնենք, հաւասարութիւնը չ'աւրուիր, եւ կ'ունենանք $5+ - 6 - 2+ + 6 = 8 + 6$.

Կամ՝ որովհետեւ -6 եւ $+6$ իրար կը ջնջեն, կ'ունենանք $5+ - 2+ = 8 + 6$:

Ուստի առաջին անդամին մէջ բառնալի եղած եզրը՝ երկրորդ անդամին կ'անցնի յաւելման նշանով :

2. Առ հետեւեալ հաւասարութիւնը,

$$m+ + f = r - f+$$

67. Ի՞նչ է երկրորդ այլաձեւութիւնը : Եզր մը տեղափոխել ըսելով ի՞նչ կը հասկըցուի : Մէկ անդամէն միւսին տեղափոխելու կանոնն ի՞նչ է :

Եթէ երկու անդամներուն վրայ ալ զ+ աւելցր-
 նենք, եւ ամէն մէկէն թ հանենք՝ հաւասարութիւնը
 կ'ըլլայ $+++- = -+-$.

կամ վերածելով $++ = -$:

Երբ եզր մը հաւասարութեան մէկ անդամէն կ'առ-
 նուի եւ միւսին մէջ կը դրուի, փոխափոխեալ կ'ըսուի:

Ուստի եզրերուն տեղափոխութեանը համար հե-
 տեւեալ կանոնն ունինք:

ԿԱՆՈՆ

Հաւասարութեան ճշ ոք Լ իցէ եզրը կրնայ փոխափոխու-
 անք նշանը + եւ - Լ - եւ + թ փոխելով:

68. Արդ՝ նախընթաց սկզբունքները պիտի
 դործածենք հաւասարութեանց լուծմանը համար:

1. Առ հետեւեալ հաւասարութիւնը,

$$4+ - 3 = 2+ + 5.$$

-3 եւ 2+ եզրերը տեղափոխելով կ'ունենանք

$$4+ - 2+ = 5+ 3.$$

կամ վերածելով $2+ = 8.$

2 ու վրածնելով $+ = \frac{8}{2} = 4:$

Ստուգուինք.

Արդ՝ եթէ + ի տեղ 4 դնենք՝ հետեւեալ հաւա-
 սարութեան մէջ $4+ - 3 = 2+ + 5,$

կ'ունենանք $4 \times 4 - 3 = 2 \times 4 + 5,$

կամ $13 = 13:$

Ուստի՝ + ի արժէքը կը ստուգուի՝ նոյն արժէքը
 արուած հաւասարութեան անձանօթ քանակութեան
 տեղը դնելով:

2. Երկրորդ օրինակ մը առ հետեւեալ հաւասա-
 րութիւնը,

$$\frac{5+}{12} - \frac{4+}{3} - 13 = \frac{7}{8} - \frac{13+}{6}:$$

Յայտարարներն աներեւութացրնելով, կամ պարզելով, կ'ունենանք

$$10+ - 32+ - 312 = 21 - 52+ ,$$

կամ տեղափոխելով՝

$$10+ - 32+ + 52+ = 21 + 312 ,$$

վերածելով՝

$$30+ = 333$$

$$+ = \frac{333}{30} = \frac{111}{10} = 11.1 :$$

Այս արդիւնքը կրնայ ստուգուիլ՝ զանիկայ տրուած հաւասարութեան մէջ + ի տեղը դնելով :

3. Երրորդ օրինակ մը՝ առնենք հետեւեալ հաւասարութիւնը ,

$$(3m - +) (m - ք) + 2m+ = 4ք (+ + m) :$$

Նախ՝ երկու անդամները բազմեզրերու վերածելու համար հարկ է նշանակեալ բազմապատկութիւնը կատարել : Ասիկայ ընել հարկաւոր է որպէս զի անձանօթ + քանակութիւնը ձանօթ քանակութիւններէն զատենք : Ասիկայ ընելով հաւասարութիւնը կ'ըլլայ

$$3m^2 - m+ - 3mք + ք+ + 2m+ = 4ք+ + 4mք ,$$

կամ տեղափոխելով՝

$$-m+ + ք+ + 2m+ - 4ք+ = 4mք + 3mք - 3m^2 .$$

վերածելով՝

$$m+ - 3ք+ = 7mք - 3m^2 .$$

կամ՝ (30դ . 39)

$$(m - 3ք)+ = 7mք - 3m^2 .$$

բաժնելով երկու անդամները m - 3ք ուլ՝ կը գտնենք

$$+ = \frac{7mք - 3m^2}{m - 3ք} :$$

Ուստի՝ առաջին աստիճանի հաւասարութիւն մը լուծելու համար հետեւեալ կանոնն ունինք :

ԿԱՆՈՆ

Ա. Եթէ յայտարարներ կան, վերցուր զանոնք . և ապա կատարել երկու անդամներուն մէջ նշանակեալ արժեքայայտ կան բոլոր գործողութիւնները :

Բ. Յեպոյ անձանօքն + անահո-նի-ան պարանահոզ Բուր Եզրերը քիտարբէ առաջին անգամօն, ու Բուր Զանօքն Եզրերը Երկրորդ անգամօն :

Գ. Անձանօքն + անահո-նի-ան պարանահոզ Բուր Եզրերը զերածէ օրհ Եզրէ Տը. այս Եզրը Երկու + անորդահաններէ պիտի Բազկանայ, որոնց Ռիլ անձանօքն + անահո-նի-անը պիտի ըլլայ, և օրհան անոր Բազկանայի շէրը Երէնց յարուհ Իշաններովը կարուած :

Դ. Հասարակ-նի-ան Երկու անգամները Բաժնէ անձանօքն + անահո-նի-ան Բազկանայի շէրը :

ՕՐԻՆԱԿԻ

1. Պարիր $3+ - 2 + 24 = 31$ Ի մէջ + Ի արժէքը :
Պ. + = 3 :
2. Պարիր $+ + 18 = 3+ - 5$ Ի մէջ + Ի արժէքը :
Պ. + = $11\frac{1}{2}$:
3. Պարիր $6 - 2+ + 10 = 20 - 3+ - 2$ Ի մէջ + Ի արժէքը :
Պ. + = 2 :
4. Պարիր $+ + \frac{1}{2}+ + \frac{1}{3}+ = 11$ Ի մէջ + Ի արժէքը :
Պ. + = 6 :
5. Պարիր $2+ - \frac{1}{2}+ + 1 = 5+ - 2$ Ի մէջ + Ի արժէքը :
Պ. + = $\frac{6}{7}$:
6. Պարիր $3m+ + \frac{m}{2} - 3 = p+ - m$ Ի մէջ + Ի արժէքը :
Պ. + = $\frac{6 - 3m}{6m - 2p}$:
7. Պարիր $\frac{+ - 3}{2} + \frac{+}{3} = 20 - \frac{+ - 19}{2}$ Ի մէջ + Ի արժէքը :
Պ. + = $23\frac{1}{4}$:
8. Պարիր $\frac{+ + 3}{2} + \frac{+}{3} = 4 - \frac{+ - 5}{4}$ Ի մէջ + Ի արժէքը :
Պ. + = $3\frac{6}{13}$:

9. Պատիր $\frac{3m+}{t} - \frac{2p+}{r} - 4 = \frac{1}{t}$ ի մէջ + ի արժէքը:

$$\eta \cdot + = \frac{4rt + 4tr}{3mr - 2pt}$$

10. Պատիր $\frac{8m+ - p}{7} - \frac{3p - t}{2} = 4 - p$ ի մէջ + ի

արժէքը:

$$\eta \cdot + = \frac{56 + 9p - 7t}{16m}$$

11. Պատիր $\frac{+}{m} - \frac{+}{p} + \frac{+}{t} - \frac{+}{r} = \frac{1}{t}$ ի մէջ + ի ար-

ժէքը:

$$\eta \cdot + = \frac{-prt}{prt - mtr + mtr - mpt}$$

Տեղեկանքներ: — Ի՞նչ է + ի թուական արժէքը, եթէ $m = 1, p = 2, t = 3, r = 4$, եւ $\frac{1}{t} = 6$:

12. Պատիր $\frac{+}{7} + \frac{8+}{9} - \frac{+-3}{5} = -12\frac{29}{45}$ ի մէջ

+ ի արժէքը:

$$\eta \cdot + = 14:$$

13. Պատիր $+ - \frac{3+ - 5}{13} + \frac{4+ - 2}{11} = + + 1$ ի մէջ

+ ի արժէքը:

$$\eta \cdot + = 6:$$

14. Պատիր $3+ + \frac{p+ - r}{3} = + + m$ ի մէջ + ի արժէքը:

$$\eta \cdot + = \frac{3m + r}{6 + p}$$

15. Պատիր $\frac{m+ - p}{4} + \frac{m}{3} = \frac{p+}{2} - \frac{p+ - m}{3}$ ի մէջ

+ ի արժէքը:

$$\eta \cdot + = \frac{3p}{3m - 2p}$$

16. Հետեւեալ հաւասարութեան մէջ գտիր + ի արժէքը:

$$\frac{(m+f)(+f)}{m-f} - 3m = \frac{4mf - f^2}{m+f} - 2 + \frac{m^2 - f^2}{f}$$

$$m \cdot f = \frac{m^4 + 3m^3f + 4m^2f^2 - 6mf^3 + 2f^4}{2f(2m^2 + mf - f^2)}$$

Առաջարկութիւն + Առաջին Աստիճանի Հաւասարութեանց որ յիշուցն մէկ անժամօթ + անակութիւնն կը պարտանակեն :

69. Արդէն տեսնուեցաւ (307. 60), թէ ալճէպրայական խնդրոյ մը լուծումը երկու որոշ մասերէ կը բաղկանայ :

Ա. Արտայայտութիւնն ընել . այսինքն՝ առաջարկութեան պայմաններն ալճէպրայապէս արտայայտել կամ ցուցրնել :

Բ. Ելած հաւասարութիւնը լուծել . այսինքն՝ անժամօթ քանակութիւններէն ծանօթը զատել կամ հանել :

Առաջարկութիւնն արտայայտելէն ետքը անժամօթ քանակութեան արժէքը գտնելու կերպն արդէն բացատրեցինք : Հիմա կը մնայ առաջարկութիւնը կամ խնդիրն ալճէպրայի լեզուով արտայայտելու լաւագոյն եղանակները ցուցրնել :

Ալճէպրայական խնդրոյ մը լուծման այս մասը, երկրորդին նման, լաւագոյն սահմանուած կանոնի մը տակ չի կրնար մտնել : Երբեմն առաջարկութեան արտայայտութիւնը հաւասարութիւնն անմիջապէս կը կազմէ . բայց երբեմն հարկաւոր է արտայայտութեանէն յառաջ եկող նոր կէտեր գտնել որոնցմէ կարող ըլլանք հաւասարութիւն մը կազմել :

69. Ալճէպրայի մէջ խնդրոյ մը լուծումը քանի՞ մասերու կը բաժնուի : Ի՞նչ է առաջին քայլը : Ի՞նչ է երկրորդը : Ո՞ր մասը արդէն բացատրուած է : Ո՞ր մասը հիմա պիտի ցուցուի : Այս մասը ճիշտ կանոններու տակ կրնա՞յ մտնել : Ի՞նչ է առաջարկութիւն մը արտայայտելու ընդհանուր կանոնը :

Սակայն եւ այնպէս՝ գրեթէ ամէն պարագայի մէջ արտայայտութիւն կրնանք ընել, այսինքն՝ հաւասարութիւնը կազմել, հետեւեալ կանոնով:

ԿԱՆՈՆ

Անձանօթե + անահո-թի-նը ներկայացուցաւ այբո-թիւնն զեր- ջին գերերէն հիւզ. Ե յետոյ արճեպրայական նշաններով նշանակե ձանօթե և անձանօթե + անահո-թե-անց զրայ այն քորձողո-թի-նները զորոնք՝ անձանօթե + անահո-թե-ան արժեքը հանդիսակեր էր + զայն ստո-գելու համար պիտի նշանա- կէիք:

ԽՆԴԻՐՔ

1. Քաիր թիւ մը որ, վրան 3 աւելցընելով, հա-ւասար կ'ըլլայ 9 ի:

Յուցուր այն թիւը + ուլ. եւ անատեն խնդրոյն պայմաններէն՝

$$+ + 3 = 9:$$

Աս է առաջարկութեան արտայայտութիւնը:

Արդ՝ + ի արժեքը գտնելու համար կը փոխադրենք 3 ը երկրորդ անդամին, եւ կ'ուենանք

$$+ = 9 - 3 = 4:$$

Ստո-գո-թի-ն.

$$4 + 3 = 9:$$

2. Քաիր թիւ մը որուն մէկ երկրորդին, մէկ երրորդին եւ մէկ չորրորդին գումարը, վրան 45 աւ- աւելցընելով, հաւասար կ'ըլլայ 448 ի:

Թող այն թիւը ցուցուի + ուլ.

անատեն մէկ երկրորդը պիտի ցուցուի $\frac{+}{2}$ ուլ,

մէկ երրորդը » » $\frac{+}{3}$ ուլ,

մէկ չորրորդը » » $\frac{+}{4}$ ուլ.

Եւ պայմաններէն՝

$$\frac{x}{2} + \frac{x}{3} + \frac{x}{4} + 45 = 448 :$$

Այս է առաջարկութեան արտայայտութիւնը :

Արդ՝ + ի արժէքը գտնելու համար, երկու անդամներէն ալ 45 հանէ, եւ կ'ուենանք

$$\frac{x}{2} + \frac{x}{3} + \frac{x}{4} = 403 :$$

Հաւասարութեան յայտարարները աներևոյթ ընելուի կ'ուենանք

$$6x + 4x + 3x = 4836 ,$$

$$13x = 4836 :$$

$$x = \frac{4836}{13} = 372 :$$

Ստուգումք .

$$\frac{372}{2} + \frac{372}{3} + \frac{372}{4} + 45 = 186 + 124 + 93 + 45 = 448 :$$

3. Ի՞նչ է այն թիւը որուն մէկ երրորդը իր մէկ չորրորդէն 16 աւելի է :

Թող այն թիւը ներկայացուի + ուլ: Անատեն

$$\frac{x}{3} = \text{երրորդ մասին} ,$$

$$\frac{x}{4} = \text{չորրորդ մասին} ,$$

Եւ խնդրոյն պայմաններէն

$$\frac{x}{3} - \frac{x}{4} = 16 :$$

Աս է արտայայտութիւնը: Արդ՝ + ի արժէքը գտնելու համար՝ հաւասարութեան յայտարարները կ'աներևոյթացընենք,

$$4x - 3x = 192 .$$

$$x = 192 :$$

Սորոգորդիան .

$$\frac{192}{3} - \frac{192}{4} = 64 - 48 = 16 :$$

4. Բաժնէ 1000 թալէր Ա, Բ, Գ ի, այնպէս որ Ա 72 թալէր աւելի առնէ քան զԲ, եւ Գ 100 թալէր աւելի առնէ քան զԱ :

Թող $+ =$ Բ ի բաժնին .
 անատեն $+ + 72 =$ Ա ի բաժնին ,
 եւ $+ + 172 =$ Գ ի բաժնին .
 ասոնց զումարն է $3 + + 244 = 1000$ թալէրի :

Այս է արտայայտութիւնը :

244 տեղափոխելով կ'ունենանք

$$3 + = 1000 - 244 = 756 .$$

եւ $+ = \frac{756}{3} = 252 =$ Բ ի բաժնին :

Ուստի $+ + 72 = 252 + 72 = 324$ թլ. = Ա ի բաժնին :

եւ $+ + 172 = 252 + 172 = 424$ թլ. = Գ ի բաժնին :

Սորոգորդիան .

$$252 + 324 + 424 = 1000 :$$

5. Տակառ մը գինւոյ մէկ երրորդը վաղելէն ետքը՝ 21 կալոն ալ ջրհանով քաշուեցաւ, եւ անատեն գինւոյն տակառը չափուելով տեսնուեցաւ որ տակառին կէսը լեցուն էր . տակառը սրչափ գինի կ'առնէր :

Գիցուք թէ տակառը + կալոն կ'առնէր .

անատեն $\frac{+}{3} =$ զուրս վաղածին ,

եւ $\frac{+}{3} + 21 =$ վաղածին ու քաշուածին :

Ուստի՝ խնդրոյն պայմաններէն $\frac{+}{3} + 21 = \frac{+}{2} :$

Այս է արտայայտութիւնը :

Արդ՝ + դանելու համար՝ կ'ուենենանք

$$2 + + 126 = 3 + ,$$

$$- + = - 126 .$$

Եւ երկու անդամներուն նշանները փոխելով որ անոնց հաւասարութիւնը չ'աւերեր, կ'ուենենանք

$$+ = 126 :$$

Սորաւիցա թիւն .

$$\frac{126}{3} + 21 = 42 + 21 = 63 = \frac{126}{2} :$$

6. Ձուկ մը բռնուեցաւ որուն պոչին ծանրութիւնը 9 լիար էր . գլուխը՝ պոչին ծանրութեանն ու մարմնոյն ծանրութեանը կէսին չափ էր . մարմինն ալ գլխուն ու պոչին ծանրութեանը չափ էր . ինչ էր ձուկին ծանրութիւնը :

Թող $2 + =$ մարմնոյն ծանրութեանը .

անատեն՝ $9 + + =$ գլխուն ծանրութեանը .

Եւ որովհետեւ մարմինը գլխուն եւ պոչին ծանրութեանը չափ էր ,

$$2 + = 9 + 9 + + :$$

Այս է արտայայտութիւնը :

Ուրեմն $2 + - + = 18$ եւ $+ = 18 .$

ուստի կ'ուենենանք

$$2 + = 36 \text{ ւր.} = \text{մարմնոյն ծանրութեանը .}$$

$$9 + + = 27 \text{ ւր.} = \text{գլխուն ծանրութեանը .}$$

$$9 \text{ ւր.} = \text{պոչին ծանրութեանը .}$$

ուստի եւ $72 \text{ ւր.} = \text{ձուկին ծանրութեանը :}$

7. Երկու թուոց գումարն է 67 եւ անոնց տարբերութիւնն է 19 . ինչ են այն երկու թիւերը :

Նիցուք թէ $+ =$ փոքրագունին .

անատեն՝ $+ + 19 =$ մեծագունին .

Եւ խնդրոյն պայմաններէն՝ $2 + + 19 = 67 :$

Այս է արտայայտութիւնը :

Արդ՝ + ի արժէքը գտնելու համար՝ նախ 19 կը տեղափոխենք, եւ կ'ուենենանք

$$2+ = 67 - 19 = 48.$$

ուստի $+ = \frac{48}{2} = 24$, եւ $+ + 19 = 43$:

Ստորագրենք .

$$43 + 24 = 67, \text{ եւ } 43 - 24 = 19 :$$

Ուրիշ Լուծում .

Թող + ցուցրնէ մեծագոյն թիւը .

անատեն $+ - 19$ պիտի ցուցրնէ փոքրագոյն թիւը :

եւ $2+ - 19 = 67,$

ուստի $2+ = 67 + 19 .$

վասնորոյ $+ = \frac{86}{2} = 43,$

եւ հետեւապէս $+ - 19 = 43 - 19 = 24 :$

Հանրահան լուծում .

+ Երկու թուոյ գումարն է ω , եւ անոնց տարբերութիւնն է φ . Ինչ են այն երկու թիւերը :

Թող + ցուցրնէ փոքրագոյն թիւը .

անատեն $+ + \varphi$ պիտի ցուցրնէ մեծագոյն թիւը .

ուստի $2+ + \varphi = \omega$, կամ $2+ = \omega - \varphi .$

վասնորոյ $+ = \frac{\omega - \varphi}{2} = \frac{\omega}{2} - \frac{\varphi}{2} ,$

եւ հետեւապէս $+ + \varphi = \frac{\omega}{2} - \frac{\varphi}{2} + \varphi = \frac{\omega}{2} + \frac{\varphi}{2} .$

Որովհետեւ ω երկու արդիւնքներուն ձեւը՝ ω ու φ դրերուն յատկացեալ արժէքներէն կախեալ չէ, կը հետեւի թէ՛

Երկու թուոյ գումարն ω տարբերութիւնը φ տեսլով՝

Տեճագոյն թիւը կը գործեն՝ արժեքոթեան կէտը գո՛ճա-
րին կէտին վրայ աւելցընելով, և փոքրագոյն թիւը կը գըր-
տեն՝ արժեքոթեան կէտը գո՛ճարին կէտին հանելով :

Ինչպէս, եթէ տրուած գումարը 237 ըլլար, և
տարբերութիւնը 99,

մեծագոյն թիւը կ'ըլլար

$$\frac{237}{2} + \frac{99}{2} \text{ կամ } \frac{237 + 99}{2} = \frac{336}{2} = 168 .$$

և փոքրագոյնը կ'ըլլար

$$\frac{237}{2} - \frac{99}{2}, \text{ կամ } \frac{138}{2} = 69 :$$

Ստուգո՛ւն .

$$168 + 69 = 237 \text{ և } 168 - 69 = 99 :$$

2-3 8. Մարդ մը գործաւոր մը վարձեց 48 օրուան
համար : Ամէն քանած օրը 24 սէնթ կ'առնէր գոր-
ծաւորը, և չքանած օրը 12 սէնթ կը վճարէր իր
կերակուրին համար : Երբ 48 օրը լրանալով՝ հաշիւ
տեսնուեցաւ, 504 սէնթ առաւ : Քանի՞ օր գործեց,
և քանի՞ օր դատարկ անցուց :

Եթէ երկու թիւերը ծանօթ ըլլային, և առաջինը
24 ով ու երկրորդը 12 ով բազմապատկուէր, անոնց
արտադրեալներուն տարբերութիւնը 504 պիտի ըլ-
լար : Արդ՝ այս գործողութիւնները ցուցընենք ալ-
ճէպրայական նշաններու օժանդակութեամբ :

Թող $\quad +$ ցուցընէ քանած օրերուն թիւը,
և $48 - +$ չքանած օրերուն թիւը .

անատեն $24 \times +$ կը ցուցընէ շահածը,

և $12 (48 - +)$ կերակուրին համար վճարածը :

$$\text{Ուստի } 24+ - 12(48 - +) = 504$$

ընդունածը, որ է արտայայտութիւնը :

Ուրեմն + գտնելու համար՝ նախ 12 ուլ կը բազմապատկենք, որ կ'ըլլայ

$$24 + - 576 + 12 + = 504.$$

կամ $36 + = 504 + 576 = 1080,$

և $+ = \frac{1080}{36} = 30$ բանած օրերուն թուոյն .

ուստի $48 - 30 = 18$ չբանած օրերուն թուոյն :

Սորոգործիքն .

Երեսուն օրուան աշխատանքը, օրը

24 աղան սէնթէ, կ'ընէ . . . $30 \times 24 = 720$ սէնթի :

Եւ 18 օրուան կերակուրին

համար տուածը, 12 աղան սէնթէ, կ'ընէ

$18 \times 12 = 216$ սէնթի :

Տարբերութիւնն է ընդունուած գումարը 504 սէնթ :

Հանրական լուծում .

Այս խնդիրը կը հանրանայ՝ բանած եւ պարապ անցուցած օրերուն ամբողջ թիւը * ուլ ցուցնելով :

Ամէն մէկ բանած օրերուն համար ընդունուած գումարը * ուլ :

Ամէն մէկ պարապ անցուցած օրերուն մէջ կերակուրի համար վճարած գումարը * ուլ :

Եւ գործաւորին ընդունուած վարձքը * ուլ :

Արդ առաջուան պէս, բանած օրերուն թիւը ցուցնենք + ուլ . ան առեն պարապ անցուցածը պիտի ցուցուի * — + ուլ . շահածը պիտի ցուցուի * + ուլ . եւ կերակուրի համար վճարած գումարը * (* — +) ուլ . վասնորոյ՝ խնդրոյն արտայայտութիւնը կ'ըլլայ

$$* + - * (* - +) = * :$$

Արդ՝ + ի արժէքը գտնելու համար՝ նախ ք ով բազմապատկելով կ'ուենենանք

$$m + - f = + f + = f .$$

կամ

$$(m + f) + = f + f = .$$

ուստի

$$+ = \frac{f + f}{m + f} = \text{բանած օրերուն թուոյն} .$$

$$\text{հետեւապէս } m - + = m - \frac{f + f}{m + f} = \frac{m + f - f - f}{m + f} .$$

$$\text{կամ } m - + = \frac{m - f}{m + f} = \text{պարապ օրերուն թուոյն} :$$

Գիցուք թէ $m = 48, m = 24, f = 12$ եւ $f = 504 :$

Այս թիւերը + ի այն արժէքը պիտի տան, որ առաջ գտնուեցաւ :

9. Մարդ մը մեռնելու ատեն իր ստացուածքին կէսը թողուց կնոջը . մէյ մէկ վեցերորդ՝ երկու աղջիկներէն ամէն մէկուն, մէկ տասուերկուերորդ՝ ծառայի մը, մնացած 600 թալէրն ալ աղքատաց . ինչ էր ստացուածքին գումարը :

Յուցուր ստացուածքին գումարը + ով .

անատեն $\frac{+}{2}$ կը ցուցնէ կնոջն ընդունածը .

$$\frac{+}{6}$$
 մէկ աղջկան ընդունածը .

եւ $\frac{2+}{6} = \frac{+}{3}$ երկու աղջիկներուն ընդունածը .

նաեւ $\frac{+}{12}$ ծառային ընդունածը .

եւ 600 թալէր՝ աղքատաց արուածը .

եւ խնդրոյն պայմաններէն՝

$$\frac{+}{2} + \frac{+}{3} + \frac{+}{12} + 600 = + \text{ ստացուածքին գումարը ,}$$

եւ $+ = 7200$ թալէրի :

4^o 10. Ա եւ Բ մէկտեղ թուղթ խաղացին . Ա՛ սկսած ատենն ունէր 84 թալէր եւ Բ 48 թալէր : Երկուքն ալ փոփոխակի կորսնցրնելէն ու շահելէն ետքը՝ տեսնուեցաւ որ Ա՛ Բ ի ունեցածին հինգ անգամն ունէր . Ա որչափ շահեցաւ :

Թող + ցուցրնէ Ա ի շահածը .

անատենն Ա 84 + + թալէր ունէր խաղին վերջը .

Եւ Բ 48 — + թալէր .

Եւ խնդրոյն պայմաններէն կ'ուենեանք

$$84 + + = 5(48 - +) .$$

ուստի $84 + + = 240 - 5+$.

Եւ $6+ = 156$.

հետեւապէս $+ = 26$ թալէրի, Ա ի շահածին :

Արտադրութիւն .

$$84 + 26 = 110 . 48 - 26 = 22 .$$

$$110 = 5(22) = 110 :$$

5^o 11. Ա մինակ աշխատելով գործ մը 10 օրը կը կատարէ, Բ՛ 13 օրը . եթէ երկուքը մէկտեղ գործեն, քանի օրը կրնան կատարել :

Գիր ժամանակին տեղ +, եւ գործին տեղ 1 .

անատենն Ա 1 օրը գործին $\frac{1}{10}$ ը կրնայ ընել ,

Եւ Բ » » $\frac{1}{13}$ ը .

Եւ Ա + օրը գործին $\frac{+}{10}$ ը կրնայ ընել ,

Եւ Բ՛ » գործին $\frac{+}{13}$ ը .

ուստի խնդրոյն պայմաններէն

$$\frac{+}{10} + \frac{+}{13} = 1, \text{ կամ } 13+ + 10+ = 130 .$$

ուստի $23+ = 130, + = \frac{130}{23} = 5 \frac{15}{23}$ օրուան :

12. Աղուէս մը որսորդ շունէ մը հալածուած առանք 60 քայլ իր քայլովը հեռու էր անկէ : Քանի որ շունը վեց քայլ կ'առնէր աղուէսը 9 քայլ կ'առնէր, քայց շունին 3 քայլն աղուէսին 7 քայլերուն հաւասար էր : Շունը քանի քայլ առնելու էր որ աղուէսին հասնէր :

Յայտնի է թէ շունը երթալու էր աղուէսին երթալու ճամբան, եւ նաեւ անոր 60 քայլ հեռու եղած միջոցը : Արդ՝ եթէ այս երկու հեռաւորութիւններուն ալճէպրայական ձեւերը կրնանք գտնել, խնդիրն արտայայտելը դիւրին պիտի ըլլայ :

Թող + ցուցնէ աղուէսին հասնելու համար շունին առնելու քայլերուն թիւը :

Արդ՝ որովհետեւ շունը 6 քայլ առած առնէ աղուէսը 9 քայլ կ'առնէ, ուստի քանի որ շունը 1 քայլ կ'առնէ՝ աղուէսը պիտի առնէ $\frac{9}{6}$ կամ $\frac{3}{2}$ քայլ. եւ վասնորոյ՝ քանի որ շունը + քայլ կ'առնէ՝ աղուէսը պիտի առնէ $\frac{3+}{2}$ քայլ :

Ուստի շունին երթալու ճամբուն հեռաւորութիւնը պիտի ցուցուի աղուէսին $60 + \frac{3+}{2}$ քայլերովը :

Արդ՝ ըստ խնդրոյն, շունին 3 քայլը աղուէսին 7 քայլերուն հաւասար է. ուրեմն շունին 1 քայլը հաւասար է աղուէսին $\frac{7}{3}$ քայլերուն. եւ հետեւապէս՝ շունին + քայլերը հաւասար են աղուէսին $\frac{7+}{3}$ քայլերուն :

Ուստի կ'ունենանք հետեւեալ հաւասարութիւնը,

$$\frac{7+}{3} = 60 + \frac{3+}{2} :$$

Յայտարարներն աներեւութացնելով՝

$$14+ = 360 + 9+ .$$

կամ

$$5+ = 360, \text{ եւ } + = 72 .$$

Վասնորոյ շուեր աղուէսին հասնելու համար 72 քայլ պիտի առնէ, եւ նոյն ատեն աղուէսը պիտի առնէ

$$72 \times \frac{3}{2} \text{ կամ } 108 \text{ քայլ :}$$

Ստորագրեալն .

Շունին 72 քայլերը հաւասար են աղուէսին

$$\frac{72 \times 7}{3} = 168 \text{ քայլերուն ,}$$

եւ $60 + 108 = 168 ,$

աղուէսին 'ի սկզբանէ առած քայլերուն :

24 13. Հայր մը 2520 թալէրի ստացուածք մը թողուց իր չորս որդւոցը . Գ առաւ 360 թալէր , Բ՝ Գ ի եւ Դ ի առածին չափ, եւ Ա՝ Բ ի առածին կրկինէն 1000 թալէր պակաս : Ա, Բ, եւ Դ որչափ առին :

Պ . Ա . 760 Բւլր . , Բ . 880 Բւլր . , Դ . 520 Բւլր . :

25 14. 7500 թալէրի ստացուածք մը պիտի բաժնուի կնոջ մը, երկու տղոցը, եւ երեք աղջիկներուն, այնպէս որ իւրաքանչիւր տղայ՝ իւրաքանչիւր աղջկան կրկնապատիկն առնէ, եւ կինը՝ բոլոր զաւկրներէն 500 թալէր աւելի : Կնոջն ու իւրաքանչիւր զաւկին բաժինն ինչ պիտի ըլլայ :

Պ . $\left\{ \begin{array}{l} \text{Կնոջ բաժինը} \quad 4000 \text{ Բւլր . :} \\ \text{Իւրաքանչիւր տղուն} \quad 1000 \text{ Բւլր . :} \\ \text{Իւրաքանչիւր աղջկան} \quad 500 \text{ Բւլր . :} \end{array} \right.$

26 15. 180 անձինքներէ բաղկացեալ ընկերութեան մը անդամներն էին, արք, կանայք եւ տղայք : Արք կանանցմէ 8 աւելի էին, եւ տղայք՝ այրերէն ու կանանցմէ 20 աւելի . իւրաքանչիւր տեսակէն քանի անձինք կային ընկերութեան մէջ :

Պ . 44 այր , 36 կին , 100 տղայ :

27 16. Հայր մը 2000 թալէր բաժնեց իր հինգ որդւոցն, այնպէս որ իւրաքանչիւր որդի իրմէ կրտսեր եղբորմէն 40 թալէր աւելի առաւ : Ամենէն փոքրին բաժինն ինչ էր :

Պ . 320 Բւլր . :

28. 17. Քաակի մը մէջ 2850 թալէր կայ եւ պիտի բաժնուի երեք մարդոց : Ա ի բաժինը Բ ի բաժնին հետ այն համեմատութիւնը պիտի ունենայ , ինչ համեմատութիւն որ 6ը 11 ի հետ ունի . եւ Գ՝ Ա էն ու Բ էն 300 թալէր աւելի պիտի առնէ . իւրաքանչիւր ի՞նչ բաժին պիտի առնէ :

Պ . Ա . 450 Բ . 825 Գ . 1575 Բ . Է . :

29. 18. Երկու հետեւակներ միեւնոյն տեղէն ճամբայ ելան . առաջնոյն ըրած քայլը երկրորդին ըրած քայլին կրկինն էր . բայց քանի որ առաջինը մէկ քայլ կ'առնէր՝ երկրորդը 3 քայլ կ'առնէր . ժամանակէ մը ետքը տեսան որ իրարմէ 300 ոտք հեռի էին : Արդ՝ ամէն մէկ մեծ քայլերը 3 ոտք համարելով՝ ամէն մէկը քանի ոտք դացած էր :

Պ . Առաջինը 200 ոտք . երկրորդը 300 ոտք :

30. 19. Երկու հիւսն , 24 մեքենագործ եւ 8 աշակերտ , որոշեալ ժամանակէ մը ետքը 144 թալէր ընդունեցին : Հիւսնեք ~~որ~~ օրը թալէր մը կ'առնէին , իւրաքանչիւր մեքենագործ՝ կէս թալէր , եւ իւրաքանչիւր աշակերտ՝ մէկ քառորդ թալէր : Քանի օր աշխատեցան :

Պ . 9 օր :

31. 20. Ղաշխատու մը 2940 թալէրի տարեկան եկամուտ մը ունի . անոր ստակին չորս հինգերորդը հարիւրին չորս շահ կը բերէ , եւ մնացածը հարիւրին 5 : Գրամագլուխն սրչափ է :

Պ . 70,000 Բ . Է . :

32. 21. 60 տակառ ջուր պարունակող աւազան մը՝ երեք տարբեր ծորակ ունի . առաջին ծորակը մէկ ժամէն կը պարպէ աւազանը , երկրորդը՝ երկու ժամէն , եւ երրորդը՝ երեք ժամէն : Եթէ երեքը մեկտեղ վազեն , սրբան ժամանակէն կը պարպեն :

Պ . $32 \frac{8}{11}$ րոպէէ :

33. 22. Պարտէզի մը ծառերուն կէսը խնձորի ծառ է , մէկ չորրորդը դեղձի , եւ մէկ վեցերորդը սալորի , նաեւ 120 կեռասի , 80 ալ տանձի ծառ կայ : Պարտէզին մէջ քանի ծառ կայ :

Պ . 2400 :

34 23. Երկրագործ մը իր ոչխարները հինգ արօտներու մէջ պահեց . առաջնոյն մէջ՝ ոչխարներուն $\frac{1}{4}$ ը , երկրորդին մէջ՝ $\frac{1}{6}$ ը , երրորդին մէջ՝ $\frac{1}{8}$ ը , չորրորդին մէջ՝ $\frac{1}{12}$ ը , հինգերորդին մէջ ալ 450 հատ : Քանի ոչխար ունէր : Պ . 1200 :

35 24. Ձի մը եւ թամբ մը ունիմ որ 132 թալէր կ'արժեն . ձիուն գինը թամբին գնոյն տասն անգամն է . ինչ է ձիուն գինը : Պ . 120 :

36 25. Ի՞նչ է այն թիւը՝ որմէ եթէ 3 հանուի , մնացածին $\frac{2}{3}$ ը 40 է : Պ . 63 :

37 26. Վալուածքի մը վարձքն այս տարի անցեալ տարուրնէն 8 հարիւրերորդ աւելի է : Այս տարի 1890 թալէր է . անցեալ տարուանը սրչափ էր : Պ . 1750 թւր . :

38 27. Ղճի մը մէջ գաւազան մը կանգնուած է , որուն $\frac{1}{4}$ ը աղմին մէջ է , $\frac{1}{3}$ ը ջուրին մէջ , 10 ոտք ալ ջուրէն դուրս . ինչ է գաւազանին ամբողջ երկայնութիւնը : Պ . 24 ոտք :

39 28. Ստակիս $\frac{1}{4}$ ը եւ $\frac{1}{3}$ ը պարտքիս տալէս ետքը՝ քսակիս մէջ 66 դուրուշ մնաց . առաջ քանի դուրուշ ունէի քսակիս մէջ : Պ . 120 :

40 29. Մարդուն մէկը շատ մը աղքատներու պատահելով՝ կ'ուզէր ամէն մէկուն 3 ական բէննի տալ . բայց քսակը նայելով՝ տեսաւ որ 8 բէննի պիտի պակսի . ուստի իւրաքանչիւրին 2 ական բէննի տուաւ եւ մնաց 3 բէննի . աղքատները քանի էին : Պ . 11 :

44 30. Մարդ մը խաղի մէջ իր ստակին $\frac{1}{4}$ ը կորսնցուց , եւ յետոյ 3 շիլին շահեցաւ . ետքը քովը մնացածին $\frac{1}{3}$ ն ալ կորսնցուց . եւ ան ատեն տեսաւ որ քովը 12 շիլին մնաց : Առաջ սրչափ ունէր : Պ . 20 շիլ . :

48

31. Երկու հոգի վաճառականութեան սկսան հաւաասար դրամագլխով . Ա. շահեցաւ 126 թալէր , Բ կորսնցուց 87 թալէր . եւ հիմա Ա. ի ստակը՝ Բ ի ստակին կրկնապատիկն է . ամէն մէկը սրչափ ստակով սկսաւ :

Պ . 300 թւր :

49

32. Մարդ մը գրպանին մէջ դուժար մը ստակ դնելով պանդոկ մը կ'երթայ , եւ հոն 2 շիլին ծախք կ'ընէ . ան ատեն քովը մնացած ստակին չափ փոխ կ'առնէ , եւ ուրիշ պանդոկ մը երթալով՝ 2 շիլին ալ հոն ծախք կ'ընէ . նորէն քովը մնացածին չափ փոխ կ'առնէ , եւ դարձեալ ուրիշ պանդոկ մը երթալով՝ 2 շիլին ալ հոն ծախք կ'ընէ . ու դարձեալ մնացածին չափ փոխ կ'առնէ , նաեւ ուրիշ պանդոկ մը երթալով՝ 2 շիլին ալ հոն ծախք կ'ընէ , եւ կը տեսնէ որ քովը բան չմնաց : Առաջ սրչափ ստակ ունէր քովը :

Պ . 3 շիլ . 9 բն :

Երկուս կամ ասելի անժանօթ քանակութեանս պարտանակող
 Առաջին Սարիճանի հասասարութեանս :

70. Յայտնի է թէ արդէն քննուած խնդիրներէն ոմանք՝ ըստ երեւութին մէկէն աւելի անժանօթ քանակութիւն կը պարունակէին . սակայն եւ այնպէս կարողացանք դանոնք լուծել միայն մէկ անժանօթ քանակութեան օժանդակութեամբ : Այն օրինակներուն մէջ՝ խնդրոյն պահանջեալ մասերն այնպէս կապակցեալ էին՝ որ անոնց մէջտեղի յարաբերութիւնները կարողացանք ցուցնել միայն մէկ հաւասարութեան միջոցաւ : Հիմա կու գանք այն խնդիրներուն՝ դորոնք լուծելու համար մէկէն աւելի անժանօթ քանակութիւն կը դործածենք :

Նախ քննենք այն խնդիրներէն ոմանք՝ դորոնք արդէն միայն մէկ անժանօթ քանակութեան օժանդակութեամբ լուծած ենք :

1. Չափը երկու թիւ որոնց գումարը 36 է, եւ տարբերութիւնը՝ 12:

Թող $+$ \equiv մեծ թուոյն, եւ $-$ \equiv փոքր թուոյն .
 անատեն առաջին պայմանէն . . . $++ = 36$,
 եւ երկրորդէն $+ - = 12$:

Գումարելով (Յօդ. 63, Առած 1) . . . $2+ = 48$:

Հանելով (Յօդ. 63, Առած 2) . . . $2- = 24$:

Այս հաւասարութեանց ամէն մէկը միայն մէկ անձանօթ քանակութիւն կը պարունակէ :

Առաջինէն կ'ուենենանք . . . $+$ $\equiv \frac{48}{2} = 24$.

եւ երկրորդէն՝ $-$ $\equiv \frac{24}{2} = 12$:

Սորոգումներ .

$++ = 36$ կ'ըլլայ $24 + 12 = 36$,

$+ - = 12$ » $24 - 12 = 12$:

Հանրահան Լոծում :

Թող $+$ \equiv մեծագոյն թուոյն, եւ $-$ \equiv փոքրագոյն թուոյն .

անատեն պայմաններէն $++ = \infty$,
 եւ $+ - = \infty$:

Յաւելմամբ (Յօդ. 63, Առած 1), . . . $2+ = \infty + \infty$:

Հանմամբ (Յօդ. 63, Առած 2), . . . $2- = \infty - \infty$:

Այս հաւասարութեանց իւրաքանչիւրը միայն մէկ անձանօթ քանակութիւն կը պարունակէ :

Առաջինէն կ'ուենենանք . . . $+$ $\equiv \frac{\infty + \infty}{2}$.

եւ երկրորդէն՝ $-$ $\equiv \frac{\infty - \infty}{2}$:

Սորո-գոր-բի-ն .

$$\frac{m+p}{2} + \frac{m-p}{2} = \frac{2m}{2} = m,$$

$$\text{և} \frac{m+p}{2} - \frac{m-p}{2} = \frac{2p}{2} = p:$$

Ուրիշ օրինակ մը առնենք, արդէն լուծուած խնդիր մը :

2. Մարդ մը գործաւոր մը վարձեց 48 օրուան համար : Ամէն քանա՞ծ օրը 24 սէնթ կ'առնէր գործաւորը, եւ չքանա՞ծ օրը 12 սէնթ կը վճարէր իր կերակուրին համար : Երբ 48 օրը լրանալով հաշիւ տեսնուեցաւ, 504 սէնթ առաւ : Քանի՞ օր գործեց, եւ քանի՞ օր դատարկ անցուց :

Թող $+$ = քանա՞ծ օրերուն թուոյն,

և $է$ = չքանա՞ծ օրերուն թուոյն .

ան առեն $24+$ = շահածին,

և $12է$ = կերակուրին համար վճարածին .

և խնդրոյն պայճաններէն կուենենանք

$$+ + է = 48,$$

$$24+ - 12է = 504 :$$

Այս է խնդրոյն արտայայտութիւնը :

Արդէն ցուցուցինք (30դ . 63, Առած 3) թէ հաւասարութեան մը երկու անդամները կրնան միեւնոյն թուով բազմապատկուիլ՝ առանց հաւասարութիւնն աւրելու : Ուրեմն առաջին հաւասարութիւնը բազմապատկենք 24 ու . այսինքն՝ երկրորդ հաւասարութեան մէջ ի + ին համարտադրչովը . ան առեն պիտի ուենենանք

$$24+ + 24է = 1152,$$

$$24+ - 12է = 504,$$

և հանմամբ $36է = 648,$

և $է = \frac{648}{36} = 18 :$

Հաւասարութեան մէջ է ին տեղ անոր արժէքը
դնելով՝ կ'ուենենանք $24 + - 12 = 504$,

կամ $24 + - 216 = 504$.

Եւ տեղափոխելով՝ կ'ուենենանք

$$24 + = 504 + 216 = 720, \text{ եւ } + = \frac{720}{24} = 30 :$$

Ստորագրուիւն .

$$+ + = 48, \text{ կու տայ } 30 + 18 = 48 :$$

$$24 + - 12 = 504 \text{ կու տայ } 24 \times 30 - 12 \times 18 = 504 :$$

ՏԱՐԱԳՐՈՒԹԻՒՆ

71. Երկու կամ աւելի անձանօթ քանակութիւն պարունակող երկու կամ աւելի հաւասարութիւններ միացրնելու, եւ անոնցմէ միայն մէկ անձանօթ քանակութիւն պարունակող հաւասարութիւն հանելու գործողութիւնը՝ կ'ըսուի տարագրուիւն :

Տարագրութիւնը երեք գլխաւոր կերպով կ'ըլլայ .

ա . Յաւելմամբ եւ հանմամբ :

բ . Փոխանակութեամբ :

գ . Բազմատութեամբ :

Այս երեք կերպերը զատ զատ պիտի քննենք :

Տարագրուիւն Յաւելմամբ և Հանմամբ :

1. Առ հետեւեալ երկու հաւասարութիւնները ,

$$3 + - 2 = 7,$$

$$8 + + 2 = 48 :$$

71. Ի՞նչ է տարագրութիւնը : Տարագրութիւնը քանի՞ կերպով կ'ըլլայ : Յաւելմամբ և հանմամբ եղած տարագրութեան կանոնն ի՞նչ է : Ի՞նչ է աւազին քայլը : Ի՞նչ է երկրորդը : Ի՞նչ է երրորդը :

Եթէ այս երկու հաւասարութիւնները դումարենք՝
անդամ անդամի հետ, կ'ուենենանք

$$11 + = 55,$$

եւ 11 ով բաժնելով՝

$$+ = 5.$$

եւ այս արժէքը արուած հաւասարութեանց մէկուս
կամ միւսին մէջ փոխանակելով՝ կը դանենք

$$t = 4:$$

2. Առ հետեւեալ հաւասարութիւններն ալ,

$$8 + + 2t = 48,$$

$$3 + + 2t = 23:$$

Եթէ երկրորդ հաւասարութիւնն առաջինէն հա-
նենք, կ'ուենենանք $5 + = 25,$

եւ 5 ով բաժնելով՝

$$+ = 5.$$

եւ այս արժէքը փոխանակելով՝ կը դանենք

$$t = 4:$$

3. Չարձեալ առ հետեւեալ երկու հաւասարու-
թիւնները,

$$5 + + 7t = 43,$$

$$11 + + 9t = 69:$$

Եթէ այս հաւասարութեանց մէջի անձանօթ քա-
նակութիւններէն մէկը՝ միեւնոյն համարաադրիչն
ուեննար, կրնայինք, սոսկ հանմամբ, միայն մէկ
անձանօթ քանակութիւն պարունակող նոր հաւասա-
րութիւն մը կազմել:

Արդ՝ եթէ առաջին հաւասարութեան երկու ան-
դամներն ալ՝ երկրորդին մէջի և ին համարաադրի-
չովը, այսինքն 9 ով բազմապատկուին, եւ երկրոր-
դին երկու անդամներն՝ առաջնոյն մէջի և ին հա-
մարաադրիչովը, այսինքն 7 ով բազմապատկուին,
անատեն պիտի ուենենանք

$$45 + + 63t = 387,$$

$$77 + + 63t = 483:$$

Ուստի հանելով առաջին հաւասարութիւնը երկրորդէն, կ'ուենենանք

$$32+ = 96, \text{ ուստի } + = 3:$$

Գարձեալ՝ եթէ առաջին հաւասարութեան երկու անդամներն ալ երկրորդին մէջի + ի համարտադրիչովը, այսինքն 11 ուլ բազմապատկենք, եւ երկրորդին երկու անդամներն ալ առաջնոյն մէջի + ի համարտադրիչովը, այսինքն 3 ուլ բազմապատկենք, ան առեն հետեւեալ երկու հաւասարութիւնները պիտի կազմենք,

$$55+ + 77+ = 473,$$

$$55+ + 45+ = 345:$$

Ապա՝ հանելով երկրորդ հաւասարութիւնն առաջինէն, կ'ուենենանք

$$32+ = 128, \text{ ուստի } + = 4:$$

Ուրեմն $+ = 3$ եւ $+ = 4$ + ի եւ $+ = 4$ + ի արժէքներն են:

Սորոհումներ .

$$5+ + 7+ = 43 \quad \text{կ'ըլլայ} \quad 5 \times 3 + 7 \times 4 = 15 + 28 = 43.$$

$$11+ + 9+ = 69 \quad \gg \quad 11 \times 3 + 9 \times 4 = 33 + 36 = 69:$$

Այս բացատրուած տարադրութիւնը՝ կ'ըսուի Տարահրոհումներ յատկապէս եւ համեմատք:

Այս կերպ տարադրութեան համար հետեւեալ կանոնն ունինք:

ԿԱՆՈՆ

Ա. Տե՛ս թէ անժամօթ + անահոհումներն ա՛րք պիտի որարահրեալ:

Բ. Այս անժամօթ + անահոհումներն համարորոշելը երկու հաստատարութեանց մէջ ալ հաստատարոյնը, բացառապէս կ'ուենանք համեմատք:

Գ. Եթէ նման եզրերուն նշանները երկու հաստատարութեանց մէջ ալ նոյն են, այն հաստատարութեանց մէջ մասին համեմատք. Բայց եթէ որոշելի են, հաստատարութեանները համարել:

4. Չափր + ի եւ է ի արժէքները հետեւեալ հաւասարութեանց մէջ ,

$$3+ - է = 3 ,$$

$$է + 2+ = 7 :$$

$$\text{Պ. } + = 2 , է = 3 :$$

5. Չափր + ի եւ է ի արժէքները հետեւեալ հաւասարութեանց մէջ ,

$$4+ - 7է = -22 ,$$

$$5+ + 2է = 37 :$$

$$\text{Պ. } + = 5 , է = 6 :$$

6. Չափր + ի եւ է ի արժէքները հետեւեալ հաւասարութեանց մէջ ,

$$2+ + 6է = 42 ,$$

$$8+ - 6է = 3 :$$

$$\text{Պ. } + = 4\frac{1}{2} , է = 5\frac{1}{2} :$$

7. Չափր + ի եւ է ի արժէքները հետեւեալ հաւասարութեանց մէջ ,

$$8+ - 9է = 1 ,$$

$$6+ - 3է = 4+ :$$

$$\text{Պ. } + = \frac{1}{2} , է = \frac{1}{3} :$$

8. Չափր + ի եւ է ի արժէքները հետեւեալ հաւասարութեանց մէջ ,

$$14+ - 15է = 12 ,$$

$$7+ + 8է = 37 :$$

$$\text{Պ. } + = 3 , է = 2 :$$

9. Չափր + ի եւ է ի արժէքները հետեւեալ հաւասարութեանց մէջ ,

$$\frac{+}{2} + \frac{է}{3} = 6 ,$$

$$\frac{+}{3} + \frac{է}{2} = 6\frac{1}{2} :$$

$$\text{Պ. } + = 6 , է = 9 :$$

10. Պարի $+ \text{ի}$ եւ է ի արժէքները հետեւեալ հաւասարութեանց մէջ,

$$\frac{+}{7} + \frac{\text{է}}{8} = 4,$$

$$+ - \text{է} = -2:$$

$$\text{Պ} \cdot + = 14, \text{է} = 16:$$

60 11. Ա՛ Բ ի ըսաւ . քու ստակէդ 40 թալէր ինծի սուր եւ անատեն քովդ մնացած ստակին 5 անգամը պիտի ունենամ : Արդ՝ երկուքը ունէին 120 թալէր . ամէն մէկը սրչափ ունէր : Պ . 60 Բւր :

7 12. Հայր մը իր տղուն ըսաւ . «Քսան տարի առաջ իմ տարիքս քուկլինիդ չորս անգամն էր , հիմա երկու անգամն է» . ինչ էր անոնց տարիքը :

$$\text{Պ} \cdot \begin{cases} \text{Հօրը տարիքը } 60 . \\ \text{Տղունը } 30 : \end{cases}$$

8 13. Հայր մը իր ստացուածքը երկու որդւոցը բաժնեց : Առաջին տարւոյն վերջը՝ երէց որդին իրեն ինկած բաժնին մէկ չորրորդը ծախք ըրած էր , եւ կրտսերը 1000 թալէր ալ շահած էր . եւ անատեն անոնց ստացուածքը հաւասար էր : Յետոյ երէց որդին 500 թալէր ալ ծախք ըրաւ , եւ կրտսերը 2000 թալէր ալ շահեցաւ , եւ անատեն տեանուեցաւ թէ՛ կրտսերը երէցին ունեցածին կրկինն ունի . ամէն մէկն իր հօրմէն սրչափ առաւ :

$$\text{Պ} \cdot \begin{cases} \text{Երէցը՝ } 4000 \text{ Բւր} : \\ \text{Կրտսերը՝ } 2000 \text{ Բւր} : \end{cases}$$

9 14. Եթէ Յովհաննէս Վարդուսի 15 խնձոր տայ , անոնց խնձորները հաւասար պիտի ըլլան . բայց եթէ Վարդուս 15 հատ տայ Յովհաննէսի , անատեն 10 հատ պէտք կ'ըլլայ որ Յովհաննէս Վարդուսի ունեցածին 15 անգամն ունենայ : Ամէն մէկը սրքան ունէր :

$$\text{Պ} \cdot \begin{cases} \text{Յովհաննէս } 50 : \\ \text{Վարդուս } 20 : \end{cases}$$

10 15. Երկու գրագիր՝ Ա եւ Բ , մէկտեղ 900 թալէր թոշակ ունին : Ա՛ տարին իր թոշակին $\frac{1}{10}$ ծախք

կ'ընէ, եւ Բ Ա ի ծախք ըրածին չափ ալ կը շահի տարին: Տարւոյն վերջը հաշիւ կ'ընեն եւ իրենց գումարը հաւասար կը դանեն. իւրաքանչիւրին թոշակը սրքան էր:

$$\text{Պ. } \begin{cases} \text{Ա ինը} = 500 : \\ \text{Բ ինը} = 400 : \end{cases}$$

Տարաբրո-Նիւն Փոխանակութեամբ:

72. Չարձեալ առնենք հետեւեալ հաւասարութիւնները,

$$5x + 7y = 43,$$

$$11x + 9y = 69:$$

Առաջին հաւասարութեան մէջ + ի արժէքը գըտնելով կ'ուեննանք

$$x = \frac{43 - 7y}{5}:$$

Փոխանակելով + ին այս արժէքը երկրորդ հաւասարութեան մէջ՝ կ'ուեննանք

$$11 \times \frac{43 - 7y}{5} + 9y = 69,$$

կամ, $473 - 77y + 45y = 345,$

կամ, $-32y = -128:$

Ուստի $y = 4,$

եւ $x = \frac{43 - 28}{5} = 3:$

Ասիկայ կ'ըսուի տարաբրո-Նիւն փոխանակութեամբ, որուն գործողութեանը համար հետեւեալ կանոնն ունինք:

ԿԱՆՈՆ

Գորիք հասասարութեանց ճեկոան կամ փասին ճշդն ան-

72. Ի՞նչ է փոխանակութեամբ տարադրութեան կանոնը: Ա՞յն կերպը գործածել ե՞րբ դիւրին է:

Ժամօ՞նք Ժամանակում լինանոց մեկուան արժեքը • ապա այս քանոս արժեքը փոխանակել մեզ հասանալի լինան մեջ, և այսպէս մեզն մեկ անժամօնք Ժամանակում պարտանակող նոր հասանալի լինան մը պիտի կազմուի :

Ծանօ՞նք • — Տարադրութեան այս կերպը շատ դիւրին կ'ըլլայ, երբ անժամօթ քանակութեանց մէկուն կամ միւսին համարտադրիչը միութիւն է :

ՕՐԻՆԱԿՔ

1. Պարտ մերջին կերպով, Ժի եւ է ի արժեքները հետեւեալ հաւասարութեանց մէջ,

$$3\text{Ժ} - \text{է} = 1, \text{ եւ } 3\text{է} - 2\text{Ժ} = 4 :$$

$$\text{Պ} \cdot \text{Ժ} = 1, \text{ է} = 2 :$$

2. Պարտ Ժի եւ է ի արժեքները հետեւեալ հաւասարութեանց մէջ,

$$5\text{է} - 4\text{Ժ} = -22, \text{ եւ } 3\text{է} + 4\text{Ժ} = 38 :$$

$$\text{Պ} \cdot \text{Ժ} = 8, \text{ է} = 2 :$$

3. Պարտ Ժի եւ է ի արժեքները հետեւեալ հաւասարութեանց մէջ,

$$\text{Ժ} + 8\text{է} = 18, \text{ եւ } \text{է} - 3\text{Ժ} = -29 :$$

$$\text{Պ} \cdot \text{Ժ} = 10, \text{ է} = 1 :$$

4. Պարտ Ժի եւ է ի արժեքները հետեւեալ հաւասարութեանց մէջ,

$$5\text{Ժ} - \text{է} = 13, \text{ եւ } 8\text{Ժ} + \frac{2\text{է}}{9} = 29 :$$

$$\text{Պ} \cdot \text{Ժ} = 3\frac{1}{2}, \text{ է} = 4\frac{1}{2} :$$

5. Պարտ Ժի եւ է ի արժեքները հետեւեալ հաւասարութեանց մէջ :

$$10\text{Ժ} - \frac{\text{է}}{5} = 69, \text{ եւ } 10\text{է} - \frac{\text{Ժ}}{7} = 49 :$$

$$\text{Պ} \cdot \text{Ժ} = 7, \text{ է} = 5 :$$

6. Պատիր + ի եւ է ի արժէքները հետեւեալ հաւասարութեանց մէջ ,

$$+ + \frac{+}{2} - \frac{է}{5} = 10, \text{ եւ } \frac{+}{8} + \frac{է}{10} = 2:$$

$$\text{Պ. } + = 8, \text{ է} = 10:$$

7. Պատիր + ի եւ է ի արժէքները հետեւեալ հաւասարութեանց մէջ ,

$$\frac{է}{7} - \frac{+}{3} + 5 = 2, \text{ + + } \frac{է}{5} = 17\frac{4}{5}:$$

$$\text{Պ. } + = 15, \text{ է} = 14:$$

8. Պատիր + ի եւ է ի արժէքները հետեւեալ հաւասարութեանց մէջ ,

$$\frac{է}{2} + \frac{+}{3} + 3 = 6\frac{1}{6}, \text{ եւ } \frac{է}{4} - \frac{+}{7} = \frac{1}{2}:$$

$$\text{Պ. } + = 3\frac{1}{2}, \text{ է} = 4:$$

9. Պատիր + ի եւ է ի արժէքները հետեւեալ հաւասարութեանց մէջ ,

$$\frac{է}{8} - \frac{+}{4} + 6 = 5, \text{ եւ } \frac{+}{12} - \frac{է}{16} = 0:$$

$$\text{Պ. } + = 12, \text{ է} = 16:$$

10. Պատիր + ի եւ է ի արժէքները հետեւեալ հաւասարութեանց մէջ ,

$$\frac{է}{7} - \frac{3+}{2} - 1 = -9, \text{ եւ } 5+ - \frac{7է}{49} = 29:$$

$$\text{Պ. } + = 6, \text{ է} = 7:$$

11. Երկու հոգի Ա եւ Բ, նստան իրենց ստակը համբերու : Երկուքը 20000 թաւէր ունէին, եւ Բ Ա ի եռապատիկն ունէր . ամէն մէկը սրբան ունէր :

$$\text{Պ. } \begin{cases} \text{Ա. } \cdot \cdot 5000 \text{ թւր :} \\ \text{Բ. } \cdot 15000 \text{ թւր :} \end{cases}$$

12. Մարդ մը երկու քսակ ունի : Եթէ առաջին քսակին մէջ 7 թաւէր դնէ, երկրորդ քսակին երեք

անգամը կ'արժէ . բայց եթէ երկրորդին մէջ 7 թաւ
լէր դնէ , առաջնոյն հինգ անգամը կ'արժէ : Ամէն
մէկ քսակին արժէքն ի՞նչ է :

Պ . Մէկ քսակինը՝ 2 ռւբ . միւսինը՝ 3 ռւբ :

13. Երկու թիւեր հետեւեալ յատկութիւններն
ունին . եթէ առաջինը 6 ուլ բաղմապատկուի , ար-
տադրեալը երկրորդին 5 անգամին հաւասար կ'ըլլայ .
եւ եթէ առաջինէն 1 հանուի եւ երկրորդէն 2 , իրա-
րու հաւասար կ'ըլլան . ի՞նչ են այն թիւերը :

Պ . 5 եւ 6 :

14. Չորս հետեւեալ յատկութիւններն ունեցող
երկու թիւեր : Առաջինը , եթէ վրան 2 աւելցուի ,
երկրորդին $3\frac{1}{4}$ անգամին հաւասար կ'ըլլայ . եւ երկ-
րորդը , եթէ վրան 4 աւելցուի , առաջնոյն կէսին
հաւասար կ'ըլլայ : Ի՞նչ են այն թիւերը : Պ . 24 եւ 8 :

15. Հայր մը իր որդւոյն ըսաւ . « Տասուերկու տա-
րի առաջ՝ իմ տարիքս քու հիմակուան տարիքիդ
կրկինն էր . եւ այն ժամանակի քու տարիքիդ չորս
անգամը տասուերկու տարի ալ աւելի , ասկէ տաս-
ուերկու տարի ետքը իմ ունենալու տարիքս է » :
Ի՞նչ էր անոնց տարիքը :

Պ . $\begin{cases} \text{Հօրը տարիքն էր } 72 , \\ \text{Տղունը } 30 : \end{cases}$

Տարագրութիւն Բաղրասարտիւնի .

73. Առ հետեւեալ հաւասարութիւնները :

$$5x + 7x = 43 ,$$

$$11x + 9x = 69 :$$

Առաջին հաւասարութենէն + ի արժէքը դանելով՝
կ'ունենանք $x = \frac{43 - 7x}{5}$.

75. Ի՞նչ է բաղդատութեամբ տարագրութեան կանոնը : Ի՞նչ
է առաջին քայլը : Ի՞նչ է երկրորդը :

Եւ երկրորդէն + ի արժէքը գտնելով՝ կ'ուենենանք

$$+ = \frac{69 - 9t}{11}$$

Արդ՝ + ի այս երկու արժէքներն իրարու հաւասար դնելով՝ կ'ուենենանք

$$\frac{43 - 7t}{5} = \frac{69 - 9t}{11}$$

կամ, $473 - 77t = 345 - 45t$

կամ, $-32t = -128$

ուստի $t = 4$

Եւ $+ = \frac{69 - 36}{11} = 3$

Այս տարագրութիւնը կ'ըսուի տարագրութիւն քաղդասութեամբ, որուն համար հետեւեալ կանոնն ունինք :

ԿԱՆՈՆ

Ա. Գտիր աճն մէկ հասասարտաթեմէն նոյն անժամօթ փանակաթեան արժէքը :

Բ. Դի՛ր այս արժէքներն իրարու հասասարտ . եւ միայն մէկ անժամօթ փանակաթեան պարտանակող նոր հասասարտաթեան մը պիտի կազմուի :

ՕՐԻՆԱԿՔ

1. Գտիր վերոյիշեալ կանոնով, + ի եւ t ի արժէքները հետեւեալ հաւասարութեանց մէջ,

$$3+ + \frac{t}{5} + 6 = 42, \text{ եւ } t - \frac{+}{22} = 14\frac{1}{2}$$

Պ. $+ = 11, t = 15$

2. Գտիր + ի եւ t ի արժէքները հետեւեալ հաւասարութեանց մէջ,

$$\frac{t}{4} - \frac{+}{7} + 5 = 6, \text{ եւ } \frac{t}{5} + 4 = \frac{+}{14} + 6$$

Պ. $+ = 28, t = 20$

3. Պատիր + ի եւ է ի արժէքները հետեւեալ հաւասարութեանց մէջ,

$$\frac{t}{10} - \frac{+}{4} + \frac{22}{8} = 1, \text{ եւ } 3t - + = 6:$$

$$\text{Պ. } + = 9, t = 5:$$

4. Պատիր + ի եւ է ի արժէքները հետեւեալ հաւասարութեանց մէջ,

$$t - 3 = \frac{+}{2} + 5, \text{ եւ } \frac{+ + t}{2} = t - 3\frac{1}{2}:$$

$$\text{Պ. } + = 2, t = 9:$$

5. Պատիր + ի եւ է ի արժէքները հետեւեալ հաւասարութեանց մէջ,

$$\frac{t - +}{3} + \frac{+}{2} = t - 2, \text{ եւ } \frac{+}{8} + \frac{t}{7} = + - 13:$$

$$\text{Պ. } + = 16, t = 7:$$

6. Պատիր + ի եւ է ի արժէքները հետեւեալ հաւասարութեանց մէջ,

$$\frac{t + +}{2} + \frac{t - +}{2} = + - \frac{2t}{3}, \text{ եւ } + + t = 16:$$

$$\text{Պ. } + = 10, t = 6:$$

7. Պատիր + ի եւ է ի արժէքները հետեւեալ հաւասարութեանց մէջ,

$$\frac{2+ - 3t}{5} = + - 2\frac{2}{5}, \text{ եւ } + - \frac{t - 1}{2} = 0:$$

$$\text{Պ. } + = 1, t = 3:$$

8. Պատիր + ի եւ է ի արժէքները հետեւեալ հաւասարութեանց մէջ,

$$4t - \frac{+ + t}{2} = + + 18, \text{ եւ } 27 - t = + + t + 4:$$

$$\text{Պ. } + = 9, t = 7:$$

9. Չափը $+ t$ եւ t ի արժէքները հետեւեալ հաւասարութեանց մէջ,

$$1 - \frac{t - +}{6} + 4 = t - 16 \frac{2}{3}, \text{ եւ } \frac{t}{5} - 2 = \frac{+}{5} :$$

$$\text{Պ. } + = 10, t = 20 :$$

74. Տարագրութեան գլխաւոր կերպերը բացատրած ըլլալով՝ քանի մը օրինակներ ալ պիտի յաւելունք, զորոնք կրնանք լուծել անոնցմէ որեւէ մէկուն միջոցովը. եւ արդարեւ շատ անգամ թղտակար է զանոնք ամէնքն ալ դորձածել՝ միեւնոյն խնդրոյն մէջ անգամ :

ԸՆԴՀԱՆՈՒՐ ՕՐԻՆԱԿԻ

1. Չափը $2+ + 3t = 16$, եւ $3+ - 2t = 11$ հաւասարութեանց մէջ $+ t$ եւ t ի արժէքները :

$$\text{Պ. } + = 5, t = 2 :$$

2. Չափը $\frac{2+}{5} + \frac{3t}{4} = \frac{9}{20}$, եւ $\frac{3+}{4} + \frac{2t}{5} = \frac{61}{120}$ հաւասարութեանց մէջ $+ t$ եւ t ի արժէքները :

$$\text{Պ. } + = \frac{1}{2}, t = \frac{1}{3} :$$

3. Չափը $\frac{+}{7} + 7t = 99$, եւ $\frac{t}{7} + 7+ = 51$ հաւասարութեանց մէջ $+ t$ եւ t ի արժէքները :

$$\text{Պ. } + = 7, t = 14 :$$

4. Չափը $+ t$ եւ t ի արժէքները հետեւեալ հաւասարութեանց մէջ,

$$\frac{+}{2} - 12 = \frac{t}{4} + 8, \text{ եւ } \frac{+ + t}{5} + \frac{+}{3} - 8 = \frac{2t - +}{4} + 27 :$$

$$\text{Պ. } + = 60, t = 40 :$$

ԽՆԴԻՐՔ

1. Ի՞նչ կոտորակ է այն՝ որուն արժէքը պիտի ըլլայ $\frac{1}{3}$, եթէ համարչին վրայ 1 աւելցուի. բայց եթէ յայտարարին վրայ 1 աւելցուի, արժէքը $\frac{1}{4}$ պիտի ըլլայ :

Այն կոտորակը ցուցնենք $\frac{+}{t}$ ով,

անատեն պայմաններէն

$$\frac{+ + 1}{t} = \frac{1}{3}, \text{ եւ } \frac{+}{t + 1} = \frac{1}{4} :$$

Ասկէ կ'ուենենանք $3+ + 3 = t$, եւ $4+ = t + 1$:

Վասնորոյ հանմամբ,

$$+ - 3 = 1 \text{ եւ } + = 4 :$$

Ուստի $12 + 3 = t$.

վասնորոյ $t = 15$:

2. Կին մը շուկան երթալով շատ հաւկիթ գնեց. 2 հատը մէկ դահեկանի, եւ ուրիշ այնչափ ալ գնեց 3 հատը մէկ դահեկանի. եւ ամէնը միատեղ 5 հատը, 2 դահեկանի ծախելով՝ գտաւ որ 4 դահեկան կորարնցուցած է : Ամէն մէկ տեսակէն որքան գնեց :

Թող $2+ =$ ամբողջ հաւկիթներուն թուոյն .

անատեն $+ =$ ամէն մէկ տեսակ հաւկիթներուն թուոյն .

եւ $\frac{+}{2} =$ առաջին տեսակին արժէքին,

եւ $\frac{+}{3} =$ երկրորդ տեսակին արժէքին :

Իսկ խնդրոյն պայմաններէն $5 : 2+ :: 2 : \frac{4+}{3}$,

որ է ծախուած հաւկիթներուն ստակին գումարը :

Ուստի՝ խնդրոյն պայմաններէն

$$\frac{x}{2} + \frac{x}{3} - \frac{4x}{5} = 120,$$

Վասնորոյ $15x + 10x - 24x = 120$

կամ $x = 120.$

որ է իւրաքանչիւր տեսակ հաւկիթներուն թիւը :

45
3. Մարդ մը 30,000 թալէրի դրամագլուխ մը ունէր, որուն համար այսինչ չափ շահ կ'ընդունէր. բայց ինքն ալ 20,000 թալէրի գումար մը պարտք ունէր, որուն համար այսինչ չափ շահ կը վճարէր : Իր ընդունած շահը տուած շահէն 800 թալէր աւելի էր : Ուրիշ մը 35,000 թալէրի դրամագլուխ մը ունէր որուն համար վերոյիշեալ երկրորդ չափով շահ կ'ընդունէր. բայց ինքն ալ 24,000 թալէրի գումար մը պարտք ունէր, որուն համար վերոյիշեալ առաջին չափով շահ կը վճարէր : Իր ընդունած շահը տուած շահէն 800 թալէր աւելի էր : Ի՞նչ են այն երկու շահուց չափերը :

Թող x եւ t ցուցնեն երկու շահուց չափերը. այսինքն՝ 100 թալէրին շահն այս ինչ ժամանակի մէջ :

Սրդ՝ 30,000 թալէրին շահուն առաջին չափը դրամակու համար զոր x ով նշանակած ենք՝ կը կազմենք հետեւեալ համեմատութիւնը,

$$100 : x :: 30,000 : \frac{30,000x}{100} \text{ կամ } 300x :$$

Եւ 20,000 թալէրին շահուն չափը գտնելու համար զոր t ով նշանակած ենք՝ կը կազմենք հետեւեալ համեմատութիւնը,

$$100 : t :: 20,000 : \frac{20,000t}{100} \text{ կամ } 200t :$$

Բայց խնդրոյն պայմաններէն՝ այս երկու գումարներուն մէջտեղի տարբերութիւնը հաւասար է 800 թալէրի :

Ուստի խնդրոյն առաջին հաւասարութիւնը կ'ըլլայ
 $300 + — 200 = 800 :$

Խնդրոյն երկրորդ պայմանն ալ ալճէպրայապէս
 ցուցնելով՝ միւս հաւասարութիւնը կ'ուենենանք,
 $350 + — 240 = 310 :$

Առաջին հաւասարութեան երկու անդամներն ալ
 400 ուլ, եւ երկրորդն ալ 40 ուլ բաժնելով՝ կ'ուենե-
 նանք $3 + — 2 = 8, 35 + — 24 = 31 :$

Արդ՝ + տարադրելու համար՝ բազմապատկէ առա-
 ջին հաւասարութիւնը 8 ուլ, եւ ելածը երկրորդին
 վրայ յաւելցուր, եւ կ'ուենենանք
 $19 = 95, եւ + = 5 :$

Այս արժէքն առաջին հաւասարութեան մէջ էի
 հետ փոխանակելով՝ կ'ուենենանք հետեւեալ հաւա-
 սարութիւնը,
 $3 + — 10 = 8, եւ + = 6 :$

Վասնորոյ՝ առաջին շահին չափն է հարիւրին 6, եւ
 երկրորդին՝ 5:

Արտադրութիւն .

30,000 թալէրը որ 400 ին 6 շահի տրուած է՝ կու տայ
 $300 \times 6 = 1800,$

20,000 թալէրը որ 400 ին 5 շահի տրուած է՝ կու տայ
 $200 \times 5 = 1000 :$

եւ կ'ուենենանք $1800 — 1000 = 800 :$

Երկրորդ պայմանը նոյն կերպով կրնանք ստուգել :

4. Ե՞նչ են այն երկու թիւերը՝ որոնց տարբե-
 րութիւնն է 7, եւ գումարը 33: Պ. 13 եւ 20:

5. Բաժնէ 75 երկու մասերու, այնպէս որ մեծ
 թուոյն երեք անգամը փոքր թուոյն եօթն անգամէն
 15 աւելի ըլլայ: Պ. 54 եւ 21:

18 6. Պինւոյ եւ օշարակի խառնուրդի մը $\frac{1}{2}$ էն 23 կալոն աւելին գինի էր, եւ $\frac{1}{3}$ էն 3 կալոն պակասն օշարակ էր. իւրաքանչիւրէն քանի կալոն կար :

Պ. 83 կալոն գինւոյ, եւ 33 օշարակի :

19 7. 120 լիբայի տոմսակ մը վճարուեցաւ կէն եւ ճառագոր կոչուած ոսկի դրամներով, եւ երկու տեսակէն 100 կտոր կար : Աինէին արժէքը 21 շիլին եւ մուսատրին արժէքը 27 շիլին համարելով, իւրաքանչիւր տեսակէն քանի կտոր կար : Պ. 50 :

20 8. Երկու ճամբորդ միեւնոյն ժամանակ ճամբայ կ'ելլեն Լոնտոնէն եւ Եորքէն, որոնց իրարմէ հեռաւորութիւնն է 150 մղոն : Մէկը կ'երթայ օրը 8 մղոն, եւ միւսը 7. Ե՞րբ իրարու պիտի հանդիպին : Պ. 10 օրէն :

21 9. Ընտրութեան մը մէջ 373 անձինք քուէ տուին երկու պաշտօնախնդիրներու համար, եւ ընտրուած պաշտօնախնդիրը 91 քուէից առաւելութիւն ունէր. իւրաքանչիւրին քանի քուէ տրուեցաւ :

Պ. 233 մէկուն, եւ 142 միւսին :

22 10. Մարդ մը երկու ձի, եւ 30 լիբանոց թամբ մը ունէր : Առաջին ձիոյն եւ թամբին արժէքը երկրորդ ձիոյն արժէքին կրկինն էր. իսկ երկրորդ ձիոյն ու թամբին արժէքն առաջին ձիոյն արժէքին եռապատին էր. իւրաքանչիւր ձիոյն արժէքն ինչ էր :

Պ. Մէկուն 30 ւր. եւ միւսինը 40 ւր. :

46 11. Ժամացուցի մը երկու սլաքն ալ 12 ին ճիշդ իրարու վրայ են. Ե՞րբ նորէն իրարու վրայ կու գան : Պ. 1 ժամէն եւ $\frac{5}{11}$ րո գէէն :

47 12. Այր եւ կին տակառ մը գինին սովորաբար 12 օրը կը խմէին. բայց երբ այրը բացակայ էր, կինը 30 օրը կը խմէր. եթէ այրը մինակ խմէր, քանի օր պիտի բաւէր տակառ մը գինին : Պ. 20 օր :

48 13. Եթէ 32 լիտր ծովու ջուր 1 լիտր աղ կը պարունակէ, որչափ անոյշ ջուր աւելցընելու է 32 լիտր

րին վրայ որ նոր խառնուրդին 32 լիտրին մէջ պարունակուած աղին քանակութիւնը 2 ունկիի, $\frac{1}{8}$ լիտրի վերածուի : Պ. 224 լիտր :

44/ 14. Մարդ մը 100,000 թալէր ունէր, որուն մեծագոյն մասը հարիւրին 5 ուլ շահի դրաւ, եւ մնացածը հարիւրին 4 ուլ : Ընդունած ամբողջ շահը 4640 թալէր էր : Ո՞րչափ էին դրամագլխոյն այն երկու մասերը : Պ. 64,000 եւ 36,000 :

50/ 15. Ընտրութեան մը վերջը, յաջողակ պաշտօնախնդիրը 1500 քուէի առաւելութիւն մը ունէր : Եթէ անյաջող պաշտօնախնդրին քուէներուն մէկ չորրորդն ալ ինք տանէր, իր հակառակորդին քուէներուն եռապատկին շափ ունենալու համար՝ երեք հազար հինգ հարիւր քուէ պակաս ունեցած պիտի ըլլար : Իւրաքանչիւրն ո՞րչափ քուէ առաւ : Պ. $\left\{ \begin{array}{l} \text{Ա. 6500 :} \\ \text{Բ. 5000 :} \end{array} \right.$

51/ 16. Աղնուական մը, մէկը ոսկի եւ միւսն արծաթ, երկու ժամացոյց, եւ 25 թալէր արժող շղթայ մը դնեց : Շղթային ու ոսկի ժամացուցին արժէքն արծաթ ժամացուցին երեք ու կէս անգամն էր : Իսկ նոյն շղթային եւ արծաթ ժամացուցին արժէքը ոսկի ժամացուցին արժէքին կէսէն 15 թալէր աւելի էր : Իւրաքանչիւր ժամացուցին արժէքն ի՞նչ էր : Պ. $\left\{ \begin{array}{l} \text{Ոսկի ժամացուցինը՝ 80 Բւր . :} \\ \text{Արծաթ } \gg \quad \quad \quad 30 Բւր . :} \end{array} \right.$

52/ 17. Երկու թուոց գումարն է 11. Եթէ առաջին թուոյն վրայ 13 աւելցուի, գումարը երկրորդին երեք անգամը կ'ըլլայ : Ի՞նչ են այն թիւերը : Պ. 5 եւ 6 :

53/ 18. Տիկնաց ու արանց ընկերութենէ մը 15 տիկին մեկնելով՝ իւրաքանչիւր տիկնոջ երկու այր մնաց : Բայց ետքը 45 այր հրաժարելով՝ իւրաքանչիւր արանց 5 տիկին մնաց : Իւրաքանչիւրին ի սկզբան քանի հատ կար : Պ. $\left\{ \begin{array}{l} 50 \text{ այր :} \\ 40 \text{ տիկին :} \end{array} \right.$

19. Մարդ մը իր ձին վիճակահանութեամբ ծախել կ'ուզէ : Եթէ իւրաքանչիւր ցուցակագիր 2 թալէրի ծախէ՝ ձիէն 30 թալէր պիտի կորսնցընէ . իսկ եթէ 3 թալէրի ծախէ՝ ձիէն 30 թալէր պիտի շահի : Ի՞նչ է ձիոյն արժէքն ու ցուցակագրաց թիւը :

$$\eta . \begin{cases} \text{Ձիուն արժէքը} & 150 \text{ Թ.Լ.} : \\ \text{Ցուցակագրաց թիւը} & 60 : \end{cases}$$

20. Մարդ մը գրիւը 1 թալէրի ցորեն, եւ գրիւը $\frac{3}{4}$ թալէրի հաճար դնեց, եւ բոլորը $117\frac{1}{2}$ թալէր արժէց : Եսքը ցորենին $\frac{1}{4}$ ը եւ հաճարին $\frac{1}{5}$ ը ծախու առնուած դնով ծախեց, եւ ընդունեց $27\frac{1}{2}$ թալէր : Իւրաքանչիւրէն քանի գրիւ դնեց :

$$\eta . \begin{cases} \text{Ցորենէն} & 80 \text{ գրիւ} : \\ \text{Հաճարէն} & 50 \text{ գրիւ} : \end{cases}$$

Երեւ կամ աւելի անժանօթ + անակօթիան պարունակող
Հաւասարութիւնք :

75. Հիմա քննենք երեք կամ աւելի անժանօթ քանակութիւն պարունակող հաւասարութիւններ : Առ հետեւեալ հաւասարութիւնները .

$$5x - 6y + 4z = 15,$$

$$7x + 4y - 3z = 19,$$

$$\text{եւ } 2x + y + 6z = 46 :$$

Առաջին երկու հաւասարութեանց միջոցով z տարագրելու համար՝ բազմապատկէ առաջինը 3 ու եւ երկրորդը 4 ու . անատեն, որովհետեւ z ի համար տադրիչները տարբեր նշաններ ունին, երկու արտադրեալներն իրարու հետ գումարէ : Այսպէս կ'ունենանք նոր հաւասարութիւն մը,

$$43x - 2y = 121 :$$

Երկրորդ հաւասարութիւնը 2 ու բազմապատկելով, այսինքն՝ երրորդ հաւասարութեան մէջ z ի համար

տադրչին քանորդականովը, եւ ելածը երրորդ հաւասարութեան հետ գումարելով՝ կ'ուենեանք

$$16 + 9 = 84 :$$

Հիմա կը մնայ այս նոր հաւասարութիւններէն + ի եւ է ի արժէքները գտնել :

Արդ՝ եթէ առաջինը բազմապատկուի 9 ու, երկրորդը 2 ու, եւ արտադրեալներն իրարու հետ գումարուին, կ'ուենեանք

$$419 + = 1257, \text{ կամ } + = 3 :$$

Աս կերպով կրնայինք՝ + եւ է պարունակող երկու հաւասարութեանց միջոցով, է ի արժէքը գտնել . բայց է ի արժէքն աւելի պարզ կերպով մը կրնանք գտնել՝ այս երկու հաւասարութեանց վերջինին մէջ փոխանակելով + ի գտնուած արժէքը, որ կ'ըլլայ

$$48 + 9 = 84, \text{ կամ } = \frac{84 - 48}{9} = 4 :$$

Նմանապէս՝ առաջարկեալ երեք հաւասարութեանց առաջնոյն մէջ + ի եւ է ի արժէքները փոխանակելով կ'ուենեանք

$$15 - 24 + 4 = 15, \text{ կամ } = \frac{24}{4} = 6 :$$

Ուստի՝ երեք կամ աւելի անձանօթ քանակութիւն պարունակող հաւասարութիւնները լուծելու համար հետեւեալ կանոնն ունինք :

ԿԱՆՈՆ

Ա. Տարագրէ անձանօթ + անակոթեանց մէկը՝ հաստատարութեան մը մաս հաստատարութեանց իւրաքանչիւրին հետ կապակցելով . այսպէս մէկ անձանօթ + անակոթեան պակասելով՝ նոր կարգ մը հաստատարութեան կը կազմուի :

Բ. Տարագրէ ուրիշ անձանօթ + անակոթեան մը՝ ելած նոր հաստատարութեանց մէկը մաս հաստատարութեանց իւրաքանչիւրին հետ կապակցելով :

Գ. Այս կարգի Գործողութիւններ շարունակել, թիւը որ հասնիս թայն թիւ անժամօք + անահո-թիւն պարունակող հասարակութեան՝ որի դիւրաս կրնաս գործել այս անժամօք + անահո-թիւն արժեքը: Ապա ելած կարգի յը հասարակութիւններէն դիւրի երբեք չի թիւալով՝ թիւս անժամօք + անահո-թիւն արժեքը յաջորդաբար կրնաս գործել:

76. Ծանօթ. — Շատ անգամ կը պատահի որ առաջարկեալ հաւասարութեանց իւրաքանչիւրն անժամօթ քանակութեանց մէջնը չի պարունակեր: Ասանկ պարագայի մէջ՝ տարագրութիւնը շատ շուտով կը կատարուի:

Առ չորս անժամօթ քանակութիւն պարունակող հետեւեալ չորս հաւասարութիւնները,

- (1) $2t - 3e + 2u = 13$: (3) $4t + 2u = 14$:
- (2) $4u - 2t = 30$: (4) $5t + 3u = 32$:

Այս հաւասարութիւններն աչքէ անցընելով՝ կը տեսնենք թէ (1) եւ (3) հաւասարութեանց մէջի ղ տարագրելով, + եւ է պարունակող հաւասարութիւն մը կ'ունենանք, եւ եթէ (2) եւ (4) հաւասարութեանց մէջի « տարագրենք՝ անատեն + եւ է պարունակող երկրորդ հաւասարութիւն մը կ'ունենանք: Վասնորոյ՝ այս վերջին երկու անժամօթ քանակութիւնները կրնան դիւրաւ գտնուիլ: Նախ (1) եւ (2) էն ղ տարագրելով կ'ունենանք

$$7t - 2t = 1.$$

եւ (2) եւ (4) էն « տարագրելով՝ կ'ունենանք

$$20t + 6t = 38 :$$

Բազմապատկելով այս հաւասարութեանց առաջինը 3 ուլ, եւ գումարելով՝ կ'ունենանք

$$41t = 41.$$

ուստի $t = 1$:

75. Ի՞նչ է երեք կամ աւելի անժամօթ քանակութիւն պարունակող հաւասարութիւնները լուծելու կանոնը: Ի՞նչ է առաջին քայլը: Ի՞նչ է երկրորդը: Ի՞նչ է երրորդը:

7 ϵ — 2 \ast = 1, հաւասարութեան մէջ փոխանակելով այս արժէքը կը գտնենք

$$\ast = 3:$$

Փոխանակելով \ast ի այս արժէքը (2) հաւասարութեան մէջ իր տեղը կ'ուենենանք

$$4\ast - 6 = 30.$$

ուստի

$$\ast = 9:$$

Եւ փոխանակելով ϵ ի արժէքը (3) հաւասարութեան մէջ իր տեղը կ'ուենենանք $\epsilon = 5:$

ՕՐԻՆԱԿՔ

1. Չափը \ast ի, ϵ ի եւ ϵ ի արժէքները հետեւեալ հաւասարութեանց մէջ,

$$\ast + \ast + \epsilon + \ast + \epsilon = 29,$$

$$\ast + \ast + 2\epsilon + 3\epsilon = 62,$$

$$\text{եւ } \frac{\ast}{2} + \frac{\epsilon}{3} + \frac{\epsilon}{4} = 10:$$

$$\text{Պ. } \ast = 8, \epsilon = 9, \epsilon = 12:$$

2. Չափը \ast ի, ϵ ի եւ ϵ ի արժէքները հետեւեալ հաւասարութեանց մէջ,

$$2\ast + 4\epsilon - 3\epsilon = 22,$$

$$4\ast - 2\epsilon + 5\epsilon = 18,$$

$$\text{եւ } 6\ast + 7\epsilon - \epsilon = 63:$$

$$\text{Պ. } \ast = 3, \epsilon = 7, \epsilon = 4:$$

3. Չափը \ast ի, ϵ ի եւ ϵ ի արժէքները հետեւեալ հաւասարութեանց մէջ,

$$\ast + \ast + \frac{\epsilon}{2} + \frac{\epsilon}{3} = 32,$$

$$\frac{\ast}{3} + \frac{\epsilon}{4} + \frac{\epsilon}{5} = 15,$$

$$\text{եւ } \frac{\ast}{4} + \frac{\epsilon}{5} + \frac{\epsilon}{6} = 12,$$

$$\text{Պ. } \ast = 12, \epsilon = 20, \epsilon = 30:$$

560

4. Բաժնէ 90 չորս մասերու այնպէս՝ որ առաջնոյն վրայ 2 աւելցրնելով, երկրորդէն 2 պակսեցրնելով, երրորդը 2 ով բազմապատկելով եւ չորրորդը 2 ով բաժնելով, արդիւնքներն իրարու հաւասար ըլլան :

Այս խնդիրը դիւրաւ կրնայ լուծուիլ՝ նոր անձանօթ քանակութիւն մ'ալ մէջ բերելով :

Թող +, է, շ, եւ «, պահանջեալ մասերն ըլլան, եւ թող \mathcal{S} ցուցրնէ խնդրոյն պայմաններէն ծագած այլեւայլ հաւասար քանակութիւնները : Անատեն պիտի ունենանք

$$+ + 2 = \mathcal{S}, \quad \text{է} - 2 = \mathcal{S}, \quad 2\text{շ} = \mathcal{S}, \quad \frac{\text{«}}{2} = \mathcal{S} :$$

Ուստի կը գտնենք

$$+ = \mathcal{S} - 2, \quad \text{է} = \mathcal{S} + 2, \quad \text{շ} = \frac{\mathcal{S}}{2}, \quad \text{«} = 2\mathcal{S} :$$

Եւ դումարելով հաւասարութիւնները,

$$+ + \text{է} + \text{շ} + \text{«} = \mathcal{S} + \mathcal{S} + \frac{\mathcal{S}}{2} + 2\mathcal{S} = 4\frac{1}{2}\mathcal{S} :$$

Եւ որովհետեւ խնդրոյն պայմաններէն, առաջին անդամը հաւասար է 90ի, կ'ունենանք

$$4\frac{1}{2}\mathcal{S} = 90, \quad \text{կամ } \frac{9}{2}\mathcal{S} = 90.$$

ուստի $\mathcal{S} = 20 :$

Արդ՝ \mathcal{S} ի արժէքը դտած ըլլալով՝ դիւրաւ կը գրտնենք միւս արժէքները • այսինքն՝

$$+ = 18, \quad \text{է} = 22, \quad \text{շ} = 10, \quad \text{«} = 40 :$$

570

5. Տարբեր մետաղներէ բաղադրեալ ձուլածոյ երեք զանգուածներ կան : Առաջնոյն մէկ լիտրը կը պարունակէ 7 ունկի արծաթ, 3 ունկի պղինձ, եւ 6 ունկի անագ : Երկրորդին մէկ լիտրը կը պարունակէ 12 ունկի արծաթ, 3 ունկի պղինձ, եւ 1 ունկի անագ : Երրորդին մէկ լիտրը կը պարունակէ 4 ունկի արծաթ, 7 ունկի պղինձ, եւ 5 ունկի անագ : Այս երեք ձուլածոյ զանգուածներէն չորրորդ մը շինելու

համար՝ ամէն մէկ զանգուածէն սրչափ առնելու է , որ մէկ լիտրը պարունակէ 8 ունկի արծաթ , $3\frac{3}{4}$ ունկի պղինձ , եւ $4\frac{1}{4}$ ունկի անագ :

Թող + , է , եւ շ ցուցընեն պահանջեալ մէկ լիտր զանգուածը շինելու համար երեք կտորներէն կամ զանգուածներէն զատ զատ առնուելու ունկիներուն թիւը : Օրովհետեւ առաջին զանգուածին մէկ լիտրը կը պարունակէ 8 ունկի արծաթ կամ ընդ ամէնը 16 ունկի , կը հետեւի թէ զանգուածին մէկ ունկին կը

պարունակէ $\frac{7}{16}$ ունկի արծաթ , եւ հետեւապէս

+ ով ցուցուած ունկիներուն թուոյն մէջ՝ $\frac{7+}{16}$ արծաթ կայ : Նմանապէս կը գտնենք թէ $\frac{12է}{16}$ եւ $\frac{4շ}{16}$

կը ցուցընեն չորրորդը շինելու համար երկրորդէն ու երրորդէն առնուած արծաթէ ունկիներուն թիւը . բայց որովհետեւ այս չորրորդ զանգուածին մէկ լիտրը կը պարունակէ 8 ունկի արծաթ , ուստի առաջին հաւասարութիւնը կ'ըլլայ ,

$$\frac{7+}{16} + \frac{12է}{16} + \frac{4շ}{16} = 8 ,$$

կամ յայտարարները վերցընելով ,
 $7+ + 12է + 4շ = 128 .$

Պղինձին նկատմամբ կը գտնենք
 $3+ + 3է + 7շ = 60 ,$

եւ անագին նկատմամբ
 $6+ + է + 5շ = 68 :$

Օրովհետեւ այս երեք հաւասարութեանց մէջ է ի համարտադրիչները ամենապարզ են , վասնորոյ դիւրին կ'ըլլայ նախ այս անձանօթ քանակութիւնը տարագրել :

Բազմապատկելով երկրորդ հաւասարութիւնը 4 ով , եւ անկէ անդամ անդամէ հանելով առաջինը , կ'ուսենանք
 $5+ + 24շ = 112 :$

Բազմապատկելով երրորդ հաւասարութիւնը 3 ուլ, եւ ելած հաւասարութենէն երրորդը հանելով, կ'ուենանք

$$15 + 8z = 144$$

Բազմապատկելով այս վերջին հաւասարութիւնը 3 ուլ, եւ նախընթաց հաւասարութիւնը հետեւորդ հաւասարութենէն հանելով՝ կ'ուենանք

$$40 + = 320,$$

ուստի

$$+ = 8:$$

Փոխանակէ այս արժէքը + ի հետ հետեւեալ հաւասարութեան մէջ,

$$15 + 8z = 144,$$

եւ կ'ուենանք

$$120 + 8z = 144,$$

ուստի

$$z = 3:$$

Վերջապէս $+ = 8$, $z = 3$, դանուած երկու արժէքները փոխանակելով հետեւեալ հաւասարութեան մէջ,

$$6 + t + 5z = 68,$$

կ'ուենանք

$$48 + t + 15 = 68,$$

ուստի

$$t = 5:$$

Վասնորոյ՝ մէկ լիտր շորորդ ձուլածոյ դանդուած մը շինելու համար՝ 8 ունկի առաջինէն, 5 ունկի երկրորդէն, եւ 3 ունկի երրորդէն առնելու ենք:

Սորոգումներն .

Եթէ առաջին ձուլածոյ դանդուածին 16 ունկիին մէջ 7 ունկին արծաթ է, 8 ունկիին մէջ պիտի ըլլայ արծաթ,

$$\frac{7 \times 8}{16},$$

համապէս,

$$\frac{12 \times 5}{16} \text{ եւ } \frac{4 \times 3}{16}$$

պիտի ցուցնեն երկրորդ դանդուածին 5 ունկիներուն եւ երրորդ դանդուածին 3 ունկիներուն մէջ գրանուած արծաթի քանակութիւնը:

Արդ՝ կ'ուենենանք

$$\frac{7 \times 8}{16} + \frac{12 \times 5}{16} + \frac{4 \times 3}{16} = \frac{128}{16} = 8.$$

վասնորոյ՝ չորրորդ ձուլածոյ դանդուածին մէկ լիտրը կը պարուենակէ 8 ունկի արծաթ, ինչպէս որ խնդրոյն մէջ կը պահանջուի: Այս կերպով կրնանք ստուգել պղինձն ու անագը:

58. 6. Ա ի տարիքը Բ ի տարիքին կրկնապատիկն է, եւ Բ ի տարիքը Ք ի տարիքին եռապատիկն է, եւ ասոնց բոլոր տարիքին գումարը 140 է: Իւրաքանչիւրին տարիքը քանի է:

Պ. Ա ինը = 84, Բ ինը = 42, Ք ինը = 14:

59. 7. Մարդ մը՝ կառք մը, ձի մը, եւ սար (Բազը) գնեց 60 լիրայի: Ձիոյն գինը սարին գնոյն կրկնապատիկն էր, կառքին գինն ալ՝ ձիոյն եւ սարին գնոյն կրկնապատիկն էր: Իւրաքանչիւրին համար ինչ

սուաւ:

$$\text{Պ. } \begin{cases} 13 \text{ լիր} \cdot 6 \text{ շէլ} \cdot 8 \text{ ֆ} \cdot \text{ձիոյն համար:} \\ 6 \text{ լիր} \cdot 13 \text{ շէլ} \cdot 4 \text{ ֆ} \cdot \text{սարին համար:} \\ 40 \text{ լիր} \cdot \text{կառքին համար:} \end{cases}$$

60. 8. Բաժնէ 36 թիւը երեք մասերու այնպէս՝ որ առաջնոյն $\frac{1}{2}$ ը, երկրորդին $\frac{1}{3}$ ը, եւ երրորդին $\frac{1}{4}$ ը իրարու հաւասար ըլլան: Պ. 8, 12 եւ 16:

61. 9. Եթէ Ա եւ Բ գործք մը միատեղ 8 օրը կը կատարեն, Ա եւ Ք միատեղ 9 օրը, Բ եւ Ք 10 օրը, միեւնոյն գործը մինակ բանելով ամէն մէկը քանի օրը կրնան կատարել:

Պ. Ա՝ $14\frac{3}{4}$, Բ՝ $17\frac{2}{3}$, Ք՝ $23\frac{7}{11}$ օրը:

62. 10. Երեք հոգի՝ Ա, Բ, Ք, սկսան մէկտեղ խաղալ. եւ խաղալու սկսած ատեն ամէնը 600 թաւէր ունէին: Ա՝ առաջին խաղին մէջ՝ Բ ի ունեցած ստակին կէսը շահեցաւ, այնպէս որ բոլոր ունեցած ստակը՝ Բ ի սկիզբէն ունեցած ստակին կրկինն եղաւ: Երկրորդ խաղին մէջ Ա կորսընցուց եւ Բ շահեցաւ Ք ի իսկ լրան ունեցած

ստակին չափ, եւ անատեն Ա ոչ կորսնցուց եւ ոչ չափ հեցաւ: Իւրաքանչիւր ոք 'ի սկզբանս սրչափ ստակ ունէր:

Պ. Ա՝ 300 ԲԼԲ., Բ՝ 200 ԲԼԲ., Գ՝ 100 ԲԼԲ.:

63= 11. Երեք հոգի՝ Ա, Բ, եւ Գ, մէկտեղ 3640 թալէր ունին: Եթէ Բ իր ստակէն 400 թալէր Ա ին սայ, անատեն Ա Բ էն 320 թալէր աւելի պիտի ունենայ. իսկ եթէ Բ 140 թալէր առնէ Գ ին ստակէն, անատեն Բ եւ Գ հաւասար դուժար պիտի ունենան: Ամէն մէկն սրչափ ունի:

Պ. Ա՝ 800 ԲԼԲ., Բ՝ 1280 ԲԼԲ., Գ՝ 1560 ԲԼԲ.:

64= 12. Երեք հոգի պարտք ունին, որոնց եւ ոչ մէկը կրնայ մինակ վճարել: Ա Բ ին ըսաւ. «Ստակիդ 4 բորդն ինծի տուր, եւ ես կրնամ վճարել պարտքը»: Բ Գ ին ըսաւ. «Քու ստակիդ ճերորդն ինծի տուր, եւ կրնամ վճարել»: Իսկ Գ Ա ին ըսաւ. «Քու ստակիդ կէսն ինծի տալու ես, քանզի ես միայն 8 թալէր ունիմ, եւ կրնամ վճարել»: Պարտքը սրչափ էր, եւ Ա ու Բ սրչափ ստակ ունէին:

Պ. { Պարտքն էր 13 ԲԼԲ.:
 { Ա ունէր 10 ԲԼԲ., եւ Բ՝ 12 ԲԼԲ.:

65= 13. Մարդ մը դրամագլուխ մը ունէր որ հարիւրին այսինչ չափ շահի դրաւ: Ուրիշ մը որ առջինէն 10,000 թալէր աւելի ունէր՝ առջինին դրամ շահուն չափէն հարիւրին 1 աւելի շահի դրաւ, եւ առջինէն 800 թալէր աւելի տոկոս կ'առնէր: Երրորդ անձ մը, որ առջինէն 15000 թալէր աւելի դրամագլուխ մը ունէր՝ հարիւրին 2 աւելի շահի դրաւ, եւ առջինէն 1500 թալէր աւելի տոկոս կ'առնէր: Ինչ են երեք մարդոց դրամագլուխները, եւ շահուց չափերը:

Պ. { Դրամագլուխք, 30000, 40000 եւ 45000 ԲԼԲ.:
 { Չափք շահուց, 4 5 6 առ 0/0:

66-14. Մարդ մը մեռնելու ատենը 15000 թալէրի կալուածք մը ձգեց իր կնոջը, երկու տղոցը եւ երեք աղջկանցը, այս պայմանաւ որ իւրաքանչիւր տղայ իւրաքանչիւր աղջկան կրկինն առնէ, եւ կինը բոլոր դաւկըներէն 1000 թալէր աւելի: Կնոջը եւ իւրաքանչիւր որդւոց բաժինն ի՞նչ էր:

Պ.	{	Կնոջը	8000	Թ.ԼԲ.:
		Իւրաքանչիւր տղուն	2000	Թ.ԼԲ.:
		Իւրաքանչիւր աղջկան	1000	Թ.ԼԲ.:

67-15. Երեք անձինք Ա, Բ եւ Գ, գումար մը ստակ պիտի բաժնեն իրենց մէջ: Ա ստակին կէսէն 3000 թալէր պակաս պիտի առնէ, Բ մէկ երրորդէն 1000 թալէր պակաս, եւ Գ մէկ չորրորդէն 800 թալէր աւելի պիտի առնէ: Ի՞նչ է բաժանելի գումարը, եւ իւրաքանչիւր սրչափ պիտի առնէ:

Պ.	{	Գումարը	38400	Թ.ԼԲ.:
		Ա պիտի առնէ	16200	Թ.ԼԲ.:
		Բ » »	11800	Թ.ԼԲ.:
		Գ » »	10400	Թ.ԼԲ.:



ԳԼՈՒԽ Գ.

ԿԱՐՈՂՈՒԹԻՒՆՔ

77. Եթէ քանակութիւն մը որ եւ է անգամ իր մով բաղմապատկուի՝ արտադրեալը կ'ըսուի այն քանակութեան կարողութեանը : Ինչպէս ,

$a = a^1$ *a* ի առաջին կարողութիւնը , կամ արմատն է :

$a \times a = a^2$ *a* ի երկրորդ կարողութիւնը , կամ քառակուսին է :

$a \times a \times a = a^3$ *a* ի երրորդ կարողութիւնը , կամ խորանարդն է :

$a \times a \times a \times a = a^4$ *a* ի չորրորդ կարողութիւնն է :

$a \times a \times a \times a \times a = a^5$ *a* ի հինգերորդ կարողութիւնն է :

Ամէն կարողութեան մէջ նկատուելու երեք բան կայ :

Ա. Իրմով բաղմապատկեալ քանակութիւնը՝ որուն կ'ըսուի *a* , կամ առաջին կարողութիւն :

77. Եթէ քանակութիւն մը շարունակ իրմով բաղմապատկուի , արտադրեալն ի՞նչ կ'ըսուի : Ամէն կարողութեան մէջ նկատուելու քանի՞ բան կայ : Ի՞նչ են անոնք :

Բ. Չորսն աջ կողմէն քիչ մը վերօք դրուած փոքրիկ թուանշանը : Այս թուանշանը կ'ըսուի այն կարողութեան ցուցիչը, եւ կը ցուցնէ թէ նոյն գիրը քանի քանորդականներէ բաղկացեալ է :

Գ. Նոյն ինքն կարողութիւնը որ վերջին արտադրեալն է, կամ բազմապատկութեանց արդիւնքը :

Չորօրինակ՝ դիցուք թէ $m = 3$, անատեն կ'ունենանք $m = 3$, 3ի առաջին կարողութիւնը :

$m^2 = 3^2 = 3 \times 3 = 9$, 3ի երկրորդ կարողութիւնը :

$m^3 = 3^3 = 3 \times 3 \times 3 = 27$, 3ի երրորդ կարողութիւնը :

$m^4 = 3^4 = 3 \times 3 \times 3 \times 3 = 81$, 3ի չորրորդ կարողութիւնը :

$m^5 = 3^5 = 3 \times 3 \times 3 \times 3 \times 3 = 243$, 3ի հինգերորդ կարողութիւնը :

Այս օրինակներուն մէջ՝ 3 արմատ է, 1, 2, 3, 4 եւ 5 ցուցիչներն են, եւ 3, 9, 27, 81, 243 կարողութիւններն են :

Միեւր ճշտելիցե կարողութեան հանել :

78. Հանենք $2m^3p^2$ միեզրը չորրորդ կարողութեան : Կ'ունենանք

$$(2m^3p^2)^4 = 2m^3p^2 \times 2m^3p^2 \times 2m^3p^2 \times 2m^3p^2,$$

որ միայն կը ցուցնէ թէ չորրորդ կարողութիւնը հաւասար է՝ նոյն քանակութիւնը իբր քանորդական մը չորս անգամ բազմապատկելէն ելած արտադրեալին :

78. Ի՞նչ է միեզրը : Ի՞նչ է միեզր մը կարողութեան հանելու կանոնը : Արդ արմատը դրական է, ի՞նչ պիտի ըլլան կարողութիւնները : Արդ արմատը բացասական է, ի՞նչ պիտի ըլլան կարողութիւնները :

Բազմապատկութեան կանոնով՝ այս արտադրեալը կ'ըլլայ

$$(2m^3p^2)^4 = 2^4 m^{12} p^8 = 2^4 m^3 + 3 + 3 + 3 p^2 + 2 + 2 + 2 = 2^4 m^1 2 p^8 .$$

որմէ կը տեսնենք ,

ա . Թէ 2 համարադրիչը 4 բարդ կարողութեան հանելու է :

բ . Թէ իւրաքանչիւր դրոյ ցուցիչը 4 ուլ , կարողութեան ցուցիչովը , բազմապատկուելու է :

Որովհետեւ աս նոյն ձեռնարկութիւնը ամէն օրինակի կը պատշաճի , վասնորոյ միեզր քանակութիւնները որ եւ իցէ կարողութեան հանելու համար հետեւեալ կանոնն ունինք :

ԿԱՆՈՆ

Ա . Հանէ համարադրիչը պահանջեալ կարողութեան :

Բ . Բազմապատկէ իւրաքանչիւր գրոյ ցուցիչը կարողութեան ցուցիչովը :

ՕՐԻՆԱԿԻ

1. Ի՞նչ է $3m^2t^3$ ի քառակուսին : Պ . $9m^4t^6$:

2. Ի՞նչ է $6m^5t^2 +$ ի խորանարդը : Պ . $216m^{15}t^6 + 3$:

3. Ի՞նչ է $2m^3t^3p^5$ ի չորրորդ կարողութիւնը : Պ . $16m^{12}t^{12}p^{20}$:

4. Ի՞նչ է $m^2p^5t^3$ ի քառակուսին : Պ . $m^4p^{10}t^6$:

5. Ի՞նչ է $m^2p^4r^3$ ի եօթներորդ կարողութիւնը : Պ . $m^{14}p^{28}r^{21}$:

6. Ի՞նչ է $m^2p^3q^2r$ ի վեցերորդ կարողութիւնը : Պ . $m^{12}p^{18}q^{12}r^6$:

7. Ի՞նչ է $-2m^2p^2$ ի քառակուսին եւ խորանարդը :

Քառասկսանի :

$$\begin{array}{r} - 2m^2 p^2 \\ - 2m^2 p^2 \\ \hline + 4m^4 p^4 \end{array}$$

Խորանարդը :

$$\begin{array}{r} - 2m^2 p^2 \\ - 2m^2 p^2 \\ \hline + 4m^4 p^4 \\ - 2m^2 p^2 \\ \hline - 8m^6 p^6 \end{array}$$

Վերոյեղեալ կարողութեանց կազմուելուն եղանակը գիտելով՝ կը մակարեւնք ,

ա. Երբ արժապը դրական է՝ ԲՆԸԸ կարողութեանն երբ դրական կ'ըլլան :

բ. Երբ արժապը բացասական է՝ շոյժ ցոցել ունեցող ԲՆԸԸ կարողութեանն երբ դրական կ'ըլլան, անշոյժ ցոցել ունեցողներն ալ բացասական :

8. ԲՆԸԸ է $- 2m^4 p^5$ ի քառակուսին : Պ. $4m^8 p^{10}$:

9. ԲՆԸԸ է $- 5m^5 t^2 f$ ի խորանարդը :

Պ. $- 125m^{15} t^6 f^3$:

10. ԲՆԸԸ է $- m^2 t + 2$ ի եօթներորդ կարողութիւնը :

Պ. $- m^{14} t^7 + 14$:

11. ԲՆԸԸ է $2m p^6 t^5$ ի վեցերորդ կարողութիւնը :

Պ. $64m^6 p^{36} t^{30}$:

12. ԲՆԸԸ է $- f r + 2 t^3$ ի իններորդ կարողութիւնը :

Պ. $- f^9 r^9 + 18 t^{27}$:

13. ԲՆԸԸ է $- 10m^2 p^2 f^3$ ի քառակուսին :

Պ. $100m^4 p^4 f^6$:

14. ԲՆԸԸ է $- 9m^6 p^5 r^3 f^2$ ի խորանարդը :

Պ. $- 729m^{18} p^{15} r^9 f^6$:

15. ԲՆԸԸ է $- 4m^5 p^3 f^4 r^5$ ի չորրորդ կարողութիւնը :

Պ. $256m^{20} p^{12} f^{16} r^{20}$:

16. ԲՆԸԸ է $2m^3 p^2 + t$ ի հինգերորդ կարողութիւնը :

Պ. $32m^{15} p^{10} + 5 t^5$:

17. Ի՞նչ է $3m^2p^2q^3$ ի չորրորդ կարողութիւնը :
 Պ . $81m^8p^8q^{12}$:

18. Ի՞նչ է $—q^2r^3t^2$ ի հինգերորդ կարողութիւնը :
 Պ . $—q^{10}r^{15}t^{10}$:

19. Ի՞նչ է $—mf^2r^4$ ի վեցերորդ կարողութիւնը :
 Պ . $m^6f^{12}r^6$:

Բազմեւէր ճք կարողութեան հանել :

79. Միեզրի պէս՝ բազմեւէրն ալ կարողութեան կը հանուի, նոյնը շարունակ իրմով բազմապատկելով : Ինչպէս՝ $m + p$ երկեզրին հինգերորդ կարողութիւնը գտնելու համար, կ'ուսնենանք

$$\begin{array}{r}
 m + p \quad \cdot \quad \cdot \quad \cdot \quad \cdot \quad \cdot \quad \text{առաջին կարողութիւն :} \\
 \hline
 m^2 + mp \\
 \quad + mp + p^2 \\
 \hline
 m^2 + 2mp + p^2 \quad \cdot \quad \cdot \quad \cdot \quad \text{երկրորդ կարողութիւն :} \\
 \hline
 m^3 + 2m^2p + mp^2 \\
 \quad + m^2p + 2mp^2 + p^3 \\
 \hline
 m^3 + 3m^2p + 3mp^2 + p^3 \quad \text{երրորդ կարողութիւն :} \\
 \hline
 m^4 + 3m^3p + 3m^2p^2 + mp^3 \\
 \quad + m^3p + 3m^2p^2 + 3mp^3 + p^4 \\
 \hline
 m^4 + 4m^3p + 6m^2p^2 + 4mp^3 + p^4 \quad \text{չորրորդ կարողութիւն} \\
 \hline
 m^5 + 4m^4p + 6m^3p^2 + 4m^2p^3 + mp^4 \\
 \quad + m^4p + 4m^3p^2 + 6m^2p^3 + 4mp^4 + p^5 \\
 \hline
 m^5 + 5m^4p + 10m^3p^2 + 10m^2p^3 + 5mp^4 + p^5 \quad \text{Պ .}
 \end{array}$$

Մանօթոս-թիւն. — 80 : Դիտելու է թէ բազմապատկութեանց թիւը՝ կարողութեան ցուցչին միութեանէն միշտ 1 պակաս է : Ինչպէս՝ եթէ ցուցիչը 1 է՝ բազմապատկութիւն հարկ չէ : Եթէ 2 է՝ մէկ անգամ կը բազմապատկենք . եթէ 3 է՝ երկու անգամ . եթէ 4՝ երեք անգամ եւ այլն : Բազմեզերաց կարողութիւնները ցուցչով մը կը ցուցուին : Ինչպէս՝ եթէ ցուցրնել ուղենք թէ $m + p$ հինգերորդ կարողութեան հանելու է , կը գրենք $(m + p)^5$:

2. Քաթիր $m - p$ երկեզրին հինգերորդ կարողութիւնը :

$$\begin{array}{r}
 m - p \quad \cdot \quad \cdot \quad \cdot \quad \cdot \quad \cdot \quad \text{առաջին կարողութիւնը} \\
 \hline
 m^2 - mp \\
 \quad - mp + p^2 \\
 \hline
 m^2 - 2mp + p^2 \quad \cdot \quad \cdot \quad \cdot \quad \text{երկրորդ կարողութիւնը} \\
 \hline
 m^3 - 2m^2p + mp^2 \\
 \quad - m^2p + 2mp^2 - p^3 \\
 \hline
 m^3 - 3m^2p + 3mp^2 - p^3 \quad \text{երրորդ կարողութիւնը} \\
 \hline
 m^4 - 3m^3p + 3m^2p^2 - mp^3 \\
 \quad - m^3p + 3m^2p^2 - 3mp^3 + p^4 \\
 \hline
 m^4 - 4m^3p + 6m^2p^2 - 4mp^3 + p^4 \quad \text{չորրորդ կարողութիւնը} \\
 \hline
 m^5 - 4m^4p + 6m^3p^2 - 4m^2p^3 + mp^4 \\
 \quad - m^4p + 4m^3p^2 - 6m^2p^3 + 4mp^4 - p^5 \\
 \hline
 m^5 - 5m^4p + 10m^3p^2 - 10m^2p^3 + 5mp^4 - p^5 \quad \text{Պ. օ.} \\
 \hline
 \end{array}$$

3. Ի՞նչ է $3m - 2p + r$ ի քառակուսին :

9. Ի՞նչ է $t + t^2 + t^3$ երեքերի խորանարդը :

Պ. $t^3 + 3t^2t + 3t^2t^2 + 3t^2t^3 + 3t^2t^4 + 3t^2t^5 + 3t^2t^6 + 6t^2t^7 + t^3 + t^3 :$

10. Ի՞նչ է $2m^2 - 4mf + 3f^2$ երեքերի խորանարդը :

Պ. $8m^6 - 48m^5f + 132m^4f^2 - 208m^3f^3 + 198m^2f^4 - 108mf^5 + 27f^6 :$

Կատարաւ մը կարողութեան հանել :

81. Կատարակի մը կարողութիւնը կը գտնուի կատարակը իրմով բազմապատկելով . այսինքն՝ համարիչը համարչով , եւ յայտարարը յայտարարով :

Ինչպէս $\frac{m}{f}$ ի խորանարդը որ կը գրուի

$$\left(\frac{m}{f}\right)^3 = \frac{m}{f} \times \frac{m}{f} \times \frac{m}{f} = \frac{m^3}{f^3},$$

գտնուած է համարիչն ու յայտարարը զատ զատ խորանարդելով :

2. Ի՞նչ է $\frac{m-f}{f+f}$ կատարակին քառակուսին :
Կ'ուենենանք

$$\left(\frac{m-f}{f+f}\right)^2 = \frac{(m-f)^2}{(f+f)^2} = \frac{m^2 - 2mf + f^2}{f^2 + 2ff + f^2} \quad \text{Պ.}$$

3. Ի՞նչ է $\frac{t^3}{3ft}$ ի խորանարդը : Պ. $\frac{t^3t^3}{27f^3t^3} :$

4. Ի՞նչ է $\frac{m^2f}{2t^2t^2}$ ի չորրորդ կարողութիւնը :

$$\text{Պ. } \frac{m^4f^8t^4}{16t^8t^8} :$$

81. Կատարակի մը կարողութիւնն ի՞նչպէս կը գտնուի :

5. Ի՞նչ է $\frac{+ - t}{+ + t}$ ի խորանարդը :

Պ. $\frac{+^3 - 3+^2t + 3+t^2 - t^3}{+^3 + 3+^2t + 3+t^2 + t^3}$:

6. Ի՞նչ է $\frac{2m+}{4m}$ ի չորրորդ կարողութիւնը :

Պ. $\frac{+^4}{16t^4}$:

7. Ի՞նչ է $\frac{9ff+}{18t^2}$ ի հինգերորդ կարողութիւնը :

Պ. $\frac{f^5 t^5 + 5}{32t^5 \cdot 2^5}$:

8. Ի՞նչ է $\frac{2m - 3f}{+ + 2t}$ ի խորանարդը :

Պ. $\frac{8m^3 - 36m^2f + 54mf^2 - 27f^3}{+^3 + 6+^2t + 12+t^2 - 8t^3}$:

Տարաշ Երկեշք .

82. Երկեզր մը կարողութեան հանելու արդէն բացատրուած կերպը քիչ մը ձանձրալի ըլլալուն համար՝ աւելի դիւրին կերպեր մեծ ջանքով փնտռուեցան : Մինչեւ ցարդ գտնուած ամենապարզ կերպն է Տարաշ Երկեշքը, զոր ՚ի լոյս բերաւ Իսահակ Նեպոն :

83. Քանակութիւն մը որեւիցէ կարողութեան հանելու համար՝ յայտնի է թէ նկատելու չորս բան կայ : —

- ա. Քանակութեան եզրերուն թիւը :
- բ. Եզրերուն նշանները :
- գ. Քիւրերուն ցուցիչները :
- դ. Եզերաց համարտադրիչները :

82. Տարաշ Երկեզրին նպատակն ի՞նչ է : Այս տարազը ո՞վ ՚ի լոյս բերաւ :

83. Քանակութիւն մը կարողութեան հանելու համար՝ նկատելու քանի՞ բան կայ : Ի՞նչ են անոնք :

Թէ- Եղբայ :

84. Եթէ 79 Յօդուածին երկու օրինակներն առնենք՝ զոր հոն լիովին պարզեցինք, կ'առնենանք.

$$(m + p)^5 = m^5 + 5m^4p + 10m^3p^2 + 10m^2p^3 + 5mp^4 + p^5 :$$

$$(m - p)^5 = m^5 - 5m^4p + 10m^3p^2 - 10m^2p^3 + 5mp^4 - p^5 :$$

Յօդուած 79 ին այլեւայլ բաղմապատկութիւնները քննելով՝ պիտի տեսնենք թէ երկեզրի մը երկրորդ կարողութիւնը երեք եզր կ'առնենայ, երրորդ կարողութիւնը՝ չորս, չորրորդ կարողութիւնը՝ հինգ, հինգերորդ կարողութիւնը վեց, եւ այլն. ուստի կը հետեւցնենք թէ)

Երկեզրի մը որեւէ կարողութեան եղբայ թէ-ը՝ կարողութեան ցոյցէն Ռէ աւելի է :

Նշանք Եղբայ :

85. Յայտնի է թէ երբ երկեզրի մը երկու եզրերն ալ առաւել են, այսինքն առաւել նշանն ունին, կարողութեան թուր եզրերը առաւել պիտի ըլլան :

Եւ երբ երկեզրի մը երկրորդ եզրը նուազ է, յախ հողէն հաշուելով, թուր անշոյթ եզրերն առաւել կ'ըլլան, և շոյթ եզրերը՝ նոսաղ :

Ցոյցիչ :

86. Երկեզրի մը մէջ առաջին տեղը բռնող գիրը կ'ըսուի նախորդ գիր : Ինչպէս՝ $m + p$, $m - p$, երկեզրերուն մէջ նախորդ գիրն է m :

84. Երկեզրի մը կարողութեան մէջ քանի՞ եզր կայ : Եթէ ցուցիչը 5 է, քանի՞ եզր : Եթէ ցուցիչը 4 է, քանի՞ եզր. եւ այլն :

85. Եթէ երկեզրի մը երկու եզրերն ալ առաւել են, կարողութեան եզրերն ի՞նչպէս կ'ըլլան : Եթէ երկրորդ եզրը նուազ է, եզրաց նշաններն ի՞նչպէս կ'ըլլան :

86. Երկեզրի մը նախորդ գիրն ի՞նչ է : Այն գրին ցուցիչն առաջին եզրին մէջ ի՞նչ է : Եզրերուն մէջ գէպ՝ աջ ի՞նչ

ա. Յայտնի է թէ առաջին եզրին մէջ նախորդ գրին ցուցիչը կարողութեան ցուցչին նման պիտի ըլլայ . եւ թէ այս ցուցիչը ձախէն դէպ' աջ ամէն մէկ եզրին մէջ միութիւն մը պակաս կ'ըլլայ, մինչեւ որ կը հասնինք վերջին եզրին՝ ուր նախորդ գիրը չի գտնուիր :

բ. Երկրորդ եզրին մէջ երկրորդ գրին ցուցիչն է 1, եւ ամէն մէկ եզրին մէջ ձախէն դէպ' աջ միութիւն մը աւելի կ'ըլլայ, մինչեւ որ կը հասնինք վերջին եզրին՝ որուն ցուցիչը տրուած կարողութեան ցուցչին նման է :

դ. Եզրի մը մէջ երկու դրոց ցուցիչներուն գումարը հաւասար է տրուած կարողութեան ցուցչին :

Արդ այս սկզբունքները դործածենք հետեւեալ երկու օրինակներուն մէջ, ուր համարադրիչները գանց առնուած են . —

$$(m + p)^6 \dots m^6 + m^5 p + m^4 p^2 + m^3 p^3 + m^2 p^4 + m p^5 + p^6 :$$

$$(m - p)^6 \dots m^6 - m^5 p + m^4 p^2 - m^3 p^3 + m^2 p^4 - m p^5 + p^6 :$$

Որպէսզի ուսանողը՝ եզրերը իրենց յատուկ նշաններովն առանց համարադրիչի գրելու վարժուի, քանի մը օրինակներ ալ աւելցրնենք :

1. $(m + p)^3 \dots m^3 + m^2 p + m p^2 + p^3 :$
2. $(m + p)^4 \dots m^4 + m^3 p + m^2 p^2 + m p^3 + p^4 :$
3. $(m + p)^5 \dots m^5 + m^4 p + m^3 p^2 + m^2 p^3 + m p^4 + p^5 :$
4. $(m - p)^7 \dots m^7 - m^6 p + m^5 p^2 - m^4 p^3 + m^3 p^4 - m^2 p^5 + m p^6 - p^7 :$

պէս կը փոխուի : Երկրորդ եզրին մէջ երկրորդ գրին ցուցիչն ի՞նչ է : Եզրերուն մէջ դէպ' աջ ի՞նչպէս կը փոխուի : Վերջին եզրին մէջ ցուցիչն ի՞նչ է : Եզրի մը մէջ ցուցիչներուն գումարն ինչի՞ հաւասար է :

Հաստատարարի զե :

87. Առաջին եզրին համարտադրիչը միութիւն է : Երկրորդ եզրին համարտադրիչը արուած կարողութեան ցուցիչն է : Երրորդ եզրին համարտադրիչը կը գտնուի՝ երկրորդ եզրին համարտադրիչը նախորդ դրին ցուցչովը բազմապատկելով, եւ արտադրեալը 2 ուր բաժնելով : Եւ 'ի վերջոյ —

Եթէ եզրի մը հաստատարարի զը նախորդ գրին ցուցչովը բազմապատկուածի, եւ արտադրելու շնորհիւ եզրին յաջորդողովը բաժնուած արեւուոյն իւրովը բաժնուածի, քանորոք հետեւեալ եզրին հաստատարարի զը տեղի ըլլայ :

Ինչպէս՝ հետեւեալ օրինակին մէջ համարտադրիչները գտնելու համար,

$$(a - b)^7 = a^7 - 7a^6b + 21a^5b^2 - 35a^4b^3 + 35a^3b^4 - 21a^2b^5 + 7ab^6 - b^7$$

Նախ կը գտնենք 7 ցուցիչը իբր համարտադրիչ երկրորդ եզրին : Անտեսն երրորդ եզրին համարտադրիչը գտնելու համար՝ կը բազմապատկենք 7 ը 6 ուր, այսինքն ա ի ցուցչովը, եւ կը բաժնենք 2 ուր : Ելած 21 քանորոք երրորդ եզրին համարտադրիչն է : Չորրորդ եզրին համարտադրիչը գտնելու համար՝ 21 ը 5 ուր կը բազմապատկենք, եւ արտադրեալը 3 ուր կը բաժնենք, եւ կ'ուենանք 35 : Հինգերորդ եզրին համարտադրիչը գտնելու համար՝ 35 ը 4 ուր կը բազմապատկենք, եւ արտադրեալը 4 ուր կը բաժնենք, եւ կ'ուենանք 35 : Վեցերորդ եզրին համարտադրիչը միեւնոյն կերպով գտնելով՝ 21 է. եօթներորդինը՝ 7. եւ ութերորդինը՝ 1 : Հաւաքելով այս համարտադրիչները,

$$(a - b)^7 = a^7 - 7a^6b + 21a^5b^2 - 35a^4b^3 + 35a^3b^4 - 21a^2b^5 + 7ab^6 - b^7$$

87. Ի՞նչ է առաջին եզրին համարտադրիչը : Ի՞նչ է երկրորդին համարտադրիչը : Ի՞նչպէս կը գտնուի երրորդ եզրին համարտադրիչը : Ի՞նչպէս կը գտնուի եզրի մը համարտադրիչը : Ի՞նչ

Մանօթն-թիւն : — Այս վերջին արդիւնքը քննելով կը տեսնենք թէ ծայրի եզրերուն համարտադրիչները միութիւն են , եւ թէ ծայրի եզրերէն հաւասարապէս հեռի եզող եզրերուն համարտադրիչները հաւասար են : Ուստի բաւական կ'ըլլայ միայն դասել եզրերուն առաջին կէսին համարտադրիչները , եւ անոնցմէ անմիջապէս միւսներն ալ կրնայ գրուիլ :

ՅԻՆԱԿՔ

1. Պատիւր $m + p$ չորրորդ կարողութիւնը :

$$\eta . m^4 + 4m^3p + 6m^2p^2 + 4mp^3 + p^4 :$$

2. Պատիւր $m - p$ չորրորդ կարողութիւնը :

$$\eta . m^4 - 4m^3p + 6m^2p^2 - 4mp^3 + p^4 :$$

3. Պատիւր $m + p$ հինգերորդ կարողութիւնը :

$$\eta . m^5 + 5m^4p + 10m^3p^2 + 10m^2p^3 + 5mp^4 + p^5 :$$

4. Պատիւր $m - p$ հինգերորդ կարողութիւնը :

$$\eta . m^5 - 5m^4p + 10m^3p^2 - 10m^2p^3 + 5mp^4 - p^5 :$$

5. Պատիւր $m + p$ վեցերորդ կարողութիւնը :

$$\eta . m^6 + 6m^5p + 15m^4p^2 + 20m^3p^3 + 15m^2p^4 + 6mp^5 + p^6 :$$

6. Պատիւր $m - p$ վեցերորդ կարողութիւնը :

$$\eta . m^6 - 6m^5p + 15m^4p^2 - 20m^3p^3 + 15m^2p^4 - 6mp^5 + p^6 :$$

7. Հանէ $3m^2p - 2p^2$ երկեզը չորրորդ կարողութեան :

Շատ անգամ կը պատահի որ երկեզը քանակութեան մը եզրերը համարտադրիչ եւ ցուցիչ կ'ունենան , ինչպէս նախընթաց օրինակին մէջ : Նախ եր-

են առաջին և վերջն եզրերուն համարտադրիչները : Ի՞նչպէս են երկու ծայրերէն հաւասարապէս հեռի եզող համարտադրիչները :

կեղրին իւրաքանչիւր եզրը կը ներկայացընենք մինակ գրով մը : Ինչպէս, կը գնենք

$$3m^2f = +, \text{ եւ } -2fr = \text{է},$$

անատեն կ'ուեննանք

$$(+ + \text{է})^4 = +^4 + 4+^3\text{է} + 6+^2\text{է}^2 + 4+\text{է}^3 + \text{է}^4 :$$

Բայց՝ $+^2 = 9m^4f^2, +^3 = 27m^6f^3, +^4 = 81m^8f^4.$

եւ $\text{է}^2 = 4f^2r^2, \text{է}^3 = -8f^3r^3, \text{է}^4 = 16f^4r^4 :$

Փոխադրելով + ի եւ է ի արժէքները իրենց տեղը կ'ուեննանք

$$(3m^2f - 2fr)^4 = (3m^2f)^4 + 4(3m^2f)^3(-2fr) + 6(3m^2f)^2(-2fr)^2 + 4(3m^2f)(-2fr)^3 + (-2fr)^4,$$

եւ նշանակեալ գործողութիւնները կատարելով՝ կ'ուեննանք

$$(3m^2f - 2fr)^4 = 81m^8f^4 - 216m^6f^3fr + 216m^4f^2f^2r^2 - 96m^2ff^3r^3 + 16f^4r^4 :$$

8. Ի՞նչ է $3m - 6f$ ի քառակուսին :

$$\text{Պ. } 9m^2 - 36mf + 36f^2 :$$

9. Ի՞նչ է $3+ - 6\text{է}$ ի խորանարդը :

$$\text{Պ. } 27+^3 - 162+^2\text{է} + 324+\text{է}^2 - 216\text{է}^3 :$$

10. Ի՞նչ է $+ - \text{է}$ ի քառակուսին :

$$\text{Պ. } +^2 - 2+\text{է} + \text{է}^2 :$$

11. Ի՞նչ է $m - 3f$ ի չորրորդ կարողութիւնը :

$$\text{Պ. } m^4 - 12m^3f + 54m^2f^2 - 108mf^3 + 81f^4 :$$

Ծանօթութիւն : — Բազմեզրի մը կարողութիւնները դիւրաւ կը գտնուին Տարադ Երկեզրով .

12. Չորօրինակ հանէ $m + f + f$ երրորդ կարողութեան :

$$\text{Նախ՝ դիր } \dots f + f = r :$$

Անատեն՝ $(m + f + f)^3 = (m + r)^3 = 3m^3 + 3m^2r + 3mr^2 + r^3 :$

Կամ՝ փոխադրելով x ի արժէքն իր տեղը ,

$$(m + p + q)^3 = m^3 + 3m^2p + 3m^2q + p^3 + 3m^2q + 3p^2q + 6mpq + 3mq^2 + 3p^2q^2 + q^3 :$$

Այս քանակութիւնը կը բաղկանայ երեք եզրերուն իրարանարդնեցուն գումարէն , առաւել իւրատանգիւր եզր իւր երկուս եզրերուն առաջին կարողութեաննէն իւր ճակատարկութեամբ արտարելան եւ ճակատարկէն , առաւել երեք եզրերուն արտարելան զէց անգամն : Ղիւրաւ կ'ապացուցուի թէ այս շրջանք ճշմարիտ է որեւէ բաղմեզրի մը համար :

Նախընթաց տարազը՝ համարտադրիչ եւ ցուցիչ ունեցող երեքեզրի մը խորանարդը գտնելու մէջ դորձածուելու համար՝ ներկայացուր իւրատանգիւր եզր իւր ճակատարկ ճը , ապա այն գրեցուն տեղը դէր երեւց արժէքը , եւ կարարէ նշանակել գործողութեաննէն :

Այս կանոնէն կը գտնենք թէ

$$(2m^2 - \frac{1}{2}mp + 3p^2)^3 = 8m^6 - 48m^5p + 132m^4p^2 - 208m^3p^3 + 198m^2p^4 - 108mp^5 + 27p^6 :$$

13. Ի՞նչ է $m - 2p + q$ ի խորանարդը :

$$\begin{aligned} \text{Պ. } & m^3 - 8p^3 + q^3 - 6m^2p + 3m^2q + 12mp^2 + 12p^2q \\ & + 3mq^2 - 6p^2q^2 - 12mpq : \end{aligned}$$



ԳԼՈՒԽ Ե.

—○○○○—

Ելազար-ճե Բարաակոսի Արճաբոյ խոտոյ ք կաղճաթիան
 Բարաակոսոսոյ և Ելազար-ճե Բարաակոսի Արճաբոյ
 Ալճիպրայական Բանակոթեանց ք Հաշտողաթիան Արճ
 ճաբականաց Երկրորդ Աստիճանի ք

88. Թուոյ մը քարաակոսին կամ երկրորդ կարողութիւնը՝ այն թիւը իրմով անդամ մը բազմապատկելէն ելած արտադրեալն է ։ Զորօրինակ , 49՝ 7ի քառակուսին է , եւ 144՝ 12ի ։

89. Թուոյ մը քարաակոսի արճաբոն այն թիւն է՝ որ իրմով անդամ մը բազմապատկելով տրուած թիւը կ'արտադրէ ։ Ինչպէս՝ 7՝ 49ի քառակուսի արմատն է , եւ 12՝ 144ի . քանզի $7 \times 7 = 49$, եւ $12 \times 12 = 144$ ։

90. Թուոյ մը քառակուսին , թէ ամբողջ ըլլայ թէ կոտորակային , դիւրաւ կը դանուի՝ միշտ թիւ մը իրմով անդամ մը բազմապատկելով ։ Սակայն եւ այնպէս՝ թուոյ մը քառակուսի արմատը դանելուն մէջ քիչ մը դժուարութիւն ըլլալով մասնաւոր բացատրութիւն մը կը պահանջուի ։

88. Թուոյ մը քառակուսին կամ երկրորդ կարողութիւնն ի՞նչ է ։

89. Թուոյ մը քառակուսի արմատն ի՞նչ է ։

90. Մէկ թուանշանով ցուցուած թուոյ մը քառակուսւոյ ամենաբարձր կարգն ի՞նչ պիտի ըլլայ ։ Ի՞նչ են կատարելաբառակուսիները ։ Քանի՞ հատ կան 1ի և 100ի մէջակողք ։ Ի՞նչ են անոնք ։

երկուքէն կը դատենք կէտ մը դնելով միաւորին վրայ, եւ ուրիշ կէտ մը հարիւրաւորին վրայ: Այս զոյգ թուանշաններուն իւրաքանչիւր մասը կը կոչուի պարբերութիւն: Այս թուոյն մէջ 60 մասը բովանդակեալ է 49 եւ 64 երկու քառակուսիներուն մէջտեղը, որոնց արձաններն են 7 եւ 8. ուստի 7 թիւը կը ցոյցնէ քանակութիւնը, եւ պահանջեալ արմատը բաղկացեալ է 7 տասնաւորներէ եւ քանի մը միաւորներէ:

Արդ՝ 7 թուանշանը գտնուած ըլլալով՝ կը դրենք դայն տրուած թուոյն աջ կողմը, որմէ կը դատենք զանիկայ ուղղահայեաց գծով մը. ապա անոր քառակուսին՝ 49, կը հանենք 60 էն, եւ կը

$$\begin{array}{r}
 60\ 84 \quad | \quad 78 \\
 49 \quad \quad \quad | \\
 \hline
 7 \times 2 = 14\ 8 \quad | \quad \begin{array}{r} 118\ 4 \\ 118\ 4 \\ \hline 0 \end{array}
 \end{array}$$

մնայ 11 որուն քով կը բերենք 84, միւս երկու թուանշանները: Այս գործողութեան 1184 արդիւնքը կը պարունակէ քանակութիւնը եւ մասնաւորաց արտադրեալէն կը հանուի, առանձին մասնաւորաց քանակութիւնը:

Բայց որովհետեւ միաւորաց եւ տասնաւորաց արտադրեալը տասնաւորէն վար միութիւն մը կամ միաւոր մը չի կրնար ունենալ, կը հետեւի թէ վերջին 4 թուանշանը տասնաւորաց եւ միաւորաց արտադրեալին կրկին մասը չի կրնար կազմել. վստահութեամբ այս երկպառակ արտադրեալը 118 մասին մէջ կը գտնուի, զոր կը դատենք 4 միաւորէն:

Արդ եթէ տասնաւորները կրկնապատկենք, որ կ'ըլլայ 14, եւ ապա՝ 118 բաժնենք 14ով, 8 քանորդը պիտի ցոյցնէ մասնաւորները, կամ միաւորներէ մեծագոյն թիւ մը: Այս քանորդը շատ փոքր չի կրնար ըլլալ. քանզի 118 մասը գտնէ հաւասար պիտի ըլլայ տասնաւորաց եւ միաւորաց արտադրեալին կրկնապատկին. իսկ շատ մեծ կրնայ ըլլալ. քանզի 118, բայց ՚ի տասնաւորաց եւ միաւորաց ար-

տաղրեալին կրկնապատիկէն, կրնայ միաւորաց քառակուսիէն ելած տասնաւորներ ալ պարունակել: Արդ՝ ելած Տ քանորդին միաւորաց թիւը ցուցնելը առուղելու համար՝ Տ կը դրենք 14ի աջ կողմը, եւ կ'ունենանք 148, եւ ապա 148 կը բազմապատկենք Տ ուլ: Այս կերպով յայտնապէս կը կազմենք, նախ՝ միաւորաց քառակուսին. եւ երկրորդ՝ տասնաւորաց ու միաւորաց արտադրեալին կրկնապատիկը: Այս բազմապատկութիւնը կատարուելով արտադրեալը կ'ըլլայ 1484 որ հաւասար է առաջին գործողութեան արդիւնքին: Հանելով այս արտադրեալը՝ մնացորդը Օի հաւասար կը գտնենք: Ուստի՝ 78 է պահանջեալ արմատը:

Ճշմարիտ է որ այս գործողութիւններուն մէջ՝ միայն արուած 6084 թիւէն հանած ենք, նախ՝ 7 տասնաւորի, այսինքն՝ 70ի քառակուսին. երկրորդ՝ 70ի եւ Տի արտադրեալին կրկնապատիկը. եւ երրորդ՝ Տի քառակուսին, այսինքն՝ $70 + \text{Տ}$ ի, կամ 78ի քառակուսին կազմող երեք մասերը. եւ որովհետեւ այս հանումէն ելածը Օ է, կը հետեւի թէ 78 քառակուսի արմատն է 6084ի:

93. Ծանօթութիւն. — Չերջի օրինակին մէջի գործողութիւնները միայն երկու պարբերութեանց վրայ կատարուեցան, բայց յայտնի է թէ միեւնոյն ձեռնարկութեան եղանակը հաւասարապէս կը յարմարի մեծագոյն թուոց ալ. քանզի միաւորներուն կարգը փոխելով՝ անոնց իրարու հետ ունեցած յարաբերութիւնները չենք փոխեր:

Կնչպէս՝ 6084 93 թուոյն մէջ՝ 6084 երկու պարբերութիւններն իրարու հետ նոյն յարաբերութիւնն ունին, ինչ որ 6084 թուոյն մէջ. ուստի եւ վերջին օրինակին մէջ գործածուած եղանակը հաւասարապէս կը պատշաճի մեծագոյն թուոց ալ:

95. Օրինակին մէջի ձեռնարկութիւնը երկուքէն աւելի պարբերութիւն ունեցող թուոց կրնայ պատշաճիլ:

94. Ուստի թուոց քառակուսի արմատը հանելու համար՝ հետեւեալ կանոնն ունինք :

ԿԱՆՈՆ

Ա. Աջ կողմն սկսելով դեպի յախ ընամանշանները զոյժ զոյժ պարբերութեան բաժնէ կտրերով. — Ձախ կողմ պարբերութեանը շատ անգամ թայն ձեկ ընամանշան պիտի պարունակէ :

Բ. Գորիք յախ կողմն առաջին պարբերութեան ասեմասե՛ծ + առասկոսին, և արժապը աջ կողմը գրէ իբրև + անորդ : Հանէ այս արժապին + առասկոսին առաջին պարբերութեանն, և մնացածին + ո՛վը բեր երկրորդ պարբերութեանը և կ'ըլլայ բաժանելի :

Գ. Արդե՛ն գրած արժապը կրկնապատկելով յախ կողմը դիր, և կ'ըլլայ բաժանարար : Նայէ թէ բաժանարարը բաժանելանոյն ձեջ + անի անգամ կայ (բաժանելանոյն աջ կողմն ընամանշանը դուրս յիջելով), և ելածը թէ արժապին ձեջ և թէ բաժանարարին աջ կողմը դիր :

Դ. Բազմապատկէ այսպէս աւելցուած բաժանարարը՝ արժապին զէրջին ընամանշանովը, և հանէ արտադրեալը բաժանելիին, և մնացածին + ո՛վը բեր թա պարբերութեանը, որ կ'ըլլայ նոր բաժանելի : Բայց եթէ որևէ արտադրեալ ձը բաժանելիին ձե՛ծագոյն է, արժապին զէրջին ընամանշանն ձեկ պահեցուար :

Ե. Կրկնապատկէ արդե՛ն գրնուած ամբողջ արժապը նոր բաժանարարի համար, և գործողութեանը նոյնպէս շարունակէ, թնչև որ բոլոր պարբերութեանները հասնին :

95. Ծանօթութեան 1 : — Եթէ բոլոր պարբերութիւնները վար բերուելին ետքը մնացորդ չկայ,

94. թուոց քառակուսի արմատը հանելու կանոնն ի՞նչ է ի՞նչ է առաջին քայլը : ի՞նչ է երկրորդը : ի՞նչ է երրորդը : ի՞նչ է չորրորդը : ի՞նչ է հինգերորդը :
95. ի՞նչպէս կը գիտցուի թէ առաջարկեալ թիւը կատարեալ քառակուսի մըն է :

առաջարկեալ թիւը կատարեալ քառակուսի մըն է :
Իսկ եթէ մնացորդ կայ, անատեն տրուած թուոյն
մէջ պարունակեալ ամենամեծ կատարեալ քառա-
կուսուոյն արմատը միայն դտած կ'ըլլաս, կամ քն-
արբանաւթ արճապի՛ն ամբողջ ճասը :

Զորօրինակ՝ եթէ 665 ի քառակուսի արմատը հա-
նենք, պիտի գտնենք որ արմատին ամբողջ մասն է
25, եւ մնացորդը 40, որ կը ցուցնէ թէ 665 կատար-
եալ քառակուսի մը չէ : Բայց 25 ի քառակուսին 665 ի
մէջ պարունակեալ ամենէն մեծ կատարեալ քառա-
կուսին է . այսինքն, 25, արմատին ամբողջ մասն
է : Ասիկայ ապացուցանելու համար՝ նախ պիտի
ցուցնենք թէ՛ երկու յաջորդական թուոց + աւանդու-
ներուն քարթերութիւնը հաւասար է քոթր թուոյն կրկնա-
պարկին զրայ յաւելելու ճի՛շտ :

Թող $m =$ փոքր թուոյն
եւ $m + 1 =$ մեծ թուոյն,
անատեն $(m + 1)^2 = m^2 + 2m + 1,$
եւ $(m)^2 = m^2 :$

Անոնց տարբերութիւնը $= \underline{\underline{2m + 1}}$:

Ուստի՝ արմատին ամբողջ մասը չի կրնար աւել-
ցուիլ, եթէ մնացորդը՝ գտնուած արմատին երկպա-
տիկը եւ առաւել մէկի հաւասար կամ անկէ մեծա-
զոյն չըլլայ :

Բայց $25 \times 2 + 1 = 51 > 40$ մնացորդը . վասնորոյ՝
25 արմատին ամբողջ մասն է :

96. Մանրթութիւն 2 : — Արմատին մէջ թուա-
նշանաց տեղերը միշտ հաւասար կ'ըլլան բաժանեալ
պարբերութեանց թուոյն :

ՕՐԻՆԱԿՔ

1. Քառակուսի 7225 ի քառակուսի արմատը : $\sqrt{7225} = 85$:
2. Քառակուսի 17689 ի քառակուսի արմատը : $\sqrt{17689} = 133$:

96. Արմատին մէջ միշտ քանի՞ թուանշաններ պիտի գտնուին :

- 3. Պատիւը 994009 ի քառակուսի արմատը . Պ . 997 :
- 4. Պատիւը 85673536 ի քառակուսի արմատը :
Պ . 9256 :
- 5. Ի՞նչ է 36372961 ի քառակուսի արմատը :
Պ . 6031 :
- 6. Ի՞նչ է 22074204 ի քառակուսի արմատը :
Պ . 4698 :
- 7. Ի՞նչ է 406929 ի քառակուսի արմատը :
+ Պ . 327 :
- 8. Ի՞նչ է 42088868379025 ի քառակուսի արմատը :
Պ . 3476905 :

97. Մանուշակեան 3 : — Եթէ տրուած թիւը ճշգրիտ արմատ չունի , բոլոր պարբերութիւնները վար բերուելէն ետքը մնացորդ մը պիտի ըլլայ , որուն առջեւը զրոյ դնելով՝ նոր պարբերութիւններ կը կազմուին , եւ իւրաքանչիւր պարբերութեան տեղը արմատին մէջ մէկ տասնորդական տեղ մը պիտի ըլլայ :

- 1. Ի՞նչ է 36729 ի քառակուսի արմատը :

Այս օրինակին մէջ տասնորդականի երկու պարբերութիւն կայ , եւ ուստի՝ արմատին մէջ ալ տասնորդականի երկու տեղ կայ :

	3 67 29	191 . 64 +
	1	
	2 9	267
	264	
	38 1	629
	384	
	382 6	24800
	22956	
	3832 4	188400
	153296	
	Մնացորդ	31104

97. Ի՞նչպէս կը գտնուի արմատին տասնորդական մասը :

2. Ի՞նչ է 2268741 ի քառակուսի արմատը :
Պ . 1506 . 23 + :
3. Ի՞նչ է 7596796 ի քառակուսի արմատը :
Պ . 2756 . 22 + :
4. Ի՞նչ է 96 ի քառակուսի արմատը :
Պ . 9 . 79795 + :
5. Ի՞նչ է 153 ի քառակուսի արմատը :
Պ . 12 . 36931 + :
6. Ի՞նչ է 101 ի քառակուսի արմատը :
Պ . 10 . 04987 + :
7. Ի՞նչ է 285970396644 ի քառակուսի արմատը :
Պ . 534762 :
8. Ի՞նչ է 48303584206084 ի քառակուսի արմատը :
Պ . 6950078 :

Ելնազրամն Ժառակոսի արմատոյ կոտորակաց :

98. Արովհետեւ կոտորակի մը քառակուսին կամ երկրորդ կարողութիւնը կը գտնուի, համարիչը եւ յայտարարը զատ զատ քառակուսելով՝ կը հետեւի ուրեմն թէ կոտորակի մը քառակուսի արմատը հաւասար է՝ յայտարարին արմատովը բաժանեալ քառակուսի արմատոյ համարչին :

Զորօրինակ՝ $\frac{m^2}{p^2}$ ի քառակուսի արմատը հաւասար է $\frac{m}{p}$ ի :

քանզի ,

$$\frac{m}{p} \times \frac{m}{p} = \frac{m^2}{p^2} :$$

1. Ի՞նչ է $\frac{1}{4}$ ի քառակուսի արմատը : Պ . $\frac{1}{2}$:

98. Եթէ կոտորակի մը համարիչն ու յայտարարը կատարեալ քառակուսիներ են, ի՞նչպէս կը հանուի քառակուսի արմատը :

2. Ի՞նչ է $\frac{9}{16}$ ի քառակուսի արմատը : Պ. $\frac{3}{4}$:

3. Ի՞նչ է $\frac{64}{81}$ ի քառակուսի արմատը : Պ. $\frac{8}{9}$:

4. Ի՞նչ է $\frac{256}{361}$ ի քառակուսի արմատը : Պ. $\frac{16}{19}$:

5. Ի՞նչ է $\frac{16}{64}$ ի քառակուսի արմատը : Պ. $\frac{1}{2}$:

6. Ի՞նչ է $\frac{582169}{956484}$ ի քառակուսի արմատը : $\frac{763}{978}$

99. Եթէ ոչ համարիչը եւ ոչ յայտարարը կատարեալ քառակուսի են, կոտորակին ճշգրիտ արմատը չի կրնար գտնուիլ: Սակայն կրնանք անոր մերձաւոր արմատը գիւրաւ գտնել: Ստիկայ գտնելու համար՝

Բազմապատկէ կոտորակին երկու եզրերն ալ յայտարարով, եւ առանց կոտորակին արժէքը փոփոակելու յայտարարը կատարեալ փաստիտակի մը կ'ըլլայ: Այս համարչին փաստիտակի արմատը հանէ, եւ թափնէ ելած արմատը յայտարարին արմատովը. ելած փաստիտակը մերձաւոր արմատն է:

Ինչպէս՝ եթէ $\frac{3}{5}$ ի քառակուսի արմատը հանենք՝ կը բազմապատկենք երկու եզրերն ալ 5 ով, եւ կ'ուսենանք $\frac{15}{25}$:

Անատեն կ'ուսենանք
 $\sqrt{15} = 3.8729 +$,
 ուստի $3.8729 + \div 5 = .7745 +$:
 2. Ի՞նչ է $\frac{7}{4}$ ի քառակուսի արմատը :
 Պ. 1.32287 + :

99. Եթէ կոտորակի մը յայտարարն աւ համարիչը կատարեալ քառակուսի չեն, ի՞նչպէս կը հանուի քառակուսի արմատը :

3. Ի՞նչ է $\frac{14}{9}$ ի քառակուսի արմատը :
 Պ . 1 . 24721 + :

4. Ի՞նչ է $11 \frac{11}{16}$ ի քառակուսի արմատը :
 Պ . 3 . 41869 + :

5. Ի՞նչ է $8 \frac{15}{49}$ ի քառակուսի արմատը :
 Պ . 2 . 88203 + :

6. Ի՞նչ է $\frac{5}{12}$ ի քառակուսի արմատը :
 Պ . 3 . 20936 + :

100. Ի վերջոյ, եթէ ուղեւթ, վերջին կերպին տեղ կրնանք Փոխել հասարակ կոորտակը քաանորդականի, և շարունակել բաժանումը մինչև որ քաանորդական պէղբում թիւը պահանջուլ արժապին պէղբում թոռոյն կրկինն ըլլայ : Այս քաանորդականին արժապը է հանելն + վերջին կանոնով :

Օրինակ 1 : Հանէ $\frac{11}{14}$ ի քառակուսի արմատը :

Այս թիւը տաանորդականի վերածուելով կ'ըլլայ 0 . 785714, որուն ամենամերձ արմատն է 0 . 886 :

2. Պար $\sqrt{2 \frac{13}{15}}$:
 Պ . 1 . 6931 + :

3. Ի՞նչ է $\frac{1}{17}$ ի քառակուսի արմատը :
 Պ . 0 . 24253 + :

4. Ի՞նչ է $\frac{7}{8}$ ի քառակուսի արմատը :
 Պ . 0 . 93341 + :

5. Ի՞նչ է $\frac{5}{3}$ ի քառակուսի արմատը :
 Պ . 1 . 29099 + :

100. Աւելի ի՞նչ կանոնով կրնայ արմատ գտնուիլ :

Եւրոպական Գառակուսի Արժաստոյ Միեզերաց :

101. Քառակուսի արձատ գտնելու գործողութիւնը հասկընալու համար՝ տեսնելու ենք թէ միեզրի մը քառակուսին ի՛նչպէս կը կազմուի :

Միեզերաց բազմապատկութեան կանոնով (30դ. 33) , կ'ունենանք

$$(5m^2p^3q)^2 = 5m^2p^3q \times 5m^2p^3q = 25m^4p^6q^2 .$$

այսինքն՝ միեզր մը քառակուսուելու համար՝ հարկ է անոր համարորոշելը +առահոսակ, և իւրաւանդիւր թրոյ ցոյցելը կրկնապատկել : Ուստի միեզրի մը քառակուսի արձատը գտնելու համար հետեւեալ կանոնն ունինք :

ԿԱՆՈՆ

Ա. Հանել համարորոշելն +առահոսակ արժաստը :

Բ. Բաժնել իւրաւանդիւր թրի ցոյցելը 2-ով :

Ինչպէս՝ $\sqrt{64m^6p^4} = 8m^3p^2$, քանզի $8m^3p^2 \times 8m^3p^2 = 64m^6p^4$.

2. Քառակուսի 625m²p⁸q⁶ ի քառակուսի արձատը :

Պ . 25m²p⁴q³ :

3. Քառակուսի 576m⁴p⁶q⁸ ի քառակուսի արձատը :

Պ . 24m²p³q⁴ :

4. Քառակուսի 196t⁶z²u⁴ ի քառակուսի արձատը :

Պ . 14t³z¹u² :

5. Քառակուսի 441m⁸p⁶q¹⁰r¹⁶ ի քառակուսի արձատը :

Պ . 21m⁴p³q⁵r⁸ :

6. Քառակուսի 784m¹²p¹⁴q¹⁶r² ի քառակուսի արձատը :

Պ . 28m⁶p⁷q⁸r :

7. Քառակուսի 81m⁸p⁴q⁶ ի քառակուսի արձատը :

Պ . 9m⁴p²q³ :

101. Ի՞նչպէս կը հանուի միեզրի մը քառակուսի արձատը :

102. Նախընթաց կանոնէն կը հետեւի թէ, երբ միեզր մը կատարեալ քառակուսի է, անոր համար որոշելու հարեալ + առահոսի է, քառք ցոյցելն ալ շոյժ թիւեր են: Ինչպէս՝ $25m^4p^2$ կատարեալ քառակուսի է. իսկ $98m^4$ կատարեալ քառակուսի չէ, քանզի 98 կատարեալ քառակուսի չէ, աի ցուցիչն ալ անզոյժ է:

Ղերջին դէպքին մէջ՝ քանակութիւնը $\sqrt{\quad}$ նշանով կը գրուի այսպէս.

$$\sqrt{98m^4} : (\text{Տես } 104 \cdot 15 :)$$

Այս տեսակ քանակութիւններ կ'ըսուին արժասահանո + անահոսի-նո, կամ պարզապէս երկրորդ աստիճանի արժասահանո:

Այս տեսակ ձեւերը շատ անգամ կրնանք պարզել առ սկզբունքը դործածելով թէ՛ երկոս համ աւելի + անոր որոշականաց արորորեւելն + առահոսի արժասորը հասաւոր է նոյն + անոր որոշականաց + առահոսի արժասորներուն արորորեւելն. կամ ալճէպրայական լեզուով,

$$\sqrt{m^2 p^2 q^2 r^2} \cdot \cdot \cdot = \sqrt{m} \cdot \sqrt{p} \cdot \sqrt{q} \cdot \sqrt{r} \cdot \cdot \cdot$$

Այս սկզբամբ՝ վերոյեղեալ քանակութիւնը կը բնանք հետեւեալ ձեւին փոխել,

$$\sqrt{49p^4 \times 2m} = \sqrt{49p^4} \times \sqrt{2m} :$$

Արդ՝ $\sqrt{49p^4}$ կը վերածուի $7p^2$ ի . ուստի,

$$\sqrt{98m^4} = 7p^2 \sqrt{2m} :$$

Նմանապէս՝

$$\sqrt{45m^2 p^3 q^2 r} = \sqrt{9m^2 p^2 q^2} \times \sqrt{5p r} = 3m p q \sqrt{5p r} :$$

$$\sqrt{864m^2 p^5 q^{11}} = \sqrt{144m^2 p^4 q^{10}} \times \sqrt{6p q} = 12m p^2 q^5 \sqrt{6p q} :$$

102. Ե՞րբ միեզր մը կատարեալ քառակուսի է: Ե՞րբ չէ. և ի՞նչ նշանով կը գրուի: Այս տեսակ քանակութիւններ ի՞նչ կը կոչուին: Ի՞նչպէս կրնայ պարզուիլ: Ի՞նչ սկզբունքով: Ի՞նչ է արմատականի համարտադրիչը: Ի՞նչ է արմատականները վերածելու կանոնը:

Արմատական նշանէն դուրս եղած քանակութիւնը կ'ըսուի համարադրելի արմատականին : Ինչպէս՝

$7p^2 \sqrt{2m}$, $3m^3 \sqrt{5pq}$, $12m^2 p^5 \sqrt{6pq}$ ձեւերուն մէջ, $7p^2$, $3m^3$, $12m^2 p^5$ քանակութիւնները կը կոչուին համարադրելի արմատականաց :

Ուստի՝ երկրորդ աստիճանի արմատական ձեւ մը պարզելու համար՝ հետեւեալ կանոն ունինք :

ԿԱՆՈՆ

Ա. Բաժնէ արմատական նշանին որակի Ժամակուտիւնը երկուս Ժամակուտականաց, որոնց մէկը կարարեալ Ժամակուտի է :

Բ. Հանէ կարարեալ Ժամակուտացն Ժամակուտի արմատը, եւ ապա Քաղճապարէի նոյն արմատը մնացած Ժամակուտաց նշանակեալ Ժամակուտի արմատովը :

103. Ծանօթեալիւն : — Տրուած թուոյ մը կատարեալ քառակուսի եղող որ եւ է քանորդական մը ունենալը որոշելու համար՝ քննելով կը տեսնենք թէ արդեօք որ եւ է կատարեալ քառակուսուով մը կրնա՞յ բաժնուիլ :

Ինչպէս՝ 4, 9, 16, 25, 36, 49, 64, 81, եւ այլն, եւ եթէ վերոյեղեալ որ եւ է քառակուսուով չի բաժնուիր, կը հետեւցնենք թէ կատարեալ քառակուսի եղող քանորդական մը չի պարունակեր :

ՕՐԻՆԱԿՔ

1. Վերածէ $\sqrt{75m^3pq}$ իր ամենապարզ ձեւին :
Պ. $5m \sqrt{3pq}$:
2. Վերածէ $\sqrt{128p^5m^6q^2}$ իր ամենապարզ ձեւին :
Պ. $8p^2m^3q \sqrt{2p}$:

103. Ի՞նչպէս կ'որոշուի թէ տրուած թիւը կատարեալ քառակուսի եղող քանորդական մը ունի :

3. Վերածէ $\sqrt{32m^9p^8q}$ իր ամենապարզ ձևելին :
 Պ . $4m^4p^4 \sqrt{2mq}$:
4. Վերածէ $\sqrt{256m^2p^4q^8}$ իր ամենապարզ ձևելին :
 Պ . $16mp^2q^4$:
5. Վերածէ $\sqrt{1024m^9p^7q^5}$ իր ամենապարզ ձևելին :
 Պ . $32m^4p^3q^2 \sqrt{mpq}$:
6. Վերածէ $\sqrt{729m^7p^5q^6r}$ իր ամենապարզ ձևելին :
 Պ . $27m^3p^2q^3 \sqrt{mqr}$:
7. Վերածէ $\sqrt{675m^7p^5q^2r}$ իր ամենապարզ ձևելին :
 Պ . $15m^3p^2q \sqrt{3mqr}$:
8. Վերածէ $\sqrt{1445m^3q^8r^4}$ իր ամենապարզ ձևելին :
 Պ . $17mq^4r^2 \sqrt{5m}$:
9. Վերածէ $\sqrt{2136m^{10}p^8q^6}$ իր ամենապարզ ձևելին :
 Պ . $14m^5p^4q^3 \sqrt{11}$:
10. Վերածէ $\sqrt{405m^7p^6q^8}$ իր ամենապարզ ձևելին :
 Պ . $9m^3p^3q^4 \sqrt{5m}$:

104. Որովհետև երկու քանորդականաց միևնույն նշանն ունեցող արտադրեալին առաւել նշանը կը գրուի, ինչպէս — m ի քառակուսին՝ + m ի քառակուսւոյն պէս, կ'ըլլայ m^2 . ուստի m^2 ի արմատը կամ + m կամ — m է: Նաև $25m^2p^4$ ի քառակուսի արմատը կամ + $5mp^2$, կամ — $5mp^2$ է: Ասկէ կը հետևեցնենք որ, եթէ միեզր մը դրական է, անոր քառակուսի արմատը կրնայ + կամ — նշանը ունենայ:

104. Միեզրի մը քառակուսի արմատէն առաջ ի՞նչ նշան կը գրուի: Ի՞նչու աւելի կամ նուազ նշանը կը գրուի: Ի՞նչ է երկակայական քանակութիւն մը: Ինչո՞ւ երկակայական կը կոչուի:

նենալ . ինչպէս , $\sqrt{9m^4} = \pm 3m^2$. քանզի , $\pm 3m^2$
կամ $- 3m^2$ քառակուսուելով՝ կու տայ $9m^4$: Այս
 \pm կրկնակի նշանը երբ արմատէ մը առաջ կը դրուի ,
կը կարդացուի աւելի կամ նոսալ :

Եթէ առաջարկեալ միեզրը բացասական ըլլար ,
անոր քառակուսի արմատը հանել անհնարին պիտի
ըլլար , քանզի վերը ցուցուցինք թէ ամէն քանակու-
թեան քառակուսին էապէս դրական կ'ըլլայ , քա-
նակութիւնը թէ դրական ըլլայ եւ թէ բացասական :

Վասնորոյ , $\sqrt{-9}$, $\sqrt{-4m^2}$, $\sqrt{-8m^2p}$,

ալճէպրայական ձեւեր են որոնց քառակուսի ար-
մատը հանել անկարելի է : Ասոնք կը կոչուին երեւա-
կացական \pm անակոթիւնք . եւ շատ անգամ կը պատահին
երկրորդ աստիճանի հաւասարութեանց լուծմանը
մէջ : Բայց եւ այնպէս այս տեսակ ձեւերն ալ 102
յօդուածին կանոնովը կրնան պարզուիլ : Ինչպէս՝

$$\sqrt{-9} = \sqrt{9 \times -1} = 3 \sqrt{-1}$$

եւ $\sqrt{-4m^2} = \sqrt{4m^2 \times -1} = 2m \sqrt{-1}$.

Նաեւ $\sqrt{-8m^2p} = \sqrt{4m^2 \times -2p} = 2m \sqrt{-2p} =$
 $2m \sqrt{2p} \times \sqrt{-1}$:

105. Արժատական \pm անակոթիւնք՝ անկատար կա-
րողութեան մը նշանակեալ արմատն է , ինչպէս՝
 \sqrt{m} , $3\sqrt{p}$, $7\sqrt{2}$, եւ այլն :

Այս տեսակ ձեւերուն վրայ Ալճէպրայի չորս հիմ-
նական գործողութիւնները կատարելու համար կա-
նոններ յառաջ պիտի բերենք :

106. Երկրորդ աստիճանի երկու արմատական-
ներ նման կ'ըսուին , երբ արմատական նշանին տակը

105. Ի՞նչ է արմատական քանակութիւն մը :
106. Ե՞րբ երկրորդ աստիճանի արմատականք նման են :

եղած երկու քանակութիւններն ալ նման են : Ինչպէս՝ $3\sqrt{p}$ եւ $5\sqrt{p}$, նման արմատականներ են . եւ այսպէս են նաեւ $9\sqrt{2}$ եւ $7\sqrt{2}$:

ՅԱԻԵԼՈՒՄ

107. Երկրորդ աստիճանի արմատականք կը գումարուին հետեւեալ կանոնով :

ԿԱՆՈՆ

Ա. Եթէ արժապահանք նման էն, անոնց համարապարէշները գումարէ, եւ գումարին կցէ արժապահանք մասը :

Բ. Եթէ արժապահանք նման չէն, կապէ զանոնք միարեւ իրենց յարուսի նշաններովը :

Ինչպէս, $3\sqrt{p} + 5\sqrt{p} = (3 + 5)\sqrt{p}$:

Նմանապէս,

$$7\sqrt{2} + 3\sqrt{2} = (7 + 3)\sqrt{2} = 10\sqrt{2} :$$

Երկու արմատականք՝ որ առաջին տեսութեամբ աննման կ'երեւին, պարզելով նման կ'ըլլան (307 . 102) :

Զորօրինակ,

$$\sqrt{48p^2} + p\sqrt{75} = 4p\sqrt{3} + 5p\sqrt{3} = 9p\sqrt{3} .$$

եւ $2\sqrt{45} + 3\sqrt{5} = 6\sqrt{5} + 3\sqrt{5} = 9\sqrt{5} :$

Երբ արմատականները նման չեն, յաւելումը կամ հանումը կրնայ միայն նշանակուիլ : Ինչպէս՝ $3\sqrt{p}$ գումարելու համար $5\sqrt{m}$ ի հետ, կը գրենք

$$5\sqrt{m} + 3\sqrt{p} :$$

107. Ի՞նչպէս կը գումարուին երկրորդ աստիճանի արմատականք : Ի՞նչպէս կը գումարուին աննման արմատականք :

ՕՐԻՆԱԿԻ

1. Ի՞նչ է $\sqrt{27m^2}$ ի եւ $\sqrt{48m^2}$ ի գումարը :

Պ . $7m\sqrt{3}$:

2. Ի՞նչ է $\sqrt{50m^4p^2}$ ի եւ $\sqrt{72m^4p^2}$ ի գումարը :

Պ . $11m^2p\sqrt{2}$:

3. Ի՞նչ է $\sqrt{\frac{3m^2}{5}}$ ի եւ $\sqrt{\frac{m^2}{45}}$ ի գումարը :

Պ . $4m\sqrt{\frac{1}{45}}$:

4. Ի՞նչ է $\sqrt{125}$ ի եւ $\sqrt{500m^2}$ ի գումարը :

Պ . $(5 + 10m)\sqrt{5}$:

5. Ի՞նչ է $\sqrt{\frac{50}{147}}$ ի եւ $\sqrt{\frac{400}{294}}$ ի գումարը :

Պ . $\frac{10}{21}\sqrt{6}$:

6. Ի՞նչ է $\sqrt{98m^2 + 1}$ եւ $\sqrt{36 + 2 - 36m^2}$ ի գումարը :

Պ . $7m\sqrt{2+} + 6\sqrt{+^2 - m^2}$:

7. Ի՞նչ է $\sqrt{98m^2 + 1}$ եւ $\sqrt{288m^4 + 5}$ ի գումարը :

Պ . $(7m + 12m^2 + 2)\sqrt{2+}$:

8. Գումարէ $\sqrt{72}$ եւ $\sqrt{128}$: Պ . $14\sqrt{2}$:

9. Գումարէ $\sqrt{27}$ եւ $\sqrt{147}$: Պ . $10\sqrt{3}$:

10. Գումարէ $\sqrt{\frac{2}{3}}$ եւ $\sqrt{\frac{27}{50}}$: Պ . $\frac{19}{30}\sqrt{6}$:

11. Գուճարէ $2 \sqrt{m^2 p}$ եւ $3 \sqrt{64p+4}$:

$$\eta \cdot (2m + 24p^2) \sqrt{p} :$$

12. Գուճարէ $\sqrt{243}$ եւ $10 \sqrt{363}$: $\eta \cdot 119 \sqrt{3}$:

13. Գուճարէ $\sqrt{320m^2 p^2}$ եւ $\sqrt{245m^8 p^6}$:

$$\eta \cdot (8mp + 7m^4 p^3) \sqrt{5} :$$

14. Գուճարէ $\sqrt{75m^6 p^7}$ եւ $\sqrt{300m^6 p^5}$:

$$\eta \cdot (5m^3 p^3 + 10m^3 p^2) \sqrt{3p} :$$

Հ Ա Ն Ո Ւ Մ

108. Արճատական մը ուրիշ արճատականէ հասնելու համար հետեւեալ կանոնն ունինք :

Կ Ա Ն Ո Ն

Ա. Եթէ արճատականն նման էն, հանէ անոնց հարաբարութիւնը, եւ որքեքրութեանը կցէ արճատական մասը :

Բ. Եթէ արճատականն նման չէն, նշանակէ անոնց որքեքրութեանը նոսալ նշանով :

ՕՐԻՆԱԿՔ

1. Ի՞նչ է $3m \sqrt{p}$ եւ $m \sqrt{p}$ տարբերութիւնը :

Հոս՝ $3m \sqrt{p} - m \sqrt{p} = 2m \sqrt{p}$, η :

108. Ի՞նչպէս կը հանուին նման արճատականներ : Ի՞նչպէս կը հանուին աննման արճատականներ :

2. Հանել $9m \sqrt{27p^2}$ է $6m \sqrt{27p^2}$:

Նախ $9m \sqrt{27p^2} = 27mp \sqrt{3}$, եւ $6m \sqrt{27p^2} = 18mp \sqrt{3}$. եւ $27mp \sqrt{3} - 18mp \sqrt{3} = 9mp \sqrt{3}$, Պ :

3. Ի՞նչ է $\sqrt{75}$ ի եւ $\sqrt{48}$ ի տարբերութիւնը :

Պ . $\sqrt{3}$:

4. Ի՞նչ է $\sqrt{24m^2p^2}$ ի եւ $\sqrt{54p^4}$ ի տարբերութիւնը :

Պ . $(2mp - 3p^2) \sqrt{6}$:

5. Ի՞նչ է $\sqrt{128m^3p^2}$ ի եւ $\sqrt{32m^9}$ ի տարբերութիւնը :

Պ . $(8m^2p - 4m^4) \sqrt{2m}$:

6. Ի՞նչ է $\sqrt{48m^3p^3}$ ի եւ $\sqrt{9mp}$ ի տարբերութիւնը :

Պ . $4mp \sqrt{3mp} - 3 \sqrt{mp}$:

7. Ի՞նչ է $\sqrt{242m^5p^5}$ ի եւ $\sqrt{2m^3p^3}$ ի տարբերութիւնը :

Պ . $(11m^2p^2 - mp) \sqrt{2mp}$:

8. Ի՞նչ է $\sqrt{\frac{3}{4}}$ ի եւ $\sqrt{\frac{3}{9}}$ ի տարբերութիւնը :

Պ .

Պ . $\frac{1}{6} \sqrt{3}$:

9. Ի՞նչ է $\sqrt{320m^2}$ ի եւ $\sqrt{80m^2}$ ի տարբերութիւնը :

Պ . $4m \sqrt{5}$:

10. Ի՞նչ է $\sqrt{720m^3p^3}$ ի եւ $\sqrt{245m^2p^2r^2}$ ի տարբերութիւնը :

Պ . $(12mp - 7pr) \sqrt{5mp}$:

11. Ի՞նչ է $\sqrt{968m^2p^2}$ ի եւ $\sqrt{200m^2p^2}$ ի տարբերութիւնը :

Պ . $12mp \sqrt{2}$:

12. Ի՞նչ է $\sqrt{112m^8p^6}$ ի եւ $\sqrt{28m^8p^6}$ ի տարբերութիւնը :
 Պ . $2m^4p^3 \sqrt{7}$:

ԲԱԶՄԱՊԱՏԿՈՒԹԻՒՆ

109. Արմատականաց բազմապատկութեանը համար հետեւեալ կանոնն ունինք :

ԿԱՆՈՆ

Ա. Բազմապատկի արժանապատկան նշանաց պատկի փանակաթիւնները , եւ արտադրութեան զրաց դէր արժանապատկան նշանը :

Բ. Եթէ արժանապատկի համարարարիչն ունին , զանոնք ֆաստիզ քաղճապատկի , եւ արտադրութեան արժանապատկան ճասէն առաջ դրէ :

$$\text{Ինչպէս , } \sqrt{m} \times \sqrt{p} = \sqrt{mp} :$$

Ասիկա 102երորդ Յօդուածին սկզբունքն է , որ առնուած է հակառակ կարգով մը :

ՕՐԻՆԱԿԻ

1. Ի՞նչ է $3 \sqrt{5m^2}$ ի եւ $4 \sqrt{20m}$ ի արտադրեալը :
 Պ . $120m \sqrt{p}$:

2. Ի՞նչ է $2m \sqrt{p^2}$ ի եւ $3m \sqrt{p^2}$ ի արտադրեալը :
 Պ . $6m^2 p^2$:

3. Ի՞նչ է $2m \sqrt{m^2 + p^2}$ ի եւ $-3m \sqrt{m^2 + p^2}$ ի արտադրեալը :
 Պ . $-6m^2 (m^2 + p^2)$:

109. Ի՞նչպէս կը բազմապատկին արմատական նշանաց տակի քանակութիւնները : Երբ արմատականք համարտարիչ ունին , ի՞նչպէս կը բազմապատկին :

4. Ի՞նչ է $3\sqrt{2}$ ի եւ $2\sqrt{8}$ ի արտադրեալը :
 Պ . 24 :

5. Ի՞նչ է $\frac{5}{3}\sqrt{\frac{3}{8}m^2p}$ ի եւ $\frac{2}{10}\sqrt{\frac{2}{5}t^2p}$ ի
 արտադրեալը :
 Պ . $\frac{1}{30}m^2t^2\sqrt{15}$:

6. Ի՞նչ է $2t + \sqrt{p}$ ի եւ $2t - \sqrt{p}$ ի արտադրեալը :
 Պ . $4t^2 - p$:

7. Ի՞նչ է $\sqrt{m+2}\sqrt{p}$ ի եւ $\sqrt{m-2}\sqrt{p}$ ի
 արտադրեալը :
 Պ . $\sqrt{m^2 - 4p}$:

8. Ի՞նչ է $3m\sqrt{27m^3}$ ի եւ $\sqrt{2m}$ ի արտադրեալը :
 Պ . $9m^3\sqrt{6}$:

Բ Ա Ճ Ա Ն Ո Ւ Մ

110. Արմատական մը ուրիշ արմատականով բաժնելու համար հետեւեալ կանոնն ունինք :

Կ Ա Ն Ո Ն

Ա. Բաժնէ արճարական նշանին սակի քանակութիւնն ներքին մէջը տեղադրելու համար, եւ քանորդին զրոյ դէր արճարական նշանը :

Բ. Եթէ արճարական համարորդի ռանին, բաժնէ բաժանելուցն համարորդի զը բաժանարարին համարորդի զը, եւ քանորդը դէր արճարականին առաջ :

110. Արմատական նշանին տակի քանակութիւններն ի՞նչպէս կը բաժնուին : Երբ արմատականը համարտադրիչ ունին, ի՞նչպէս կը բաժնուին :

Կնչպէս, $\frac{\sqrt{m}}{\sqrt{p}} = \sqrt{\frac{m}{p}}$. քանզի այս երկու
 ձևոց քառակուսիներուն իւրաքանչիւրը հաւասար
 է միեւնոյն $\frac{m}{p}$ քանակութեան . ուստի նոյն ինքն
 ձևերը հաւասար են :

ՕՐԻՆԱԿՔ

1. $5m \sqrt{p}$ բաժնէ $2p \sqrt{\frac{p}{4}}$ ուլ : Պ . $\frac{5m}{2p} \sqrt{\frac{p}{4}}$,
2. $12m^2 \sqrt{6p^2}$ բաժնէ $4p \sqrt{2p}$ ուլ : Պ . $3m \sqrt{3p}$:
3. $6m \sqrt{96p^4}$ բաժնէ $3 \sqrt{8p^2}$ ուլ : Պ . $4m^2 \sqrt{3}$:
4. $4m^2 \sqrt{50p^5}$ բաժնէ $2m^2 \sqrt{5p}$ ուլ :
 Պ . $2p^2 \sqrt{10}$:
5. $26m^3 p \sqrt{81m^2 p^2}$ բաժնէ $13m \sqrt{9mp}$ ուլ :
 Պ . $6m^2 p \sqrt{mp}$:
6. $84m^3 p^4 \sqrt{27m^2}$ բաժնէ $42m^2 \sqrt{3m}$ ուլ :
 $6m^2 p^3 \sqrt{p}$:
7. $\sqrt{\frac{1}{8} m^2}$ բաժնէ $\sqrt{2}$ ուլ : Պ . $\frac{1}{4} m$:
8. $6m^2 p^2 \sqrt{20m^3}$ բաժնէ $12 \sqrt{5m}$ ուլ : Պ . $m^3 p^2$:
9. $6m \sqrt{40p^2}$ բաժնէ $3 \sqrt{5}$: Պ . $2m^2 \sqrt{2}$:
10. $48p^4 \sqrt{15}$ բաժնէ $2p^2 \sqrt{\frac{1}{15}}$: Պ . $360p^2$:
11. $8m^2 p^4 q^3 \sqrt{7p^3}$ բաժնէ $2m \sqrt{28p}$ ուլ :
 Պ . $2m^2 p^4 q^3 p$:

112. Ուստի՝ բազմեզրի մը քառակուսի արմատը հանելու համար հետևեալ կանոնն ունինք :

ԿԱՆՈՆ

Ա. Եթէ բազմեզրը էր գրեթէ ձեւում հասե՛մար, և հանէ առաջին եզրին $+առաջինասի$ արժապը • առիկա կատարայ արժապին առաջին եզրը :

Բ. Բաժնէ բազմեզրին երկրորդ եզրը արժապին առաջին եզրին երկայարկով, և $+անորդը$ կ'ըլլայ արժապին երկրորդ եզրը :

Գ. Այս $+առաջինասի$ գործառն արժապին երկու եզրերումն գումարը, և հանէ առաջին բազմեզրին, և այս ծնացորդին առաջին եզրը արժապին առաջին եզրին կրկնով բաժնէ, և $+անորդը$ կ'ըլլայ արժապին երրորդ եզրը :

Դ. Արհնայարկէ առաջին և երկրորդ եզրերումն գումարը երրորդով բազմայարկելին ելած արտադրելու, և զրան աւելցոր երրորդին $+առաջինասին$ • այս այս ելածը հանէ զերջին ծնացորդին, և ելածին առաջին եզրը բաժնէ արժապին առաջին եզրին կրկնով, և $+անորդը$ կ'ըլլայ արժապին չորրորդ եզրը : Այս այս կերպով յառաջ գնա թաւ եզրերը գործելու համար :

ՕՐԻՆԱԿՔ

1. Սա բազմեզրին քառակուսի արմատը հանէ :

$$49m^2p^2 - 24mp^3 + 25m^4 - 30m^3p + 16p^4 :$$

Նախ շարէ բազմեզրը • զրին համեմատ :

$$\begin{array}{r|l} 25m^4 - 50m^3p + 49m^2p^2 - 24mp^3 - 16p^4 & 5m^2 - 5mp + 4p^2 \\ 25m^4 - 50m^3p + 9m^2p^2 & \hline \end{array}$$

$$40m^2p^2 - 24mp^3 + 16p^4 \quad \text{ա. Մնացորդ :}$$

$$40m^2p^2 - 24mp^3 + 16p^4$$

$$0 \quad \text{բ. Մնացորդ :}$$

112. Ի՞նչ է բազմեզրի մը քառակուսի արմատը հանելու կանոնը : Ի՞նչ է առաջին քայլը : Ի՞նչ է երկրորդը : Ի՞նչ է երրորդը : Ի՞նչ է չորրորդը :

Վերոյեղեայ բազմեզրը m գրին համեմատ շարելէն
 ետքը՝ հանէ $25m^4$ ին քառակուսի արձատր . ասիկա
 կու տայ $5m^2$, որ կը գրենք բազմեզրին աջ կողմը .
 ապա $-30m^3$ է երկրորդ եզրը բաժնէ $5m^2$ ին երկ-
 առակովը , կամ $10m^2$ ով . քանորդն է $-3m$, որ
 կը գրենք $5m^2$ ին աջ կողմը : Ուստի՝ արձատին առա-
 ջին երկու եզրերն են $5m^2 - 3m$: Քառակուսելով
 այս երկեզրը՝ կ'ունենանք $25m^4 - 30m^3 + 9m^2$,
 որ՝ հանուելով առաջարկեալ բազմեզրէն , մնացորդ
 մը կու տայ , որուն առաջին եզրն է $40m^2$: Բաժ-
 նելով այս առաջին եզրը $10m^2$ ով , ($5m^2$ ին կրկինը) ,
 քանորդը կ'ըլլայ 4 : ասիկա է արձատին երրորդ
 եզրը , եւ կը գրուի առաջին երկու եզրերուն աջ
 կողմը : Եւ $5m^2 - 3m$ ը 4 ով բազմապատկելէն
 ելած սրտադրեալը կրկնապատկելով , 4 ը քառա-
 կուսելով , եւ գումարը աճնելով՝ կ'ունենանք $40m^2 - 24m^3 + 16m^4$ բազմեզրը , որ՝ հանուելով առա-
 ջին մնացորդէն , կու գայ 0 : Վասնորոյ՝ $5m^2 - 3m + 4$ է պահանջեալ արձատր :

2. Չափը $m^4 + 4m^3 + 6m^2 + 4m + 1$ ի քառակուսի արձատր : $m^2 + 2m + 1$:

3. Չափը $m^4 - 4m^3 + 6m^2 - 4m + 1$ ի քառակուսի արձատր : $m^2 - 2m + 1$:

4. Չափը $4t^6 + 12t^5 + 5t^4 - 2t^3 + 7t^2 - 2t + 1$ ի քառակուսի արձատր : $2t^3 + 3t^2 - t + 1$:

5. Չափը $9m^4 - 12m^3 + 28m^2 - 16m + 16$ ի քառակուսի արձատր : $3m^2 - 2m + 4$:

6. Ե՞նչ է $t^4 - 4m^3 + 4m^2 + 4t^2 + 8m + 4$ ի քառակուսի արձատր : $t^2 - 2m - 2$:

7. Ե՞նչ է $9t^2 - 12t + 6t + t^2 - 4t + 4$ ի քառակուսի արձատր : $3t + t - 2$:

8. Ի՞նչ է $t^4 - 2t^2 + 2 + 2t^2 + 1 + t^4$ թառակուսի արմատը : $\eta \cdot t^2 - t^2 - 1 :$

9. Ի՞նչ է $9m^4p^4 - 30m^3p^3 + 25m^2p^2$ թառակուսի արմատը : $\eta \cdot 3m^2p^2 - 5mp :$

10. Ի՞նչ է $25m^4p^2 - 40m^3p^2q + 76m^2p^2q^2 - 48mp^2q^3 + 36p^2q^4 - 30m^4pq + 24m^3pq^2 - 36m^2pq^3 + 9m^4q^2$ թառակուսի արմատը :

$$\eta \cdot 5m^2p - 3m^2q - 4mpq + 6pq^2 :$$

113. Այս նիւթը պիտի վերջացրնենք հետեւեալ ծանօթութիւններով .

ա. Երկեզը մը երբէք չի կրնար կատարեալ թառակուսի մը ըլլալ, քանզի գիտենք թէ տանապարզ բազմեզրին թառակուսին, այսինքն՝ երկեզրի մը թառակուսին, կը պարունակէ երեք եզր : Չորօրինակ $m^2 + p^2$ ձեւը կատարեալ թառակուսի չէ . $m \pm p$ թառակուսին ըլլալու համար $\pm 2mp$ եզրը պէտք է :

բ. Կատարեալ թառակուսի եզող շարուած երեքեզրի մը երկու ծայրի եզրերը կատարեալ թառակուսիներ ըլլալու են, եւ միջին եզրը միւս երկու եզրերուն թառակուսի արմատներուն արտադրեալին երկպատիկը ըլլալու է : Վասնորոյ՝ կատարեալ թառակուսի եզող երեքեզրի մը թառակուսի արմատը գտնելու համար, շունտ երկու ծայրի եզրերուն արժանեք, և անոնց մեջտեղը գրէ միջին եզրին նշանը : Ասիկա արտաբերուած համար՝ որեւ թէ երկու արժանեքուն արտադրեալին կրկնապատիկը երեքեզրին միջին եզրին հետ նոյն է : Չորօրինակ՝

$9m^6 - 48m^4p^2 + 64m^2p^4$ կատարեալ թառակուսի է :
 քանզի $\sqrt{9m^6} = 3m^3$, եւ $\sqrt{64m^2p^4} = 8mp^2$,

115. Երկեզը մը երբէք կատարեալ կարողութիւն մը կրնայ ըլլալ : Ինչո՞ւ չի կրնար : Երեքեզր մը ե՞րբ կատարեալ թառակուսի մը կ'ըլլայ : Երբ թառակուսի արմատ հանելու տանն, կը գտնենք թէ մնացորդին առաջին եզրը արմատին կրկինովք չի բաժնուիր, բազմեզրը կատարեալ կարողութիւն է թէ ոչ :

հատեւ $2 \times 3m^3 \times - 8m^2 = - 48m^4 p^2 =$ միջին եզրին :

Բայց $4m^2 + 14mp + 9p^2$ կատարեալ քառակուսի չէ . քանզի թէեւ $4m^2$ եւ $9p^2$, $2m$ եւ $3p$ քառակուսիներն են, բայց $2 \times 2m \times 3p$ հաւասար չէ $14mp$ ի :

դ. Քառակուսի արմատ հանելու գործողութիւնները ընդհանուր կանոնով շարունակած ատեն՝ երբ մնացորդի մը առաջին եզրը արմատին առաջին եզրին կրկնապատկովը ճշդիւ չի բաժնուիր, կը հետեւցընենք թէ առաջարկեալ բազմեզրը կատարեալ քառակուսի մը չէ : Ասիկա յայտնի հետեւութիւն մըն է տրամաբանութեան այն ընթացքէն՝ որով քառակուսի արմատ հանելու ընդհանուր կանոնին հասանք :

դ. Երբ բազմեզր մը կատարեալ քառակուսի մը չէ, երբեմն կրնանք պարզել : (Տես 30դ . 102 :

Չորօրինակ, առ $\sqrt{m^3 p + 4m^2 p^2 + 4mp^3}$ ձեւը :

Արմատական նշանին տակի քանակութիւնը կատարեալ քառակուսի մը չէ . բայց կրնանք $mp (m^2 + 4mp + 4p^2)$ ձեւին վերածել : Արդ՝ փակագծին մէջ առնուած քանորդականը յայտնապէս $m + 2p$ ի քառակուսին է, ուստի կը հետեւցընենք թէ,

$$\sqrt{m^3 p + 4m^2 p^2 + 4mp^3} = (m + 2p) \sqrt{mp},$$

2. Վերածէ $\sqrt{2m^2 p - 4mp^2 + 2p^3}$ իր պարզ ձեւին : Պ . $(m - p) \sqrt{2p}$:



ԳԼՈՒԽ Զ.



† ՀԱԻԱՍՏԱՐՈՒԹԻՒՆՔ ԵՐԿՐՈՐԴ ԱՍՏԻՃԱՆԻ

114. Երկրորդ աստիճանի հաւասարութիւն այն է՝ որուն մէջ անձանօթ քանակութեան ամենամեծ ցուցիչը հաւասար է 2ի :

Եթէ հաւասարութիւնը կը պարունակէ երկու անձանօթ քանակութիւններ, երկրորդ աստիճանի կ'ըլլայ՝ երբ որ եւ իցէ եզրի մէջ անձանօթ քանակութեանց ցուցիչներուն ամենամեծ դումարը հաւասար է 2ի : Ինչպէս,

$$+^2 = 3, \quad 3+^2 + 2+ = 6, \quad \text{եւ} \quad +^2 + + = 4^2,$$

Երկրորդ աստիճանի հաւասարութիւններ են :

115. Միայն մէկ անձանօթ քանակութիւն պարունակող երկրորդ աստիճանի հաւասարութիւնները կը բաժնուին երկու կարգ .

ա. Այն հաւասարութիւնները որ կը պարունակեն անձանօթ քանակութեան քառակուսին միայն եւ ծանօթ եզրերը : Ասոնք կը կոչուին Ռեբէ հասարակութիւն :

բ. Այն հաւասարութիւնները որ կը պարունակեն անձանօթ քանակութեան առաջին եւ երկրորդ կարողութիւնները եւ ծանօթ եզրերը : Ասոնք կը կոչուին Անթեբէ հասարակութիւն :

114. Ի՞նչ է երկրորդ աստիճանի հաւասարութիւնը :
 115. Քանի կարգ կը բաժնուին երկրորդ աստիճանի հաւասարութիւնները : Ի՞նչ է անթեբէ հաւասարութիւնը :

Ինչպէս , $+^2 + 2+^2 - 5 = 7$

եւ $5+^2 - 3+^2 - 4 = \infty$

Թերի հաւասարութիւններ են . եւ

$3+^2 - 5+ - 3+^2 + \infty = 8$

եւ $2+^2 - 8+^2 - + - 8 = 7$

անթերի հաւասարութիւններ են :

Թերի Հասարակութիւնն է

116. Եթէ թերի հաւասարութիւն մը անկէք սա ձեւով ,

$14+^2 - 8+^2 = 40 - 2+^2 ,$

$+^2$ սարունակող եզրերը հաւաքելով , կ'ունենանք

$8+^2 = 40, \text{ կամ } +^2 = 5 :$

Գարձեալ՝ եթէ հետեւեալ հաւասարութիւնն ունինք

$\infty +^2 + 8+^2 + 7 = 8 ,$

կ'ունենանք ,

$(\infty + 8) +^2 = 8 - 7, \text{ կամ } +^2 = \frac{8 - 7}{\infty + 8} \text{ ր եւ կամ } = 8 \text{ ր ,}$

Եթէ երկրորդ անգամը բազկացրնող ծանօթ եզրերուն տեղը 8 դնենք :

Աւարի ,

Առին թերի հասարակութիւնն կրնայ վերածուիլ երկու եզրեր սարունակող հասարակութիւնն 8ը :

Ինչպէս , $+^2 = 8 ,$

եւ այս սարադայէն թերի հաւասարութիւնները շատ անգամ կը կոչուին երկու եզրէ սարունակող հասարակութիւնն :

116. Առին թերի հաւասարութիւնն ի՞նչ ձեւի կրնայ վերածուիլ : Թերի հաւասարութիւնները շատ անգամ ի՞նչ կը կոչուին :

Եւ երկու անդամներուն ալ քառակուսի արմատները հանելով՝ կ'ունենանք

$$+ = \pm \sqrt{5}$$

1. Ե՞նչ թիւ է ան որ, իրմով բազմապատկուելով, կ'ըլլայ 144:

Թող + ցուցընէ այն թիւը • անատեն

$$+ \times + = +^2 = 144:$$

Յայտնի է թէ + ի արժէքը կը գտնուի հաւասարութեան երկու անդամներուն քառակուսի արմատը հանելով • այսինքն՝

$$\sqrt{+^2} = \sqrt{144} \text{ կամ } + = 12:$$

140 2. Մարդու մը հարցուեցաւ թէ որքան ստակ ունէր: Մարդը պատասխանեց, Նթէ թալէրներու թիւը քառակուսուի եւ վրան 6 աւելցուի, գումարը 42 կ'ըլլայ: Մարդը քանի թալէր ունէր:

Թող + ցուցընէ թալէրներուն թիւը • անատեն խնդրոյն պայմաններէն

$$+^2 + 6 = 42 \circ$$

ուստի, $+^2 = 42 - 6 = 36:$

եւ $+ = 6:$

Պ. 6 Թւր.:

141 3. Ղաճառականի մը հարցուելով թէ այսինչ մարդուն որչափ շաքար ծախեց, պատասխանեց, Նթէ անոր ինչ գնած շաքարին լիտրերուն թուոյն քառակուսին 7 ուլ բազմապատկուի, արսադրեալը պիտի ըլլայ 1375: Քանի՞ լիտր շաքար ծախած էր:

Ցուցուր լիտրերուն թիւը + ուլ •

անատեն $7+^2 = 1375$

ուստի $+^2 = 225$

եւ $+ = 15:$

Պ. 15:

142 4. Մարդ մը հարցուելով թէ քանի տարեկան էր, պատասխանեց, Նթէ իմ տարիքիս թուոյն քառակուսիէն 192 հանէք՝ մնացածը իմ տարիքիս թուոյն կէսին քառակուսին պիտի ըլլայ: Մարդուն տարիքն ի՞նչ էր:

Թող + ցուցնէ տարիքը .

անատեն $x^2 - 192 = \left(\frac{x}{2}\right)^2 = \frac{x^2}{4}$

և կոտորակները պարզելով՝

$4x^2 - 768 = x^2$

ուստի

$4x^2 - x^2 = 768$

և

$3x^2 = 768$

$x^2 = 256$

$x = 16$

Պ. 16:

143 5. Ի՞նչ թիւ է ան՝ որուն ութերորդը իր հինգերորդովը բազմապատկուելով, արտագրեալն ալ 4 ով բաժնուելով կ'ըլլայ 40:

Թող + ցուցնէ այն թիւը .

անատեն $\left(\frac{x}{8} \times \frac{x}{5}\right) \div 4 = 40$

ուստի

$\frac{x^2}{40} = 40$

կոտորակները պարզելով,

$x^2 = 6400$

$x = 80$

Պ. 80:

117. Ուստի + ի արժէքը գտնելու համար հետևեալ կանոնն ունինք:

ԿԱՆՈՆ

Գտիք x^2 ի արժէքը . և ապա հանէ հաստատարութեան էրկոս անդամներուն ալ +աստիւտի արժապը:

117. Ի՞նչպէս կը լուծես թերի հաւասարութիւն մը:

6. Ի՞նչ է + ի արժէքը հետեւեալ հաւասարութեան մէջ, $3+^2 + 8 = 5+^2 - 10$:

Տեղափոխութեամբ $3+^2 - 5+^2 = -10 - 8$.
 վերածելով $-2+^2 = -18$.

բաժնելով 2-ով, եւ նշանները փոխելով,
 $+^2 = 9$.

հանելով քառակուսի արմատը,
 $+ = 3$:

Սակայն եւ այնպէս՝ կը ծանուցանենք թէ 9 ի քառակուսի արմատը կամ $+3$ կամ -3 է : Քանզի

$$+3 \times +3 = 9 \text{ եւ } -3 \times -3 = 9 :$$

Ուստի՝ հետեւեալ հաւասարութեան մէջ,
 $+^2 = 9$,

կ'ունենանք, $+ = +3$ եւ $+ = -3$:

118. Հաւասարութեան մը արժաքը այն քանակութիւնն է որ անծանօթ քանակութեան հետ փոխանակուելով՝ հաւասարութիւնը չ'աւրեր :

Ինչպէս հետեւեալ հաւասարութեան մէջ,
 $+^2 = 9$,

երկու արմատներ կան, $+3$ եւ -3 . Քանզի այս արժէքներուն մէկը կամ միւսը + ի հետ փոխանակուելով՝ հաւասարութիւնը չ'աւրեր :

7. Չարձեալ եթէ առնենք հետեւեալ հաւասարութիւնը
 $+^2 = 5$

կ'ունենանք,

$$+ = +\sqrt{5}, \text{ եւ } + = -\sqrt{5} :$$

Քանզի $(+\sqrt{5})^2 = 5$.

եւ $(-\sqrt{5})^2 = 5$.

118. Ի՞նչ է հաւասարութեան մը արմատը : Ի՞նչ են $+^2 = 9$ հաւասարութեան արմատները : Ի՞նչ են $+^2 = 5$ հաւասարութեանը : Քանի՞ արմատ ունի ամէն թերի հաւասարութիւն : Ի՞նչպէս կը բաղդատուին այս արմատներն իրարու հետ :

Ուստի կը հետևեցրնենք ,

Ա. Թէ երկրորդ աստիճանի ասին թերի հաստատարուած թիւն երկու արժապահանք :

Բ. Թէ այս արժապահանքը նոյն աստիճան-թիւն են , միայն արժեքի նշաններ ասին :

8. Ե՞նչ են $3x^2 + 6 = 4x^2 - 10$ հաւասարութեան արժապահանքը : Պ . $x = +4$ եւ $x = -4$:

9. Ե՞նչ են $\frac{x^2}{3} - 8 = \frac{x^2}{9} + 10$ հաւասարութեան արժապահանքը : Պ . $x = +9$ եւ $x = -9$:

10. Ե՞նչ են $8 + 5x^2 = \frac{x^2}{5} + 4x^2 + 28$ հաւասարութեան արժապահանքը : Պ . $x = +5$, $x = -5$:

144

11. Չափը այնպիսի թիւ մը որուն մէկ երրորդը իր մէկ չորրորդովը բազմապատկուելով հաւասար կ'ըլլայ 108 ի : Պ . 36 :

145

12. Ե՞նչ թիւ է այն որուն մէկ վեցերորդը իր մէկ հինգերորդովը բազմապատկուելով , արտադրեալն ալ 10 ով բաժնուելով հաւասար կ'ըլլայ 3 ի : Պ . 30 :

146

13. Ե՞նչ է այն թիւը որուն քառակուսին՝ առաւել 18 , հաւասար է իր քառակուսոյն կէսին՝ առաւել 30 1/2 ի : Պ . 5 :

147

14. Ե՞նչ են այն թիւերը՝ որոնց իրարու հետ ունեցած համեմատութիւնն է 1 առ 2 , եւ որոնց քառակուսիներուն տարբերութիւնը 75 է :

Թող x ցուցրնէ փոքրագոյն թիւը .

անասնն $2x =$ մեծագոյն թիւոյն .

եւ կ'ունենանք $4x^2 - x^2 = 75$.

ուստի $3x^2 = 75$.

եւ 3 ով բաժնելով $+^2 = 25$, եւ $+ = 5$,
 եւ $2+ = 10$:

Պ . 5 եւ 10 :

148 15. Ի՞նչ են այն երկու թիւերը՝ որոնց իրարու հետ ունեցած համեմատութիւնն է 5 առ 6, եւ որոնց քառակուսիներուն տարբերութիւնն է 44 :

Թող $+$ ցուցնէ մեծագոյն թիւը .

անասեն $\frac{5+}{6}$ կը ցուցնէ փոքրագոյնը .

եւ $+^2 - \frac{25+^2}{36} = 44$.

Կատարակները պարզելով,

$36+^2 - 25+^2 = 1584$.

ուստի $44+ = 1584$,

եւ $+^2 = 144$,

ուստի $+ = 12$,

եւ $\frac{5+}{6} = 10$:

Պ . 10 եւ 12 :

149 16. Ի՞նչ են այն երկու թիւերը՝ որոնց իրարու հետ ունեցած համեմատութիւնն է 3 առ 4, եւ որոնց քառակուսիներուն տարբերութիւնն է 28 :

Պ . 6 եւ 8 :

150 17. Ի՞նչ են այն երկու թիւերը՝ որոնց իրարու հետ ունեցած համեմատութիւնն է 5 առ 11, եւ որոնց քառակուսիներուն դումարն է 584 :

Պ . 10 եւ 22 :

151 18. Ա ըսաւ Յ ին , Իմ տղուս տարիքը քու տղուդ տարիքին մէկ չորրորդն է , եւ անոնց տարիքներուն քառակուսիներուն տարբերութիւնն է 240 : Ի՞նչ էր անոնց տարիքը :

{ Մեծինը՝ 16 ,
 { Փոքրինը՝ 4 :

Երկու անժամօթ փանակաթիւնք

119. Երբ երկու կամ աւելի անժամօթ քանակութիւններ կան, աննոցմէ մէկը պարագրէ 75 երորդ Յօդուածին կանոնովը. այսպէս պիտի ելլէ մայն մէկ անժամօթ փանակաթիւն պարունակող նոր հասարակութեան մը, որուն արժէքը կը գործածուի արժէքի կանոնով:

1. Սենեակ մը կայ այնպիսի տարածութեամբ որ կողմերուն տարրերութիւնը փոքր կողմով բարձրագոյնագոյնով հաւասար է 36 ի, եւ կողմերուն արտադրեալն է 360: Ի՞նչ են կողմերը:

Թող + ցուցրնէ փոքր կողմը .

է » մեծ կողմը :

Անատեն առաջին պայմանով՝

$$(է - +) + = 36 .$$

եւ երկրորդ պայմանով՝ $+է = 360 :$

Առաջին հաւասարութենէն կ'ուենանք

$$+է - +^2 = 36 .$$

եւ բարձրագոյն, $+^2 = 324 :$

Ատի $+ = \sqrt{324} = 18 .$

$$է = \frac{360}{18} = 20 :$$

$$\text{Պ} . + = 18 , է = 20 :$$

2. Վաճառական մը 12 կանգուն երկու կտոր կտաւ ծախեց, իւրաքանչիւր կտոր քանի կանգուն որ էր՝ այնքան անգամ թաղէր ընդունեց: Արդ՝ մէկուն համար ընդունածը չորս անգամ աւելի էր միւսին համար ընդունածէն: Ամէն մէկ կտորը քանի՞ կանգուն էր:

119. Ի՞նչպէս կը լուծես երկու կամ աւելի անժամօթ քանակութիւն պարունակող հաւասարութիւն մը:

Թող $+$ ցուցնէ մեծ կտորին պարունակած կանգունները, $+$ փոքր կտորին պարունակած կանգունները:

Անատեն խնդրոյն պայմաններէն,

$$+ + t = 12:$$

$+ \times + = +^2 =$ մեծ կտորին համար ընդունածին,

$t \times t = t^2 =$ փոքր կտորին համար ընդունածին:

Եւ $+^2 = 4t^2$, երկրորդ պայմանով.

$+ = 2t$, քառակուսի արմատը հանելով:

Սրդ՝ $+$ ի այս արժէքը առաջին հաւասարութեան մէջ $+$ ի տեղը դնելով,

կ'ունենանք $t + 2t = 12.$

հետեւապէս, $t = 4,$

եւ $+ = 8:$

Պ. 8 եւ 4:

154 3. Ի՞նչ են այն երկու թիւերը՝ որոնց արտադրեալն է 30, եւ քանորդը $3\frac{1}{3}$: Պ. 10 եւ 3:

4. Երկու թուոց արտադրեալն է m , եւ անոնց քանորդն է p : Ի՞նչ են թիւերը:

$$\text{Պ. } \sqrt{mp} \text{ եւ } \sqrt{\frac{m}{p}}:$$

155 5. Երկու թուոց քառակուսիներուն գումարն է 117, եւ անոնց քառակուսիներուն տարբերութիւնն է 45: Ի՞նչ են թիւերը: Պ. 9 եւ 6:

6. Երկու թուոց քառակուսիներուն գումարն է m , եւ անոնց քառակուսիներուն տարբերութիւնն է p , Ի՞նչ են թիւերը:

$$\text{Պ. } + = \sqrt{\frac{m+p}{2}}, t = \sqrt{\frac{m-p}{2}}:$$

156 7. Ի՞նչ են այն երկու թիւերը՝ որոնց իրարու հետ ունեցած համեմատութիւնն է 3 առ 4, եւ անոնց քառակուսիներուն գումարն է 225: Պ. 9 եւ 12:

8. Ի՞նչ են այն երկու թիւերը՝ որոնք իրարու հետ ճի առ Ն ունեցած համեմատութիւնն ունին, եւ անոնց քառակուսիներուն գումարն է ω^2 :

$$\text{Պ. } \sqrt{\frac{\delta\omega}{s^2 + \omega^2}}, \sqrt{\frac{\gamma\omega}{s^2 + \omega^2}} :$$

157 9. Ի՞նչ են այն երկու թիւերը՝ որոնց իրարու հետ ունեցած համեմատութիւնն է 1 առ 2, եւ անոնց քառակուսիներուն տարբերութիւնն է 75: Պ. 5 եւ 10:

10. Ի՞նչ են այն երկու թիւերը՝ որոնք իրարու հետ ճի առ Ն ունեցած համեմատութիւնն ունին, եւ որոնց քառակուսեաց տարբերութիւնն է ρ^2 :

$$\text{Պ. } \sqrt{\frac{\delta\rho}{s^2 - \omega^2}}, \sqrt{\frac{\gamma\rho}{s^2 - \omega^2}} :$$

158 11. Գումար մը ստակ վեց ամսուան համար՝ տարին հարիւրին 8 շահի տրուեցաւ : Արդ՝ եթէ գումարը շահին թուովը բազմապատկուի՝ արտադրեալը պիտի ըլլայ 562500 թալէր : Շահի տրուած գումարը որչափ էր : Պ. 3750 թւր. :

159 12. Մարդ մը գումար մը ստակ բաշխեց շատ մը կանանց եւ տղոց : Կանանց թիւը՝ տղոց թուոյն այնպէս կը համեմատէր, ինչպէս 3 առ 4 : Արդ՝ տղայք բոլոր անձանց թուոյն կէսին չափ, եւ կանայք բոլոր տղոց թուոյն կրկինին չափ թալէր ընդունեցին եւ միատեղ 138 թալէր ընդունեցին : Քանի կին եւ քանի տղայք կային : Պ. 36 կին եւ 48 տղայ :

ԱՆԷՐԷ ՀԱՄԱՐՈՒԹԻՒՆ :

120. Արդէն տեսանք (30դ. 115), թէ երկրորդ աստիճանի անթերի հաւասարութիւն մը կը պարու-

120. Քանի՞ եղբեր կը պարունակէ երկրորդ աստիճանի անթերի հաւասարութիւն մը : Ի՞նչէ բաղկացեալ է առաջին եղբը, երկրորդը : երրորդը :

նաև է անձանօթ քանակութեան քառակուսին, անձանօթ քանակութեան առաջին կարողութիւնը, եւ ծանօթ եղբերը :

1. Եթէ առնենք հետեւեալ անթերի հաւասարութիւնը,

$$5+^2 - 2+^2 + 8 = 9+ + 32,$$

տեղափոխելով եւ վերածելով՝ կ'ուենանք

$$3+^2 - 9+ = 24,$$

եւ 3 ուլ բաժնելով՝

$$+^2 - 3+ = 8,$$

միայն երեքեզր պարունակող հաւասարութիւն մը :

2. Եթէ առնենք հետեւեալ հաւասարութիւնը,

$$m^2+^2 + 3m^2+ + +^2 = 4+ + 7,$$

հաւաքելով $+^2$ ի եւ $+ \text{ի}$ համարտադրիչները՝ կ'ուենանք

$$(m^2 + 1)+^2 + (3m^2 - 4)+ = 7.$$

եւ բաժնելով $+^2$ ի համարտադրչովը՝ կ'ուենանք

$$+^2 + \frac{3m^2 - 4}{m^2 + 1} + = \frac{7}{m^2 + 1} :$$

Եթէ $+ \text{ի}$ համարտադրիչը ներկայացնենք $2\frac{1}{2}$ ուլ, եւ ծանօթ եղբը $\frac{1}{2}$ ուլ՝ կ'ուենանք

$$+^2 + 2\frac{1}{2}+ = \frac{1}{2},$$

միայն երեք եզր պարունակող հաւասարութիւն մը :

Ուստի՝ երկրորդ աստիճանի ամեն անթերի հաւասարութիւն՝ միայն երեք եզր պարունակող հաւասարութիւն մը կրնայ վերածուիլ :

121. Արդ՝ կ'ուզենք ցուցնել թէ այս հաւասար-

121. Երկրորդ աստիճանի ամեն հաւասարութիւն քանի՞ ձևերով կրնայ արտայայտուիլ : Այս ձևերը ի՞նչ բանէ կախեալ են : Առաջին ձևին մէջ $+ \text{ի}$ համարտադրչին ու ծանօթ եղբին նշաններն ի՞նչ են : Ի՞նչ երկրորդին մէջ : Ի՞նչ երրորդին մէջ : Ի՞նչ չորրորդին մէջ : Կրկնէ չորս ձևերը :

բութիւնը կրնայ չորս ձեւերով արտայայտուիլ, իւր
բաքանչիւրը $2\frac{1}{2}$ ի եւ թ ի նշաններէն կախեալ ըլլալով:

ա. Բացասութեան համար՝ ենթադրենք

$$2\frac{1}{2} = +4, \text{ եւ } \theta = +5:$$

անատեն կ'ուենենանք $+^2 + 4+ = 5:$

բ. Արդ ենթադրենք

$$2\frac{1}{2} = -4, \text{ եւ } \theta = +5:$$

անատեն կ'ուենենանք $+^2 - 4+ = 5:$

գ. Եթէ ենթադրենք

$$2\frac{1}{2} = +4, \text{ եւ } \theta = -5,$$

կ'ուենենանք $+^2 + 4+ = -5:$

դ. Եթէ ենթադրենք

$$2\frac{1}{2} = -4, \text{ եւ } \theta = -5,$$

կ'ուենենանք $+^2 - 4+ = -5:$

Վասնորոյ կը հետեւցընենք թէ երկրորդ աստիճանի
ամէն անթերի հաւասարութիւն սա չորս ձեւերէն
մէկուն կրնայ վերածուիլ,

$$+^2 + 2\frac{1}{2}+ = +\theta, \text{ ա. ձեւ:}$$

$$+^2 - 2\frac{1}{2}+ = +\theta, \text{ բ. ձեւ:}$$

$$+^2 + 2\frac{1}{2}+ = -\theta, \text{ գ. ձեւ:}$$

$$+^2 - 2\frac{1}{2}+ = -\theta, \text{ դ. ձեւ:}$$

122. Ծանօթութիւն: — Հաւասարութիւն մը այս
ձեւերէն մէկուն կամ միւսին վերածելու ատեն, եթէ
անձանօթ քանակութեան երկրորդ կարողութիւնը
բացասական նշան ունի, հաւասարութեան ամէն
մէկ եզրին նշանը փոխելով դրական ընելու է:

122. Եթէ հաւասարութիւն մը այս ձեւերէն մէկուն կամ
միւսին վերածելու ատեն, $+^2$ ի համարտադրիչը բացասական է,
ի՞նչ ընել պէտք է:

123. Յետոյ պիտի ցուցնենք թէ անձանօթ քա-
նակութեան մը արժէքն ինչ կերպով կը գտնուի :
Արդէն տեսանք (307 . 36) թէ

$$\left(+ + \frac{1}{2}\right)^2 = +^2 + 2\frac{1}{2} + \frac{1}{2}^2 .$$

Եւ այս քառակուսին բաղդատելով առաջին ու եր-
րորդ ձեւին հետ՝ կը տեսնենք թէ իւրաքանչիւրին
առաջին անդամը կը պարունակէ երկեզրի մը քա-
ռակուսւոյն երկու եզրերը , այսինքն՝ առաջին եզ-
րին քառակուսին՝ առաւել առաջնոյն եւ երկրորդին
արտադրեալին կրկինը : Ուրեմն եթէ + ի համարտա-
գրչին կէսն առնենք , այսինքն՝ $\frac{1}{2}$ ը , եւ զայն քա-
ռակուսենք , եւ ելածը իւրաքանչիւր հաւասարու-
թեան երկու անդամներուն վրայ ալ յաւելցնենք՝

$$կ'ունենանք \quad +^2 + 2\frac{1}{2} + \frac{1}{2}^2 = \text{Ը} + \frac{1}{2}^2 ,$$

$$+^2 + 2\frac{1}{2} + \frac{1}{2}^2 = - \text{Ը} + \frac{1}{2}^2 ,$$

որոնց մէջ առաջին անդամները կատարեալ քառա-
կուսիներ են : Ասիկա կ'ըսուի քառակուսին լրացնել :
Անատեն՝ հաւասարութեան երկու անդամներուն ալ
քառակուսի արժատը հանելով՝ կ'ունենանք

$$+ + \frac{1}{2} = \pm \sqrt{\text{Ը} + \frac{1}{2}^2} ,$$

Եւ $+$ $+$ $\frac{1}{2} = \pm \sqrt{- \text{Ը} + \frac{1}{2}^2} ,$

Եւ $\frac{1}{2}$ ը տեղափոխելով կ'ունենանք

$$+ = - \frac{1}{2} \pm \sqrt{\text{Ը} + \frac{1}{2}^2} ,$$

$$+ = - \frac{1}{2} \pm \sqrt{- \text{Ը} + \frac{1}{2}^2} ,$$

124. Եթէ երկրորդ եւ չորրորդ ձեւերը բաղդա-
տենք հետեւեալ քառակուսւոյն հետ

$$\left(+ - \frac{1}{2}\right)^2 = +^2 - 2\frac{1}{2} + \frac{1}{2}^2 ,$$

123. Երկեզրի մը քառակուսին ինչի՞ հաւասար է : Իւրաքան-
չիւր ձեւին առաջին անդամն ի՞նչ կը պարունակէ : Առաջին
անդամն ի՞նչպէս կատարեալ քառակուսի ընելու է : Ասիկա
ի՞նչ կ'ըսուի :

124. Երկրորդ ձեւին մէջ՝ առաջին անդամն ի՞նչպէս կատարեալ
քառակուսի կ'ըլլայ :

կը տեսնենք նաև թէ + ի համարադրչին կէտը քա-
 աակուսելով եւ ելածը երկու անդամներուն վրայ
 աւելցրնելով՝ առաջին անդամները կատարեալ քա-
 աակուսիներ կ'ըլլան : Պուժարելով՝ կ'ունենանք

$$+^2 - 2\frac{+}{\frac{+}{2}} + \frac{+}{\frac{+}{2}}^2 = \frac{+}{\frac{+}{2}} + \frac{+}{\frac{+}{2}}^2,$$

$$+^2 - 2\frac{+}{\frac{+}{2}} + \frac{+}{\frac{+}{2}}^2 = -\frac{+}{\frac{+}{2}} + \frac{+}{\frac{+}{2}}^2 :$$

Նստուն՝ երկու անդամներուն ալ քառակուսի
 արմատը հանելով՝ կ'ունենանք

$$+ - \frac{+}{\frac{+}{2}} = \pm \sqrt{\frac{+}{\frac{+}{2}} + \frac{+}{\frac{+}{2}}^2},$$

$$+ - \frac{+}{\frac{+}{2}} = \pm \sqrt{-\frac{+}{\frac{+}{2}} + \frac{+}{\frac{+}{2}}^2} :$$

Եւ $-\frac{+}{\frac{+}{2}}$ ը տեղափոխելով կ'ունենանք

$$+ = \frac{+}{\frac{+}{2}} \pm \sqrt{\frac{+}{\frac{+}{2}} + \frac{+}{\frac{+}{2}}^2},$$

Եւ $+$ $= \frac{+}{\frac{+}{2}} \pm \sqrt{-\frac{+}{\frac{+}{2}} + \frac{+}{\frac{+}{2}}^2} :$

125. Ուստի՝ երկրորդ աստիճանի ամէն հաւասար-
 ըութիւն լուծելու համար հետեւեալ կանոնն ունինք .

ԿԱՆՈՆ

Ա. Աւերածէ հասարակութեանը շրջ յետքէն ճշտան :

Բ. Քառակուսի երկրորդ եզրէն համարադրչին կէտը .
 Եւ ելածը հասարակութեան երկու անդամներուն վրայ աւ-
 ասելցոր :

Գ. Անտուն՝ հասարակութեան երկու անդամներուն
 + ասակուսի արմատը հանել : յետոյ ծանօթ եզրը երկրորդ
 անդամին փոխարէ :

Ծանօթութիւն : — Առաջին անդամին քառակուսի
 արմատը միշտ հաւասար է առաջին եզրին քառա-

125. Ըսէ երկրորդ աստիճանի հաւասարութիւն մը լուծելու
 ընդհանուր կանոնը : Ի՞նչ է առաջին քայլը : Ի՞նչ է երկ-
 րորդը : Ի՞նչ է երրորդը : Առաջին անդամին քառակուսի
 արմատը միշտ ինչի՞ հաւասար է :

կուսի արմատին, առաւել կամ նուազ անձանօթ քանակութեան առաջին կարողութեան համարտադրչին կէսը:

Օրինակ + առաջին յետը .

1. Ե՞նչ են +ի արժէքները հետեւեալ հաւասարութեան մէջ, $2 + 2 + 8 + = 64$:

Եթէ նախ բաժնենք 2 համարտադրչով կ'ունենանք $+^2 + 4 + = 32$:

Անստեն քառակուսին լրացրնելով,

$$+^2 + 4 + + 4 = 32 + 4 = 36:$$

Հանելով արմատը՝

$$+ + 2 = \pm \sqrt{36} = +6 \text{ կամ } -6:$$

Ուստի՝ $+ = -2 + 6 = +4$.

կամ՝ $+ = -2 - 6 = -8$:

Ուստի՝ այս ձեւոյն մէջ, փոքրագոյն արմատը դրական է, եւ մեծագոյնը՝ բացասական:

Ստորագործիւն .

Եթէ դրական արժէքն առնենք, այսինքն՝ $+ = +4$,

$$+^2 + 4 + = 32 \text{ հաւասարութիւնը}$$

կ'ըլլայ $4^2 + 4 \times 4 = 32$.

Եւ եթէ +ի բացասական արժէքն առնենք, այսինքն՝

$$+ = -8, \quad +^2 + 4 + = 32 \text{ հաւասարութիւնը}$$

կ'ըլլայ $(-8)^2 + 4(-8) = 64 - 32 = 32$.

ասկէ կը տեսնենք՝ թէ +ի արժէքներուն երկուքն, այսինքն՝ $+ = +4$ կամ $+ = -8$, կը ստուգեն հաւասարութիւնը:

2. Ե՞նչ են +ի արժէքները հետեւեալին մէջ,

$$3 + 2 + 12 + - 19 = - +^2 - 12 + + 89,$$

Տեղափոխելով եզրերը՝ կ'ունենանք

$$3x^2 + x^2 + 12x + 12x = 89 + 19.$$

եւ վերածելով

$$4x^2 + 24x = 108.$$

եւ բաժնելով x^2 ի համարադրչովը,

$$x^2 + 6x = 27:$$

Արդ՝ լրացրնելով քառակուսին,

$$x^2 + 6x + 9 = 36,$$

հանելով քառակուսի արմատը

$$x + 3 = \pm \sqrt{36} = +6 \text{ կամ } -6.$$

ուստի՝

$$x = +6 - 3 = +3.$$

կամ՝

$$x = -6 - 3 = -9:$$

Ստուգումներն .

Եթէ դրական արմատն առնենք՝ հետեւեալ

$$x^2 + 6x = 27 \text{ հաւասարութիւնը}$$

կ'ըլլայ

$$(3)^2 + 6(3) = 27.$$

Եթէ բացասական արմատն առնենք՝

$$x^2 + 6x = 27$$

կ'ըլլայ

$$(-9)^2 + 6(-9) = 81 - 54 = 27.$$

3. Ի՞նչ են x ի արժէքները սա հաւասարութեան

$$\text{մէջ, } \frac{5x^2}{6} - \frac{x}{2} + \frac{3}{4} = 8 - \frac{2x}{3} - x^2 + \frac{273}{12}.$$

Ատտորակները պարզելով՝ կ'ունենանք

$$10x^2 - 6x + 9 = 96 - 8x - 12x^2 + 273.$$

տեղափոխելով եւ վերածելով

$$22x^2 + 2x = 360.$$

Երկու անդամներն ալ 22 ուլ բաժնելով,

$$x^2 + \frac{2x}{22} = \frac{360}{22};$$

Եւ $\left(\frac{1}{22}\right)^2$ աւելցընելով երկու անդամներուն

վրայ, հաւասարութիւնը կ'ըլլայ

$$x^2 + \frac{2x}{22} + \left(\frac{1}{22}\right)^2 = \frac{360}{22} + \left(\frac{1}{22}\right)^2,$$

որուն քառակուսի արմատը հանելով կ'ուենանք

$$x + \frac{1}{22} = \pm \sqrt{\frac{360}{22} + \left(\frac{1}{22}\right)^2}$$

վասնորոյ՝

$$x = -\frac{1}{22} + \sqrt{\frac{360}{22} + \left(\frac{1}{22}\right)^2}$$

Եւ $x = -\frac{1}{22} - \sqrt{\frac{360}{22} + \left(\frac{1}{22}\right)^2};$

Եր մնայ թուական գործողութիւնները կատարել:

Նախ՝ $\frac{360}{22} + \left(\frac{1}{22}\right)^2$ վերածուելու է միակ թուոյ

մը՝ որուն յայտարարը $(22)^2$ է:

$$\text{Արդ՝ } \frac{360}{22} + \left(\frac{1}{22}\right)^2 = \frac{360 \times 22 + 1}{(22)^2} = \frac{7921}{(22)^2}$$

հանելով 7921 ի քառակուսի արմատը՝ կը գտնենք որ 89 է՝ վասնորոյ

$$\pm \sqrt{\frac{360}{22} + \left(\frac{1}{22}\right)^2} = \pm \frac{89}{22}$$

Հետեւապէս՝ x ի գրական արժէքն է

$$x = -\frac{1}{22} + \frac{89}{22} = \frac{88}{22} = 4,$$

և բացասական արժեքն է

$$+ = - \frac{1}{22} - \frac{89}{22} = - \frac{45}{11} .$$

այսինքն՝ $+$ ի երկու արժեքներէն մէկը՝ որ առաջարկեալ հաւասարութիւնը պիտի ստուգէ, դրական ամբողջ թիւ մըն է, եւ միւսը բացասական կոտորակ մը :

4. Ե՞նչ են $+$ ի արժեքները հետեւեալ հաւասարութեան մէջ,

$$2+^2 + 8+ + 7 = \frac{5+}{4} - \frac{+^2}{8} + 197 :$$

$$\text{Պ. } \begin{cases} + = 8 \\ + = - 11 \frac{3}{7} : \end{cases}$$

5. Ե՞նչ են $+$ ի արժեքները սա հաւասարութեան

մէջ,

$$\frac{+^2}{4} - \frac{+}{3} + 15 = \frac{+^2}{9} - 8+ + 95 \frac{1}{4} :$$

$$\text{Պ. } \begin{cases} + = 9 \\ + = - 64 \frac{1}{5} : \end{cases}$$

6. Ե՞նչ են $+$ ի արժեքները սա հաւասարութեան

մէջ,

$$\frac{+^2}{1} - \frac{5+}{4} - 8 = \frac{+}{2} - 7+ + 6 \frac{1}{2} :$$

$$\text{Պ. } \begin{cases} + = 2 \\ + = - 7 \frac{1}{4} : \end{cases}$$

7. Ե՞նչ են $+$ ի արժեքները հետեւեալին մէջ,

$$\frac{+^2}{2} + \frac{+}{4} = \frac{+^2}{5} - \frac{+}{10} + \frac{13}{20} :$$

$$\text{Պ. } \begin{cases} + = 1 \\ + = - 2 \frac{1}{6} : \end{cases}$$

Օրինակ 1 երկրորդ յևոյն .

1. Ի՞նչ են $+|$ արժէքները հետեւեալին մէջ .

$$+^2 - 8+ + 10 = 19 .$$

Տեղափոխելով ,

$$+^2 - 8+ = 19 - 10 = 9 ,$$

անատեն լրացրնելով քառակուսին ,

$$+^2 - 8+ + 16 = 9 + 16 = 25 ,$$

եւ հանելով արմատը ,

$$+ - 4 = \pm \sqrt{25} = +5 \text{ կամ } -5 :$$

Ուստի՝

$$+ = 4 + 5 = 9 \text{ կամ } + = 4 - 5 = -1 :$$

Այսինքն՝ այս ձեւոյն մէջ մեծագոյն արմատը դրական է , եւ փոքրագոյնը բացասական :

Սրահարկեր .

Եթէ $+|$ դրական արժէքն առնենք ,

$$+^2 - 8+ = 9 \text{ հաւասարութիւնը կ'ըլլայ}$$

$$(9)^2 - 8 \times 9 = 81 - 72 = 9 .$$

Եւ եթէ բացասական արժէքն առնենք ,

$$+^2 - 8+ = 9 \text{ հաւասարութիւնը կ'ըլլայ}$$

$$(-1)^2 - 8(-1) = 1 + 8 = 9 .$$

ասկէ կը տեսնենք թէ երկու արժէքներն ալ նմանապէս կը ստուգեն հաւասարութիւնը :

2. Ի՞նչ են $+|$ արժէքները հետեւեալին մէջ ,

$$\frac{+^2}{2} - \frac{+}{3} + 7\frac{3}{8} = 8 ,$$

Ատորակները պարզելով եւ $+^2|$ համարադրելովը բաժնելով՝ կ'ունենանք

$$+^2 - \frac{2+}{3} = 1\frac{1}{4} :$$

Լրացրնելով քառակուսին՝ կ'ուենենանք

$$x^2 - \frac{2x}{3} + \frac{1}{9} = 1\frac{1}{4} + \frac{1}{9} = \frac{49}{36}$$

ապա հանելով քառակուսի արմատը՝ կ'ուենենանք

$$x - \frac{1}{3} = \pm \sqrt{\frac{49}{36}} = \pm \frac{7}{6}, \text{ կամ } - \frac{7}{6}$$

ուստի՝

$$x = \frac{1}{3} + \frac{7}{6} = \frac{9}{6} = 1\frac{1}{2},$$

կամ

$$x = \frac{1}{3} - \frac{7}{6} = -\frac{5}{6}$$

Արտահայտենք .

Եթէ x ի դրական արժէքն առնենք, հետեւեալ

$$x^2 - \frac{2x}{3} = 1\frac{1}{4} \text{ հաւասարութիւնը}$$

կ'ըլլայ $(1\frac{1}{2})^2 - \frac{2}{3} \times 1\frac{1}{2} = 2\frac{1}{4} - 1 = 1\frac{1}{4}$

Եւ եթէ բացասական արժէքն առնենք, հետեւեալ

$$x^2 - \frac{2x}{3} + = 1\frac{1}{4} \text{ հաւասարութիւնը}$$

կ'ըլլայ

$$\left(-\frac{5}{6}\right)^2 - \frac{2}{3} \times -\frac{5}{6} = \frac{25}{36} + \frac{10}{18} = \frac{45}{36} = 1\frac{1}{4}$$

3. Ինչ են x ի արժէքները հետեւեալ հաւասարութեան մէջ,

$$4m^2 - 2x^2 + 2mx = 18m^2 - 18x^2$$

Տեղափոխելով, նշանները փոխելով եւ 2 ուլ բաժնելով, հաւասարութիւնը կ'ըլլայ

$$x^2 - mx = 2m^2 - 9mx + 9x^2$$

Արձանեկով քառակուսին՝

$$x^2 - mx + \frac{m}{4} = \frac{9m^2}{4} - 9mx + 9x^2.$$

հանեկով քառակուսի արմատը՝

$$x = \frac{m}{2} \pm \sqrt{\frac{9m^2}{4} - 9mx + 9x^2}.$$

Արդ՝ $\frac{9m^2}{4} - 9mx + 9x^2$ ի քառակուսի արմատը՝

յայտնի է թէ $\frac{3m}{2} - 3x$ է: Վասնորոյ՝

$$x = \frac{m}{2} \pm \left(\frac{3m}{2} - 3x \right), \text{ կամ } \begin{cases} x = 2m - 3x \\ x = -m + 3x \end{cases}$$

Ի՞նչ պիտի ըլլայ x ի թուական արժէքը, ենթացողով թէ $x = 6$ եւ $x = 1$:

4. Ի՞նչ են x ի արժէքները հետեւեալին մէջ,

$$8x^2 - 14x + 10 = 2x + 34:$$

$$\text{Պ. } \begin{cases} x = 3 \\ x = -1 \end{cases}$$

5. Ի՞նչ են x ի արժէքները հետեւեալին մէջ,

$$\frac{x^2}{4} - 30x + 4 = 2x - 22:$$

$$\text{Պ. } \begin{cases} x = 8 \\ x = -4 \end{cases}$$

6. Ի՞նչ են x ի արժէքները հետեւեալին մէջ,

$$x^2 - 3x + \frac{x^2}{2} = 9x + 13\frac{1}{2}:$$

$$\text{Պ. } \begin{cases} x = 9 \\ x = -1 \end{cases}$$

7. Ի՞նչ են x և y արժեքները հետևեալին մէջ,

$$2x + y^2 = -2x - y^2:$$

$$\eta. \begin{cases} x = 2x + y^2 \\ x = -y^2 \end{cases}$$

8. Ի՞նչ են x և y արժեքները հետևեալին մէջ,

$$x^2 + y^2 - 2y + x + 2 = \frac{y^2 + 2}{x^2}:$$

$$\eta. \begin{cases} x = \frac{y}{x^2 - y^2} (y^2 + \sqrt{x^2 y^2 + y^2 y^2 - x^2 y^2}) \\ x = \frac{y}{x^2 - y^2} (y^2 - \sqrt{x^2 y^2 + y^2 y^2 - x^2 y^2}) \end{cases}$$

Օրինակ էրբայր յետն .

1. Ի՞նչ են x և y արժեքները հետևեալ հաւասարութեան մէջ, $x^2 + 4x = -3$:

Նախ քառակուսին լրացնելով կ'ունենանք

$$x^2 + 4x + 4 = -3 + 4 = 1.$$

Եւ քառակուսի արմատը հանելով

$$x + 2 = \pm \sqrt{1} = \pm 1, \text{ կամ } -1.$$

ուստի՝

$$x = -2 + 1 = -1. \text{ կամ } x = -2 - 1 = -3:$$

Այսինքն՝ այս ձևին մէջ երկու արմատներն ալ բացասական են:

Ստորոգյալն .

Եթէ առաջին բացասական արժեքն առնենք, հետևեալ

$$x^2 + 4x = -3 \text{ հաւասարութիւնը}$$

$$\text{կ'ըլայ } (-1)^2 + 4(-1) = 1 - 4 = -3.$$

Եթէ երկրորդ արժեքն առնենք, հետևեալ

$$x^2 + 4x = -3 \text{ հաւասարութիւնը}$$

$$\text{կ'ըլայ } (-3)^2 + 4(-3) = 9 - 12 = -3.$$

ուստի՝ x երկու արժեքներն ալ կը ստուգեն հաւասարութեանը :

2. Ե՞նչ են x արժեքները հետեւեալ հաւասարութեան մէջ ,

$$-\frac{x^2}{2} - 5x - 16 = 12 + \frac{x^2}{2} + 6x :$$

Տեղափոխելով m վերածելով՝ կ'աւնենանք
 $-x^2 - 11x = 28$.

Եւ որովհետեւ x երկրորդ կարողութեան համարատարիչը բացասական է՝ բոլոր եզրերուն նշանները կը փոխենք , եւ կ'աւնենանք

$$x^2 + 11x = -28 ,$$

սպաւ լրացնելով քառակուսին

$$x^2 + 11x + 30 \cdot 25 = 2 \cdot 25 .$$

ուստի

$$x + 5 \cdot 5 = \pm \sqrt{2 \cdot 25} = \pm 1 \cdot 5 \text{ կամ } -1 \cdot 5 .$$

հետեւապէս՝ $x = -4$ կամ $x = -7$:

3. Ե՞նչ են x արժեքները հետեւեալ հաւասարութեան մէջ ,

$$-\frac{x^2}{8} - 2x - 5 = \frac{7x^2}{8} + 3x + 5 :$$

$$\text{Պ} : \begin{cases} x = -2 : \\ x = -3 : \end{cases}$$

4. Ե՞նչ են x արժեքները հետեւեալին մէջ ,

$$4x^2 + \frac{3x}{5} + 3x = -14x - 3\frac{1}{5} - 4x^2 :$$

$$\text{Պ} : \begin{cases} x = -2 : \\ x = -\frac{1}{5} : \end{cases}$$

5. Ի՞նչ են x և y արժեքները հետևելովին մէջ,

$$x^2 - 4x - \frac{3x}{4} = \frac{4x^2}{2} + 24x + 2,$$

$$\eta. \begin{cases} x = -8 \\ x = -\frac{1}{4} \end{cases}$$

6. Ի՞նչ են x և y արժեքները հետևելովին մէջ,

$$x - x^2 - 3 = 6x + 1,$$

$$\eta. \begin{cases} x = -4 \\ x = -1 \end{cases}$$

7. Ի՞նչ են x և y արժեքները հետևելովին մէջ,

$$x^2 + 4x - 90 = -93,$$

$$\eta. \begin{cases} x = -3 \\ x = -1 \end{cases}$$

Օրինակ՝ շարքի յետոյ :

1. Ի՞նչ են x և y արժեքները հետևելով հաւասարութեան մէջ,

$$x^2 - 8x = -7:$$

Քառակուսին լրացրնելով կ'ունենանք

$$x^2 - 8x + 16 = -7 + 16 = 9.$$

ապա քառակուսի արմատը հանելով՝

$$x - 4 = \pm \sqrt{9} = +3 \text{ կամ } -3.$$

ուստի՝

$$x = +7 \text{ կամ } x = +1:$$

Այսինքն՝ այս ձևին մէջ, երկու արմատներն ալ դրական են :

Ստորագրելու :

Եթէ մեծագոյն արմատն առնենք, հետևելով

$$x^2 - 8x = -7 \text{ հաւասարութիւնը}$$

$$7^2 - 8 \times 7 = 49 - 56 = -7.$$

և Եթէ փոքրագոյնն առնենք, նոյն

$$x^2 - 8x = -7 \text{ հաւասարութիւնք}$$

կ'ըլլայ $1^2 - 8 \times 1 = 1 - 8 = -7.$

ուստի՝ երկու արմատներն ալ կը ստուգեն հաւասարութիւնք :

2. Ե՞նչ են x թարժէքները հետեւեալին մէջ,

$$-3x + 2x^2 + 1 = 17\frac{4}{5}x - 2x^2 - 3,$$

Տեղափոխելով և հաւաքելով եզրերը՝ կ'ունենանք

$$4x^2 - 20\frac{4}{5}x = -4.$$

ապա x^2 թ համարադրելովը բաժնելով՝ կ'ունենանք

$$x^2 - 5\frac{1}{5}x = -1,$$

Քառակուսին լրացնելով՝ կ'ունենանք

$$x^2 - 5\frac{1}{5}x + \frac{169}{25} = -1 + \frac{169}{25} = \frac{144}{25}.$$

և արմատը հանելով՝

$$x^2 - 2\frac{3}{5} = \pm \sqrt{\frac{144}{25}} = \pm \frac{12}{5} \text{ կամ } -\frac{12}{5},$$

ուստի՝

$$x = 2\frac{3}{5} + \frac{12}{5} = 5. \text{ կամ } x = 2\frac{3}{5} - \frac{12}{5} = \frac{1}{5}.$$

Արդ՝ $x = 5$ և $x = \frac{1}{5}$.

Եթէ մեծագոյն արմատն առնենք, հետեւեալ

$$x^2 - 5\frac{1}{5}x = -1 \text{ հաւասարութիւնք}$$

կ'ըլլայ, $5^2 - 5\frac{1}{5} \times 5 = 25 - 26 = -1.$

և Եթէ փոքրագոյն արմատն առնենք, նոյն

$$x^2 - 5\frac{1}{5}x = -1 \text{ հաւասարութիւնք}$$

կ'ըլլայ, $\left(\frac{1}{5}\right)^2 - 5\frac{1}{5} \times \frac{1}{5} = \frac{1}{25} - \frac{26}{25} = -1.$

3. Ե՞նչ են x արժեքները հետևեալ հաւասարութեան մէջ,

$$-4x^2 = \frac{x}{7} + 1\frac{1}{7} = -5x^2 + 8x:$$

$$\text{Պ. } \begin{cases} x = 8: \\ x = \frac{1}{7}: \end{cases}$$

4. Ե՞նչ են x արժեքները հետևեալին մէջ,

$$-4x^2 + \frac{8x}{20} - \frac{1}{40} = -3x^2 - \frac{x}{20} + \frac{1}{40}:$$

$$\text{Պ. } \begin{cases} x = \frac{1}{4}: \\ x = \frac{1}{5}: \end{cases}$$

5. Ե՞նչ են x արժեքները յետադային մէջ,

$$x^2 - 10\frac{1}{10}x = -1:$$

$$\text{Պ. } \begin{cases} x = 10: \\ x = \frac{1}{10}: \end{cases}$$

6. Ե՞նչ են x^2 արժեքները յետադային մէջ,

$$-27x + \frac{17x^2}{5} + 100 = \frac{2x^2}{5} + 12x - 26:$$

$$\text{Պ. } \begin{cases} x = 7: \\ x = 6: \end{cases}$$

7. Ե՞նչ են x արժեքները յետադային մէջ,

$$\frac{8x^2}{3} - 22x + 15 = -\frac{7x^2}{3} + 28x - 30:$$

$$\text{Պ. } \begin{cases} x = 9: \\ x = 1: \end{cases}$$

8. Ե՞նչ են x և y արժեքները ճետադրային մէջ,

$$2x^2 - 30x + 3 = -x^2 + 3\frac{3}{10}x - \frac{3}{10}$$

$$\eta. \begin{cases} x = 11 \\ x = \frac{3}{10} \end{cases}$$

Որոշում-Թիւեր և Արժանոց:

126. Մինչև ցարդ ցուցուցինք երկրորդ առաջադրանքի հաւասարութեան մը արժանները դանելու կերպերը: Արդ՝ յառաջ կ'երթանք ցուցընելու այս արժաններուն քանի մը որակիտութիւնները:

Չե՛ս առաջին.

127. Յետադայ առաջին ձեւոյն մէջ,

$$x^2 + 2x = 2,$$

ա. արժան է $x = -1 + \sqrt{2 + 1^2},$

բ. արժան է $x = -1 - \sqrt{2 + 1^2},$

և անոնց գումարն է -2 :

Որովհետև այս ձեւին մէջ 2 դրական ենթադրուած է, արժատական նշանին տակի $2 + 1^2$ քանակութիւնը 1^2 էն մեծագոյն է. ուստի եւ անոր արժանն ալ -1 էն մեծ: Հետեւապէս՝ առաջին արժանոր որ հաւասար է արժատականին եւ -1 ի մէջ աւելի տարբերութեանը, դրական պիտի ըլլայ. եւ $\sqrt{2 + 1^2}$ էն փոքր: Երկրորդ արժատին մէջ՝ արժատականն ու -1 նման նշաններ ունին. ուստի երկ-

127. Առաջին ձեւին մէջ արժանները նոյն նշաններն ունին թէ տարբեր նշաններ: Ե՞նչ է առաջին արժատին նշանը: Ե՞նչ է երկրորդինը: Ո՞րն է մեծագոյնը: Ինչի՞ հաւասար է անոնց գումարը: Ինչի՞ հաւասար է անոնց արտադրեալը:

ԸՊՐԴ արմատը հաւասար պիտի ըլլայ անոնց գումարին , եւ պիտի ըլլայ բացասական : Եթէ երկու արմատները միատեղ բաղմաստակենք , կ'ունենանք

$$- \frac{x}{2} + \sqrt{r + \frac{x^2}{4}}$$

$$- \frac{x}{2} - \sqrt{r + \frac{x^2}{4}}$$

$$+ \frac{x^2}{4} - \frac{x}{2} \sqrt{r + \frac{x^2}{4}}$$

$$+ \frac{x}{2} \sqrt{r + \frac{x^2}{4}} - r - \frac{x^2}{4}$$

Արտադրեալն է — r :

Աւտի կը մակարեւենք ,

Ա. Թէ առաջին յեռոյն ՏԷՂ արժապնէրուն ՏԷԼԸ ՏԷԼԸ ԳՐԻԿԱՆԵ Է Լ ՏԷՍԸ ԲԱԿԱՍԱԿԱՆ :

Բ. Թէ ԳՐԻԿԱՆ արժապը ԲԱԿԱՍԱԿԱՆ արժապէն ՆԱՍԱԿԱՆԱԿԷՍ $\frac{x}{2} + r$ է :

Գ. Թէ ԷՐԿՈՍ արժապոց ԳՐՈՏԱՐԸ ԿԱՍԱՍԱՐ Է ԷՐԿՐՐԴ ԷՂՐԻՆ ՏԷԼԷ Բ Է ԿԱԿԱՍԱԿ ԵՂԱՆՈՂ ԱՐԱՆՈՍԱՅ ԿԱՏԱՐՍՈՍՏԵՐԸ :

Դ. Թէ ԷՐԿՈՍ անդամոց արտադրեալը ԿԱՍԱՍԱՐ Է ԿԱԿԱՍԱԿ ԵՂԱՆՈՂ ԱՐԱՆՈՍԱՅ ԷՐԿՐՐԴ անդամին :

ՕՐԻՆԱԿԻ

1. Սա հաւասարութեան մէջ

$$x^2 + x = 20,$$

կը գտնենք թէ արմատներն են 4 եւ — 5 : Անոնց գումարն է — 1 , եւ արտադրեալը — 20 :

2. Հետեւեալ հաւասարութեան մէջ

$$x^2 + 2x = 3,$$

կը գտնենք թէ արմատներն են 1 եւ — 3 . անոնց գումարը հաւասար է — 2ի , եւ արտադրեալը — 3ի :

3. Հետեւեալ հաւասարութեան մէջ

$$x^2 + x = 90,$$

արմատներն են $+9$ եւ -10 . անոնց գումարն է -1 , եւ արտադրեալը -90 :

4. Հետեւեալ հաւասարութեան մէջ

$$+^2 + 4+ = 60,$$

արմատներն են 6 եւ -10 : Անոնց գումարն է -4 , եւ արտադրեալն է -60 :

ՉԼ երկրորդ.

128. Երկրորդ ձեւն է,

$$+^2 - 2\frac{1}{2}+ = \text{Բ}.$$

եւ հաւասարութիւնը լուծելով կը գտնենք

ա. արմատը, $+ = +\frac{1}{2} + \sqrt{\text{Բ} + \frac{1}{4}}$

բ. արմատը, $+ = +\frac{1}{2} - \sqrt{\text{Բ} + \frac{1}{4}}$,

եւ անոնց գումարն է $2\frac{1}{2}$

Այս ձեւին մէջ՝ առաջին արմատը դրական է եւ երկրորդը բացասական: Եթէ երկու արմատները բազմապատկենք ՚ի միասին, կ'ուենանք

$$\left(\frac{1}{2} + \sqrt{\text{Բ} + \frac{1}{4}}\right) \times \left(\frac{1}{2} - \sqrt{\text{Բ} + \frac{1}{4}}\right) = -\text{Բ}:$$

Ուստի՝ կը մակարեկենք,

Ա. Թէ երկրորդ յեռն մէջ՝ արժարներուն մէջը դրական է եւ միւսը բացասական է:

Բ. Թէ դրական արժարը բացասական արժարէն ընտանաւորէս մեծագոյն է:

Գ. Թէ արժարոց գումարը հաստատ է երկրորդ էւրէն մէջի Բ է հակառակ նշանով արժանազտ հասարարարը:

128. Երկրորդ ձեւին մէջ առաջին արմատին նշանն ի՞նչ է: ի՞նչ է երկրորդին նշանը: Ո՞րն է մեծագոյնը: Անոնց գումարն ինչի՞ հաւասար է: Անոնց արտադրեալն ինչի՞ հաւասար է:

Գ. Թէ արճատարաց արտարութեանը հաստատար է հասկանալի նշանով առանձնաժ Երկրորդ անդամին :

ՕՐԻՆԱԿՔ

1. Հետեւեալ հաւասարութեան

$$x^2 - x = 12,$$

արմատներն են $+4$ եւ -3 . Անոնց գումարն է $+1$, եւ անոնց արտադրեալը -12 :

2. Հետեւեալ հաւասարութեան մէջ

$$x^2 - 9\frac{9}{10}x = 1,$$

արմատներն են $+10$ եւ $-\frac{1}{10}$: Անոնց գումարն է $9\frac{9}{10}$, եւ անոնց արտադրեալն է -1 :

3. Հետեւեալ հաւասարութեան

$$x^2 - 11x = 80$$

արմատներն են $+16$ եւ -5 : Անոնց գումարն է $+11$, եւ արտադրեալն է -80 :

ԶԷ ԵՐՐՈՂ

129. Երրորդ ձեւն է :

$$x^2 + 2\frac{1}{2}x = -7.$$

Եւ հաւասարութիւնը լուծելով՝ կը գտնենք

ա. արմատը, $x = -\frac{1}{2} + \sqrt{-7 + \frac{1}{4}}$,

բ. արմատը, $x = -\frac{1}{2} - \sqrt{-7 + \frac{1}{4}}$

Եւ անոնց գումարն է $-2\frac{1}{2}$:

129. Երրորդ ձեւին մէջ արմատոց նշաններն ի՞նչ են : Ամենափոքր արմատը ո՞րն է : Արմատոց գումարն ինչի՞ հաւասար է : Անոնց արտադրեալն ինչի՞ հաւասար է :

Այս ձևովն մէջ՝ արմատական նշանին տակի քանակութիւնը $\frac{1}{2}$ էն փոքրագոյն ըլլալով՝ իր արմատը $\frac{1}{2}$ էն փոքր է . ուստի՝ երկու արմատներն ալ բացասական են , եւ առաջինը թուականապէս ամենափոքրն է :

Եթէ արմատները մէկտեղ բաղմապատկենք , կ'ունենանք

$$\left(-\frac{1}{2} + \sqrt{-\frac{1}{4} + \frac{1}{4}^2}\right) \times \left(-\frac{1}{2} - \sqrt{-\frac{1}{4} + \frac{1}{4}^2}\right) = +\frac{1}{4} :$$

Ուստի կը մականերենք ,

Ա. Թէ երրորդ յեռն զիջ երկու արմատներն ալ բացասական են :

Բ. Թէ առաջին արմատը երկրորդէն լուրջանապէս $\frac{1}{2}$ րաւագոյն է :

Գ. Թէ երկու արմատաց քաճարը հաստատար է երկրորդ եզրին զիջ թէ հակասակ նշանով առանտաժ հաստարար չեն :

Դ. Թէ արմատաց արտադրելալը հաստատար է հակասակ նշանով առանտաժ երկրորդ անդամին :

ՕՐԻՆԱԿՔ

1. Հետեւեալ հաւասարութեան

$$x^2 + 9x = -20 ,$$

արմատներն են -4 եւ -5 : Անոնց դումարն է -9 , եւ անոնց արտադրեալն է -20 :

2. Հետեւեալ հաւասարութեան

$$x^2 + 2\frac{3}{4}x = -1\frac{1}{2} ,$$

արմատներն են $-\frac{3}{4}$ եւ -2 : Անոնց դումարն $-2\frac{3}{4}$, եւ արտադրեալն է $+1\frac{1}{2}$:

4. Հետեւեալ հաւասարութեան

$$x^2 + 5x = -6$$

արժատներն են — 2 եւ — 3: Անոնց գումարն է — 5, եւ արտադրեալն է + 6:

ՉԼ շրրրրր

130. Չորրորդ ձեւն է,

$$+^2 - 2\frac{1}{2} + = - 2 .$$

եւ հաւասարութիւնը լուծելով՝ կը գտնենք

ա. արժատը ,	$+ = \frac{1}{2} + \sqrt{-2 + \frac{1}{4}}$
բ. արժատը ,	$+ = \frac{1}{2} - \sqrt{-2 + \frac{1}{4}}$

անոնց գումարն է $2\frac{1}{2}$:

Այս ձեւոյն մէջ՝ ինչպէս նաեւ երրորդին մէջ ալ, արժատական նշանին տակի քանակութիւնը $\frac{1}{2}$ էն փոքր ըլլալով՝ անոր արժատը $\frac{1}{2}$ էն փոքր է. ուստի երկու արժատներն ալ դրական են, եւ առաջինն է մեծագոյնը :

Եթէ երկու արժատներն 'ի միասին բազմապատկենք, կ'ուենենանք

$$\left(\frac{1}{2} + \sqrt{-2 + \frac{1}{4}}\right) \times \left(\frac{1}{2} - \sqrt{-2 + \frac{1}{4}}\right) = + 2 :$$

Ուստի՝ կը մականգրենք,

Ա. Թէ շրրրրր յեւոյն մէջ երկու արժատներն ալ դրական են :

Բ. Թէ առաջին արժատը երկրորդէն մեծագոյնն է :

Գ. Թէ արժատոց Գումարը հաստատ է երկրորդ եղբն Բ ի հակառակ նշանով առնուած համարորոշը :

Դ. Թէ արժատոց արտադրեալը հաստատ է հակառակ նշանով առնուած երկրորդ անդամին :

150. Չորրորդ ձեւոյն մէջ ի՞նչ են արժատոց նշանները : Ո՞ր արժատը մեծագոյնն է : Արժատոց գումարն ինչի՞ հաւասար է : Անոնց արտադրեալն ինչի՞ հաւասար է :

ՕՐԻՆԱԿՔ

1. Յետագայ հաւասարութեան

$$+^2 - 7+ = -12,$$

արմատներն են $+4$ եւ $+3$: Անոնց գումարն է $+7$ եւ արտադրեալը՝ $+12$:

2. Յետագայ հաւասարութեան

$$+^2 - 20+ = -36,$$

արմատներն են $+18$ եւ $+2$: Անոնց գումարն է $+20$ եւ արտադրեալը՝ 36 :

3. Յետագայ հաւասարութեան

$$+^2 - 17+ = -42,$$

արմատներն են $+14$ եւ $+3$: Անոնց գումարն է $+17$ եւ արտադրեալը $+42$:

131. Երրորդ ու չորրորդ ձեւոց մէջ $+ի$ արժէքները երբեմն երեւակայական են, եւ այսպիսի պարագայից մէջ հարկ է դիտնալ թէ արդիւնքներն ինչպէս մեկնուելու են:

Եթէ $\sqrt{b} > \frac{1}{2}a$ է, այսինքն՝ եթէ երկրորդ անդամը $+ա$ -աւանդակաւ $\frac{1}{2}a$ համարադրելն կեւեն մեծագոյն է, յայտնի է թէ $\sqrt{b} - \frac{1}{2}a + \frac{1}{2}a$ երեւակայական է, քանզի արմատական նշանին տակի քանակութիւնը բացասական է: Այս ենթադրութեամբ երրորդ եւ չորրորդ ձեւոց մէջ $+ի$ արժէքները երեւակայական են:

Արդ՝ պիտի ցուցնենք թէ՛ երբ երրորդ ու չորրորդ ձեւոց մէջ $\sqrt{b} > \frac{1}{2}a$ է, խնդրոյն պայմանները իրարու հակասական են:

132. Ասիկայ ցուցնելէն առաջ՝ պիտի ապացու-

151. Ո՞ր ձեւերուն մէջ $+ի$ արժէքները երեւակայական են: Ե՞րբ $+ի$ արժէքները երեւակայական են: Ուրեմն ինչո՞ւ $+ի$ արժէքները երեւակայական են:

152. Ի՞նչ է Յօդուած 152 ին մէջ ապացուցեալ նախադասութիւնը: Եթէ խնդրոյն պայմանները հակասական են, անծանօթ քանակութեան արժէքներն ի՞նչպէս են:

ցանկնք նախադասութիւն մը՝ որմէ կախեալ է հա-
կասութեան ապացոյցը . այսինքն՝

Եթէ որ $+$ էր թիւ x երկու մասանց բաժնուի, և այն
մասերն իրարու հետ բազմապատկուին, արտադրեալն ու-
ճնէն թիւ կ'ըլլայ, երբ մասերն իրարու հասասար են :

Թող $2\frac{1}{2}$ ցուցնէ բաժնուելու թիւը, և որ մա-
սանց տարբերութիւնը անատեն

$$\frac{1}{2} + \frac{x}{2} = \text{մեծագոյն մասին (Տես Յօդ. 69. 7):}$$

և $\frac{1}{2} - \frac{x}{2} = \text{փոքրագոյն մասին .}$

և $\frac{1}{2}^2 - \frac{x^2}{4} = \text{Ս. ի, անոնց արտադրեալին (Յօդ. 38):}$

Արդ՝ յայտնի է թէ Ս. կ'աճի երբ որ կը նուազի, և
թէ ամենէն մեծ կ'ըլլայ, երբ $x = 0$. այսինքն՝

$$\frac{1}{2} \times \frac{1}{2} = \frac{1}{4} \text{ ամենէն մեծ արտադրեալն է :}$$

Արդ՝ որովհետև

$$+^2 - 2\frac{1}{2}+ = - \text{ թ հաւասարութեան մէջ}$$

$2\frac{1}{2}$ արմատոց դուժարն է, և թ՝ անոնց արտադրեալը,
կը հետեւի թէ թ չի կրնար $\frac{1}{4}$ էն մեծագոյն ըլլալ :
Եթէ $\text{թ} > \frac{1}{4}$ ենթադրենք, նախընթաց հաւասարու-
թեամբ պայման մը ցուցուցած կ'ըլլանք որ չի կրնար
կատարուիլ, և $+$ ի երեւակայական արժէքն այս
անկարելութիւնը կը ցուցնէ : Ուստի կը հետեւը-
նենք թէ՝

Երբ անժամօթ $+$ ամառի տեսիլն արժեքները երեւակայական
են, նախադասութիւնն կ'աճ ինքրոյն պայմաններն իրարու
հակասական են :

ՕՐԻՆԱԿԻ

1. Քափը երկու թիւ որոց դուժարը 12 և ար-
տադրեալը 46 է :

Թող + եւ է ցուցրնեն այն թիւերը :

Առաջին պայմանով՝ $+ + t = 12$.

եւ երկրորդով՝ $+ t = 46$:

Առաջին հաւասարութենէն կ'ուենենանք

$$+ = 12 - t$$

Այս արժէքը երկրորդ հաւասարութեան մէջ + ի հետ փոխանակելով կ'ուենենանք

$$12t - t^2 = 46$$

եւ փոխելով եզրերուն նշանները՝ կ'ուենենանք

$$t^2 - 12t = -46$$

Ապա՝ լրացրնելով քառակուսին

$$t^2 - 12t + 36 = -46 + 36 = -10$$

ուստի կ'ուենենանք

$$t = 6 + \sqrt{-10}$$

$$t = 6 - \sqrt{-10}$$

եւ այս երկու արժէքները երեւակայական են , եւ իրօք այնպէս ըլլալու են , քանզի պայմանները հակասական են :

2. Երկու թուոց դումարն է 8 , եւ անոնց արտադրեալն է 20 : Ի՞նչ են թիւերը :

Թող + ու է ցուցրնեն այն թիւերը :

Առաջին պայմանով ,

$$+ + t = 8$$

եւ երկրորդով , $+ t = 20$:

Առաջին հաւասարութենէն կ'ուենենանք

$$+ = 8 - t$$

եւ այս արժէքը երկրորդ հաւասարութեան մէջ + ի հետ փոխանակելով կ'ուենենանք

$$8t - t^2 = 20$$

նշանները փոխելով, եւ քառակուսին լրացրելով՝
կ'ուենենանք $t^2 - 8t + 16 = -4$.

եւ արմատը հանելով,

$$t = 4 + \sqrt{-4} \text{ եւ } t = 4 - \sqrt{-4}.$$

Կրնանք t ին այս արժէքները հետեւեալ ձեւերու
վերածել (304. 104),

$$t = 4 + 2\sqrt{-1} \text{ եւ } t = 4 - 2\sqrt{-1}.$$

3. Ի՞նչ են $+t$ արժէքները հետեւեալ հաւասարութեան մէջ,

$$t^2 + 2t = -10.$$

$$\text{Պ. } \begin{cases} t = -1 + 3\sqrt{-1} \\ t = -1 - 3\sqrt{-1} \end{cases}$$

Խնդիրներ որ զի են աւելի անձանցի + անահոթիւն

կը պարտանահեն :

1. Քաիր $t^2 + t^2 = 100$ եւ $t + t = 14$ հաւասարութեանց մէջ, $+t$ ու t ի արժէքը :

Տեղափոխելով երկրորդ հաւասարութեան մէջի t կ'ուենենանք

$$t = 14 - t.$$

եւ երկու անդամներն ալ քառակուսելով

$$t^2 = 196 - 28t + t^2.$$

Այս արժէքը առաջին հաւասարութեան մէջ t^2 է հետ փոխանակելով կ'ուենենանք

$$196 - 28t + t^2 + t^2 = 100.$$

վերածելով կ'ուենենանք

$$t^2 - 14t = -48.$$

եւ լրացրելով քառակուսին

$$t^2 - 14t + 49 = 1,$$

Եւ հանելով քառակուսի արմատը

$$t - 7 = \pm \sqrt{1} = +1 \text{ կամ } -1:$$

Ուստի $t = 7 + 1 = 8$, կամ $t = 7 - 1 = 6$:

Եթէ մեծագոյն արժէքն առնենք, կը գտնենք $+ = 6$ ի, եւ եթէ փոքրագոյնն առնենք, կը գտնենք $+ = 8$ ի:

Սորա-հետեւն .

$t = 8$, մեծագոյն արժէքին համար՝ հետեւեալ հաւասարութեանէն

$$+ + t = 14 \text{ կ'առնենանք } 6 + 8 = 14.$$

Եւ $+^2 + t^2 = 100$ է կ'առնենանք $36 + 64 = 100$:

$t = 6$ արժէքին համար՝ հետեւեալ հաւասարութեանէ $+ + t = 14$ կ'առնենանք $8 + 6 = 14$,

Եւ $+^2 + t^2 = 100$ է կ'առնենանք $64 + 36 = 100$:

Ուստի՝ երկու կարգ արժէքներն ալ հաւասարութիւնը կը ստուգեն:

2. Քաթիր $+^2 + 3t = 22$ եւ $+^2 + 3t + 2t^2 = 40$ հաւասարութեանց մէջ $+$ ի ու t ի արժէքները:

Հանելով առաջին հաւասարութիւնը երկրորդէն՝ կ'առնենանք

$$2t^2 = 18,$$

Եւ

$$t^2 = 9.$$

ուստի

$$t = +3, \text{ կամ } -3:$$

Այս առաւել արժէքը առաջին հաւասարութեան մէջ փոխանակելով t ի հետ, կ'առնենանք

$$+^2 + 9t = 22.$$

որմէ կը գտնենք

$$+ = +2, \text{ եւ } + = -11:$$

Եթէ՛ $t = -3$, բացասական արժէքն առնենք՝
առաջին հաւասարութենէն կ'ուեննանք

$$+^2 - 9 + = 22.$$

որմէ կը գտնենք

$$+ = +11, \text{ եւ } + = -2.$$

Ստորագրենք .

$t = +3$ եւ $+ = +2$ արժէքներուն համար՝ վերի՝
 $+^2 + 3t = 22$ հաւասարութենէն կ'ուեննանք

$$2^2 + 3 \times 2 \times 3 = 4 + 18 = 22.$$

եւ $+ = -11$, երկրորդ արժէքին համար՝ նոյն $+^2 + 3t = 22$ հաւասարութենէն կ'ուեննանք

$$(-11)^2 + 3 \times -11 \times 3 = 121 - 99 = 22.$$

Եթէ հիմա t ի երկրորդ արժէքն առնենք, այսինքն՝
 $t = -3$, եւ $+$ ի համեմատական արժէքները, այս-
ինքն՝ $+ = +11$, եւ $+ = -2$. $+ = +11$ ի համար
վերի $+^2 + 3t = 22$ հաւասարութենէն կ'ուեննանք

$$11^2 + 3 \times 11 \times -3 = 121 - 99 = 22.$$

եւ $+ = -2$ ի համար՝ նոյն $+^2 + 3t = 22$ հաւասար-
ութենէն կ'ուեննանք

$$(-2)^2 + 3 \times -2 \times -3 = 4 + 18 = 22.$$

3. Գտնիր $+$ ի, t ի եւ z ի արժէքները սա հաւա-
սարութեանց մէջ.

$$+z = t^2 \quad (1)$$

$$+ + t + z = 7 \quad (2)$$

$$+^2 + t^2 + z^2 = 21 \quad (3)$$

Տեղափոխելով երկրորդ հաւասարութեան մէջի t
կ'ուեննանք $+ + z = 7 - t$ (4).

ապա քառակուսելով անդամները՝ կ'ուեննանք

$$+^2 + 2tz + z^2 = 49 - 14t + t^2.$$

Այդ եթէ $2 + \eta$ ի հետ առաջին հաւասարութեանն առնուած անոր արժէքը փոխանակենք, կ'ունենանք

$$+^2 + 2t^2 + \eta^2 = 49 - 14t + t^2.$$

Եւ իւրաքանչիւր անդամին մէջ t^2 ն ջնջելով՝ կ'ունենանք

$$+^2 + t^2 + \eta^2 = 49 - 14t:$$

Եայց՝ երրորդ հաւասարութեան կը տեսնենք թէ վերջին հաւասարութեան իւրաքանչիւր անդամը հաւասար է 21 ի. ուստի

$$49 - 14t = 21,$$

Եւ

$$14t = 49 - 21 = 28.$$

ուստի

$$t = \frac{28}{14} = 2.$$

Այս արժէքը (1) հաւասարութեան մէջ t ի տեղ դնելով՝ կ'ունենանք $+ \eta = 4$.

Եւ զանիկա (4) հաւասարութեան մէջ դնելով՝ կ'ունենանք $+ + \eta = 5$, եւ $+ = 5 - \eta$.

Այս արժէքը նախընթաց հաւասարութեան մէջ $+$ ի հետ փոխանակելով՝ կ'ունենանք

$$5\eta - \eta^2 = 4, \text{ կամ } \eta^2 - 5\eta = -4.$$

Եւ լրացրնելով քառակուսին՝ կ'ունենանք

$$\eta^2 - 5\eta + 6 \cdot 25 = 2 \cdot 5.$$

Եւ $\eta - 2 \cdot 5 = \pm \sqrt{2 \cdot 5} = +1 \cdot 5$ կամ $-1 \cdot 5$.

ուստի՝

$$\eta = 2 \cdot 5 + 1 \cdot 5 = 4 \text{ կամ } \eta = +2 \cdot 5 - 1 \cdot 5 = 1.$$

Եթէ առնենք հետեւեալ արժէքը

$$\eta = 4, \text{ կը գտնենք } + = 1:$$

Եթէ հետեւեալ փոքրագոյն արժէքն առնենք

$$\eta = 1, \text{ կը գտնենք } + = 4:$$

4. Հետեւեալ հաւասարութեանց մէջ +ի եւ էի արժէքը գտիր :

$$+ + \sqrt{+է} + է = 19,$$

եւ $+^2 + +է + է^2 = 133:$

Երկրորդ հաւասարութիւնը առաջինով բաժնելով կ'ուենեանք

$$+ - \sqrt{+է} + է = 7$$

իսկ $+ + \sqrt{+է} + է = 19$

ուստի՝ յաւելմամբ $2+ + 2է = 26$

կամ $+ + է = 13,$

եւ փոխանակելով առաջին հաւասարութեան մէջ

$$\sqrt{+է} + 13 = 19$$

կամ՝ տեղափոխելով $\sqrt{+է} = 6$

եւ քառակուսելով $+է = 36:$

Երկրորդ հաւասարութիւնն է, $+^2 + +է + է^2 = 133$

եւ վերջինէն կ'ուենեանք $3+է = 108:$

Հանելով $+^2 - 2+է + է^2 = 25$

ուստի՝ $+ - է = \pm 5$

իսկ $+ + է = 13$

ուստի $+ = 9$ կամ 4. եւ $է = 4$ կամ 9:

ԽՆԴԻՐՔ

1. Գտիր այնպիսի թիւ մը՝ որուն քառակուսւոյն կրկնապատիկը առաւել անոր եռապատիկը հաւասար է 65ի:

Թող + ցուցնէ այն թիւը. անատեն խնդրոյն հաւասարութիւնը պիտի ըլլայ

$$2+^2 + 3+ = 65,$$

160
X

$$\text{ուստի } + = -\frac{3}{4} \pm \sqrt{\frac{65}{2} + \frac{9}{16}} = -\frac{3}{4} \pm \frac{23}{4}.$$

$$\text{Վասնորոյ՝ } + = -\frac{3}{4} + \frac{23}{4} = 5,$$

$$\text{ևւ } + = -\frac{3}{4} - \frac{23}{4} = -\frac{13}{2}.$$

Այս երկու արժեքները խնդիրը կը ստուգեն ֆանդի,

$$2 \times (5)^2 + 3 \times 5 = 2 \times 25 + 15 = 65.$$

$$\text{ևւ } 2 \left(-\frac{13}{2}\right)^2 + 3 \times -\frac{13}{2} =$$

$$\frac{169}{2} - \frac{39}{2} = \frac{130}{2} = 65.$$

16) 2. Մարդ մը կանգուններով ստուի գնեց 240 դահեկանի: Եթէ նոյնչափ ստակով նոյն ստուիէն 3 կանգուն պակաս գնէր, կանգունը 4 դահեկան աւելի պիտի գար իրեն: Քանի կանգուն գնեց:

Թող + ցուցնէ կանգուններուն թիւը:

Անստե՛ն $\frac{240}{+}$ պիտի ցուցնէ մէկ կանգունին գինը:

Եթէ՛ 240 դահեկան տալով՝ 3 կանգուն պակաս գնէր, այսինքն + — 3 կանգուն, այս ենթադրութեամբ՝ ամէն մէկ կանգունին գինը պիտի ներկայացնէինք $\frac{240}{+ - 3}$ ուլ:

Իսկ խնդրէն կը հասկըցուի թէ՛ այս վերջին արժեքը առջինէն 4 դահեկան աւելի պիտի ըլլար: Վասնորոյ՛ կ'ունենանք հետեւեալ հաւասարութիւնը

$$\frac{240}{+ - 3} - \frac{240}{+} = 4.$$

ուսկից՝ վերածելով, $+^2 - 3+ = 180,$

$$եւ \quad + = \frac{3}{2} \pm \sqrt{\frac{9}{4} + 180} = \frac{3 \pm 27}{2} .$$

վասնորոյ՝ $+ = 15$ եւ $+ = -12:$

$+ = 15$ արժէքը խնդրոյն պատասխանն է . քանզի 15 կանգունը 240 դահեկան ըլլալով՝ մէկ կանգունը կ'ըլլայ $\frac{240}{15}$, կամ 16 դահեկան . եւ 12 կանգունը

240 դահեկան ըլլալով՝ մէկ կանգունին դինը կ'ըլլայ 20 դահեկան, որ 16 էն 4 աւելի է:

Երկրորդ արժէքին դալով՝ նոր խնդիր մը կրնանք կազմել: Քանզի վերոյիշեալ հաւասարութեան մէջ $+ փոխելով - +$ ի՛նչ կ'ունենանք

$$\frac{240}{-+ - 3} - \frac{240}{-+} = 4, \text{ կամ } \frac{240}{+} - \frac{240}{+ + 3} = 4,$$

հաւասարութիւն մը՝ որ այս խնդրոյն այժէպրայական բացատրութիւնը կրնայ համարուիլ, այն է . Մարդ մը կանգուններով աստի քնեց 240 դահեկանի: Եթէ նոյնչափ ստակով 3 կանգուն աւելի քնէր՝ ամէն մէկ կանգունին քնը 4 դահեկան պակաս դէպքէ ըլլար: Քանի՞ կանգուն քնեց: $\eta . + = 12, \text{ եւ } + = -15:$

169
7

3. Մարդ մը ձի մը դնեց, եւ ետքը 24 թալէրի ծախելով տուած ստակին չափ հարիւրորդ կորսնցուց . ձիոյն համար սրչափ ստակ տուած էր:

Թող $+ ցուցնէ$ ձիոյն համար տուած թալէրները . անատեն $+ - 24$ պիտի ցուցնէ ըրած կորուստը: Բայց որովհետեւ ծախած ատենը հարիւրին $+ կորսնցուց$, ուստի ամէն մէկ թալէրէն $\frac{+}{100}$ կորսնցուց, եւ $+ թալէրէն$ $\frac{+^2}{100}$ կորսնցուց, ուրեմն կ'ու-

նենանք հետեւեալ հաւասարութիւնը $\frac{+^2}{100} = + - 24, \text{ ուստի } +^2 - 100+ = -2400 .$

Եւ $+ = 50 \pm \sqrt{2500 - 2400} = 50 \pm 10 :$

Վասնորոյ՝ $+ = 60$ եւ $+ = 40 :$

Այս երկու արժէքներն ալ խնդրոյն պատասխան են :
Քանզի՝ նախ դիցուք թէ մարդը 60 թաւէր տուաւ
ձիոյն համար, եւ 24 թաւէրի ալ ծախեց . 36 թաւ-
լէր կորսնցուց :

Դարձեալ՝ խնդրէն կը տեսնուի որ 60 թաւէրէն
60 հարիւրորդ կորսնցուց . այսինքն՝ 60 ին $\frac{60}{100}$ ը,
կամ $\frac{60 \times 60}{100}$ ը՝ որ կը վերածուի 36 ի . վասնորոյ
60 պատասխան է խնդրոյն :

Եթէ 40 թաւէր վճարեց, ծախած ատենը 16 թա-
ւէր կորսնցուց . քանզի՝ 40 թաւէրին 40 հարիւրորդը
կորսնցուց, կամ $\frac{40 \times 40}{100}$, որ կը վերածուի 16 ի
վասնորոյ՝ 40 պատասխան է խնդրոյն :

163 4. Մարդու մը հարցուեցաւ թէ քանի տարեկան
էր . պատասխանեց թէ իր տարիքին քառակուսի ար-
մատը՝ որդւոյն տարիքին կէսն էր . եւ երկուքին
տարիքներուն գումարը 80 էր : Իւրաքանչիւրին
տարիքն ինչ էր :

Թող $+ =$ ցուցնէ հօրը տարիքը .

է՝ որդւոյն տարիքը .

անատեն առաջին պայմանաւ

$$\sqrt{+} = \frac{+}{2},$$

Եւ երկրորդ պայմանաւ

$$+ + \frac{+}{2} = 80,$$

Եթէ առաջին հաւասարութեան

$$\sqrt{+} = \frac{+}{2}$$

երկու անդամները քառակուսինք, կ'ուենենանք

$$+ = \frac{t^2}{4} :$$

Եթէ տեղափոխենք երկրորդին մէջի էը՝ կ'ուենենանք

$$+ = 80 - t .$$

ուստի կ'ուենենանք

$$t = -2 \pm \sqrt{324} = 16, \text{ եւ } + = 64$$

Պ. Հօրը տարիքը 64, որդւոյնը՝ 16:

164

5. Խաչնարած մը 60 լիրա տալով ոչխարներ գնեց, եւ 15 հատը պահելով՝ մնացածը 54 լիրայի ծախեց, եւ ծախած ոչխարներէն ոչխար գլուխ 2 շիւլին շահեցաւ: Քանի ոչխար գնած էր:

Պ. 75:

165

6. Վաճառական մը 33 լիրա 15 շիւլին տալով ասուի գնեց. եւ դարձեալ կանգուենը 2 լիրա 8 շիւլինի ծախելով՝ մէկ կանգուենին համար տուած ըստակին չափ շահեցաւ: Քանի կանգուեն ասուի գնած էր:

Պ. 15:

166

7. Ի՞նչ է այն թիւը՝ որ իր թուանշանաց արտադրեալովը բաժնուելով 3 քանորդ կու տայ. եւ եթէ այն թուոյն վրայ 18 աւելցուի՝ թուանշանաց կարգը կը շրջի:

Պ. 24:

167

8. Քաթիր թիւ մը՝ որ 10 է հանելով եւ մնացածը այն թուով բազմապատկելով, 21 արտադրեալ կու տայ:

Պ. 7 կամ 3:

168

9. Երկու հոգի՝ Ա ու Բ, միեւնոյն ատեն երկու տարրեր տեղերէ ճամբայ ելան, եւ դէպ իրար կու գային: Երբ իրարու պատահեցան՝ հաշիւ ըրին որ Ա Բ էն 18 մղոն աւելի ճամբայ ըրած էր. եւ թէ Ա Բին ճամբորդութիւնը 15 3/4 օրը կրնար ընել, իսկ

28
-21
7

21 3/4
-15 3/4
5 1/4

5. 25 : 18 : 21 : x = 72
5. 25

7 : 18 : 21 : x = 54

Բ Ա ի ն ճամբորդութիւնը 28 օրը կրնար կատարել :
Իւրաքանչիւրը քանի մղոն ճամբորդեց :

$$\left\{ \begin{array}{l} \text{Ա՛} 72 \text{ մղոն :} \\ \text{Բ՛} 54 \text{ մղոն :} \end{array} \right.$$

169

10. Երկու թիւեր կան՝ որոնց տարբերութիւնն է 15, եւ որոնց արտադրեալին կէսը հաւասար է փոքր թուոյն խորանարդին : Ի՞նչ են այն թիւերը :

Պ . 3 եւ 18 :

170

11. Ի՞նչ են այն երկու թիւերը՝ որոնց գումարը եթէ մեծագոյն թուով բազմապատկուի՝ հաւասար կ'ըլլայ 77 ի . եւ որոնց տարբերութիւնը եթէ փոքրագոյն թուով բազմապատկուի՝ հաւասար կ'ըլլայ 12 ի :

Պ . 4 եւ 7, կամ $\frac{3}{2} \sqrt{2}$ եւ $\frac{11}{2} \sqrt{2}$:

171

12. Բաժնէ 100 երկու մասերու՝ որոնց քառակուսի արմատներուն գումարը 14 ըլլայ :

Պ . 64 եւ 36 :

172

13. Բաժնէ 24 երկու մասերու՝ որոնց արտադրեալը հաւասար ըլլայ անոնց տարբերութեանը 33 անգամին :

Պ . 10 եւ 14 :

173

14. Երկու թուոց գումարն է 8, եւ անոնց խորանարդներուն գումարն է 152 : Ի՞նչ են այն թիւերը :

Պ . 3 եւ 5 :

174

15. Երկու վաճառական նոյն տեսակ ասուի ծախեցին . երկրորդը առաջինէն 3 կանգուն աւելի ծախեց, եւ երկուքը 33 թալէր ընդունեցին : Առաջինը երկրորդին ըսաւ . «Քու ասուիիդ համար 24 թալէր պիտի ընդունէի» . միւսը պատասխանեց, «Եւ ես 12½ թալէր պիտի ընդունէի քու կիսիիդ համար» : Իւրաքանչիւրը քանի կանգուն ծախեց :

Պ . $\left\{ \begin{array}{l} \text{Առաջինը՝ 15 կամ 5 :} \\ \text{Երկրորդը՝ 18 կամ 8 :} \end{array} \right.$

175 16. Այրի կնոջ մը 13,000 թալէր ժառանգութիւն
 ինկաւ, որ երկու հաւասար մասանց բաժնելով այն-
 պէս շահի դրաւ՝ որ անոնցմէ հաւասար եկամուտ
 կ'ընդունէր: Եթէ առաջին բաժինը երկրորդին չա-
 փովը շահու գներ՝ 360 թալէր շահ պիտի առնէր.
 Եւ եթէ երկրորդը առաջնոյն չափովը շահու գներ՝
 490 թալէր շահ պիտի առնէր: Ի՞նչ են շահուն եր-
 կու չափերը: Պ. Հարիւրին 7 եւ 6:



ԳԼՈՒԽ Է.



ՀԱՄԵՄԱՏՈՒԹԻՒՆՔ ԵՒ ՅԱՌԱՋԱՏՈՒԹԻՒՆՔ

133. Երկու համասեռ քանակութիւնք իրարու հետ կը բաղդատուին երկու կերպով :

Ա. Դիտելով թէ մէկը միւսէն n քառակուսի կամ սլակաւ է . ասիկա կ'իմացուի անոնց տարբերութեանէն . եւ

Բ. Դիտելով թէ մէկը միւսէն n քառակուսի անգամ մեծ կամ փոքր է , եւ առ կ'իմացուի անոնց քանորդէն :

Ինչպէս՝ 3 եւ 12 թիւերն՝ իրենց տարբերութեանը նկատմամբ իրարու հետ բաղդատելով՝ կը գտնենք թէ 12 3 էն 9 անգամ է . եւ իրենց քանորդին նկատմամբ իրարու հետ բաղդատելով՝ կը գտնենք թէ 12 ի մէջ 3 չորս անգամ կայ . կամ 12 3 էն 4 անգամ մեծ է :

Այս բաղդատութեան առաջին կերպը կ'ըսուի Թոմասիանական Հասեմարութիւն , եւ երկրորդը՝ Երկրաչափական Հասեմարութիւն :

Ուստի՝ Թոմասիանական Հասեմարութիւնը n անգամ թեանց յարաբերութիւնը կը նկատուի անոնց որարբերութեանը

155. Քանի՞ կերպով երկու քանակութիւնք կրնան իրարու հետ բաղդատուիլ : Ի՞նչ կը նկատուի առաջին կերպը : Ի՞նչ երկրորդը : Այս կերպերուն առաջինն ի՞նչ կ'ըսուի : Ի՞նչ կ'ըսուի երկրորդը : Ուրեմն ի՞նչպէս կը սահմանուին երկու համեմատութիւնները :

նայելով, և Երկրաչափական Հասկացումներնք Գանձարան-
ներնց յարաբերութիւննք կը նկատուի անոնց Գանձարանն
յելով:

Թոռաբանական Հասկացումներն և Յարաբերութիւնն

134. Եթէ 2, 4, 8, եւ 10 թիւերն ունինք, որոնց առաջնոյն ու երկրորդին մէջտեղի տարբերութիւնը հաւասար է երրորդին ու չորրորդին մէջտեղի տարբերութեանը, կ'ըսուի թէ այն թիւերը թուաբանական համեմատութեան մէջ են: Առաջին եւ երրորդ թիւերը նախադաս կ'ըսուին, երկրորդ եւ չորրորդ թիւերը՝ յետադաս:

Երբ առաջնոյն եւ երկրորդին մէջտեղի տարբերութիւնը հաւասար է երրորդին ու չորրորդին մէջտեղի տարբերութեանը՝ չորս թիւերը համեմատութեան մէջ են կ'ըսուի: Ինչպէս՝ հետեւեալ թիւերը, 2, 4, 8, 10,

թուաբանական համեմատութեան մէջ են:

135. Երբ առաջին նախադասին ու յետադասին մէջտեղի տարբերութիւնը համեմատութեան որեւէ երկու մերձաւոր եզրերուն մէջտեղի տարբերութեանը հետ նոյն է՝ համեմատութիւնը կը կոչուի Թոռաբանական յարաբերութիւն:

Ուստի՝ Թոռաբանական յարաբերութիւն ճշ թիւերոջն կարգն է՝ որուն մէջ յաջորդական եզրերը շարունակ կ'աճին կամ կը նուազին միեւնոյն թուով՝ որ կը կոչուի յառաջատուութեան ընդհանուր արբերութիւնը:

154. Երբ չորս թիւեր թուաբանական համեմատութեան մէջ են: Ի՞նչ կ'ըսուի առաջինը: Ի՞նչ կ'ըսուի երկրորդը: Ի՞նչ կ'ըսուի երրորդը: Ի՞նչ կ'ըսուի չորրորդը:

155. Ի՞նչ է թուաբանական յառաջատուութիւն մը: Ի՞նչ կը կոչուի այն թիւը՝ որով եզրերը կ'աճին կամ կը նուազին: Ի՞նչ է աճեցեալ յառաջատուութիւնը: Ի՞նչ է նուազեալ յառաջատուութիւնը: Ո՞ր եզրը միայն նախադաս է: Ո՞րը միայն յետադաս:

Ինչպէս՝ հետեւեալ երկու կարգին մէջ

1, 4, 7, 10, 13, 16, 19, 22, 25, . . .

60, 56, 52, 48, 44, 40, 36, 32, 28, . . .

առաջինը կը կոչուի աճեցեալ յարաւաստութիւն, որուն ընդհանուր տարբերութիւնն է 3, եւ միւսը՝ նստալեալ յարաւաստութիւն, որուն ընդհանուր տարբերութիւնն է 4:

Ընդհանրապէս՝ թող $\omega, \varphi, \psi, \chi, \epsilon, \eta, \dots$ ցուցնեն թուարանական յառաջատուութեան մը եղբերը, որ հասարակօրէն կը դրուին այսպէս.

$\omega \cdot \varphi \cdot \psi \cdot \chi \cdot \epsilon \cdot \eta \cdot \dots$

Եւ կը կարգացուի այսպէս. ω ինչ որ է φ ի՛ φ նոյնապէս է ψ ի, ψ նոյնապէս է χ ի, χ նոյնապէս է ϵ ի, եւ այլն: Այս կարգին մէջ իւրաքանչիւր եզր նոյն ատենը նախադաս ու յետադաս է, բաց՛ի առաջին եզրէն՝ որ միայն նախադաս է, եւ վերջինէն՝ որ միայն յետադաս է:

136. Թող η ներկայացընէ ընդհանուր տարբերութիւնը հետեւեալ յառաջատուութեան

$\omega \cdot \varphi \cdot \psi \cdot \chi \cdot \epsilon \cdot \eta$, եւ այլն,

զոր աճեցեալ պիտի նկատենք:

Յառաջատուութեան սահմանէն յայտնապէս կը հետեւի որ

$$\varphi = \omega + \eta, \psi = \varphi + \eta = \omega + 2\eta,$$

$$\chi = \psi + \eta = \omega + 3\eta.$$

Եւ առ հասարակ՝ կարգին որեւէ եզրը հաւասար է առաջին եզրին՝ առանձն նախընթաց ԲՆԼՐ եզրերուն թիւը ընդհանուր տարբերութեամբ Բազմապատկումով:

156. Ի՞նչ է աճեցեալ յառաջատուութեան կարգին վերջին եզրը գտնելու կանոնը:

Կնչպէս՝ թող զըլլայ որեւէ եզրը, եւ թ' եզերաց
թիւը . այս ընդհանուր եզրին ձեւն է

$$z = m + (n - 1) \cdot \varphi :$$

Ուստի՝ վերջին եզրը գտնելու համար հետեւեալ
կանոնն ունինք :

ԿԱՆՈՆ

Ա. Բազմապատկէ ընդհանուր փաթեթերո-թիւը եզերաց
թիւէն Տէկ պահաս ընտրել :

Բ. Արտադրեալին զրայ աւելցուց արտաքին եզրը .
քանակը պիտի ըլլայ զերջին եզրը :

ՕՐԻՆԱԿԻ

Այս $z = m + (n - 1) \cdot \varphi$ տարազով ինչ եզր որ
աւելնք կրնանք գտնել :

1. Եթէ $n = 1$ ընենք՝ կ'ունենանք $z = m$. այ-
սինքն՝ կարգը միայն մէկ եզր մը պիտի ունենայ :

2. Եթէ $n = 2$ ընենք՝ կ'ունենանք $z = m + \varphi$.
այսինքն՝ կարգը երկու եզր պիտի ունենայ, եւ
երկրորդ եզրը հաւասար է առաջնոյն՝ առաւել ընդ-
հանուր տարբերութիւնը :

3. Եթէ $m = 3$ եւ $\varphi = 2$, ինչ է 3րդ եզրը :

Պ . 7 :

4. Եթէ $m = 5$ եւ $\varphi = 4$, ինչ է 6րդ եզրը :

Պ . 25 :

5. Եթէ $m = 7$ եւ $\varphi = 5$, ինչ է 9րդ եզրը :

Պ . 47 :

6. Եթէ $m = 45$ եւ $\varphi = 30$, ինչ է 40րդ եզրը :

Պ . 1245 :

7. Եթէ $m = 50$ եւ $\varphi = 10$, ինչ է 100րդ եզրը :

Պ . 1040 :

8. Հետևեալ յառաջատու թեան 30^ր կըրը գրանելու համար

$$1 \cdot 4 \cdot 7 \cdot 10 \cdot 13 \cdot 16 \cdot 19 \cdot \dots,$$

կ'ունենանք $\Sigma = 1 + 49 \times 3 = 148 :$

9. Հետևեալ յառաջատու թեան 60^ր կըրը գրանելու համար

$$1 \cdot 5 \cdot 9 \cdot 13 \cdot 17 \cdot 21 \cdot 25 \cdot \dots,$$

կ'ունենանք $\Sigma = 1 + 59 \times 4 = 237 :$

137. Եթէ յառաջատու թիւնը նուազեալ ըլլար՝

կ'ունենայինք $\Sigma = n - (r - 1) \cdot r :$

Ուստի՝ նուազեալ յառաջատու թեան մը վերջին կըրը գանելու համար հետևեալ կանոնն ունինք :

ԿԱՆՈՆ

Ա. Բազմապատիէ ընդհանուր պարբերութեանը էզերաց թիւնն զի պահան ըստով :

Բ. Հանէ արտադրեալը առաջին էզերին. ճանցածը վերջին էզերն է :

ՕՐԻՆԱԿԻ

1. Նուազող յառաջատու թեան մը առաջին կըրն է 60, կըերաց թիւն է 20, եւ ընդհանուր տարբերութիւնն է 3. ինչ է վերջին կըրը :

$$\Sigma = n - (r - 1) \cdot r \text{ կու տայ}$$

$$\Sigma = 60 - (20 - 1) \cdot 3 = 60 - 57 = 3 :$$

2. Առաջին կըրն է 90, ընդհանուր տարբերութիւնը 4, եւ կըերաց թիւն է 15. վերջին կըրն ինչ է : Պ . 34 :

157. Ի՞նչ է նուազեալ յառաջատու թեան մը կարգին վերջին կըրը գանելու կանոնը :

178 3. Առաջին եզրն է 100, եզերաց թիւն է 40, եւ ընդհանուր տարբերութիւնն է 2. վերջին եզրն ինչ է: Պ. 22:

179 4. Առաջին եզրն է 80, եզերաց թիւը 10, եւ ընդհանուր տարբերութիւնն է 4. վերջին եզրն ինչ է: Պ. 44:

180 5. Առաջին եզրն է 800, եզերաց թիւն է 200, եւ ընդհանուր տարբերութիւնն է 2. վերջին եզրն ինչ է: Պ. 402:

138. Որեւիցէ թուաբանական յառաջատու թեան մէջ՝ ապացուցանելու է թէ՛ երկու ծայրերէն հասասարակա հետի եղող որեւէ երկու եզրերուն Գոմարը հասասար է երկու ծայրերուն Գոմարին:

Այն է՝ եթէ հետեւեալ յառաջատու թիւնն ունինք
 $2 \cdot 4 \cdot 6 \cdot 8 \cdot 10 \cdot 12,$

ապացուցանել կ'ուզենք առ հասարակ թէ

$$4 + 10 \text{ կամ } 6 + 8,$$

հաւասար է 2 եւ 12 երկու ծայրերուն գոմարին:

Թող $\ast \cdot \text{Բ} \cdot \text{Գ} \cdot \text{Դ} \cdot \text{Ե} \cdot \dots \cdot \text{Ժ} \cdot \text{Ի} \cdot \text{Լ}$ ըլլայ առաջարկեալ յառաջատու թիւնը, եւ Բ եզերաց թիւը:

Նախ կ'ըսենք որ՝ եթէ $+$ ցուցրնէ իր առջեւը $\frac{1}{2}$ եզրերն ունեցող եզր մը, եւ է՝ իր ետեւը $\frac{1}{2}$ եզրերն ունեցող եզր մը, ըսուածներէն կ'ուսենանք

$$+ = \ast + \frac{1}{2} \times \ast$$

եւ

$$\text{Է} = \text{Լ} - \frac{1}{2} \times \ast$$

ուստի յաւելմամբ $+$ $+$ $\text{Է} = \ast + \frac{1}{2}$,

որ կ'ապացուցանէ առաջարկու թիւնը:

158. Ամէն յառաջատու թեան մէջ՝ երկու ծայրերուն գոմարը ի՞նչի հաւասար է: Թուաբանական կարգի մը գոմարը գրանելու կանոնն ի՞նչ է:

Գիցուք թէ՛ + ցուցրնէ վերոյիշեալ յառաջատու թեան մէջ երկրորդ եզրը 4, անատեն և պիտի ցուցրնէ վերջընթեր եզրը 10: Եթէ + ցուցրնէ երրորդ եզրը 6, անատեն և պիտի ցուցրնէ 8ը՝ որ վերջին եզրէն առաջ երրորդ է:

Առաջարկու թեան առաջին մասն ապացուցած ըլլալով՝ յառաջատու թեան եզրերը գրէ՝ վարինին պէս, եւ ապա հակադարձ կարգով մը գրէ, այսինքն,

∞ • Բ • Գ • Դ • Զ • Է • • • • Ժ • Ի • Լ •
 Լ • Ի • Ժ • • • • • • • • • Գ • Բ • ∞ :

Առաջին յառաջատու թեան եզերաց գումարը Գ կոչելով՝ 2Գ պիտի ըլլայ երկու յառաջատու թեանց եզերաց գումարը, եւ պիտի ունենանք

$$2Գ = (\infty + Լ) + (Բ + Ի) + (Գ + Ժ) \dots + (Ժ + Գ) + (Ի + Բ) + (Լ + \infty) :$$

Արդ որովհետեւ ∞ + Լ, Բ + Ի, Գ + Ժ ... ըստ եզրերն իրարու հաւասար են, եւ անոնց թիւը հաւասար է Բ-ի,

$$2Գ = (\infty + Լ) \times Բ, \text{ կամ } Գ = \left(\frac{\infty + Լ}{2} \right) \times Բ :$$

Ուստի՝ թուաբանական կարգի մը գումարը գլխանելու համար հետեւեալ կանոնն ունինք:

ԿԱՆՈՆ

- Ա. Երկու ծայրերը գումարէ, և գումարին կէտն առ:
- Բ. Բազմապատկէ այս կէտ գումարը եզերաց թիւովը, և արտադրեալը կարգին գումարն է:

ՕՐԻՆԱԿԻ

18)

1. Ծայրերն են 2 եւ 16, եւ եզերաց թիւն է 8, կարգին գումարն ինչ է:

$$Գ = \left(\frac{\infty + Լ}{2} \right) \times Բ, \text{ կու տայ } Գ = \frac{2 + 16}{2} \times 8 = 72 :$$

182 2. Մայրերն են 3 եւ 27, եւ եղերաց թիւն է 12. կարգին դումարն ինչ է: Պ. 180:

183 3. Մայրերն են 4 եւ 20, եւ եղերաց թիւն է 10. կարգին դումարն ինչ է: Պ. 120:

184 4. Մայրերն են 100 եւ 200, եւ եղերաց թիւն է 80. կարգին դումարն ինչ է: Պ. 12000:

185 5. Մայրերն են 800 եւ 1200, եւ եղերաց թիւն է 50. կարգին դումարն ինչ է: Պ. 50000:

X 139. Թուարանական համեմատութեան մէջ նշկատելի հինգ թիւեր կան: —

- 1. Առաջին եզր՝ m
- 2. Ընդհանուր տարբերութիւն n
- 3. Թիւ եղերաց՝ p
- 4. Վերջին եզր՝ q
- 5. Գումար՝ r

Հետեւեալ տարադները

$$q = m + (p - 1)n \text{ եւ } r = \left(\frac{m + q}{2} \right) \times p$$

կը պարունակեն՝ m, n, p, q, եւ r հինգ քանակութիւնները, եւ հետեւեալէս կը ծագի հետեւեալ ընդհանուր խնդիրը, այսինքն. Այս հինգ քանակութիւններէն որ ե եղե երեւել թիւերս մը բլլալով՝ մաս երկուսուս գործել:

Արդէն գիտենք q ի արժէքը՝ m, p, եւ q եզրերուն արժէքը գիտնալով:

Յետագայ տարադէն

$$q = m + (p - 1)n,$$

կը գտնենք $m = q - (p - 1)n:$

159. Թուարանական համեմատութեան մէջ նկատելի քանի՞ թիւեր կան: Ն՞չ են անոնք: Ամէն թուարանական յառաջատուութեան մէջ ընդհանուր տարբերութիւնն ինչի՞ հաւասար է:

Այսինքն . Աճեցեալ թռաքանական յառաջադասութեան
առաջին եզրը հասաւար է վերջին եզրին՝ նոսաղ ընդհան-
նոր արբերութեանը եզրաց թիւն 1 պահաս թռոզ
բազմապահեալ :

Նոյն տարադէն կը գտնենք նաեւ

$$n = \frac{d - m}{r - 1} :$$

Այսինքն . Թռաքանական որ է յառաջադասութեան
ձև ընդհանուր արբերութեանը հասաւար է վերջին եզ-
րին՝ ու առաջին եզրին ձևորեղ եղած արբերութեան՝
բաժանեալ եզրաց թիւն 1 պահաս թռոզ :

1. Վերջին եզրն է 16, առաջին եզրը 4, եւ ե-
զերաց թիւն է 5. Ի՞նչ է ընդհանուր տարբերու-
թիւնը :

Սա տարադէն $n = \frac{d - m}{r - 1}$

կ'ունենանք $n = \frac{16 - 4}{4} = 3 :$

2. Վերջին եզրն է 22, առաջին եզրը 4, եւ
եզերաց թիւն է 10. ընդհանուր տարբերութիւնն
ինչ է : Պ . 2 :

140. Վերջին սկզբունքը լուծում մ'է հետեւեալ
խնդրոյն :

Ա. Լ. Բ. Էրիս . թռոց ձևորեղ Մ հար թռաքանական
ձևին թիւեր գտնել :

Այս խնդիրը լուծելու համար՝ նախ հարկաւոր է
ընդհանուր տարբերութիւնը գտնել : Արդ՝ ա թուա-
բանական յառաջատու թեան առաջին եզրը, ք վեր-
ջին եզրը, եւ պահանջեալ միջինները միջանկեալ
եզրերը կրնանք համարիլ : Այս յառաջատու թեան
եզերաց թիւը 5 + 2 ով պիտի ցուցուի :

140. Արեւիցէ երկու թիւերու մէջտեղի թուաբանական որեւէ
միջին թիւ մը ի՞նչպէս կը գտնուի :

Արդ՝ վերոյեղեալ տարազին մէջ ք չի, եւ $s + 2$ թի հետ փոխանակելով՝ ձեւը կ'ըլլայ

$$* = \frac{x - \infty}{s + 2 - 1} = \frac{x - 1}{s + 1} .$$

այսինքն . Պահանջեալ յառաջապահութեան ընդհանուր օրաբերութեանը կը գործուի՝ Ա + Բ թուոց հեջութի օրաբերութեանը պահանջեալ հիշենեքու թիւն 1 առաւել թուով բաժնելով :

Ընդհանուր տարբերութիւնը գտած ըլլալով * ւի վրայ աւելցրնելով յառաջատու թեան երկրորդ եզրը կամ թուաբանական առաջին միջինը կ'ելլէ : Երկրորդ միջինը կը գտնուի առաջին միջնոյն վրայ * աւելցրնելով, եւ այլն :

1. Քաթիր 2 եւ 18 ծայրերուն մէջտեղի թուաբանական երեք միջինները :

Սա տարազը $* = \frac{x - \infty}{s + 1}$

կու տայ $* = \frac{18 - 2}{4} = 4 .$

ուստի՝ յառաջատու թիւնն է

$$2 \cdot 6 \cdot 10 \cdot 14 \cdot 18 :$$

2. Քաթիր 12ի եւ 77ի մէջտեղի թուաբանական տասուերկու միջինները :

Սա տարազը $* = \frac{x - \infty}{s + 1}$

կու տայ $* = \frac{77 - 12}{13} = 5 :$

ուստի՝ յառաջատու թիւնն է

$$12 \cdot 17 \cdot 22 \cdot 27 \cdot \dots \cdot 77 :$$

ՕՐԻՆԱԿԻ

186

1. Քաթիր 2 . 9 . 16 . 23 . . . յառաջատու թեան առաջին յիսուն եզրերուն գումարը :

50^{րդ} եզրին համար կ'ուենենանք

$$L = 2 + 49 \times 7 = 345.$$

Ուստի՝ $Գ = (2 + 345) \times \frac{50}{2} = 347 \times 25 = 8675:$

2. Քաիր 2 . 9 . 16 . 23 . . . կարգին 100^{րդ}
եզրը : Պ . 695 :

3. Քաիր 1 . 3 . 5 . 7 . 9 . . . կարգին 100
եզրերուն գումարը : Պ . 10000 :

187 4. Մեծագոյն եզրն է 70, ընդհանուր տարբերու-
թիւնը 3, եւ եզերաց թիւն է 21. փոքրագոյն եզրը
եւ կարգին գումարն ինչ են :

Պ . Փոքրագոյն եզրը 10. կարգին գումարը 840 :

188 5. Առաջին եզրն է 4, ընդհանուր տարբերու-
թիւնը 8, եւ եզերաց թիւը 8. վերջին եզրը, եւ
կարգին գումարն ինչ են :

Պ . վերջին եզրը՝ 60, գումարը՝ 256 :

189 6. Առաջին եզրն է 2, վերջին եզրը 20, եւ ե-
զերաց թիւը 10. ընդհանուր տարբերութիւնն ինչ է :
Պ . 2 :

190 7. Մտցուր 4 եւ 19 երկու թուոց մէջտեղը չորս
միջիններ . ինչ է կարգը :

Պ . 4 . 7 . 10 . 13 . 16 . 19 :

191 8. Թուաբանական նուազող յառաջատու թեան
մը առաջին եզրն է 10, ընդհանուր տարբերութիւնը՝
մէկ երրորդ, եւ եզերաց թիւն է 21. կարգին գու-
մարն ինչ է : Պ . 140 :

192 9. Թուաբանական յառաջատու թեան մը մէջ՝ ընդ-
հանուր տարբերութիւնը 6, վերջին եզրը 185, եւ
եզերաց գումարը 2945 ըլլալով, առաջին եզրը, եւ
եզերաց թիւն ինչ են :

Պ . Առաջին եզրը՝ 5, եզերաց թիւը՝ 31 :

193

10. Քաթիր 2 . 5 . 8 . 11 . 14 . . . յառաջատու-
թեան իւրաքանչիւր նախադասին ու յետադասին
մէջտեղի թուարանական ինը միջինները :

$n \cdot n = 0 \cdot 3 :$

194

11. Քեանի մը վրայ իրարմէ հեռու հարիւր քար
ուղիղ դժով շարուած , եւ առաջին քարէն 2 կանգուն
հեռու դամբիւղ մը դրուած է , որքան ճախրայ պի-
տի քալէ մարդ մը , եթէ դամբիւղին քովէն ելլէ ու
մէկիկ մէկիկ բերէ դամբիւղին մէջ դնէ քարերը :

$n \cdot 20200$ կանգուն :

Երեւելիական Համեմատութիւն և Յարազատութիւն :

141. Ընդհանուր համեմատականն է այն քանորդը
որ քանակութիւն մը ուրիշ համասեռ քանակու-
թեամբ բաժնելէն կ'ելլէ : Ինչպէս՝ եթէ 3 եւ 6
թիւերը նոյն միութիւնն ունին , անատեն 3 ին առ
6 ունեցած ընդհանուր համեմատականը կը ցուցուի
հետեւեալ ձևով

$\frac{6}{3} = 2 :$

Եւ առ հասարակ՝ եթէ Ա եւ Բ ներկայացընեն
համասեռ քանակութիւնները , անատեն Ա ի առ Բ
ունեցած ընդհանուր համեմատականը կը ցուցուի

այսպէս $\frac{B}{A} :$

142. Եթէ չորս թիւեր
2 , 4 , 8 , 16 ,

այնպիսի արժէք ունին որ երկրորդն առջինով բաժ-
նուելով հաւասար է երրորդով բաժանեալ չորրոր-

141. Ի նչ է ընդհանուր համեմատականը :
142. Ի՞նչ է համեմատութիւնը : Ի՞նչպէս կը ցուցուի թէ չորս
քանակութիւնը համեմատութեան մէջ են : Անդամներն ի՞նչ
կը կոչուին : Առաջին և չորրորդ եզրերն ի՞նչ կ'ըսուին : Ի՞նչ
երկրորդն ու երրորդը :

գին, անատեն թիւերը համեմատութեան մէջ են կ'ըսուի: Եւ առ հասարակ՝ եթէ Ա, Բ, Գ եւ Դ չորս քանակութիւններն այնպէս արժէք ունին որ

$$\frac{\text{Բ}}{\text{Ա}} = \frac{\text{Դ}}{\text{Գ}},$$

անատեն կ'ըսուի թէ Ա այնպէս կը համեմատի Բ ի, ինչպէս Դ՝ Դ ի: Երբ չորս քանակութիւնք՝ զոյգ զոյգ մէկտեղ բաղդատուելով, իրարու հետ այս յարաբերութիւնն ունին՝ երկրաչափական համեմատութեան մէջ են կ'ըսուի:

Ա ի առ Բ ունեցած ընդհանուր համեմատականը Գ ի առ Դ ունեցած ընդհանուր համեմատականին հաւասար ըլլալը ցուցնելու համար՝ քանակութիւնները կը գրենք այսպէս.

$$\text{Ա} : \text{Բ} :: \text{Գ} : \text{Դ}.$$

Եւ կը կարդանք՝ Ա այնպէս կը համեմատի Բ ի, ինչպէս Դ՝ Դ ի:

Ա յն քանակութիւնները որ իրարու հետ կը բաղդատուին՝ կ'ըսուին եղբր՝ համեմատութեան: Առաջին եւ վերջին եզրերը կ'ըսուին երկու ծայր, եւ երկրորդ ու երրորդ եզրերը կ'ըսուին երկու միջին: Ինչպէս՝ Ա եւ Դ ծայրեր են, եւ Բ ու Գ միջինք:

143. Համեմատական չորս քանակութեանց առաջինը եւ երրորդը կը կոչուին նախադաս, եւ երկրորդն ու չորրորդը յետադաս. եւ վերջինը կ'ըսուի միւս երեքին, կարգաւ առնելով, չորրորդ համեմատականը: Ինչպէս վերջի համեմատութեան մէջ Ա եւ Դ նախադաս են, եւ Բ ու Գ յետադաս:

144. Երեք քանակութիւնք անատեն իրարու համեմատական են, երբ առաջնոյն առ երկրորդն

143. Համեմատական չորս քանակութեանց մէջ առաջինն ու երրորդն ի՞նչ կ'ըսուին: Ի՞նչ՝ երկրորդն ու չորրորդը:

144. Ե՞րբ երեք քանակութիւնք համեմատական են: Ի՞նչ կը կոչուի միջին քանակութիւնը:

ունեցած ընդհանուր համեմատականը նոյն է երկրորդին առ երրորդն ունեցած ընդհանուր համեմատականին հետ. եւ անատեն միջին եզրը կ'ըսուի միւս երկուքին մէջտեղի միջին համեմատականը :

Չորօրինակ՝ $3 : 6 :: 6 : 12$.

եւ 6՝ 3 ի եւ 12 ի մէջտեղի միջին համեմատականն է :

145. Քանակութիւնները խորօրնակ համեմատութիւն ունին կ'ըսուի, երբ յետադասները նախադաս, եւ նախադասները յետադաս կ'ըլլան :

Ինչպէս՝ եթէ ունինք յետադայ համեմատութիւնը

$3 : 6 :: 8 : 16$,

խոտորնակ համեմատութիւնը պիտի ըլլայ

$6 : 3 :: 16 : 8$:

146. Քանակութիւնները փոփոխական համեմատութիւն ունին կ'ըսուի, երբ նախադասը նախադասին հետ, եւ յետադասը յետադասին հետ կը բաղդատուի :

Ինչպէս՝ եթէ ունինք յետադայ համեմատութիւնը

$3 : 6 :: 8 : 16$,

փոփոխական համեմատութիւնը պիտի ըլլայ

$3 : 8 :: 6 : 16$:

147. Քանակութիւնները բաղճիւսական համեմատութիւն ունին կ'ըսուի, երբ նախադասին ու յետադասին դումարը կը բաղդատուի կամ նախադասին կամ յետադասին հետ :

145. Ե՞րբ քանակութիւնները խոտորնակ համեմատութիւն ունին կ'ըսուի :

146. Ե՞րբ քանակութիւնները փոփոխական համեմատութիւն ունին :

147. Ե՞րբ քանակութիւնները բաղճիւսական համեմատութիւն ունին :

Ինչպէս՝ եթէ ունինք յետագայ համեմատութիւնը

$$2 : 4 :: 8 : 16,$$

բաղնիւսական համեմատութիւնը կ'ըլլայ

$$2 + 4 : 4 :: 8 + 16 : 16.$$

այսինքն՝

$$6 : 4 :: 24 : 16:$$

148. Քանակութիւնները բաժանական համեմատութիւն ունին կ'ըսուի, երբ նախադասին եւ յետադասին տարբերութիւնը կը բաղդատուի կամ նախադասին կամ յետադասին հետ:

Ինչպէս՝ եթէ ունինք հետեւեալ համեմատութիւնը

$$3 : 9 :: 12 : 36,$$

բաժանական համեմատութիւնը պիտի ըլլայ

$$9 - 3 : 9 :: 36 - 12 : 36.$$

այսինքն՝

$$6 : 9 :: 24 : 36:$$

149. Երկու կամ աւելի քանակութեանց համաբաղմադարկիչները այն արտադրեալներն են՝ որ քանակութիւնները միեւնոյն թուով բաղմապատկելէ կ'ելլեն:

Չորօրինակ՝ եթէ ունինք որեւէ երկու թիւեր՝ ինչպէս 6 եւ 5, եւ բաղմապատկենք երկուքն ալ թուով մը, ինչպէս 9 ուլ, անատեն համաբաղմապատկիչները կ'ըլլան 54 եւ 45. քանզի

$$6 \times 9 = 54, \text{ եւ } 5 \times 9 = 45:$$

Նաեւ 5×6 եւ 5×6 թի ու թի համաբաղմապատկիչներն են, 5 ընդհանուր բաղմապատկիչ ըլլալով:

148. Ե՞րբ քանակութիւնները բաժանական համեմատութիւն ունին:

149. Երկու կամ աւելի քանակութեանց համաբաղմապատկիչներն ի՞նչ են:

150. Եթէ ունինք հետեւեալ համեմատութիւնը

$$Ա : Բ :: Գ : Դ,$$

կ'ուեննանք $\frac{Բ}{Ա} = \frac{Դ}{Գ},$ (Յօդ. 142).

եւ կոտորակաց հաւասարութիւնը պարզելով՝ կ'ուեննանք $ԲԳ = ԱԴ :$

Այսինքն՝ Հասեմարական շրջ տանահոսիւեանց երկու ծայրերուն արտադրեալը հասասար է երկու թղիններուն արտադրելոյն :

Այս ընդհանուր սկզբունքը յայտնի է հետեւեալ թուոց մէջտեղի համեմատութենէն

$$2 : 10 :: 12 : 60,$$

քանզի $2 \times 60 = 10 \times 12 = 120 :$

151. Եթէ չորս քանակութիւնք Ա, Բ, Գ, Դ, իրարու հետ այնպիսի յարաբերութիւն ունին որ

$$Ա \times Դ = Բ \times Գ$$

կ'ուեննանք նաեւ $\frac{Բ}{Ա} = \frac{Դ}{Գ} .$

եւ ուստի՝ $Ա : Բ :: Գ : Դ :$

Այսինքն՝ Եթէ երկու տանահոսիւեանց արտադրեալը հասասար է իսկ երկու տանահոսիւեանց արտադրելոյն, կրնանք անոնցօք երկուտը հասեմարական ծայրերը, և իսկ երկուտը թղիններն ընել :

Ինչպէս՝ եթէ ունինք

$$2 \times 8 = 4 \times 4,$$

նաեւ կ'ուեննանք $2 : 4 :: 4 : 8 :$

150. Եթէ չորս քանակութիւնք համեմատական են, երկու միջիններուն արտադրեալն ինչի՞ հաւասար է :

151. Եթէ երկու քանակութեանց արտադրեալը հաւասար է միւս երկու քանակութեանց արտադրելոյն, չորսը համեմատութեան մէջ կրնոյց դրուիլ : Ի՞նչպէս :

152. Եթէ ունինք հետեւեալ երեք համեմատա-
կան քանակութիւնները

$$Ա : Բ :: Բ : Գ,$$

կ' ունենանք , $\frac{Բ}{Ա} = \frac{Գ}{Բ}$

ուստի՝ $Բ^2 = Ա.Գ,$

Այսինքն . Եթէ երեք +անասիւնքնէն+ հասեմասրահան-
էն , թշին եղբին +առասիւնքնէն+ հասաւար է երկու ծայրե-
րան արտադրելոյն :

Ինչպէս՝ եթէ ունինք հետեւեալ համեմատութիւնը

$$3 : 6 :: 6 : 12,$$

կ' ունենանք նաեւ $6 \times 6 = 6^2 = 3 \times 12 = 36 :$

153. Եթէ ունինք

Ա : Բ :: Գ : Դ , եւ հետեւապէս $\frac{Բ}{Ա} = \frac{Դ}{Գ}$,

քաղմապատկէ վերջին հաւասարութեան երկու ան-

դամներն ալ $\frac{Գ}{Բ}$ ով , եւ ապա կ' ունենանք ,

$$\frac{Գ}{Ա} = \frac{Դ}{Բ} ,$$

եւ ուստի՝ Ա : Դ :: Բ : Գ :

Այսինքն . Եթէ չորս +անասիւնքնէն+ հասեմասրահան-
էն , փոփոխակի առնուելով ալ հասեմասրահան էն :

Անենք օրինակի համար

$$10 : 15 :: 20 : 30 :$$

Եղբերը փոխանակելով՝ կ' ունենանք ,

$$10 : 20 :: 15 : 30 :$$

152. Եթէ երեք քանակութիւնք համեմատական են , ծայրե-
րուն արտադրեալն ինչի՞ հաւասար է :

153. Եթէ չորս քանակութիւններ համեմատական են , փոխա-
խակի առնուելով ալ համեմատակա՞ն են :

154. Եթէ ունինք

Ա : Բ :: Գ : Դ եւ Ա : Բ :: Ե : Զ :

հաւել կ'ունենանք

$\frac{Բ}{Ա} = \frac{Գ}{Դ}$, եւ $\frac{Բ}{Ա} = \frac{Զ}{Ե}$.

ուստի՝ $\frac{Գ}{Դ} = \frac{Զ}{Ե}$ եւ Գ : Դ :: Ե : Զ :

Այսինքն . Եթէ երկու կարգ հասե՛մարուելանց զհինան նախարասը եւ յերարասը հասասար է զասին նախարասին աւ յերարասին , ճնացած էզբերը հասե՛մարական էն :

Եթէ ունինք հետեւեալ երկու համեմատութիւնները

2 : 6 :: 8 : 24 եւ 2 : 6 :: 10 : 30 ,

հաւել կ'ունենանք 8 : 24 :: 10 : 30 :

155. Եթէ ունինք

Ա : Բ :: Գ : Դ , եւ հետեւապէս $\frac{Բ}{Ա} = \frac{Գ}{Դ}$,

հաւասարութեան իւրաքանչիւր անդամով 1ը բաժնելով՝ կ'ունենանք

$\frac{Ա}{Բ} = \frac{Գ}{Դ}$, եւ հետեւապէս Բ : Ա :: Դ : Գ :

Այսինքն . Չորս հասե՛մարական քանակութիւնէ՛ խորարնակի աւնուելով ալ հասե՛մարական էն :

Թուական օրինակ մը տալու համար՝ առ հետեւեալ համեմատութիւնը

7 : 14 :: 8 : 16 .

անատեն խտորնակ համեմատութիւնն է

14 : 7 :: 16 : 8

որուն մէջ ընդհանուր համեմատականն է մէկ երկրորդ :

154. Եթէ երկու կարգ համեմատութեանց իւրաքանչիւրին նախադամն ու յետադար հաւասար են , ի՞նչ կը հետեւի :

155. Եթէ չորս քանակութիւններ համեմատական են , խտորնակի աւնուելով ալ համեմատականն են :

156. Հետեւեալ համեմատութենէն

$$Ա : Բ :: Գ : Դ \text{ կ'ուենենանք } Ա \times Դ = Բ \times Գ :$$

Վերջին հաւասարութեան իւրաքանչիւր անդամին վրայ աւելցուր Բ \times Դ :

Անատեն կ'ուենենանք

$$(Ա + Բ) \times Դ = (Գ + Դ) \times Բ .$$

Եւ զատելով քանորդականները՝ կ'ուենենանք

$$Ա + Բ : Բ :: Գ + Դ : Դ :$$

Եթէ փոխանակ աւելցրնելու հանենք Բ \times Դ երկու անդամներէն ալ, կ'ուենենանք

$$(Ա - Բ) \times Դ = (Գ - Դ) \times Բ .$$

Եւ $Ա - Բ : Բ :: Գ - Դ : Դ :$

Այսինքն. Եթէ չորս +անակոտեմեք հասեմարական էն, հասեմարական էն նաև բաղնիստեմեք և բաժանեմեք :

Ինչպէս՝ եթէ ունինք հետեւեալ համեմատութիւնը

$$9 : 27 :: 16 : 48 ,$$

կ'ուենենանք՝ բաղնիստութեամբ ,

$$9 + 27 : 27 :: 16 + 48 : 48 ,$$

այսինքն՝ $36 : 27 :: 64 : 48 ,$

որուն մէջ ընդհանուր համեմատականն է երեք չորրորդ :

Նոյն համեմատութիւնը բաժանեմամբ կու տայ

$$27 - 9 : 27 :: 48 - 16 : 48 .$$

այսինքն՝ $18 : 27 :: 32 : 48$

որուն մէջ ընդհանուր համեմատականն է մէկ ու կէս :

156. Եթէ չորս քանակութիւնք համեմատական են՝ բաղնիստութեամբ ալ համեմատական են : Բաժանեմամբ ալ համեմատական են : Ի՞նչ է բաղնիստութեան եւ բաժանման մէջ տեղի տարբերութիւնը :

157. Եթէ ունինք

$$\frac{\text{Բ}}{\text{Ա}} = \frac{\text{Գ}}{\text{Գ}}$$

եւ բազմապատկենք առաջին անդամին համարիչն ու յայտարարը ճ թուով մը, կ'ունենանք

$$\frac{\text{ՃԲ}}{\text{ՃԱ}} = \frac{\text{Գ}}{\text{Գ}} \text{ եւ } \text{ՃԱ} : \text{ՃԲ} :: \text{Գ} : \text{Գ} :$$

Այսինքն. Երկու քանակութեանց հաւասար բազմապատկիչները նոյն ընդհանուր հատկապատկանն ունին ինչպէս նոյն ինքն քանակութեանք :

Ջորձրինակ՝ եթէ ունինք յետագայ համեմատութիւնը

$$5 : 10 :: 12 : 24,$$

եւ բազմապատկենք առաջին նախագամն ու յետագասը 6 ու կ'ունենանք

$$30 : 60 :: 12 : 24$$

որուն մէջ ընդհանուր համեմատականը տակաւին 2 է :

158. Յետագայ համեմատութիւններէն

$$\text{Ա} : \text{Բ} :: \text{Գ} : \text{Գ} \text{ եւ } \text{Ա} : \text{Բ} :: \text{Ե} : \text{Զ},$$

կ'ունենանք

$$\text{Ա} \times \text{Գ} = \text{Բ} \times \text{Գ} \text{ եւ } \text{Ա} \times \text{Զ} = \text{Բ} \times \text{Ե} .$$

դումարելով եւ հանելով այս հաւասարութիւնները՝

$$\text{կ'ունենանք } \text{Ա} (\text{Գ} \pm \text{Զ}) = \text{Բ} (\text{Գ} \pm \text{Ե}),$$

կամ

$$\text{Ա} : \text{Բ} :: \text{Գ} \pm \text{Ե} : \text{Գ} \pm \text{Զ} :$$

Այսինքն՝ Եթէ Գ և Գ՝ նախադասանն ու յետագասարը,

157. Երկու քանակութեանց հաւասար բազմապատկիչները նոյն ընդհանուր համեմատականն ունին ինչպէս որ քանակութիւնները :

158. Գիցուք թէ նախագամն ու յետագասը աւելցուին կամ պակսուին միևնոյն ընդհանուր համեմատականն ունեցող քանակութիւններով, ելած քանակութիւններն ի՞նչ կ'ունենան :

աւելցուի՞ն կամ պակասուի՞ն Ե Լ Զ փանախոսի՞ննէրո՞վ՝ որոնք նոյն ընդհանուր հասե՛մարականն ունին ինչ որ Գ Դ ունին, Ելա՞ծ փանախոսի՞ննէրը նոյն ընդհանուր հասե՛մարականը կ'ունենան :

Օրինակի համար՝ առնենք հետեւեալ համեմատութիւնը

$$9 : 18 :: 20 : 40,$$

որուն մէջ ընդհանուր համեմատականը 2 է :

Եթէ նախադասն ու յետադասն աւելցրնենք 15 եւ 30 թիւերով՝ որոնք նոյն ընդհանուր համեմատականն ունին, կ'ունենանք

$$9 + 15 : 18 + 30 :: 20 : 40.$$

այսինքն՝

$$24 : 48 :: 20 : 40,$$

որուն մէջ ընդհանուր համեմատականը տակաւին 2 է :

Եթէ երկրորդ նախադասն ու յետադասն այն թիւերով զատ զատ պակսեցրնենք, կ'ունենանք

$$9 : 18 :: 20 - 15 : 40 - 30.$$

այսինքն՝

$$9 : 18 :: 5 : 10,$$

որուն մէջ ընդհանուր համեմատականը տակաւին 2 է :

159. Եթէ առնենք հետեւեալ այլեւայլ համեմատութիւնները

$$Ա : Բ :: Գ : Դ, \text{ որմէ կ'ունենանք } Ա \times Դ = Բ \times Գ,$$

$$Ա : Բ :: Ե : Զ, \quad \gg \quad \gg \quad Ա \times Զ = Բ \times Ե,$$

$$Ա : Բ :: Է : Ը, \quad \gg \quad \gg \quad Ա \times Ը = Բ \times Է,$$

եւ այլն, եւ այլն,

յաւելմամբ կ'ունենանք

$$Ա (Դ + Զ + Ը) = Բ (Գ + Ե + Է).$$

եւ զատելով քանորդականները

$$Ա : Բ :: Գ + Ե + Է : Դ + Զ + Ը,$$

159. Միևնոյն ընդհանուր համեմատականն ունեցող որևէ թիւ համեմատութեանց մէջ՝ որևէ նախադաս մը իր յետադասին հետ ի՞նչպէս կը համեմատի :

ԱԼՃԷՊՐԱ

Այսինքն . Միևնոյն ընդհանուր հասեմասքայանն որ
նէցող որևէ թիւ հասեմասքայանց մէջ՝ որևէ նախասքայան
այնպէս կը հասեմասի իր յետասքայանն ինչպէս նախասքայան
նէրոնն քաճարը յետասքայաննէրոնն քաճարին :

Չորօրինակ՝ առնենք ,

$$2 : 4 :: 6 : 12 \text{ եւ } 1 : 2 :: 3 : 6, \text{ եւ այլն :}$$

Անատեն $2 : 4 :: 6 + 3 : 12 + 6 .$

այսինքն՝ $2 : 4 :: 9 : 18,$

որուն մէջ ընդհանուր համեմատականը տակաւին 2 է :

160. Եթէ ունինք հետեւեալ չորս համեմատա-
կան քանակութիւնները $Ա : Բ :: Գ : Դ$, կ'ունե-

նանք $\frac{Բ}{Ա} = \frac{Դ}{Գ}$. եւ երկու անդամներն ալ ն կա-

րողութեան հանելով, կամ ն արմատը գտնելով՝

կ'ունենանք $\frac{Բ^2}{Ա^2} = \frac{Դ^2}{Գ^2}$, եւ հետեւապէս

$$Ա^2 : Բ^2 :: Գ^2 : Դ^2 :$$

Այսինքն . Եթէ չորս քանակութիւնն հասեմասքայանն
են, իրենց նման կարողութիւնները կամ արմատներն ալ
հասեմասքայանն են :

Չորօրինակ՝ եթէ ունինք

$$2 : 4 :: 3 : 6,$$

կ'ունենանք $2^2 : 4^2 :: 3^2 : 6^2 .$

այսինքն՝ $4 : 16 :: 9 : 36,$

որուն մէջ եզրերը համեմատական են, ընդհանուր
համեմատականը 4 ըլլալով :

160. Չորս համեմատական քանակութեանց մէջ նման կարողու-
թիւնները կամ արմատներն ի՞նչպէս են :

161. Թող երկու կարգ համեմատութիւններ ըլլան,

$$Ա : Բ :: Գ : Դ \text{ որմէ կ'ուենենանք } \frac{Բ}{Ա} = \frac{Դ}{Գ}$$

$$Ե : Զ :: Է : Ը, \text{ » } \text{ » } \frac{Զ}{Ե} = \frac{Ը}{Է}$$

Բազմապատկէ զանոնք իրարու հետ՝ անդամ անդամով եւ կ'ուենենանք

$$\frac{ԲԶ}{ԱԵ} = \frac{ԴԸ}{ԳԷ} : \text{ Ասկէ կ'ուենենանք } ԱԵ : ԲԶ :: ԳԷ : ԴԸ :$$

Այսինքն . Երկու կարգ համեմատական քանակներու մէջ մէջ՝ համեմատական եղբերուն արտադրեալները համեմատական են :

Ինչպէս՝ եթէ ունինք հետեւեալ երկու համեմատութիւնները

$$8 : 16 :: 10 : 20$$

եւ $3 : 4 :: 6 : 8,$

կ'ուենենանք $24 : 64 :: 60 : 160 :$

Երկրաչափական Յոսպատեմներ :

162. Մինչեւ ցարդ խօսեցանք միայն այն դէպքին վրայ որուն մէջ առաջին եղբին առ երկրորդն ընդհանուր համեմատականը նոյն է երրորդին առ չորրորդն ընդհանուր համեմատականին հետ :

161. Երկու կարգ համեմատութեանց մէջ ի՞նչպէս են համեմատական եղերաց արտադրեալները :

162. Ի՞նչ է երկրաչափական յոսպատեմութիւնը : Ի՞նչ է յոսպատեմութեան ընդհանուր համեմատականը : Եթէ յոսպատեմութեան որեւէ եզր մը ընդհանուր համեմատականով բազմապատկուի՝ ի՞նչ կ'ըլլայ արտադրեալը : Եթէ եզր մը ընդհանուր համեմատականով բաժնուի, ի՞նչ կ'ըլլայ քանորդը : Քանորդական յոսպատեմութիւն մը ի՞նչպէս կը դրուի : Եզրերէն որը միայն նախադաս է : Ո՞րը միայն յետադաս :

Եթէ հետեւեալ պայմանն ունինք, թէ երկրորդ եզրին առ երրորդ եզր ընդհանուր համեմատականը նոյն է նաեւ առաջինն առ երկրորդն, կամ երկրորդին առ չորրորդն ունեցած ընդհանուր համեմատականին հետ, կ'ունենանք կարգ մը թիւ՝ որոց իւրաքանչիւրն իր նախընթաց եզրովը բաժանեալ, պիտի տայ նոյն ընդհանուր համեմատականը: Ուստի՝ եթէ որեւէ թիւ այս քանորդով բազմապատկուի, արտադրեալը կ'ըլլայ յաջորդ եզրը: Այսպէս կազմուած կարգ մը թուոց կ'ըսուի Երկրաչափական Յարաբարութիւն: Ուստի՝

Երկրաչափական կամ Քանորդական Յարաբարութիւնը՝ եզերաց կարգ մ'է, որուն իւրաքանչիւրը հաւասար է միեւնոյն թուով բազմապատկեալ նախընթաց եզրին, եւ ան թուոյն կ'ըսուի ընդհանուր համեմատական յառաջատու թեան: Ինչպէս՝

$$1 : 3 : 9 : 27 : 81 : 243, \text{ եւ այլն,}$$

երկրաչափական յառաջատու թիւն մ'է, որուն ընդհանուր համեմատականն է 3: Եւ կը գրուի եզրերուն մէջտեղը միայն երկու կէտ դնելով:

Նաեւ $64 : 32 : 16 : 8 : 4 : 2 : 1$

երկրաչափական յառաջատու թիւն մ'է, որուն ընդհանուր համեմատականն է 2: Եւ կ'ըսուի:

Առաջին յառաջատու թեան մէջ իւրաքանչիւր եզր երեք անգամ կը պարունակի իր յաջորդ եզրին մէջ, ուստի եւ ընդհանուր համեմատականն է 3: Երկրորդին մէջ՝ իւրաքանչիւր եզր մէկ երկրորդ անգամ կը պարունակի իր յաջորդ եզրին մէջ, ուստի եւ ընդհանուր համեմատականն է մէկ երկրորդ:

Առաջինը կ'ըսուի «ճեղճ» յառաջատու թիւն, եւ երկրորդը՝ «նոսր» յառաջատու թիւն:

Դիցուք թէ a, b, c, d, e, f, \dots քանոր-

դասկան յառաջատու թեան մը քանակութիւններն են . որոնք կը գրուին այսպէս .

$$m : p : q : r : t : u : \dots$$

Եւ ասիկայ ճիշտ տարբերական յառաջատու թեան կերպով կը կարդացուի : Սակայն եւ այնպէս՝ հարկ է սա դանազութիւնն ընել՝ թէ մէկը հաւասար քառ-թերո-թեմ՝ կազմուած կարգ մ'է, եւ միւսը հաւասար քանորոշով կամ ընդհանուր համեմատականով կազմուած կարգ մ'է : Նշանակելու ենք թէ իւրաքանչիւր եզր միեւնոյն ատեն նախադաս մը եւ յետադաս մ'է բաց առաջինէն՝ որ միայն նախադաս մ'է, եւ վերջինէն՝ որ միայն յետադաս մ'է :

163. Թող n ցուցրնէ յետադայ յառաջատու թեան ընդհանուր համեմատականը

$$m : p : q : r : \dots$$

$n > 1$ ըլլալով՝ երբ յառաջատու թիւնն m ճեշտ է, եւ $n < 1$ երբ յառաջատու թիւնը նոսազտ է : Անտա-տեն որովհետեւ

$$\frac{p}{m} = n, \quad \frac{q}{p} = n, \quad \frac{r}{q} = n, \quad \frac{t}{r} = n, \quad \text{եւ այլն,}$$

կ'ուենանք

$$p = mn, \quad q = pn = m^2 n^2, \quad r = qr = m^3 n^3, \\ t = nr = m^4 n^4, \quad u = tr = m^5 n^5 \dots$$

այսինքն՝ երկրորդ եզրը հաւասար է $m^2 n^2$ ի, երրորդը՝ $m^3 n^3$ ի, չորրորդը՝ $m^4 n^4$ ի, հինգերորդը՝ $m^5 n^5$ ի, եւ այլն . եւ առ հասարակ ըստ եզրը, այսինքն՝ այն եզրը որուն առջեւը ը — 1 եզրերը կան, կը ցուցուի $m^n n^n - 1$ ով :

165. Ի՞նչ գրով կը ցուցուի յառաջատու թեան մը ընդհա-նուր համեմատականը : Աճեցող յառաջատու թեան մը $n > 1$ է մեծագոյն է թէ փոքրագոյն : Նուազող յառաջատու թեան մը մէջ $n < 1$ է մեծագոյն է թէ փոքրագոյն : Եթէ m է առաջին եզրը և n ընդհանուր համեմատականը, երկրորդ եզրը ինչի՞ հաւասար է : Երրորդը՝ ինչի՞ : Չորրորդը՝ ինչի՞ : Վերջին եզրը՝ ինչի՞ : Ըսէ վերջին եզրը դանելու կանոնը :

Թող չ ըլլայ այս եզրը • անատեն կ'ունենանք
 $\chi = \text{ահ} - 1$ տարազը ,

որով կրնանք գտնել որեւէ եզր՝ առանց գտնել պարտաւորուելու իրմէ առաջ եղող բոլոր եզրերը :
 Ուստի՝ յառաջատու թեան մը վերջին եզրը գտնելու համար՝ հետեւեալ կանոնն ունինք :

ԿՍՆՈՆ

Ա. Հանէ ընդհանուր հասեմագրահանը եղբայ թիւն
 հի պահաս կարողութեան :

Բ. Բազմապարհէ Գրնուած կարողութեան առաջին
 եզրով • արտադրեալն է պահանջեալ եզրը :

ՕՐԻՆԱԿԻ

1. Քաիր 5^{րդ} եզրը հետեւեալ յառաջատու թեան
 $2 : 4 : 8 : 16 \dots$

որուն մէջ առաջին եզրն է 2 եւ ընդհանուր համեմատականն է 2 :

$$5^{\text{րդ}} \text{ եզր} = 2 \times 2^4 = 2 \times 16 = \text{Պ} \cdot 32 \cdot$$

2. Քաիր 8^{րդ} եզրը հետեւեալ յառաջատու թեան
 $2 : 6 : 18 : 54 \dots$

$$8^{\text{րդ}} \text{ եզր} = 2 \times 3^7 = 2 \times 2187 = \text{Պ} \cdot 4374 \cdot$$

3. Քաիր 6^{րդ} եզրը սա յառաջատու թեան

$$2 : 8 : 32 : 128 \dots$$

$$6^{\text{րդ}} \text{ եզր} = 2 \times 4^5 = 2 \times 1024 = \text{Պ} \cdot 2048 \cdot$$

4. Քաիր 12^{րդ} եզրը հետեւեալ յառաջատու թեան

$$64 : 16 : 4 : 1 : \frac{1}{4} \dots$$

$$12^{\text{րդ}} \text{ եզր} = 64 \left(\frac{1}{4} \right)^{11} = \frac{4^3}{4^{11}} = \frac{1}{4^8} =$$

$$\text{Պ} \cdot \frac{1}{65536} \cdot$$

5. Մարդ մը խոստացաւ իր ծառային վճարել առաջին օրը 1 դահեկան, երկրորդ օրը 2, երրորդ օրը 4, այսպէս տասը օր՝ ամէն օր կրկնապատկելով տասներորդ օրը սրիչափ ընդունելոյ:

Պ. 512 դահեկան:

164. Հիմա յառաջ պիտի երթանք գտնելու յառաջատու թեան մը Φ եղբերուն գումարը: Ինչպէս՝

$$\infty : \Phi : \Phi : \Psi : \epsilon : \dots : \infty : \infty : \Phi$$

Φ ցուցընելով Φ^x եզրը:

Կ'ունենանք հետեւեալ հաւասարութիւնները (307. 163), $\Phi = \infty$, $\Phi = \Phi$, $\Psi = \Phi$, $\epsilon = \Psi$, \dots
 $\infty = \infty$, $\Phi = \infty$, եւ ամէնը մէկտեղ գումարելով՝ անդամ անդամի հետ, կը մակարեւնք

Գումար ∞ անդամոց:

Գումար Φ անդամոց:

$$\Phi + \Phi + \Psi + \epsilon + \dots + \infty + \Phi = (\infty + \Phi + \Phi + \Psi + \dots + \infty + \infty) \Phi$$

որուն մէջ կը տեսնենք որ առաջին անդամը կը պարունակէ բոլոր եզրերը բաց ∞ , եւ փակագծի մէջ եզող երկրորդ անդամին մէջի բազմեզրը կը պարունակէ բոլոր եզրերը բաց 'ի Φ է: Ուստի՝ եթէ եզերաց գումարը Φ կոչենք, կ'ունենանք

$$\Phi - \infty = (\Phi - \Phi) \Phi = \Phi - \Phi, \Phi - \Phi = \Phi - \infty$$

ուստի
$$\Phi = \frac{\Phi - \infty}{\Phi - 1}$$

Վասնորոյ՝ բոլոր եզերաց գումարը կամ երկրաչափական յառաջատու թեան մը կարգին գումարը գրտնելու համար՝ հետեւեալ կանոնն ունինք:

164. Ըսէ կարգին գումարը գտնելու կանոնը: Ի՞նչ է առաջին բայը: Ի՞նչ է երկրորդը: Ի՞նչ է երրորդը:

ԿԱՆՈՆ

Ա. Բազմապատկի վերջին եզրը ընդհանուր հասկացա-
ստեղծանով :

Բ. Հանել այդպիսի առաջին եզրը :

Գ. Բաժնի մասշտաբ ընդհանուր հասկացա-
ստեղծանով և փանորդել է հարգելն հոստայրը :

ՕՐԻՆԱԿՔ

1. Քաղիք հետեւեալ յառաջատու թեան ութը եղ-
րերուն գումարը :

2 : 6 : 18 : 54 : 162 . . . 2 × 3⁷ = 4374 :

$$q = \frac{2^n - 1}{2 - 1} = \frac{13122 - 2}{2} = 6560 :$$

2. Քաղիք հետեւեալ յառաջատու թեան գումարը

2 : 4 : 8 : 16 : 32 .

$$q = \frac{2^n - 1}{2 - 1} = \frac{64 - 2}{1} = 62 :$$

195 3. Քաղիք հետեւեալ յառաջատու թեան տասը եղ-
րերուն գումարը . 2 : 6 : 18 : 54 : 162 . . . 2 ×
3⁹ = 39366 : Պ . 59048 :

196 4. Տարին կամ տասուերկու ամիսը սրչափ պարտք
կրնաս վճարել , եթէ առաջին ամիսը վճարես 1 թա-
լէր . երկրորդ ամիսը՝ 2 թալէր . երրորդը՝ 4 թալէր .
և այսպէս ամէն յաջորդ վճարում նախորդին կրկինն
ըլլալով . վերջին վճարումն ինչ պիտի ըլլայ :

Պ . { Պարտք , . . . 4095 թւր . :
 { վերջին վճարում , 2048 թւր . :

197 5. Աղնուական մը իր աղջիկը կարդելով նոր
տարւոյն առաջին օրը՝ աղջկանը բաժինէն 1 լիւրս

տուաւ փեսային, եւ տարւոյն իւրաքանչիւր ամսոց
առաջին օրը պիտի կրկնապատկէր. աղջկան բաժինն
ի՞նչ էր:

Պ. 4095 լերտ:

148 6. Մարդ մը 10 գրիւ ցորեն գնեց այս պայմանաւ
որ առաջին գրիւին 1 դահեկան վճարէ, երկրորդին՝
3, երրորդին՝ 9, եւ այսպէս մինչեւ վերջը. ի՞նչ վճա-
րեց վերջին գրիւին եւ տասը գրիւին համար:

Պ. $\left\{ \begin{array}{l} \text{Վերջին գրիւ,} \quad 19683 \text{ Դահ. :} \\ \text{Սմբողջ արժէք,} \quad 29524 \text{ Դահ. :} \end{array} \right.$

149 7. Մարդ մը 4 գրիւ դարի ցանեց, որ առաջին
հունձքին 32 գրիւ արտադրեց. անոնք ալ ցանեց,
եւ նմանապէս 8 անգամը արտադրեցին. եւ դարձեալ
իր բոլոր հունձքը ցանեց, եւ դարձեալ 8 անգամը
ընդունեց, եւ այսպէս մինչեւ 16 տարի: Ի՞նչ էր
վերջին հունձքը, եւ ի՞նչ էր կարգին գումարը:

Պ. $\left\{ \begin{array}{l} \text{Վերջին,} \quad 140737488355328 \text{ ֆրէ- :} \\ \text{Գումար,} \quad 160842843834660 \text{ ֆրէ- :} \end{array} \right.$

165. Երբ յառաջատու թիւը նուազող է, կ'ու-
նենանք $\zeta < 1$ եւ $\zeta < \infty$. վերոյեզեալ տարազը

$$\varphi = \frac{\zeta - \infty}{\zeta - 1},$$

գումարին համար կը դրուի յետագայ ձեւով՝

$$\varphi = \frac{\infty - \zeta}{1 - \zeta},$$

որպէս զի կոտորակին երկու եզրերն ալ դրական
ըլլան:

1. Քաթիր հետեւեալ յառաջատու թեան եզրերուն
գումարը $32 : 16 : 8 : 4 : 2$

$$\varphi = \frac{\infty - \zeta}{1 - \zeta} = \frac{32 - 2 \times \frac{1}{2}}{\frac{1}{2}} = \frac{31}{\frac{1}{2}} = 62:$$

165. Ի՞նչ է նուազող յառաջատու թեան մը կարգին գումար-
ին տարազը:

2. Չափը յետագայ յառաջատուլթեան առաջին տասուերկու եզրերուն գումարը

$$64 : 16 : 4 \cdot 1 : \frac{1}{4} : \dots : 64 \left(\frac{1}{4}\right)^{11}, \text{ կամ } \frac{1}{65536} :$$

$$q = \frac{\infty - 4}{1 - 4} = \frac{64 - \frac{1}{65536} \times \frac{1}{4}}{\frac{3}{4}} =$$

$$\frac{256 - \frac{1}{65536}}{3} = 85 + \frac{65535}{196608} :$$

198 3. Չափը հետեւեալ յառաջատուլթեան 6 եզրերուն գումարը, 512 : 128 : 32 . . .

$$q = 682\frac{1}{2} :$$

199 4. Չափը հետեւեալ յառաջատուլթեան 7 եզրերուն գումարը 2187 : 729 : 243 . . .

$$q = 3279 :$$

200 5. Չափը յետագայ յառաջատուլթեան 6 եզրերուն գումարը 972 : 324 : 108 . . .

$$q = 1456 :$$

201 6. Չափը յետագայ յառաջատուլթեան 8 եզրերուն գումարը 147456 : 36864 : 9216 . . .

$$q = 196605 :$$

166. Երկրաչափական յառաջատուլթեան այլեւայլ թուոց մէջ նկատելի հինգ թիւեր կան :

- 1. Առաջին եզր = ∞
- 2. Ընդհանուր համեմատական = 4
- 3. Թիւ եզերաց = 7
- 4. Վերջին եզր = 1
- 5. Գումար եզերաց = 9

167. Այս նիւթը պիտի վերջացընենք յետագայ առաջարկութիւնը լուծելով :

Երկու թուոց՝ ինչպէս Տ ի եւ Ն ի մէջտեղի միջին համեմատական մը գտնել :

Յուշուր պահանջեալ միջինը + ուլ : Անատեն կ'ուսնենանք (307 . 152) ,

եւ ուստի՝
$$\begin{aligned} +^2 &= \frac{\text{Տ} \times \text{Ն}}{+} \\ + &= \sqrt{\text{Տ} \times \text{Ն}} \end{aligned}$$

Այսինքն՝ Բազմապատիէ երկու թիւերը իրարու հետ , և հանէ արտադրեալին + առահոսսի արժապը :

1. Ի՞նչ է 2 եւ 8 թուոց մէջտեղի երկրաչափական միջինը :

$$\text{Միջին} = \sqrt{8 \times 2} = \sqrt{16} = 4 :$$

202. Ի՞նչ է 4 ի եւ 16 ի միջին համեմատականը :
Պ . 8 :

203. Ի՞նչ է 3 ի եւ 27 ի միջին համեմատականը :
Պ . 9 :

204. Ի՞նչ է 2 ի եւ 72 ի միջին համեմատականը :
Պ . 12 :

205. Ի՞նչ է 4 ի եւ 64 ի միջին համեմատականը :
Պ . 16 :

167. Երկու թուոց մէջտեղի միջին համեմատականը ի՞նչպէս կը գտնուի :

ԳԼՈՒԽ Ը.



ԼՈԿԱՐԻԹՄԱ ԿՄԻ ԴԻՊԱՀԱՄԱՐ

168. Առհասարակ գործածուած լոկարիթմայից բնութիւնն ու յատկութիւնները դիւրաւ կը հասկըցուին՝ ուչադրութեամբ դիտելով 10 թուոյն տարրեր կարողութիւնները : Ատնք են՝

$$10^0 = 1$$

$$10^1 = 10$$

$$10^2 = 100$$

$$10^3 = 1000$$

$$10^4 = 10000$$

$$10^5 = 100000$$

ևւ այլն . ևւ այլն :

Յայտնի է թէ 0, 1, 2, 3, 4, 5, ևւ այլն ցուցիչները թուարանական կարգ մը կը կազմեն, որուն ընդհանուր տարրերութիւնն է 1. ևւ թէ 1, 10, 100, 1000, 10000, 100000, ևւ այլն թիւերը երկրաչափական յառաջատուութիւն մը կը կազմեն, որուն ընդհանուր համեմատականն է 10: 10 թիւը կ'ըսուի խաբէօ լոկարիթմայից գրութեան .

168. 1, 2, 5, ևւ այլն ցուցիչներուն մշտեղ ի՞նչ յարաբերութիւն կայ : Ի՞նչպէս են 10, 100, 1000 համեմատական թիւերը : Յուցիչներուն ընդհանուր տարրերութիւնն ի՞նչ է : Համեմատական թուոց ընդհանուր համեմատականն ի՞նչ է : Լոկարիթմայից ընդհանուր գրութեան խարխիսն ի՞նչ է : Ի՞նչ են ցուցիչները :

եւ 0 , 1 , 2 , 3 , 4 , 5 , եւ այլն ցուցիչներն այն թուոց լոկարիթմաներն են՝ որոնք կ'արտադրուին՝ 10 այն ցուցիչներով նշանակեալ կարողութեանց հանելով :

169. Եթէ թուոց մը լոկարիթման նշանակենք s ուլ , անատեն նոյն ինքն թիւը 10 ին s տ կարողութիւնը կ'ըլլայ . այսինքն՝ եթէ համեմատական թիւը ներկայացընենք U ուլ

$$10^s = U$$

ինչպէս՝ եթէ $s = 0$ ընենք՝ U հաւասար պիտի ըլլայ 1 ի . եթէ $s = 1$, U հաւասար պիտի ըլլայ 10 ի . եւ այլն : Ուստի՝

Թուոց s ը լոկարիթման այն կարողութեան ցուցիչն է որոնք հարկ է հանել զբութեան խարիսիւր՝ այն թիւը որ որոշուի ըստ համար :

170. Թող 10 ը ցուցնէ լոկարիթմայից դրութեան խարիսիւր , s ՝ որեւէ ցուցիչ մը , եւ U ՝ համեմատական թիւը . անատեն կ'ուենանք ,

$$10^s = U$$

որուն մէջ s U ի լոկարիթման է :
Եթէ երկրորդ ն ցուցիչ մը առնենք , եւ եթէ v ցուցընէ համեմատական թիւը՝ կ'ուենանք

$$10^v = v$$

որուն մէջ v v ի լոկարիթման է :
Արդ՝ եթէ բազմապատկենք այս հաւասարութեանց առաջինը երկրորդով , անդամ անդամով՝ կ'ուենանք

$$10^s \times 10^v = 10^{s+v} = U \times v .$$

169. Եթէ դրութեան մը խարիսիւր 10 ուլ ցուցընենք , և ցուցիչը s ուլ՝ համեմատական թիւն ի՞նչով պիտի ներկայացընենք :
Ի՞նչ է թուոց մը լոկարիթման :
170. Տրեւէ երկու թուոց լոկարիթմայից դրմարն ինչի՞ հաւասար է : Ուրեմն լոկարիթմայից դրմարն ինչի՞ կը համեմատի :

բայց որովհետև 10ը դրութեան խարխախն է, ուրեմն 5-ն լոկարիթման է $U \times 5$ ի . ուստի՝

Որևէ երկու խոսք լոկարիթմայից գումարը հաստատար է անոնց արտադրելոյն լոկարիթմային :

Վասնորոյ՝ լոկարիթմայից յատելոյն հը հաստատարի անոնց թիւերուն բազմապատկումն :

171. Եթէ հաւասարութիւնները բաժնենք իրարմով, անդամ անդամով՝ կ'ուենանք,

$$\frac{10^5}{10^2} = 10^{5-2} = \frac{U}{5}$$

բայց որովհետև 10ը դրութեան խարխախն է, ուրեմն 5 — ն լոկարիթման է $\frac{U}{5}$ ի . ուստի՝

Եթէ թիւը ուրիշ խոսքով բաժնուի, ասնորոյն լոկարիթման հաստատար է բաժանելոյն լոկարիթմային՝ նուազ բաժանարարին լոկարիթման :

Վասնորոյ՝ լոկարիթմայից հանումը հը հաստատարի անոնց թիւերուն բաժանմանը :

172. Գարձեալ քննենք հետեւեալ հաւասարութիւնները

- $10^0 = 1$
- $10^1 = 10$
- $10^2 = 100$
- $10^3 = 1000$

եւ այլն . եւ այլն :

171. Եթէ թիւ մը ուրիշ թուով բաժնուի, քանորդին լոկարիթման ինչի՞ հաւասար է : Արեմն լոկարիթմայից հանումն ինչի՞ հը համեմատի :

172. Ի՞նչ է Վի լոկարիթման : Վի և 10ի մեջտեղի բոլոր թուոց լոկարիթմաներն ի՞նչ սահմաններու մեջտեղ են : Ի՞նչպէս հը ցուցուին ընդհանրապէս :

10ին ու 100ի մեջտեղի թուոց լոկարիթմաներն ի՞նչպէս են : Ղոկարիթմային տասնորդական կէտին ձախ կողմի մասն ի՞նչ կ'ըսուի : Ի՞նչ է նշանակչին արժէքը :

Յայտնի է թէ 1 ի լոկարիթման է 0 , եւ թէ 1 ի ու 10 ի մէջտեղի բոլոր թուոց լոկարիթմաները 0 էն մեծագոյն , եւ 1 էն փոքրագոյն են : Եւ ընդհանրապէս կը ցուցուին տասնորդական կոտորակներով .

ինչպէս՝ $\text{Լոկ. } 2 = 0 \cdot 301030 :$

10 է մեծագոյն եւ 100 է փոքրագոյն բոլոր թուոց լոկարիթմաներն 1 է մեծագոյն եւ 2 է փոքրագոյն են , եւ ընդհանրապէս կը ցուցուին 1 ով եւ տասնորդական կոտորակով մը . ինչպէս՝

$\text{Լոկ. } 50 = 1 \cdot 698970 :$

Լոկարիթմային այն մասը որ տասնորդական կէտին ձախ կողմն է՝ կ'ըսուի նշանակիչ լոկարիթմային : Որեւիցէ թուոց լոկարիթմային նշանակիչը այն խոսոյն խոսանշաններուն թիւնն ըլլա մէջ պահաս է :

Ինչպէս՝ 1 ի եւ 10 ի մէջտեղի թուոց համար միայն մէկ կարգ թուանշան կայ , եւ նշանակիչն է 0 : Եւ 10 ի ու 100 ի մէջտեղի թուոց համար երկու կարգ թուանշան կայ , եւ նշանակիչն է 1 . եւ այսպէս է ուրիշ թուոց համար :

ԱՂԻԹԱԿ ՀՈԿԱՐԻԹՄԱՅԻՅ

173. Լոկարիթմայից աղիւսակն այն ցուցակն է որուն մէջ գրուած են 1 ի եւ ուրիշ թուոց մը մէջտեղի բոլոր թուոց լոկարիթմաները : Հետեւեալ աղիւսակը կը ցուցընէ 1 ի եւ 100 ի մէջտեղի թուոց լոկարիթմաները : Թիւերը գրուած են թ ով նշանակեալ սեան մէջ , եւ լոկարիթմաները Լոկ . ով նշանակեալ սեան մէջ :

175. Ի՞նչ է լոկարիթմայից աղիւսակը : Բացատրէ 1 ի եւ 100 ի մէջտեղի թուոց լոկարիթմաները գտնելու կերպը :

ԱՂԻԻՍԱԿ

Թ.	Լ.ՊԿ.	Թ.	Լ.ՊԿ.	Թ.	Լ.ՊԿ.	Թ.	Լ.ՊԿ.
1	0.000000	26	1.414975	51	1.707570	76	1.880814
2	0.501050	27	1.451564	52	1.716005	77	1.886491
5	0.477121	28	1.447158	55	1.724276	78	1.892095
4	0.602060	29	1.462598	54	1.752594	79	1.897627
5	0.698970	50	1.477121	55	1.740565	80	1.905090
6	0.778151	51	1.491562	56	1.748188	81	1.908485
7	0.845098	52	1.505150	57	1.755873	82	1.915814
8	0.905090	55	1.518514	58	1.765428	85	1.919078
9	0.954245	54	1.551479	59	1.770852	84	1.924279
10	1.000000	55	1.544068	60	1.778151	85	1.929419
11	1.041595	56	1.556505	61	1.785550	86	1.954498
12	1.079181	57	1.568202	62	1.792592	87	1.959519
15	1.115945	58	1.579784	65	1.799541	88	1.944485
14	1.146128	59	1.591065	64	1.806180	89	1.949590
15	1.176091	40	1.602060	65	1.812915	90	1.954245
16	1.204120	41	1.612784	66	1.819544	91	1.959041
17	1.250449	42	1.625249	67	1.826075	92	1.965788
18	1.255275	45	1.655468	68	1.852509	95	1.968485
19	1.278754	44	1.645455	69	1.858849	94	1.975128
20	1.501050	45	1.655215	70	1.845098	95	1.977724
21	1.522219	46	1.662758	71	1.851258	96	1.982271
22	1.542425	47	1.672098	72	1.857555	97	1.986772
25	1.561728	48	1.681241	75	1.865525	98	1.991226
24	1.580211	49	1.690196	74	1.869252	99	1.995655
25	1.597940	50	1.698970	75	1.875064	100	2.000000

ՕՐԻՆԱԿԻ

1. 8 բարձրագույնից 9 ուղի լոկարիթմային օժանդակութեամբ: Արդէն տեսանք, Յօդ. 170, թէ լոկարիթմային գումարը հաւասար է անոնց արտադրելոյն լոկարիթմային: Վասնորոյ՝ գտիր 8ի լոկարիթման աղիւսակին մէջ, որ է 0.903090, եւ ապա 9ի լոկարիթման՝ որ է 0.954243. եւ անոնց

դոււմարը՝ որ է 1.857333, արտադրելոյն լոկարիթման է: Աղիւսակին մէջ փնտուելով կը գտնենք որ այս գտնուած լոկարիթմային դիմացը 72 է. ուստի՝ 72 8ի եւ 9ի արտադրեալն է:

206 2. Ի՞նչ է 7ի եւ 12ի արտադրեալը:

7ի լոկարիթման է,	0.845098
12ի լոկարիթման է,	1.079181
անոնց արտադրելոյն լոկարիթման, .	<u>1.924279</u>

եւ համեմատական թիւն է 84:

207 3. Ի՞նչ է 9ի եւ 11ի արտադրեալը:

9ի լոկարիթման է,	0.954243
11ի լոկարիթման է,	1.041393
անոնց արտադրելոյն լոկարիթման է, .	<u>1.995636</u>

եւ համեմատական թիւն է 99:

4. 84 բաժնէ 3ով: Արդէն տեսանք Յօդուած 171ի մէջ՝ թէ լոկարիթմայից համուձը կը համեմատաբանանց թիւերուն բաժանմանը: Ուստի՝ եթէ 84ի լոկարիթման գտնենք, եւ 3ի լոկարիթման անկէ հանենք, մնացածը քանորդին լոկարիթման է:

84ի լոկարիթման է,	1.924279
3ի լոկարիթման է,	0.477121
անոնց տարբերութիւնն է,	<u>1.447158</u>

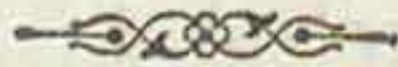
եւ համեմատական թիւն է 28:

208 5. Ի՞նչ է 6ի եւ 7ի արտադրեալը:

6ի լոկարիթման է,	0.778151
7ի լոկարիթման է,	0.845098
անոնց դոււմարն է,	<u>1.623249</u>

եւ աղիւսակին մէջ անոր դիմացի կամ համեմատական թիւն է 42:

ՅԱԻԵԼՈՒԱԾ



ԽԱՌՆ ԽՆԴԻՐՔ

ՅԱՂԱԳՍ

ՀԱՒԱՍԱՐՈՒԹԵԱՆՅ ԱՌԱՋԻՆ ԱՍՏԻՃԱՆԻ

209
1. Մարդ մը 30 դահեկանի խնձոր ու տանձ գնեց՝
չորս խնձորին մէկ դահեկան եւ հինգ տանձին մէկ
դահեկան տալով . ապա խնձորներուն կէսը ու տան-
ձերուն մէկ երրորդը առած գնովը ծախելով 13 դա-
հեկան առաւ : Իւրաքանչիւրէն քանիկան հատ գնած
էր :

Պ . Խնձոր՝ 72 , Տանձ՝ 60 :

210
2. Գերձակ մը երեք հաւասար կտոր ասուիի
ամէն մէկէն 19 կանգուն կտրեց , 17 կանգուն ալ
նոյն երկայնութեամբ ուրիշ ասուիէ մը , ու դտաւ որ
չորսէն մնացածը 142 կանգուն էր : Իւրաքանչիւր
կտոր քանի կանգուն կը պարունակէր :

Պ . 54 :

211
3. 2600 հետեւակ , թնդանօթածիղ , եւ ձիաւոր
զօրքեր բերդի մը պահպանութիւն կ'ընեն : Արդ՝
ձիաւոր զօրաց իննապատիկը հետեւակ է եւ եռապա-
տիկը՝ թնդանօթածիղ : Իւրաքանչիւր տեսակէն
նրչափ զօրք կայ :

Պ . Ձիաւոր՝ 200 , թնդանօթածիղ՝ 600 , եւ Հե-
տեւակ՝ 1800 :

212
4. Մարդ մը 2970 մղոն ճամբայ գնաց , Ձիով
գնացածին $3\frac{1}{2}$ անգամը ծովով գնաց , եւ ծովով գնա-
ցածին $2\frac{1}{4}$ անգամը հետի գնաց : Քանի մղոն գնաց
ամէն մէկ ճամբով :

Պ . Ձիով՝ 240 , Ծովով՝ 840 եւ Հետի՝ 1890 :

213 5. Չուժար մը ստակ բաժնուեցաւ Ա եւ Բ երկու անձանց: Ա ի բաժինը Բ ի բաժինն հետ կը համեմատէր իբրեւ 3 առ 3, եւ ամբողջ զուժարին հինգ իններորդէն 30 աւելի էր: Իւրաքանչիւրին բաժինն ինչ էր: Ա ինը՝ 450, Բ ինը՝ 270:

214 6. Երկու քսակներու ամէն մէկուն մէջ 32 կտոր ստակ կայ. քսակներուն մէկէն Ա ստակ կ'առնէր, միւսէն՝ Բ: Ա Բ ի թողուցածին կրկինն առաւ, եւ Բ Ա ի թողուցածին եօթն անգամն առաւ: Իւրաքանչիւր ուրքան առաւ: Պ. Ա՝ 48, Բ՝ 28:

215 7. Երկու հոգի Ա ու Բ միաբանեցան 1200 լիրա արժող տուն մը գնելու: Ա ըսաւ Բ ի, Եթէ քու ստակիդ երկու երրորդն ինձի տաս, ես մինակ կըրնամ գնել տունը. իսկ Բ ըսաւ Ա ի, Եթէ քու ստակիդ երեք չորրորդն ինձի տաս, ես մինակ կըրնամ գնել: Ամէն մէկը ուրքան ստակ ունէր:

Պ. Ա՝ 800, Բ՝ 600:

216 8. Հայր մը պատուիրեց որ 1170 լիրա բաժնուի իր երեք որդւոցը՝ անոնց տարիքին համեմատ: Առաջինին տարիքը երրորդին տարիքին կրկինն էր, եւ երկրորդին տարիքը երրորդին տարիքէն մէկ երրորդ աւելի էր: Իւրաքանչիւրոց բաժինը ուրքան եղաւ:

Պ. Ա՝ 340, Բ՝ 360, Գ՝ 270:

217 9. Երեք զօրագունդէ 394 մարդ պիտի առնուի, գունդերուն մեծութեանը համեմատ: Արդ՝ առաջին գունդին թիւն այնպէս կը համեմատի երկրորդին թուոյն, ինչպէս 3 առ 5. եւ երկրորդին թիւն այնպէս կը համեմատի երրորդին թուոյն, ինչպէս 8 առ 7: Ամէն մէկ գունդ քանի մարդ պիտի տայ:

Պ. Ա՝ 144, Բ՝ 240, Գ՝ 210:

218 10. Մարդ մը 7 գիրք գնեց որոնց գիներն էին թուաբանական յառաջատու թեամբ: Այս կարգին մէջ երկրորդ գիրքին գինն էր 8 դահեկան, եւ վեր-

Չին (ամենէն սուղ) գիրքին գինն էր 23 դահեկան :
Իւրաքանչիւր գրոյ գինն ինչ էր :

Պ . 5 . 8 . 11 . 14 . 17 . 20 . 23 :

11. Թուարանական համեմատութեամբ երեք
թուանշաններէ բաղկացեալ թիւ մը կայ : Եթէ այն
թիւը թուանշաններուն գումարովը բաժնուի, քանոր-
դը 26 կ'ըլլայ . բայց եթէ 198 գումարուի վրան, թուա-
նշանաց կարգը կը շրջի : Ե՞նչ է այն թիւը : Պ . 234 :

12. Մարդ մը երեք ձի եւ 220 թալէր արժող
թամբ մը ունի : Եթէ թամբն առաջին ձիոյն վրայ
դրուի, անոնց արժէքը հաւասար կ'ըլլայ երկրորդ
եւ երրորդ ձիուն արժէքին . եթէ երկրորդ ձիուն
վրայ դրուի, անոնց արժէքը հաւասար կ'ըլլայ առա-
ջին եւ երրորդ ձիուն արժէքին կրկինին . եթէ եր-
րորդ ձիուն վրայ դրուի, անոնց արժէքը հաւասար
կ'ըլլայ առաջին եւ երկրորդ ձիուն արժէքին եռա-
պատկին : Իւրաքանչիւր ձիոյն արժէքն ինչ է :

Պ . Ա ինը՝ 20, Բ ինը՝ 100, Գ ինը՝ 140 :

13. Նաւու մը մարդիկը կը բաղկանային նաւաս-
տիներէ եւ շատ մը զինուորներէ : Ամէն երեք թըն-
դանօթի 22 նաւաստի կար, եւ 10 ն ալ կ'աւելնար .
նաւեւ բոլորին թիւը զինուորներուն եւ թնդանօթ-
ներուն թուոյն հինգ անգամն էր : Բայց պատերազ-
մի մը մէջ բոլոր մարդոց հինգերորդը սպաննուած
ըլլալով, ամէն 2 թնդանօթի 13 մարդ իյնալու հա-
մար 5 կը պակսէր : Չափը նաւաստիներուն, զինուոր-
ներուն եւ թնդանօթներուն թիւը :

Պ . Նաւաստիներունը՝ 670, զինուորներունը՝ 55,
թնդանօթներունը՝ 90 :

14. Երեք անձինք 96 դահեկան ունին եւ կ'ու-
ղեն իրենց մէջ հաւասարապէս բաժնել : Ա որ
ամենէն շատ ունի՝ Բ ի եւ Գ ի անոնց արդէն
ունեցածին չափ կու տայ : Ա այս բաժանումն
ընելէն ետքը, Բ իր ունեցածը կը բաժնէ Ա ի

ու Գ ի հետ նոյն կերպով, այսինքն՝ անոնց ունեցածին չափ տալով. յետոյ Գ ալ նոյն կերպով Ա ի ու Բ ի հետ բաժնեց իր ունեցածը, եւ ահա բոլորին ունեցածը հաւասար էր: Ամէն մէկն առաջ սրչափ ունէր:

Պ. Ա՝ 52, Բ՝ 28, Գ՝ 16:

15. Բաժնէ $\frac{1}{2}$ թիւն անանկ երեք մասերու որ առաջինը երկրորդին հետ 3 ի առ 2 ունեցած համեմատութիւնը, եւ երկրորդը երրորդին հետ $\frac{1}{2}$ ի առ 3 ունեցած համեմատութիւնն ունենայ:

$$\text{Պ. } \frac{\frac{1}{2} \text{ } \frac{1}{2}}{\frac{1}{2} + \frac{1}{2} + 1} = \frac{\frac{1}{2} \text{ } \frac{1}{2}}{\frac{1}{2} + \frac{1}{2} + 1} \text{ եւ } \frac{\frac{1}{2} \text{ } \frac{1}{2}}{\frac{1}{2} + \frac{1}{2} + 1}$$

16. Հինգ ժառանգներ՝ Ա, Բ, Գ, Դ եւ Ե, 5600 լիրայի ժառանգութիւն մը պիտի բաժնեն իրենց մէջ: Բ պիտի առնէ Ա ի ինկածին կրկինէն 200 լիրա աւելի. Գ Ա ի եռապատկէն 400 լիրա պակաս. Դ Բ ի եւ Գ ի միատեղ ընդունածին կէսէն 450 աւելի. եւ Ե՝ միւս չորսին ընդունածին մէկ չորրորդէն 475 աւելի: Իւրաքանչիւրոց բաժինն ինչ կ'ըլլայ:

Պ. Ա ինը՝ 500, Բ ինը՝ 1200, Գ ինը՝ 1100, Դ ինը՝ 1300 եւ Ե ինը՝ 1500:

17. Մարդ մը չորս տակառ ունի, եթէ երկրորդն առաջինէն լեցուի, առաջնոյն մէջ չորս եօթներորդ կը մնայ. եթէ երրորդը երկրորդէն լեցուի, երկրորդին մէջ մէկ չորրորդ կը մնայ: Եթէ երրորդը չորրորդին մէջ պարպուի, չորրորդին 7 տասնութեցերորդը պարապ կը մնայ: Բայց առաջինը կը լեցընէ երրորդը եւ չորրորդը, եւ 15 օխա ալ կը մնայ: Իւրաքանչիւր տակառ քանի օխա կ'առնէ:

Պ. Ա՝ 140, Բ՝ 60, Գ՝ 45, Դ՝ 80:

18. Սուրհանդակ մը տեղէ մը ճամբայ կ'ելլէ. 10 օր անցնելէն ետքը ուրիշ մը անոր ետեւէն կ'ելլէ: Առաջինը օրը 4 մղոն կը ճամբորդէր, միւսը 9

մղոն : քանի օրէն երկրորդն առաջնոյն պիտի հասնի : $\eta . 8$ օրէն :

222

19. Եթէ առաջին սուրհանդակը միւսէն s օր առաջ ճամբայ ելած ըլլար եւ օրը m մղոն ճամբորդէր, եւ երկրորդը p մղոն ճամբորդէր, քանի օրէն երկրորդն առաջնոյն պիտի հասնէր :

$$\eta . \frac{ms}{p - m} ,$$

228

20. Սուրհանդակ մը հինգ ժամը $31\frac{1}{2}$ մղոն ճամբայ կ'երթար, եւ 8 ժամ երթալէն ետքը՝ ետեւէն ուրիշ մը ճամբայ ելաւ : Երկրորդը որ երեք ժամը $22\frac{1}{2}$ մղոն կը ճամբորդէր՝ քանի ժամէն հասաւ առաջնոյն :

$$\eta . 42 \text{ ժամէն :}$$

229

21. Երկու տեղերու հեռաւորութիւնը ութսուն մղոն է, եւ մարդ մը մէկ տեղէն կ'ելլէ ու միւս տեղը կը ճամբորդէ ժամը $3\frac{1}{2}$ մղոն : Ութը ժամ ետքը՝ միւս տեղէն ուրիշ մը կ'ելլէ եւ ժամը $5\frac{1}{6}$ մղոն կը ճամբորդէ : Ասոնք քանի ժամէն իրարու կը հանդիպին :

$$\eta . 6 \text{ ժամէն :}$$

236

22. Երեք որմնադիր՝ Ա, Բ եւ Գ, պատ մը պիտի շինեն : Ա ու Բ միատեղ 12 օրը կը կատարեն . Բ եւ Գ 20 օրը . Ա եւ Գ 15 օրը : Ամէն մէկը մինակ գործելով քանի օրը կը կատարէ, եւ եթէ մէկտեղ աշխատին, քանի օրը կը կատարեն գործը :

$$\eta . \text{Ա՝ } 20, \text{Բ՝ } 30, \text{Գ՝ } 60 \text{ օրը . եւ մէկտեղ } 10 \text{ օրը :}$$

231

23. Բանուոր մը m գործ մը p ժամանակի մէջ կը կատարէ . ուրիշ մը q գործ մը r ժամանակի մէջ . ուրիշ մը t գործ մը z ժամանակի մէջ : Եթէ երեք բանուորները մէկտեղ աշխատին, h գործ մը երբ պիտի կատարեն :

$$\eta . \frac{pqrz}{mqr + prz + pqt} :$$

232

24. Գտիր երեք թիւեր հետեւեալ պայմաններով : Եթէ առաջնոյն եւ երկրորդին վրայ 6 գումարուի,

գումարներն իրարու հետ այնպէս պիտի համեմատին ինչպէս 2 առ 3: Եւ եթէ առաջնոյն եւ երրորդին վրայ 3 գումարուի, գումարներուն համեմատութիւնը պիտի ըլլայ 7 առ 11. Իսկ եթէ երրորդէն ու երկրորդէն 36 հանուի, մնացորդները 6 առ 7 համեմատութիւնը պիտի ունենան: Ի՞նչ են այն թիւերը: Պ. 30, 48, 50:

25. Երկու տարբեր գումարներով 500 լիրայի գումար մը շահի տրուեցաւ՝ փոքրագոյն գումարին շահուն չափը միւսին շահուն չափէն հարիւրին երկու աւելի ըլլալով: Յետոյ մեծագոյն գումարին շահուն չափին վրայ 1 աւելցուեցաւ, եւ փոքրագոյն շահուն չափէն նոյնչափ պակասուեցաւ: Այսպէս բոլորին շահը մէկ չորրորդ աւելցաւ: Յայց եթէ փոքրագոյն գումարին շահուն չափէն առանց պակասեցրնելու մեծագոյն գումարին շահուն չափն այսպէս աւելցուած ըլլար, ամբողջին շահը մէկ երրորդ աւելցած պիտի ըլլար: Ի՞նչ են գումարներն ու շահուն չափը:

Պ. Գումարներն՝ 100 եւ 400. Չափը՝ $\frac{1}{4}$ եւ 2:

26. 15 լիտր կշռող հացի նկանակի մը բաղադրիչ մասունքն են՝ բրինձ, ալիւր եւ ջուր: Եթէ բրինձին վրայ 3 լիտր աւելցուի, ալիւրին ծանրութեանը երկու երրորդը կ'ըլլայ. եւ ջուրին ծանրութիւնը՝ ալիւրին եւ բրինձին ծանրութեանը մէկ հինգերորդն է: Ամէն մէկուն ծանրութիւնն ինչ է:

Պ. Բրինձինը՝ 2, Ալիւրինը՝ $10\frac{1}{2}$, եւ Ջուրինը՝ $2\frac{1}{2}$ լիտր:

27. Թնդանօթակիր զօրաց այլեւայլ խումբեր իրենց մէջ շատ մը ռումբեր բաժնեցին: Առաջինն առաւ 72 հատ եւ մնացածին $\frac{1}{3}$ ը. երկրորդն առաւ 144 հատ եւ մնացածին $\frac{1}{3}$ ը. երրորդն առաւ 216 հատ եւ մնացածին $\frac{1}{3}$ ը. չորրորդը՝ 288 հատ եւ մնացածին $\frac{1}{3}$ ը. այսպէս շարունակուեցաւ մինչեւ որ ալ բան չմնաց, եւ տեսնուեցաւ որ ռումբերը հաւասարապէս բաժնուած էին: Քափը խումբերուն եւ ռումբերուն թիւը:

Պ. Խումբերուն թիւը՝ 8, ռումբերունը՝ 4608:



ԽԱՌՆ ԽՆԴԻՐՔ

ՅԱՂԱԳՍ

ՀԱՒԱՍԱՐՈՒԹԵԱՆՅ ԵՐԿՐՈՐԴ ԱՍՏԻՃԱՆԻ

936

1. Գտիր անանկ թիւեր որոնց երրորդին եւ երկրորդին տարրերու թիւեր՝ երկրորդին եւ առաջնայն մէջտեղի տարրերու թիւէն 6 աւելի է, եւ այն թուոց գումարը 33, ու անոնց քառակուսեաց գումարը 467 է:

Պ. 3. 13. 17:

937

2. Գտիր երկրաչափական յառաջատու թեամբ անանկ երեք թիւեր որոնց գումարը 14, եւ անոնց քառակուսեաց գումարը 84 է:

Պ. 2. 4. 8:

938

3. Ի՞նչ են այն երկու թիւերը որոնց գումարը մեծագունով բազմապատկեալ՝ կու տայ 144, եւ որոնց տարրերու թիւեր փոքրագունով բազմապատկեալ՝ կու տայ 14:

Պ. 7 եւ 9:

939

4. Ի՞նչ են այն երկու թիւերը որոնց իրարու հետ ունեցած համեմատութիւնն է 5 առ 2, եւ որոնց քառակուսիներուն գումարն է ք:

$$\text{Պ. } 5 \sqrt{\frac{x}{5^2 + 2^2}} \text{ եւ } 2 \sqrt{\frac{x}{5^2 + 2^2}}$$

940

5. Ի՞նչ են այն երկու թիւերը՝ որոնց իրարու հետ ունեցած համեմատութիւնն է 5 առ 2, եւ որոնց քառակուսիներուն տարրերու թիւնն է ք:

$$\text{Պ. } 5 \sqrt{\frac{x}{5^2 - 2^2}} \text{ եւ } 2 \sqrt{\frac{x}{5^2 - 2^2}}$$

246 6. Այս ինչ չափ դրամագլուխ մը հարիւրին 4 չափով շահի դրուեցաւ : Եթէ դրամագլխուն լիրաներուն թիւը հինգ ամսուան շահուն լիրաներուն թուովը բազմապատկենք, կ'ունենանք $117,041 \frac{2}{3}$ լիրա : Ի՞նչ է դրամագլուխը : $\text{Պ} \cdot 2630$ լիրա :

3 47 7. Մարդ մը երեք տեսակ ապրանք ունի, որոնք մէկտեղ $230 \frac{5}{8}$ լիրա կ'արժեն : Իւրաքանչիւր ապրանքին լիարը՝ իր մէջը եղած լիարերուն թուոյն $\frac{1}{2}$ անգամը լիրա կ'արժէ : Սրդ՝ երկրորդ տեսակէն ունի առաջինէն մէկ երրորդ աւելի, եւ երրորդէն ունի առաջինէն $3 \frac{1}{2}$ անգամ աւելի : Իւրաքանչիւրէն քանի լիար ունի : $\text{Պ} \cdot 15 \cdot 20 \cdot 70 :$

248 8. Չափր անանկ երեք թիւեր որոց առաջնոյն եւ երկրորդին արտադրեալը հաւասար է m ի. առաջնոյն եւ երրորդին արտադրեալը հաւասար է p ի. երկրորդին եւ երրորդին քառակուսիներուն գումարը հաւասար է t ի :

$$\text{Պ} \cdot \sqrt{\frac{t}{m^2 + p^2}}, \quad m \sqrt{\frac{t}{m^2 + p^2}} \quad \text{եւ} \quad p \sqrt{\frac{t}{m^2 + p^2}} :$$

249 9. Չափր անանկ երեք թիւեր որոնց գումարը 38 է, անոնց քառակուսիներուն գումարը 634, եւ առաջնոյն ու երկրորդին մէջտեղի տարբերութիւնը՝ երրորդին ու երկրորդին մէջտեղի տարբերութենէն 7 աւելի է : $\text{Պ} \cdot 3 \cdot 15 \cdot 20 :$

245 10. Չափր երկրաչափական յառաջատու թեամբ երեք թիւեր որոնց գումարն է 32, եւ ծայրերուն գումարը միջինին այսպէս կը համեմատի, ինչպէս 10 առ 3 : $\text{Պ} \cdot 4 \cdot 12 \cdot 36 :$

246 11. Երկրաչափական յառաջատու թեամբ երեք թուոց գումարն է 13, եւ ծայրերուն գումարը՝ միջնով բազմապատկեալ՝ 30 է : Ի՞նչ են այն թիւերը : $\text{Պ} \cdot 1 \cdot 3 \cdot 9 :$

12. Չափը երեք թիւեր որոնց առաջնոյն եւ երկրորդին արտադրեալն անոնց քառակուսիներուն գումարին հետ գումարուելով 37 է . առաջնոյն եւ երրորդին արտադրեալն իրենց քառակուսիներուն հետ գումարուելով 49 է . եւ երկրորդին ու երրորդին արտադրեալն իրենց քառակուսիներուն հետ գումարուելով 61 է : Պ . 3 . 4 . 5 :

13. Չափը երկու թիւեր որոնց տարբերութիւնն անոնց քառակուսիներուն տարբերութեանը հետ գումարուելով հաւասար է 150 ի , եւ որոնց գումարը իրենց քառակուսիներուն գումարին վրայ աւելցուելով հաւասար է 330 ի : Պ . 9 եւ 15 :

14. Երեք թուանշաններէ բաղկացեալ թիւ մը զափը որուն թուանշանաց քառակուսիներուն գումարը 104 է . միջին թուանշանին քառակուսին միւս երկուքին արտադրելոյն կրկինէն 4 աւելի է . եւ եթէ այն թիւէն 594 հանուի , երեք թուանշանները կը շրջին : Պ . 862 :

15. Թուարանական յառաջատուութեամբ զափը երեք թիւեր՝ որոնց քառակուսիներուն գումարը հաւասար է 1232 ի , եւ միջնոյն քառակուսին երկու ծայրերուն արտադրեալէն 16 աւելի է : Պ . 16 . 20 եւ 24 :

16. Ի՞նչ են այն երկու թիւերը՝ որոնց գումարն է 80 , եւ եթէ փոխադարձաբար իրարմով բաժնուին , երկու քանորդաց գումարը $3\frac{1}{2}$ է : Պ . 20 եւ 60 :

17. Ի՞նչ են այն երկու թիւերը՝ որոնց տարբերութիւնն է 10 , եւ եթէ 600 անոնցմով բաժնուի , անոնց քանորդաց տարբերութիւնը 10 է : Պ . 20 եւ 30 :



7

10p

100 100 100 100 100

100 100 100 100 100



266 260 72, 75, 77

78, 79 80 81 82

x

Luzon

834

1485

50

200

2000

2000000

2000

2013

$$\frac{d \times d}{2} + \frac{100 \times 80}{2} = d$$

~~$$d \times d + 2 \times 1640 \times 960 =$$~~

$$d = 24$$

$$d + 10 \times 80 = 200$$

